

写真はベルギーの(①)にあるEU(ヨーロッパ連合)の本部です。東部の国々が加盟し、東西ヨーロッパが統合する動きから、EUの加盟国は現在27か国となっています。



ここが決め手

偏西風 西ヨーロッパ西部にふく西風。偏西風と暖流の北大西洋海流の影響で西ヨーロッパは高緯度のわりに温暖。

ユーロトンネル フランスとイギリスを結ぶ海底トンネル。鉄道が通る。

ブリュッセル ベルギーの首都で、EUの本部がある。



ベネルクス三国 ベルギー、オランダ、ルクセンブルク。ヨーロッパで最初に関税協定を締結。ECのもとになった。

ライン川 スイス、ドイツ、オランダを流れ北海に注ぐ国際河川。

アルプス山脈 世界的な観光地。4000 m級の山々が連なる。

◆ヨーロッパの農業地域



は(②)式農業の地域。

◆ヨーロッパの鉱工業



◆EU・アメリカ・日本の比較



1 ヨーロッパ

歴史 かつて植民地をもつ国が多かったが第二次世界大戦で国力が低下、植民地も独立。小さな国が協力し合うように。

産業

農業…混合農業、酪農、地中海式農業。フランスはEU最大の農業国。

鉱工業…18世紀にイギリスで産業革命。1960年に北海油田を発見。ドイツにはルール工業地域があり、EU最大の工業国。オランダのライン川河口にユーロポート。周囲に臨海工業地域が発達。偏西風によって東部で酸性雨の被害。

生活・文化 キリスト教(カトリック、プロテスタント、正教会など)を信仰する人が多く、教会を中心とする町なみが共通して見られる。

EU(ヨーロッパ連合) EEC→EC→EU。大国の経済力に対抗することが目的。27か国が加盟。本部はブリュッセル。政策…人・もの・資本の移動が自由。農産物価格が共通。共通通貨のユーロ(EURO)を加盟国の多くで利用。

課題…加盟国間の経済格差、外国人労働者排除問題など。

ロシア連邦 面積が世界最大の多民族国家。

歴史…世界初の社会主義国家ソ連の中心として誕生。

諸国で民主化が進む中、ゴルバチョフがベレストロイカを実行。ソ連は15の国に分かれ、1991年に解体。

産業…豊富な鉱産資源を用いた重化学工業が発達。南部の黒土地帯は小麦の大産地。広大なタイガは森林資源。

- ①混合農業 小麦などの穀物と飼料作物を栽培し、豚や乳牛などの家畜を飼育する農業。ヨーロッパで広く行われている。
- ②酪農 乳牛を飼育し、生乳、チーズ・バターなどの乳製品を生産する畜産業。
- ③地中海式農業 乾燥する夏に果樹を栽培し、雨の降る冬に小麦を栽培する農業。地中海性気候の地域で行われている。
- ④ルール工業地域 近くの炭田から産出する石炭とライン川の水運をもとに、ドイツのルール地方で発達した重化学工業地域。
- ⑤酸性雨 自動車の排出ガスや工場の排煙などにふくまれる汚染物質が雲に取りこまれて降った酸性の雨。強い酸性雨が降ると森林や湖沼の生物が枯死したり、建物などにも被害がおよぶ。
- ⑥焼畑農業 山林や原野を焼き払い、その灰を肥料として行う農業。ヤムイモやキャッサバなどを栽培し、土地がやせてくると移動する。

ここが決め手

- サハラ砂漠 世界最大の砂漠。
- ガーナ カカオ栽培がさかん。
- ナイジェリア 全輸出額の90%以上が石油。人口はアフリカ一。
- コンゴ民主共和国 赤道が通る。



- ナイル川 世界最長の河川。アスワンハイダムの建設により、流域の土壌に変化。
- サヘル サヘルは「緑」の意味。サハラ砂漠の南縁にあたる。砂漠化が進行。
- 南アフリカ共和国 全・ダイヤモンドを産出。アパルトヘイトを撤廃。

2 アフリカ

歴史 ナイル川流域で古代文明。中・南アフリカでは16世紀ごろまで黒人王国が繁栄していた。ヨーロッパ人の進出により、ヨーロッパ、アフリカ、アメリカの間で行われた三角貿易で多くの人々が奴隷としてアメリカ大陸へ。ヨーロッパ諸国がアフリカの多くを植民地化→第二次世界大戦後に独立。

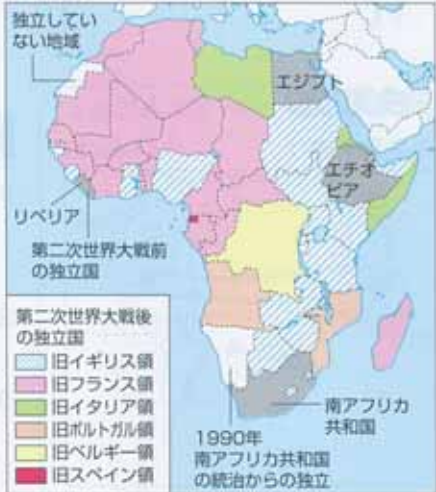
民族 現在の国境線は、植民地時代にヨーロッパ人が民族分布を無視して勝手に引いたもの→民族間の紛争が絶えない→多数の難民が発生。

南アフリカ共和国…少数の白人が大多数の黒人を差別するアパルトヘイト(人種隔離政策)は撤廃された。

産業 豊富に得られる鉱産物やプランテーション作物の輸出にたよるモノカルチャー経済から抜け出せない→富の配分がなされていない。農業…輸出用作物を栽培するプランテーションのほかは小規模な焼畑農業などが多く、自給的農業はふるわない。

砂漠化…サヘルで進行。「人口爆発」による人口増加→焼畑の加速、燃料用樹木の伐採、過放牧等→不毛の土地。

◆アフリカ諸国の独立



◆中部アフリカの農業



ナイジェリアの輸出品割合 (2009年)



カカオの生産割合 (2009年)



(2011/12年版「日本国勢調査」)



ここが決め手 ①～⑨にあてはまる名称を書け。 (2点×9)



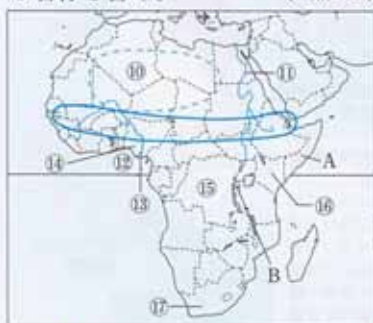
- | | | | |
|---|---|------|---|
| ① | [| 海 |] |
| ② | [| 川 |] |
| ③ | [| 山脈 |] |
| ④ | [| 海流 |] |
| ⑤ | [| 風 |] |
| ⑥ | [| 工業地域 |] |
| ⑦ | [| 海 |] |
| ⑧ | [| |] |
| ⑨ | [| |] |

1 ヨーロッパ

<4点×9>

- ヨーロッパで広く行われている、穀物と飼料作物を栽培し、家畜を飼育する農業を何というか。 []
- イギリスやオランダなどでさかんな、乳牛を飼育して生乳や乳製品を生産する畜産業を何というか。 []
- 左の地図中の、①の海底で産出する鉱産資源は何か。 []
- 左の地図中の、②の河口近くにあるEUの貿易港を何というか。 []
- 左の地図中の、⑨の国で信者が多いキリスト教の宗派を何というか。 []
- EUを日本語で何というか。 []
- EUの共通通貨を何というか。カタカナで書け。 []
- EUの前身となったヨーロッパ共同体の略称を、アルファベット2字で書け。 []
- ロシア連邦は、かつて何という国の一部であったか。 []

ここが決め手 ⑩～⑰にあてはまる名称を書け。 (2点×8)



- | | | | |
|---|---|----|---|
| ⑩ | [| 砂漠 |] |
| ⑪ | [| 川 |] |
| ⑫ | [| 湾 |] |
| ⑬ | [| 川 |] |
| ⑭ | [| |] |
| ⑮ | [| |] |
| ⑯ | [| |] |
| ⑰ | [| |] |

2 アフリカ

<5点×6>

- アフリカの大部分は、かつてヨーロッパ諸国によって産業や政治が支配されていた。このような土地を何というか。 []
- かつて中・南アフリカの人々が奴隷として連れて行かれたのはどの地域か。 []
- 左の地図中のAやBの国で起きた内戦などにより、それまでの居住地から離れたり逃れたりした人々を何というか。 []
- 左の地図中の⑰の国で行われていた、少数の白人が大多数の黒人を差別する政策を何というか。カタカナで答えよ。 []
- 左の地図中に○で示した地域を何というか。 []
- 右のグラフは、プランテーションで栽培されている熱帯作物の生産割合を示している。グラフが表しているのは、カカオとコーヒーのどちらか。 []





1 右の地図を見て、問いに答えなさい。

〈8点×5〉

- (1) 次の農業が行われている地域を、地図中のア～ウからそれぞれ選び、記号で答えよ。



- ① 雨の降る冬に小麦、乾燥

する夏に果樹を栽培する。 []

- ② 小麦などの穀物と飼料作物を栽培し、家畜を飼育する。 []

- (2) EUに加盟していない国を、地図中のa～dから選び、記号で答えよ。 []

- (3) ユーロトンネルの位置を、地図中のA～Dから選び、記号で答えよ。 []

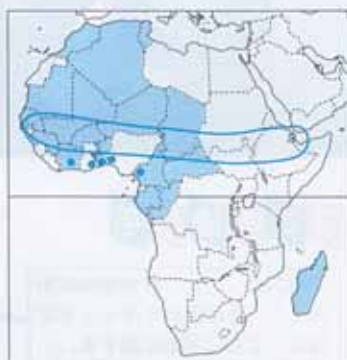
- (4) EUの政策としてあてはまらないものを、次から1つ選び、記号で答えよ。 []

ア 国境の通過が自由 イ 関税が統一
ウ 資格が共通 エ 他国への預金が自由

2 右の地図を見て、問いに答えなさい。

〈7点×4〉

- (1) ●は、ある輸出用農産物の産地を示している。この農産物を、次から選び、記号で答えよ。



[]

ア コーヒー イ カカオ ウ 小麦 エ てんさい

- (2) ○の地域で進行している地球環境問題は何か。 []

- (3) 熱帯林の広がる地域で行われている、森林を焼いた灰を肥料にして行う農業を何というか。 []

- (4) ●の地域をかつて植民地にしていた国を、次から選び、記号で答えよ。 []

ア イギリス イ フランス
ウ イタリア エ ベルギー

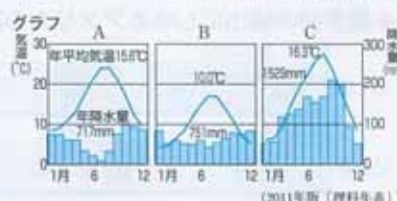


3 次の問いに答えなさい。

(富山・愛媛改) 〈8点×4〉

- (1) 東京、ロンドン、ローマを緯度の高い順にならべたときに適切なものを、次から選び、記号で答えよ。 []

ア 東京-ロンドン-ローマ
イ ロンドン-東京-ローマ
ウ ロンドン-ローマ-東京



- (2) 右のグラフは、東京、ロンドン、ローマの年間の気温と降水量を表したものである。次の問いに答えよ。

- ① ローマに該当するものを、A～Cから選び、記号で答えよ。 []

- ② **文章記述** ローマの夏の気候の特色を、ロンドンと比べて説明せよ。 []



- (3) 右の地図中のX国は、国土の大部分が、次のア～エのいずれかの気候帯に属する。あてはまるものを次から選び、記号で答えよ。 []

ア 熱帯 イ 温帯 ウ 冷帯 エ 乾燥帯

入試によく出る用語チェック



あてはまる語句・地名・人名を〔 〕に記入し、覚えたものは□にチェックしよう。

地理

- ①北半球と南半球とを分ける、緯度0度の緯線。〔 〕
- ②ロンドンを通る、経度0度の経線。〔 〕
- ③ヨーロッパとアジアにまたがる世界最大の大陸。〔 〕
- ④世界各地の標準時のずれ。〔 〕
- ⑤日付けのずれを調整するために、180度の経線にはほぼ沿ってひかれた線。〔 〕
- ⑥オーストラリア大陸と太平洋の島々を含む地域を表す州。〔 〕
- ⑦面積が世界最大の国。〔 〕
- ⑧イタリアのローマ市内にある、世界最小の国。〔 〕
- ⑨人口が約14億人である、世界で最も人口の多い国。〔 〕
- ⑩台湾との国境付近にある、日本の最西端の島。〔 〕
- ⑪ロシア連邦に占拠されている、国後島、択捉島、色丹島、歯舞群島の総称。〔 〕
- ⑫日本を8地方に分けた場合、大阪府や兵庫県が含まれる地方。〔 〕
- ⑬47都道府県のうち、最も面積が大きい都道府県。〔 〕
- ⑭実際の距離を地図上に縮めた割合。〔 〕
- ⑮同じ高さの地点を結んで地形図に示される線。〔 〕
- ⑯川が山地から平地に出るところに土砂を堆積させてできた扇形の地形。〔 〕
- ⑰大きな川の河口付近に土砂が堆積してできた三角状の地形。〔 〕
- ⑱東海道・山陽新幹線の終着駅がある、九州地方の政治・経済の中心都市。〔 〕
- ⑲北九州工業地帯の発展の基礎となった、明治時代に建設された製鉄所。〔 〕
- ⑳長崎県の海岸や三陸海岸に見られる、出入りの多い複雑な海岸地形。〔 〕
- ㉑大阪湾に建設された、24時間営業の国際空港。〔 〕
- ㉒滋賀県の中央部にある、日本最大の湖。〔 〕
- ㉓プランクトンの異常発生により、海水や湖水が赤褐色に見える現象。〔 〕
- ㉔自動車や毛織物、陶磁器生産が特色の、名古屋を中心に広がる工業地帯。〔 〕
- ㉕東京都から神奈川県にかけて発達している工業地帯。〔 〕
- ㉖大都市周辺で、都市向けに新鮮な野菜や花、牛乳などを生産する農業。〔 〕
- ㉗千葉県に位置する、日本の空の玄関口である空港。〔 〕
- ㉘岩手県の西側を南北に走る、東北地方の背骨といわれる山脈。〔 〕
- ㉙夏に東北地方の太平洋側に吹いて、冷害の原因となる北東風。〔 〕
- ㉚岩手県や北海道でさかんな、乳牛を飼育して牛乳や乳製品を生産する農業。〔 〕
- ㉛卵から育てた稚魚を海に放流し、成長させてから漁獲する漁業。〔 〕
- ㉜コンピュータなどに使う集積回路。〔 〕
- ㉝山形県が全国の生産量の約7割をしめている果実。〔 〕
- ㉞北海道の先住民族。〔 〕
- ㉟大規模な畑作のさかんな、北海道南東部に広がる平野。〔 〕
- ㊱中国の人口の約9割をしめている民族。〔 〕
- ㊲中国で、農家が国から生産を請け負い、取り決めた量だけを納める制度。〔 〕
- ㊳シェンチェンなど外国の資本や技術を導入するために設置された5地区。〔 〕
- ㊴1997年にイギリスから中国に返還された地域。〔 〕

1 <地理・公民>

次の文は、中学生が修学旅行先として訪れることの多い都道府県について調べたものである。問いに答えなさい。(茨城改・山口改)

中学生が修学旅行で訪れる旅行先ベスト3

第1位 京都府 第2位 東京都 第3位 奈良県

(1) 1～3位の都道府県の形を、次からそれぞれ選び、記号で答えよ。



(注)すべて図の上が北を示している。縮尺は同一ではない。東京都の離島は示していない。沖縄県は沖縄本島のみ示す。

(2) 第1位の京都府について、次の問いに答えなさい。

- ① 文化財の多い京都市は、歴史的な景観を保護するために広告や看板の色を制限するなど、独自のきまりを定めている。このように地方公共団体が、法律の範囲内で自治のために制定するきまりを何というか。
- ② 地方公共団体の中には、住民の苦情を処理したり、行政が適正に行われているかなどを監視する制度を設けているところがある。この制度を何というか。

(3) 第2位の東京都について、次の問いに答えなさい。

- ① 東京都には最高裁判所などがある。次の図はある裁判の流れをまとめたものである。この裁判は、民事裁判か刑事裁判のどちらか。

図



- ② 裁判は公正中立でなければならず、裁判官は国会や内閣の影響を受けることなく、自分の良心に従い、憲法と法律にのみ拘束されることになっている。この原則を何というか。

(4) 第3位の奈良県について、次の問いに答えなさい。

- ① 奈良市についての次の文の、A・Bにあてはまる府県を、右の表を参考にして書け。

奈良市は、市内にある多くの寺社が世界遺産に指定されるなど、古都としての顔をもつ一方で、やのベッドタウンとしても発展している。

- ② ①の文の下線部について、近畿地方以外にある世界遺産を、次から1つ選び、記号で答えよ。

- ア 姫路城 イ 法隆寺
ウ 厳島神社 エ 金閣

1 <5点×10>

(1)	1位		
	2位		
	3位		
(2)	①		
	②		
(3)	①		
	②		
(4)	①	A	
		B	
	②		

(4)①順不同可。

表 近畿地方の府県の昼間人口と夜間人口 (2005年)

府県	昼間人口 (万人)	夜間人口 (万人)	昼夜間人口比率 (%)
三重	182.4	186.5	97.8
滋賀	132.7	137.9	96.2
京都	265.1	263.1	100.8
大阪	924.1	875.9	105.5
兵庫	529.9	557.0	95.1
奈良	125.9	141.9	88.7
和歌山	101.2	103.5	97.8

注) 昼夜間人口比率とは、夜間人口に対する昼間人口の割合のことである。

(2011年版「県勢」)

2 <地理・歴史・公民>

次の「情報の発達と私たちの暮らし」についての会話文を読み、問いに答えなさい。(群馬改)

先生：皆さんは日ごろ、知りたい情報をどうやって手に入れていますか。
秋雄：私はテレビが多いです。テレビは情報が早く伝わるだけでなく、わかりやすいと思います。(a)今日は午前3時に起き、サッカーの中継を見ました。

春子：私は「あ」を読みます。知らない用語もありますが、じっくり読むことで、多くの情報が整理できるから勉強になります。

秋雄：「あ」は、昔はかわら版として親しまれていたようですが、ほとんどの庶民がまだ文字を読めなかった時代は、どうやって情報を伝達していたのですか。

先生：読み書きができるようになるまでは、話し言葉が伝達の手段でした。例えば、「い」時代に成立した「平家物語」は、琵琶法師たちによって語り伝えられていました。(b)庶民がかわら版から情報を手に入れられるようになるのは、江戸時代中期以降です。

春子：最近では、インターネットが普及して情報源の1つになっています。情報の入手だけでなく情報の発信もできるので、とても便利です。

先生：情報に関しては、技術の発達とともに(c)法制度の整備も進められています。今後は、使う人の意識を高めることが重要です。特に、(d)個人情報を慎重に管理する必要があります。

(1) 下線部(a)に関して、次の①、②の問いに答えなさい。

- ① 右の地図中の ----- を何というか。
- ② 東京が2月24日の午前3時であるときのバンクーバーの日時を次から選び、記号で答えよ。
ア 23日の午前10時
イ 23日の午後8時
ウ 24日の午前10時
エ 24日の午後8時



- (2) 「あ」、「い」にあてはまる語をそれぞれ書け。
- (3) 下線部(b)に関して、その理由として考えられることを、右の資料を参考にして、簡潔に書け。

(4) 下線部(c)に関して、情報公開制度の対象となる情報を、次から選び、記号で答えよ。

- ア 病院などの医療機関が保有する情報
- イ 株式会社などの民間企業が保有する情報
- ウ 地方公共団体などの行政機関が保有する情報
- エ 新聞社やテレビ局などの報道機関が保有する情報

(5) 下線部(d)に関して、その理由を「権利」という語を用いて、簡潔に書け。



2 <<(3)(5)10点×2,他6点×5>

①	
(1)	
②	
あ	
(2)	
い	
(3)	
(4)	
(5)	