

第3回

社会 (その1)
志願校
高校
受検番号
氏名
出身中学校
中

1 優子さんは、わが国の古代から近代にかけての各時代の、経済、文化、外交に関するできごとを表にまとめた。下の表は、その一部である。表をみて、各問の答を、答の欄に記入せよ。

〈表〉

時代	古代	中世	近世	近代
経済	A	B	C	D
文化	○ 仏教文化の広がり ○ ア文化の国風化	○ 新しい仏教文化の広がり ○ イ武家文化と公家文化の融合	○ 国学などの学問の広がり ○ ウ町人文化の繁栄	○ 西洋文化の広がり ○ エ文化の近代化
外交	あ	い	う	え

- 問1 古代に活躍した人物を、次の1～4から一つ選び、番号で答えよ。
 1 与謝野晶子 2 北条泰時 3 中臣鎌足 4 田沼意次
- 問2 表のA～Dには、各時代の経済に関するできごとがあてはまる。Cにあてはまるものを、次の1～4から一つ選び、番号で答えよ。
 1 座が営業を独占する権利を得る。 2 官営模範工場が建てられる。
 3 農村で工場制手工業が始まる。 4 和同開珎が流通する。

問3 下の□中のできごとは、表の下線部ア～エのどのできごとと最も関係があるか、一つ選び、記号で答えよ。

床の間や違い棚をもつ書院造が発達し、茶の湯や生け花が広まった。

問4 表のあ～えには、各時代の外交上のできごとがあてはまる。下の□中のできごとは、あ～えのどれにあてはまるか、一つ選び、記号で答えよ。また、人々が講和に反対した理由を書け。

ポーツマス条約が結ばれたが、日本各地で講和反対の集会が開かれた。

問5 優子さんは、表に示す時代に外国で起こったできごとを、それぞれ下のカードP～Rにまとめた。P～Rのうち、日本の①古代、②中世にあてはまるカードを、一つずつ選び、記号で答えよ。

- P チングス・ハンがモンゴル民族を統一する。
 Q イギリスで清教徒革命が起こる。
 R アラビア半島でムハンマドがイスラム教を開く。

1 答	問1	問2	問3	問4	記号
	1		5	①	②

2 近代以降の各時代の歴史に関する表をみて、各問の答を、答の欄に記入せよ。

- 問1 次の①、②のわが国のできごとに最も関係があるものを、表のA～オから一つずつ選び、記号で答えよ。
 ① 国民総生産(GNP)が世界第2位になった。
 ② 政府は地券を発行し、国民に土地の所有権を認めた。

- 問2 表のXの期間におこった、わが国に関するできごとを、次の1～4から一つ選び、番号で答えよ。
 1 国際連盟を脱退する。 2 学制が公布される。
 3 韓国併合が行われる。 4 女性に参政権が認められる。

問3 資料は、表の②の条規の一部である。この条規が、幕末に日本が欧米諸国と結んだ条約と異なる点を、「立場」の語句を使って書け。

2 答	問1	問2	問3
	①		
	②		

時代	おもなできごと
明治	A 新政府による政策が進められる。 ② 日清修好条規が結ばれる。 日露戦争がおこる。 ↑
大正	イ 原敬内閣が成立する。 X
昭和	③ 満州事変がおこる。 ↓ ④ 日中戦争がおこる。 ウ 連合国軍が日本を占領する。 ⑤ 東西の対立が始まる。 エ 高度経済成長が始まる。
平成	オ バブル経済が終わる。

〈資料〉

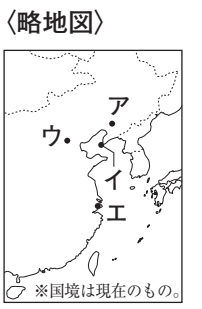
第八条 財産や土地などの訴訟に関する裁判を行い、互いに自国の法律に照らし合わせて裁くこと。
(一部要約)

問4 表の⑥、⑦のきっかけとなった事件が発生した場所を、略地図のア～エから一つずつ選び、記号で答えよ。

問5 表の⑧について、①この対立のことを何というか、②また、①に最も関係の深いできごとを、次の1～4から一つ選び、番号で答えよ。

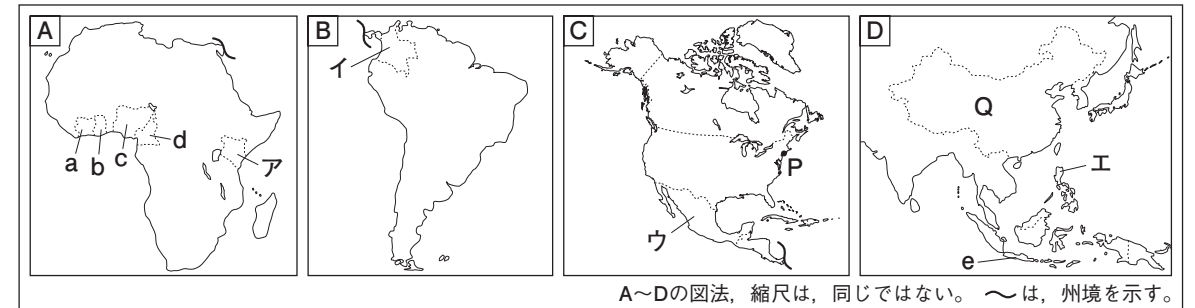
- 1 第四次中東戦争 2 アメリカ同時多発テロ
 3 アジア・アフリカ会議 4 ベトナム戦争

問4	⑥	⑦	問5	①	②
----	---	---	----	---	---



3 一郎さんは、世界の州や国の特色などを調べるために、略地図を作成した。略地図A～Cは、世界を六つの州に区分した場合の三つの州を示し、Dはアジア州の一部を示している。略地図をみて、各問の答を、答の欄に記入せよ。

〈略地図〉



問1 略地図のア～エの国のうち、赤道が通っている国をすべて選び、記号で答えよ。

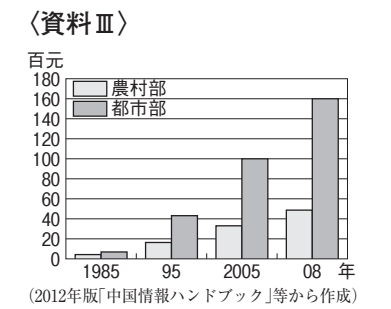
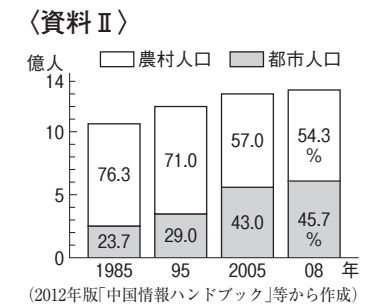
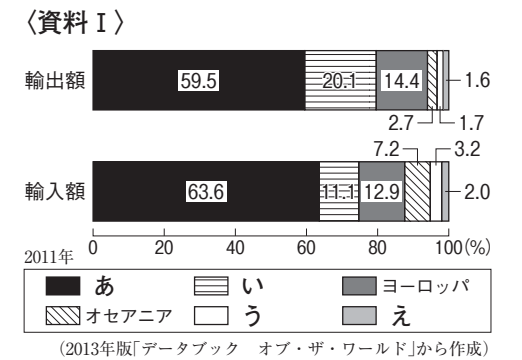
問2 一郎さんの父親は、略地図のPの都市に単身赴任している。東京にいる一郎さんが、2月10日午後9時にお父さんに国際電話をかけた場合の、Pの都市の日付と時刻を、午前・午後を明らかにして書け。なお、Pの都市の標準時子午線は、西経75度である。

問3 略地図のa～eの国は、ある統計の、世界における上位5か国(2011年)を示している。その統計を、次の1～4から一つ選び、番号で答えよ。

- 1 とうもろこしの生産量 2 茶の生産量
 3 カカオ豆の生産量 4 コーヒー豆の生産量

問4 資料Iは、日本の州別貿易の割合を示している。Cが示す州は、あ～えのどれか、一つ選び、記号で答えよ。

問5 資料IIは、略地図のQの国の農村部と都市部の人口比率の推移を示し、資料IIIは、Qの国の農村部と都市部の一人あたりの所得の推移を示している。Qの国の農村部と都市部の人口比率は、どのように推移しているか、書け。また、そのように推移している理由を、資料IIIを参考にして書け。



3 答	問1	問2	日	時	問3	問4

問5	人口	理由