

# 1 九州地方



ピーマン	茨城 22.5%	宮崎 18.0	鹿児島 9.0	高知 8.8	岩手 5.9	その他 35.8	
さつまいも	鹿児島 29.5%	茨城 27.3	千葉 12.5	宮崎 11.0	徳島 3.8	その他 15.9	
みかん	和歌山 19.7%	愛媛 17.1	静岡 13.3	熊本 12.0	長崎 6.9	佐賀 6.3	その他 24.7
さとうきび	沖縄 59.8%	鹿児島 40.2					

(さつまいもは2022年, 他2021年) (農林水産省)

### ▲おもな農産物の生産割合

1960年 6462億円	金属 42.3%	機械 8.4	化学 15.0	繊維 1.8	食料品 13.5	その他 19.0
2020年 8兆9950億円	16.4%	44.1	6.7	0.6	17.0	15.2

(2023/24年版「日本国勢図会」他)

### ▲北九州工業地域(地帯)の工業出荷額割合の変化

	肉用牛(万頭)	豚(万頭)	肉用若鶏(万羽)
北海道	55.3	鹿児島 119.9	鹿児島 2809
鹿児島	33.8	宮崎 76.4	宮崎 2760
宮崎	25.5	北海道 72.8	岩手 2110
熊本	13.4	群馬 60.5	青森 806
岩手	8.9	千葉 58.3	北海道 518
長崎	8.8	岩手 49.2	徳島 425
栃木	8.4	茨城 42.1	熊本 385
全国	261.4	全国 894.9	全国 13923

### ▲家畜の飼育数(2022年)

(農林水産省)

## 1 自然環境

(1) 地形…阿蘇山、雲仙岳、桜島(御岳)など火山が多く、火山灰が降る。雲仙岳では過去に火砕流が発生。阿蘇山に世界最大級のカルデラ。九州南部には、火山灰などが厚く積もったシラス台地が広がる。火山が多いため温泉が多く、地熱発電がさかん。有明海に干潟が広がる。

(2) 気候…暖流の黒潮(日本海流)や対馬海流の影響で温暖。沖縄は亜熱帯の気候。梅雨時の集中豪雨や、台風の被害を受けやすい。

## 2 産業

### (1) 農業

- ① 筑紫平野…機械化が進み、九州最大の稲作地帯。二毛作もさかん。有明海沿岸の干拓地にはクリークという用・排水路が見られる。
- ② 宮崎平野…温暖な気候で、ビニールハウスを使った野菜(ピーマンやきゅうりなど)の促成栽培がさかん。
- ③ 八代平野…八代平野では、米の裏作にたたみ表の原料となるい草を栽培。
- ④ みかんの生産…熊本・長崎・佐賀県の山の斜面や丘陵地では、みかん栽培がさかん。
- ⑤ シラス台地…さつまいもや茶などの畑作と肉牛・豚・にわたりの大規模な畜産がさかん。

(2) 工業

- ① 北九州工業地域(地帯)…1900年代に現在の北九州市に八幡製鉄所<sup>や ぱん</sup>がつくられてから、鉄鋼業を中心に発展し、近くの筑豊炭田<sup>ちくほう</sup>も栄えた。しかし、1960年代のエネルギー革命<sup>ていめい</sup>で、石炭から石油(原油)<sup>てんかん</sup>への転換が進んだことなどから、製鉄所や炭鉱も低迷し、全国的地位が低下した。近年は、自動車やI C(集積回路)<sup>アイシー</sup>などの機械工業が進出している。
- ② I C工場…製品を輸送しやすい空港周辺や高速道路沿線に多く立地している。アメリカ合衆国のシリコンバレーにちなんで、九州はシリコンアイランドとよばれる。
- ③ 伝統工業…陶磁器<sup>とうじき</sup>の伊万里・有田焼(佐賀県)など、伝統的工芸品の生産がさかん。



③ 環境問題・環境保全

- (1) 諫早湾の干拓…干拓工事で、堤防の水門が閉じられた有明海の諫早湾では、環境や漁業への影響が大きく、開門を求める声もある。
- (2) 水俣病…四大公害病の1つ。化学工場の廃水中の有機水銀<sup>はいすい</sup>で八代海<sup>おせん</sup>が汚染され、水俣市周辺で発生し、死者も出た。現在は安全な海になり、水俣市は国の環境モデル都市に選定。
- (3) エコタウン…北九州市など。廃棄物のリサイクルなどで、「持続可能な社会」の実現に取り組む。
- (4) バイオマス…動植物などから生まれた生物資源。大分県日田市では発電などに利用。
- (5) 屋久島…樹齢3000年以上の縄文<sup>じょうもん</sup>すぎなどがあり、世界自然遺産に登録されている。



④ 人口、都市・村落

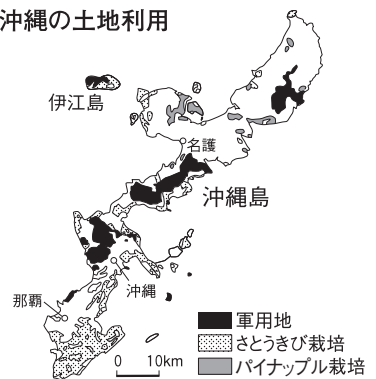
- (1) 福岡市…企業の本社や政府の出先機関が集まる、九州地方の地方中枢都市。
- (2) 離島…長崎・鹿児島・沖縄県に多い離島では過疎化<sup>かそ</sup>が進み、交通手段の確保などが重要な課題。近年は、医療<sup>いりょう</sup>の分野でインターネットによる遠隔診断<sup>えんかくしんだん</sup>を行うなどの試みも見られる。



⑤ 生活・文化

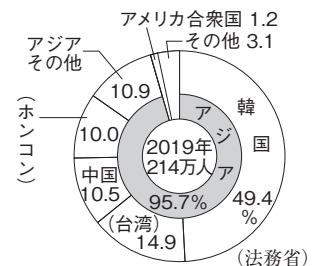
- (1) 沖縄の文化…琉球王国の時代からの言語、文化が見られる。現在も三線(楽器)<sup>さんしん</sup>・エイサー(踊り)<sup>おど</sup>などの芸能、石垣やしっくい<sup>いしがき</sup>の屋根の住居、陶芸、織物などに受け継がれる。
- (2) 沖縄の暮らし…さとうきび・パイナップル栽培に加え、近年は花や野菜の園芸農業がさかん。沖縄島の面積の約15%がアメリカ軍の基地で、基地の返還を求める声が高い。第三次産業従事者の割合が高く、文化やさんご礁<sup>さんご</sup>の海などの自然を資源とした観光産業が特にさかん。

沖縄の土地利用



⑥ 他地域との結びつき

- (1) 大陸との交流…福岡県太宰府市には古代、大宰府<sup>だざいふ</sup>が置かれ、中国・朝鮮半島との外交の拠点となった。現在、福岡空港からは、アジア各地への直行便も多く、アジア各地とのつながりが深い。
- (2) 交通…九州は関門・新関門トンネルと関門橋により本州と結ばれ、東海道・山陽新幹線が博多駅(福岡市)まで延びる。九州新幹線の鹿児島ルートは2011年に全線開通。西九州ルートの内、武雄温泉・長崎間が2022年に開業した。



▲福岡空港の国・地域別入国者割合

○ 基本演習 ○

☑の  
正答数

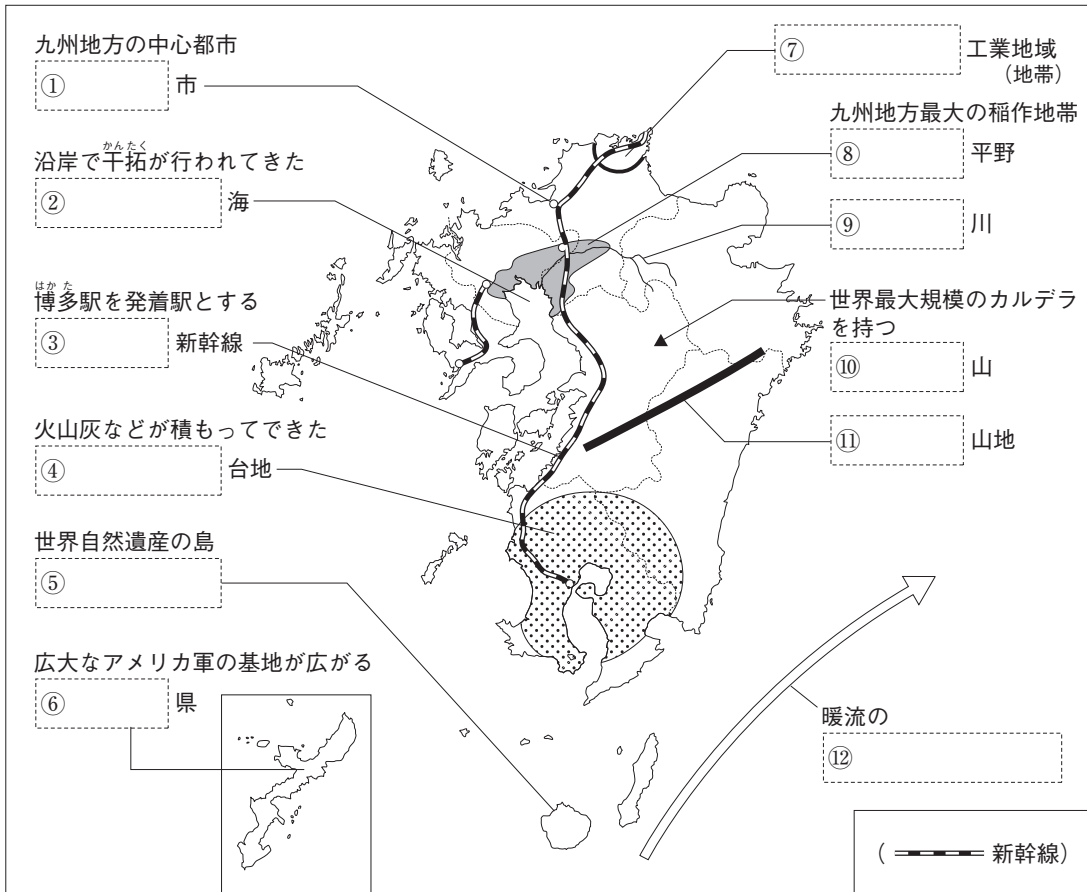
1回目

2回目

問/23問

問/23問

1 [九州地方] 次の地図の[ ]にあてはまる語句を答えなさい。



2 [九州地方の農業] 次の問いに答えなさい。

- ☑(1) 九州最大の米の産地となっている平野はどこか。
- ☑(2) (1)の平野に網の目のように張りめぐらされた用・排水路を何というか。
- ☑(3) 冬でも温暖な宮崎平野で行われている、ビニールハウスを使い、時期を早めてピーマンやきゅうりをつくる栽培方法を何というか。
- ☑(4) 八代平野で、米の裏作でつくられる、たたみ表の原料となる作物は何か。
- ☑(5) 熊本・長崎・佐賀県の山の斜面や丘陵地で栽培がさかんな果物は何か。
- ☑(6) 九州南部のシラス台地で、栽培がさかないも類は何か。
- ☑(7) シラス台地で大規模に飼育されている家畜には、豚・にわたりのほかに何があるか。

2の答え

- (1) -----
- (2) -----
- (3) -----
- (4) -----
- (5) -----
- (6) -----
- (7) -----

**3** [工業] 次の文中の□□□□にあてはまる語句を答えなさい。

- ☑(1) 1900年代、現在の北九州市に官営の□□□□製鉄所がつくられた。
- ☑(2) (1)の製鉄所を基礎に、鉄鋼業を中心とする□□□□工業地域(地帯)が発達した。
- ☑(3) 1960年代の□□□□革命で、石炭から石油(原油)への転換が進み、筑豊炭田などが衰退した。
- ☑(4) 各地にI C(集積回路)工場が立地している九州は、アメリカ合衆国のシリコンバレーにちなんで、□□□□とよばれる。

**4** [環境, 人口, 都市・村落] 次の問いに答えなさい。

- ☑(1) 北九州市には、ペットボトルやパソコン、自動車などをリサイクルする工場を集めた地域がある。この地域を何というか。
- ☑(2) 化学工場の廃水中の有機水銀が原因で、八代海沿岸の住民の間で発生した公害病を何というか。
- ☑(3) 樹齢3000年以上ともいわれる縄文すぎがあり、世界自然遺産に登録されている鹿児島県の島はどこか。
- ☑(4) 大企業の本社や政府の出先機関が集まり、九州地方の政治・経済の中心となっている都市はどこか。

**5** [生活・文化] 次の文中の□□□□にあてはまる語句を答えなさい。

- ☑(1) 沖縄県には、□□□□の時代からの言語や、三線・エイサーといった芸能など、独特の文化が残っている。
- ☑(2) 沖縄県は、亜熱帯の気候を生かして□□□□やパイナップルの栽培がさかんであるが、近年は花や野菜の栽培もさかんになっている。
- ☑(3) 沖縄の広い範囲を□□□□軍の基地が占めており、土地の返還を求める運動が続いている。
- ☑(4) 沖縄県は第三次産業従事者の割合が高く、独特の文化や自然をもとにした□□□□産業が特にさかんである。

**6** [他地域との結びつき] 次の問いに答えなさい。

- ☑(1) 現在の福岡県太宰府市に置かれた、大陸との交流の拠点となった古代の役所を何というか。
- ☑(2) 九州と本州を結んでいる橋を何というか。
- ☑(3) 福岡県の博多駅から広島県、大阪府、愛知県などを通り、東京駅までを結ぶ新幹線を何というか。
- ☑(4) 福岡県の博多駅と鹿児島県の鹿児島中央駅を結んでいる新幹線を何というか。

### 3の答え

- (1) -----
- (2) -----
- (3) -----
- (4) -----

### 4の答え

- (1) -----
- (2) -----
- (3) -----
- (4) ----- 市

### 5の答え

- (1) -----
- (2) -----
- (3) -----
- (4) -----

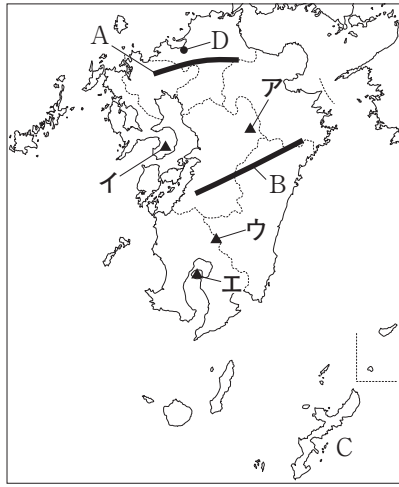
### 6の答え

- (1) -----
- (2) -----
- (3) -----
- (4) -----



# 練習問題

1 右の地図を見て、次の問いに答えなさい。

- 地図中のA・Bの山地名をそれぞれ答えなさい。
- 1991年に大規模な火砕流が発生したことで知られる雲仙岳を、地図中のア～エから選び、記号で答えなさい。
- 下の図は、地図中のCの伝統的な民家の様子である。家の周りに石垣をめぐらし、瓦をしっくいで固めているのは、どのような災害から家を守るためか。



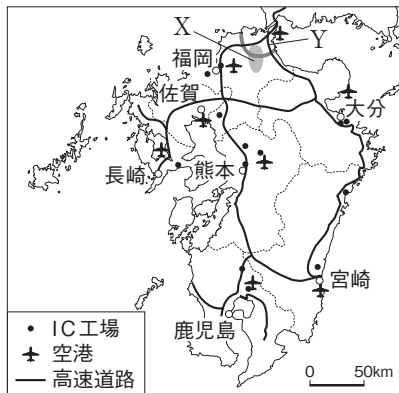
- 地図中のDの都市にある駅が発着点になっている新幹線を2つ答えなさい。



- 右のグラフは、地図中のDの都市にある空港での国籍または地域別入国者数割合を示している。この空港では、世界のどの州からの入国者が多いといえるか。州名を答えなさい。

2 右の地図を見て、次の問いに答えなさい。

- IC工場の多い九州は、アメリカ合衆国のIC産業の中心地にちなんで何とよばれているか。
- IC工場はどのような場所に立地しているか。交通の便の面から簡単に答えなさい。
- 地図中のXにはかつて日本最大の産出量をあげた炭田があった。1960年代以降、この炭田が



- おとろえた理由を次から選び、記号で答えなさい。
- |          |              |
|----------|--------------|
| ア 産業の空洞化 | イ エネルギー革命の進行 |
| ウ 関門橋の開通 | エ 第二次世界大戦の終結 |

1の答え

- A \_\_\_\_\_  
B \_\_\_\_\_
- \_\_\_\_\_
- \_\_\_\_\_
- \_\_\_\_\_
- \_\_\_\_\_

2の答え

- \_\_\_\_\_
- \_\_\_\_\_
- \_\_\_\_\_

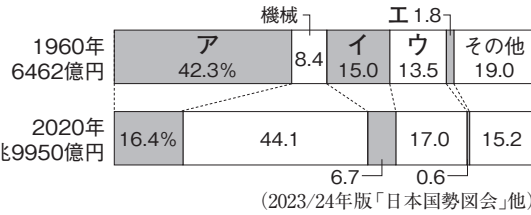


(4) 地図中のYの工業地域(地帯)名を答えなさい。

(5) 地図中のYの工

業地域(地帯)は、  
明治時代の官営工  
場がもとになって  
いる。この官営工

場と関係の深い工業を、右のYの工業地域(地帯)の、工業出荷額割合を示したグラフ中のア～エから選びなさい。



(4) -----

(5) -----

**3** 右の地図を見て、次の問いに答えなさい。

(1) 機械化が進んだ稲作が行われている、地図中の▨の平野名を答えなさい。


(2) 地図中の▨の平野では、温暖な気候と温室やビニールハウスを利用して、他地域よりも早い時期に野菜を栽培している。この栽培方法を何というか。

(3) 地図中の▨に広く積もっている、火山灰の土壌を何というか。

(4) 地図中のA～Dの県で、全国の約4分の1を生産している果物を次から選び、記号で答えなさい。

ア みかん      イ りんご      ウ 日本なし      エ ぶどう

(5) 右のグラフは、ピーマン・さとうきびの県別の生産量割合、豚の飼育頭数割合を示している。グラフ中の①～③にあてはまる県を地図中のA～Hからそれぞれ選び、記号で答えなさい。



(6) 次の①～③にあてはまる県を地図中のA～Hから選びなさい。

- ① 離島が多く、県の面積の約45%を占めている。有明海に面している諫早湾の干拓により、周りの自然環境が大きく変化している。
- ② 独特の文化や亜熱帯の自然をもとにした観光産業がさかんで、琉球王国時代の史跡が世界文化遺産に登録されている。
- ③ 米の裏作としてい草の栽培がさかんである。かつて、化学工場の有害な廃水により海が汚染され、水俣病が発生した。

**3の答え**

(1) -----

(2) -----

(3) -----

(4) -----

(5) ① -----

② -----

③ -----

(6) ① -----

② -----

③ -----