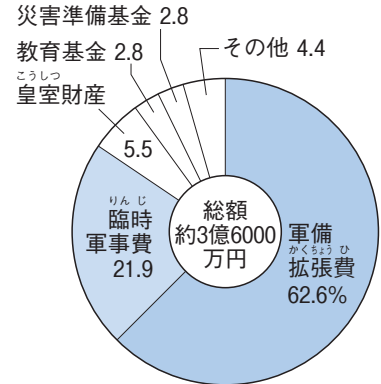
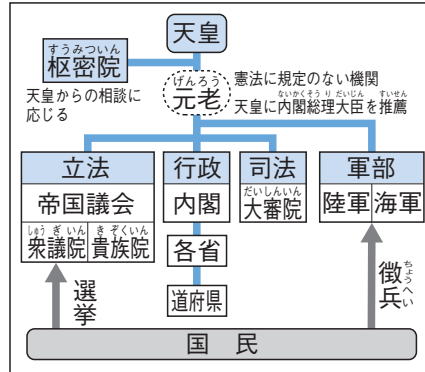




- 第1条 大日本帝国は万世一系の天皇これを統治す
- 第3条 天皇は神聖にして侵すべからず
- 第11条 天皇は陸海軍を統帥す
- 第29条 日本臣民は法律の範囲内において言論著作印行集会および結社の自由を有す



▲A 大日本帝国憲法 (一部)

▲B 大日本帝国憲法のもとでのしくみ

▲C 日清戦争の賠償金の使いみち

1 国会開設へ向けて・自由民権運動 / 大日本帝国憲法の制定と帝国議会 (図表のワーク ①~⑭) 教科書 P.190~193

- 自由民権運動の始まり…1874年、板垣退助らが民撰議院設立の建白書を提出して国会の開設を要求→欧米の市民革命の流れをくむ自由民権運動が始まった。板垣らは立志社を結成して運動を進めた。
- 自由民権運動の発展…1880年、全国の代表が大阪に集まって国会期成同盟を結成し、国会開設の請願書を提出。民間でも植木枝盛らの多くの憲法草案が作成された。このような中、政府が北海道の開拓使の施設や財産を大商人に安く払い下げようとしたことが明らかになり、自由民権運動が激化した。→政府は世論の動きにかかわったとして大隈重信らを追放する一方で国会開設の勅諭を出し、10年後に国会を開くことを天皇の名で約束した。
- 内閣制度…1885年、伊藤博文らが内閣制度を創設。初代の内閣総理大臣には伊藤が就任した。
- 政党結成と農民運動…1881年、板垣退助が自由党を、翌年に大隈重信が立憲改進黨を結成→政府は政治集会や新聞の言論活動を制限。福島事件や、秩父事件などの後、自由民権運動はおとろえていった。
- 大日本帝国憲法…1889年、伊藤博文らがつくった憲法案が枢密院での審議を経て、大日本帝国憲法として発布。天皇に主権。翌年、教育の指針を示した教育勅語が発表された。
- 帝国議会…華族や学識者、多額納税者の中から任命された議員からなる貴族院と、選挙で選ばれた議員からなる衆議院の二院制。有権者は年に直接国税を15円以上を納める満25歳以上の男子のみだった(国民の約1.1%)。
- 1890年の第1回衆議院議員総選挙では自由民権派の政党議員が多く議席を獲得→近代国家の第一歩をふみ出した。1898年には、短期間ではあったが、大隈重信、板垣退助らによる初の政党内閣が生まれた。

2 不平等条約の改正への努力 (図表のワーク ⑮~⑳) 教科書 P.194・195

- ◇ 条約改正への努力…政府は鹿鳴館で舞踏会を開くなど欧化政策をとったが失敗。1886年、ノルマントン号事件がおり、領事裁判権(治外法権)の廃止を求める世論が高まった。
- 1894年、外務大臣の陸奥宗光がイギリスと交渉。→日英通商航海条約を結び領事裁判権(治外法権)を撤廃。
  - 1911年、外相の小村寿太郎が関税自主権を回復。

3 朝鮮半島と日清戦争 (図表のワーク ㉑~㉓) 教科書 P.196・197

- 朝鮮の情勢…朝鮮国内の独立党と事大党の対立や清の勢力拡大などにより、朝鮮における日本の勢力は一時的に後退→同じころ、ロシアは南下政策により勢力を拡大→日本は軍勢力強化に努めた。
- 日清戦争…朝鮮で甲午農民戦争(東学党の乱)がおこる。→鎮圧のため清と日本が朝鮮に出兵したことで開戦→日本が勝利し1895年、下関条約を締結、朝鮮の独立を認めさせる→ヨーロッパ各国も清に進出。

## ☑ 図表のワーク

学習のまとめを見て  
図表を完成させよう

### 自由と民権を求めて／帝国憲法

1874年、① 運動…板垣退助らが② を提出した  
ことで始まった

- ・国民が選んだ議員で構成される国会の開設を求める運動

1880年、③ が結成される…国会開設の請願書を政府に提出

1881年、政府が、北海道開拓使の施設や財産を、政府と関係の深い大商人に払い下げようとする事件がおこる

→自由民権運動が激化する→政府は国会開設の勅諭を出し、10年後の国会開設と憲法発布を約束する

- ・板垣退助を党首とする④ 党や、大隈重信を党首とする⑤ 党ができる

1885年、内閣制度が創設される→⑥ が初代の内閣総理大臣に就任

1889年、⑦ 憲法の発布…天皇の相談にこたえる最高機関である<sup>すうみつゐん</sup>枢密院で審議され決定した。君主権の強いプロイセン(ドイツ)の憲法が参考にされた

- ・⑧ が主権をもち、軍隊の<sup>とうすい</sup>統帥権や外交権なども持った
- ・帝国議会には、選挙で選ばれた議員からなる⑨ と、華族や学識者、多額納税者の中から任命された議員からなる⑩ が置かれた

1890年、教育の指針を示した⑪ が出される

1890年、第1回衆議院議員総選挙が行われる…選挙権は年に直接国税を⑫ 円以上納める満⑬ 歳以上の⑭ にのみあたえられた

### 条約改正／日清戦争

1882～1887年、⑮ で舞踏会を開くなどの欧化政策が行われる

1886年、⑯ 事件…イギリス貨物船⑰ が沈没した際、イギリス人が全員救出される一方で、日本人は全員水死→⑱ 権の廃止を求める世論が高まる

1894年、⑲ 外相のとき、日英通商航海条約が結ばれる…⑱ 権が廃止される

1911年、⑲ 外相のとき、⑳ 権を回復→条約改正を達成

1894年、㉑ 戦争…朝鮮での甲午農民戦争(東学党の乱)をきっかけに開戦→日本が勝利

→1895年、㉒ 条約を締結→日本は清に㉓ の独立を認めさせ、賠償金約3億6000万円や台湾などを得た

## 確認問題

→類題演習 P.152

**① 国会開設へ向けて・自由民権運動／大日本帝国憲法の制定と帝国議会** 次の問いに答えなさい。

- (1) 明治時代に始められた、人間は自由で平等であるとする欧米の市民革命の考え方に賛同した人々が、国会開設と参政権を求めた運動を何というか。 ( )
- (2) 1874年、板垣退助らが藩閥政治を批判し、国会の開設を求めて提出した文書を何というか。 ( )
- (3) 1880年、全国の自由民権運動の代表者が大阪に集まって結成した組織を何というか。 ( )
- (4) (3)の組織を中心に自由党を結成した人物はだれか。 ( )
- (5) 政府を追放された大隈重信が結成した政党を何というか。 ( )
- (6) 1885年、政府の強化と能率化を目的に、太政官制を廃止して創設された制度を何というか。 ( )
- (7) 初代内閣総理大臣に就任した人物はだれか。 ( )
- (8) 大日本帝国憲法は、君主権の強いある国の憲法を参考にしてつくられた。ある国とはどこか。 ( )
- (9) 大日本帝国憲法の草案作成の中心となった人物はだれか。 ( )
- (10) 大日本帝国憲法では主権はだれにあるとされたか。 ( )
- (11) 大日本帝国憲法で、天皇からの相談にこたえる最高機関とされた、条約や憲法解釈などの重要事項を審議する組織を何というか。 ( )
- (12) 1890年に出された、「忠君愛国」と親への「孝」を基本とした教育の方針を何というか。 ( )
- (13) 帝国議会で、皇族や華族などからなる議院を何というか。 ( )
- (14) 帝国議会で、選挙で選ばれた議員で構成される議院を何というか。 ( )
- (15) 1890年に実施された最初の(14)議員総選挙では、有権者は、年に直接国税を15円以上納める満何歳以上の男子に限定されていたか。 ( )

**② 不平等条約の改正への努力** 次の文中の□にあてはまる語句を答えなさい。

- (1) 政府は、□政策をとり、条約改正を目指したが、失敗に終わった。 ( )
- (2) (1)の政策の一つで、東京・日比谷に□が建てられ、各国の公使館員などをまねいて毎日のように舞踏会が開かれた。 ( )
- (3) 1886年、□事件が起こり、領事裁判権の撤廃を求める世論が強まった。 ( )
- (4) 1894年、①外相はロシアの南下を警戒するイギリスと交渉して②条約を結び、③権の撤廃に□成功した。 ①( ) ②( ) ③( )

**③ 朝鮮半島と日清戦争** 次の文中の□にあてはまる語句を答えなさい。

- (1) 1894年、東学を信仰する農民を中心に、外国人を追い払って政治改革を目指す反乱が朝鮮半島南部でおきた。このできごとを□という。 ( )
- (2) (1)をきっかけに日本と清が朝鮮に出兵したことから□戦争が始まった。 ( )
- (3) 1895年に結ばれた、(2)の戦争の講和条約を□という。 ( )

**練習問題**

1 次の文を読んで、あとの問いに答えなさい。

1881年、政府が北海道開拓使の施設などを大商人に安く払い下げようとした事件が明るみに出ると、自由民権運動は激化し、政府は10年後に国会を開設することを約束した。これを受けて、 X を党首とする自由党や Y を党首とする立憲改進黨が結成された。これに対し、政府は政治集会などをきびしく取りしまったため、各地で自由民権運動はますます激化した。しかし国会開設の勅諭を受けて、国権を主張する動きが強まり、1889年に C 大日本帝国憲法が公布された。

- (1) 下線部Aの自由民権運動について、次の問いに答えなさい。
- ① この運動のきっかけとなった、板垣退助が政府に提出した文書を何というか。
- ② 全国の自由民権運動の代表が大阪に集まってつくった組織を何というか。
- (2) 文中の X・Yにあてはまる人物名をそれぞれ答えなさい。
- (3) 下線部Bについて、1884年、自由党の影響の下、生活に苦しんだ農民たちが埼玉県で蜂起した事件を何というか。
- (4) 下線部Cについて、右の資料を見て、次の問いに答えなさい。
- ① 資料は大日本帝国憲法の一部である。草案作成の中心はだれか。また、この人物が参考にした憲法はどこの国のものか。
- 第1条 大日本帝国は万世一系の Pこれを統治す

第3条  Pは神聖にして侵すべからず

第29条 日本臣民は Qの範囲内において言論著作  
印行集会および結社の自由を有す
- ② 資料中の P・Qにあてはまる語句を答えなさい。
- ③ 大日本帝国憲法の制定後、社会はどのように変わったか。あてはまるものを次から選び、記号で答えなさい。
- ア 国民が政治に参加する道が開かれた。    イ 天皇の独裁政治が始まった。
- ウ 士族が中心の政治が確立された。        エ 国民の多くが選挙権を持った。

2 次のA～Eの文について、あとの問いに答えなさい。

A  a で、連日舞踏会が開かれるなど欧化政策が進められる。

B  b が外相のとき、日英通商航海条約が結ばれる。

C イギリスの c が沈没し、日本人乗客が全員亡くなる事件がおこる。

D 小村寿太郎が外相のとき、関税自主権が撤廃される。

E 朝鮮でおこった d をきっかけに、日清戦争が始まった。

- (1) A～Dをおこった順に並べかえ、記号で答えなさい。
- (2)  a にあてはまる建物名を答えなさい。
- (3)  b にあてはまる人物を次から選び、記号で答えなさい。
- ア 中江兆民    イ 植木枝盛    ウ 井上馨    エ 陸奥宗光
- (4)  c にあてはまる語句を答えなさい。
- (5) Bの下線部の条約で撤廃された権利は何か。
- (6)  d にあてはまる語句を答えなさい。

1 **学習のまとめ** ①

- (1) ① -----
- ② -----
- (2) X -----
- Y -----
- (3) -----
- (4) ① 人物 -----
- 国 -----
- ② P -----
- Q -----
- ③ -----

2 **学習のまとめ** ②・③

- (1) → → → -----
- (2) -----
- (3) -----
- (4) -----
- (5) -----
- (6) -----

## Key プラス

1 次のA～Fの文を読んで、あとの問いに答えなさい。

- A  ① を党首とする自由党と  ② を党首とする立憲改進黨が結成された。  
 B  ③ 外相のとき、日英通商航海条約が締結された。  
 C  ④ が初代の内閣総理大臣に就任した。  
 D  ⑤ らをはじめとして、民間でも多くの憲法草案がつくられた。  
 E 主権は天皇にあるとする大日本帝国憲法が發布された。  
 F 朝鮮で甲午農民戦争がおこった。

(1) ①～⑤にあてはまる人物を次から1人ずつ選び、記号で答えなさい。

- ア 植木枝盛       イ 大隈重信       ウ 伊藤博文       エ 板垣退助  
 オ 大久保利通       カ 岩倉具視       キ 陸奥宗光       ク 井上馨

(2) Bについて、日英通商航海条約について述べた次の文中の( )にあてはまる内容を「法律」の語句を使って書きなさい。

日英通商航海条約では、日本で罪を犯したイギリス人を( )ことができるという領事裁判権は撤廃された。

(3) 1911年、小村寿太郎外相のとき( )権を回復し、条約改正を達成した。( )にあてはまる語句を答えなさい。

(4) Cについて、内閣制度がつくられた際に、明治維新のときに採用された政治制度は廃止された。この廃止された政治制度での最高官庁を何というか。

(5) Eについて、この憲法のもとでのしくみとして誤っているものを次から1つ選び、記号で答えなさい。

- ア 議会は衆議院と貴族院が置かれた。  
 イ 内閣はおもに法律や予算の承認を行った。  
 ウ 天皇からの相談に応じる最高機関として枢密院が設置された。

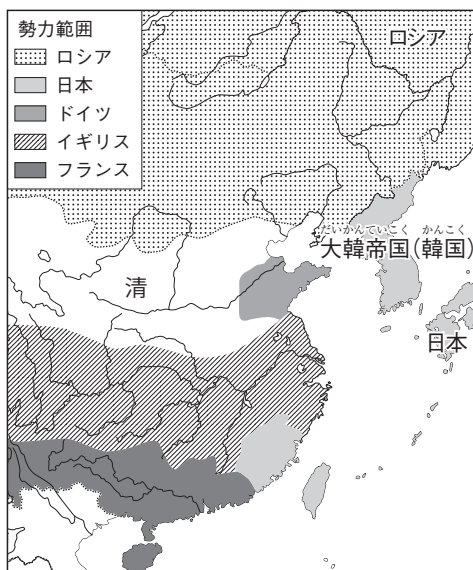
(6) Fについて、次の問いに答えなさい。

① Fの戦争をきっかけに、清と日本とのあいだでおこった戦争を何というか。

② ①の戦争の講和条約の内容としてあてはまるものを次から選び、記号で答えなさい。

- ア 朝鮮が独立国とされた。  
 イ 台湾が中国の領土とされた。  
 ウ 清は多額の賠償金を得た。

③ ①の戦争後の東アジアの様子を、右の地図を読み取って、「分割」の語句を使って、簡単に説明しなさい。



1の答え

(1)①

②

③

④

⑤

(2)

(3)

(4)

(5)

(6)①

②

③


**ここで得点アップ!**
**1** 資料Ⅰ～Ⅲを見て、あとの問いに答えなさい。

 I <sup>いつかいち</sup>五日市憲法

 47 すべての日本国民は、<sup>ぞくせきい</sup>族籍位階（身分や位）の別を問わず、法律の前においては平等である。

 51 すべての日本国民は、法律を守っている限り、事前に<sup>けんえつ</sup>検閲を受けることなく、自由に自分の思想や意見を述べたり、出版したり、討論したり、演説したりすることができる。 (一部要約)

## II フランス人権宣言

1. 人間は、生まれながらにして自由かつ平等な権利をもっている。

3. すべての主権は、本来国民にある。

4. 自由とは、他人に害を与えない限り、何ごとも行いうるということである。

11. 思想と言論の自由は、人間の最も貴重な権利の一つである。 (一部要約)

## III 大日本帝国憲法

 第1条 大日本帝国は<sup>ばんせいいつけい</sup>万世一系の<sup>これ</sup>天皇之を統治す

第3条 天皇は神聖にして侵すべからず

 第11条 天皇は<sup>とうすい</sup>陸海軍を統帥す

 第29条 日本臣民は法律の範囲内に<sup>おい</sup>於て<sup>おんぎ</sup>言論著作印行集会及結社の自由を有す (一部抜粋)

- (1) 資料Ⅰは、自由民権運動のさなかに五日市町の青年たちがまとめた五日市憲法とよばれる憲法草案である。五日市憲法は資料Ⅱのフランス人権宣言などの影響を受けている。資料を参考に、フランス人権宣言と五日市憲法の共通点を1つあげなさい。

 ( )

- (2) 資料Ⅰの憲法草案がつけられたころ、政府だけでなく民間でも多くの草案がつけられた。この動きに関係する人物を次から選び、記号で答えなさい。  ( )

 ア <sup>よしだしょういん</sup>吉田松陰    イ <sup>うえきえもり</sup>植木枝盛    ウ <sup>さいごうたかもり</sup>西郷隆盛    エ <sup>たかのちやうえい</sup>高野長英

- (3) 資料Ⅰについて、自由民権運動はどのようなことを目指して行われていたか。<sup>いたがきたいすけ</sup>板垣退助と<sup>おおくましげのぶ</sup>大隈重信が設立した政党の名称をあげて、簡単に書きなさい。

 ( )

- (4) 資料Ⅲの大日本帝国憲法について、次の問いに答えなさい。

① どこの国の憲法を参考にしたか。また、なぜその国の憲法を参考にしたのか。簡単に書きなさい。

 国( )  理由( )

② 大日本帝国憲法の下で設置された帝国議会は、衆議院と貴族院の二院制であった。第1回衆議院議員総選挙で選挙権があたえられたのはどのような人々か。

 ( )

 ③ ②の人々は総人口の約何%であったか。  (約 % )

- (5) 日本が欧米諸国と結んだ不平等条約の改正は、大日本帝国憲法の整備など、それまでの近代化の政策が認められたことが関係している。次のア～エの条約改正までの動きについて、年代の古い順に並べなさい。

 ( → → → )

 ア <sup>いのうえがふる</sup>井上馨による<sup>おうか</sup>欧化政策が行われる。    イ <sup>てらじまむねのり</sup>寺島宗則がアメリカとの関税交渉に失敗する。

 ウ <sup>むつむねみつ</sup>陸奥宗光が<sup>てっばい</sup>領事裁判権の撤廃に成功する。    エ <sup>こむらじゅうたろう</sup>小村寿太郎が関税自主権を完全に回復する。

1 次の文を読んで、あとの問いに答えなさい。⇒教科書P.262~269 (各4点)

戦争のあと、日本は<sup>①</sup> 連合軍総司令部の指令に基づいて日本政府が政治を行うようになった。さまざまな<sup>②</sup> 民主化が進められ、1947年に日本国憲法が施行された。国民の生活は苦しい状況であったが、新しい文化などが生まれ、世界で活躍する日本人は人々を力づけた。

世界では、1945年に51か国が加盟した<sup>③</sup> 平和のための組織がつけられたが、だんだんと世界を<sup>④</sup> 東と西に分ける対立が激化していった。東アジアでは、<sup>⑤</sup> 中華人民共和国が生まれた一方で、<sup>⑥</sup> ソ連がおき、休戦後も軍事的緊張が続いた。

1951年に結ばれた<sup>⑦</sup> サンフランシスコ平和条約で独立を回復した日本の政治は、その後、<sup>⑧</sup> 自由民主党が結成された政党が長い間政権を担う体制になった。

□(1) 下線部<sup>①</sup>について、この組織の最高司令官はだれか。 ( )

(2) 下線部<sup>②</sup>について、次の問いに答えなさい。

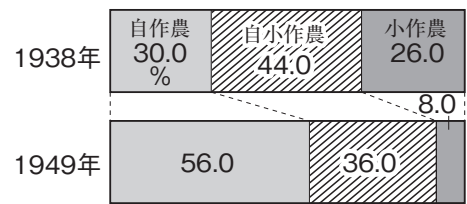
□① 民主化が進められる中、自由な政治活動などを認めるために、1925年に制定された法律が廃止された。この法律は何か。

( )

□② 右のグラフは、自作農と小作農の変化を示している。このような変化をもたらした政策を何というか。

( )

自作農・小作農の割合



(「完結昭和国勢総覧」)

□③ 教育の機会均等や9年間の義務教育などを定めたものを、次から選び、記号で答えなさい。

ア 教育勅語      イ 教育基本法      ウ 学制 ( )

□④ 連合軍総司令部の指導により解体された、三井、三菱、住友、安田などの企業集団のことを何というか。

( )

□(3) 下線部<sup>③</sup>の組織を何というか。

( )

□(4) 下線部<sup>④</sup>について、東の中心となった国、西の中心となった国を次からそれぞれ選び、記号で答えなさい。

□ 東( ) 西( )

ア 日本      イ アメリカ      ウ ドイツ      エ フランス      オ ソ連

□(5) 下線部<sup>⑤</sup>について、この国が建国されたときに、中国共産党を率いていたのはだれか。

( )

□(6) <sup>⑥</sup> ソ連にあてはまる大韓民国(韓国)と朝鮮民主主義人民共和国(北朝鮮)の戦いを何というか。

( )

□(7) 下線部<sup>⑦</sup>について述べた文として正しいものを、次から選び、記号で答えなさい。

( )

ア 調印国の多くは日本に賠償を求めた。

イ ソ連を含む48か国との間で調印した。

ウ 同時に日米安全保障条約(安保条約)を結んだ。

エ 岸信介内閣総理大臣によって結ばれた。

□(8) 下線部<sup>⑧</sup>について、この体制を何というか。

( )

2 次の年表を見て、あとの問いに答えなさい。⇨教科書P.270～281

((8)完答, 各4点)

年代	世界のできごと	年代	日本のできごと
1955	アジア・アフリカ会議が開かれる	1964	①東京オリンピックが開かれる
	↑ ② ↓	1965	③との国交が正常化する
1989	④アジア太平洋経済協力会議発足	1972	⑤沖縄が日本に復帰する
2001	アメリカで同時多発⑥がおこる	1973	⑥石油危機がおこる
		2011	⑦がおこる

(1) 下線部①について、次の問いに答えなさい。

□① 下線部①に合わせて開通したものとしてあてはまるものを、次から選び、記号で答えなさい。

- ア 路線バス                      イ 新橋－横浜間の鉄道                      (       )  
ウ 東海道新幹線                エ リニアモーターカー

□② 下線部①のころ人気を集めた「三種の神器」としてあてはまらないものを、次から1つ選び、記号で答えなさい。                      (       )

- ア 白黒テレビ    イ 洗濯機    ウ 冷蔵庫    エ 自動車

□(2) ②の期間におきた戦争の行きづまり打開のために、アメリカが中国に接近したころ、日本も中国との国交を正常化し、1978年に中国との間で条約を結んだ。この条約を何というか。                      (       )

□(3) ③にあてはまる国を、次から選び、記号で答えなさい。                      (       )

- ア ソ連            イ アメリカ            ウ 中国            エ 韓国

(4) 下線部④について、次の問いに答えなさい。

□① このとき返還交渉にあたった内閣総理大臣はだれか。                      (       )

□② 返還された沖縄にも適用された、核兵器を「持たず、つくらず、持ち込ませず」という考え方を何というか。                      (       )

□(5) 下線部④の略称を何というか、アルファベットで答えなさい。                      (       )

□(6) 下線部⑥について、これの影響を受けて終わったこととして正しいものを、次から選び、記号で答えなさい。                      (       )

- ア バブル経済                      イ 高度経済成長  
ウ 冷戦                              エ 55年体制

□(7) ⑥にあてはまる、暴力的な手段を用いて政治目的を実現しようとすることを何というか。カタカナ2字で答えなさい。                      (       )

□(8) ⑦の期間におきた次のできごとを、年代の古いものから順に並べかえ、記号で答えなさい。

- ア 民主党を第1党とする連立内閣ができる。                      (       →       →       →       )  
イ 日朝平壤宣言<sup>ピョングヤン</sup>が出される。  
ウ 阪神・淡路大震災がおこる。  
エ P K O協力法により、自衛隊が初めて派遣される。

□(9) ⑦にあてはまる3月11日に発生した災害は何か。                      (       )

□(10) 戦後は、文化においても日本の復興<sup>ふっこう</sup>は進んだ。1949年に日本人で初めてノーベル賞を受賞した人物はだれか。また、その人物が受賞した分野を次から選び、記号で答えなさい。

- 人物(                      )    分野(                      )
- ア 文学賞    イ 平和賞    ウ 医学・生理学賞    エ 物理学賞



# 定期テスト対策 Ⅲ 応用編 Ⅲ

単元15 第二次世界大戦後の占領と再建  
単元16 経済大国・日本の国際的役割

得点

/100点

教科書 P.262~281

実施時間のめやす⇒30分

1 右の年表を見て、次の問いに答えなさい。⇨教科書P.262~269 (1)①・④各3点、他各4点)

(1) 下線部①について、次の問いに答えなさい。

① 日本国憲法の公布に先立って衆議院議員総選挙が1946年4月に行われた。このときの有権者として正しいものを、次から選び、記号で答えなさい。

- ア 満18歳以上の男女 ( )
- イ 直接国税15円以上を納める満25歳以上の男子
- ウ 満25歳以上の男子
- エ 満20歳以上の男女

年代	できごと
1946	① 日本国憲法が公布される
1950	② 朝鮮戦争が始まる
1951	サンフランシスコ平和条約を結ぶ…A
1955	③ 55年体制が始まる
1956	日ソ共同宣言が出される……………B

② 天皇の地位は、大日本帝国憲法と日本国憲法においてどのように変わったか。簡単に答えなさい。

( )

③ 日本国憲法の三つの基本原則を答えなさい。

( ) ( ) ( )

④ 日本国憲法が制定されたころに進められた民主化政策として正しいものを、次から選び、記号で答えなさい。 ( )

- ア 教育勅語の制定
- イ 財閥解体の実施
- ウ 治安維持法の制定
- エ 地租改正の実施

⑤ 新憲法制定にともない、9年間の義務教育などを定めた法律を何というか。

( )

(2) 下線部⑥について述べた次の文の あ・い にあてはまる国名、う にあてはまる数字をそれぞれ  答えなさい。

朝鮮戦争は、ソ連の支援を受けて成立したあと、アメリカの支援で成立したいが、戦ったもので、戦争中は、北緯う線付近で一進一退をくり返した。

あ( ) い( ) う( )

(3) Aの条約を結んだあとも、引き続きアメリカが統治することになった地域としてあてはまらないものを、次から1つ選び、記号で答えなさい。 ( )

- ア 奄美群島
- イ 小笠原諸島
- ウ 南樺太
- エ 沖縄

(4) 下線部③について、55年体制とはどのような体制か、政権、野党第一党の語句を用いて、簡単に答えなさい。

( )

(5) Bのできごとをきっかけとして起こったことを、次から選び、記号で答えなさい。 ( )

- ア 治安を維持するという理由で、警察予備隊が設置された。
- イ 日本が国際連合に加盟した。
- ウ 地方自治法が制定され、住民が首長を直接選挙することになった。
- エ 野党や労働組合などが反対を始め、その後、全国的な反対運動になった。

冷戦が激化する中で、ソ連の社会主義経済が行きづまり、<sup>a</sup>ベルリンの壁の崩壊後、緊張緩和が進み、1989年には<sup>b</sup>冷戦終結が宣言された。同時に世界の多極化が進み、各地で民族や宗教を原因とする対立が表面化した一方で<sup>c</sup>地域協力の動きも高まった。

グローバル化が進む世界で、日本は1960年代に<sup>d</sup>高度経済成長が進み、経済大国となった。その後、<sup>e</sup>好景気や不況をくり返しながら進んできた日本は、現在、<sup>f</sup>すべての世代が安心できる社会をつくっていくことが求められている。

- (1) 下線部<sup>a</sup>のあとにおこったできごととしてあてはまらないものを次から1つ選び、記号で答えなさい。
- ア 米ソ中距離核戦力全廃条約に調印する。      イ ソ連がロシアなどに分裂する。      (      )  
ウ イラクがクウェートに侵攻する。      エ 湾岸戦争がおこる。
- (2) 下線部<sup>b</sup>について、マルタ島の会談で、首脳が冷戦終結を宣言した国を、次からすべて選び、記号で答えなさい。      (      )
- ア フランス      イ アメリカ      ウ ソ連      エ 中国      オ ドイツ
- (3) 下線部<sup>c</sup>について、次の問いに答えなさい。
- ① 日本が国際社会に復帰し、アジア諸国に多額の経済援助を行った。この経済援助のことを何というか。アルファベット3字で答えなさい。      (      )
- ② 自衛隊が内戦終結直後のカンボジアで参加した、国連による紛争地域の平和の維持を図る活動を何というか。      (      )
- ③ 地域統合のうち、1993年に発足したヨーロッパ諸国の組織と、2018年にアジア太平洋地域の19か国と2地域が参加した会議をそれぞれ何というか。略称で答えなさい。  
ヨーロッパ(      )      アジア(      )
- (4) 下線部<sup>d</sup>について、次の問いに答えなさい。
- ① 高度経済成長のころに大阪で開かれ、史上最多の総入場者数となったアジア初の大会を何というか。      (      )
- ② 高度経済成長は、1973年の石油危機で終わった。石油危機とはどういうできごとか、おきた理由と合わせて簡単に答えなさい。  
(      )
- (5) 下線部<sup>e</sup>について、1980年代におこったバブル経済について説明した文として正しいものを、次から選び、記号で答えなさい。      (      )
- ア 2008年のリーマンショックまで続いた。  
イ 第2次ベビーブームがおこった。  
ウ 地価や株価が急激に値上がりした。  
エ 高い経済成長が続き、GNPで資本主義国第2位を記録した。
- (6) 下線部<sup>f</sup>について、現在の日本について述べた文として正しいものを、次から選び、記号で答えなさい。
- ア 島根県の竹島は、中国に不法占拠されたままである。      (      )  
イ 高齢者が増えているが、子どもも増えている。  
ウ 北朝鮮による拉致問題は小泉純一郎内閣のときに解決した。  
エ 青年海外協力隊に参加するなど、国際貢献することが求められている。