




猿人
脳容積
約500cm³



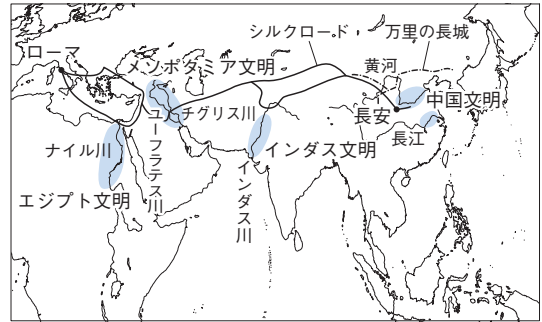
原人
脳容積
約1000cm³



新人
脳容積
約1400cm³



▲B 打製石器と磨製石器



▲A 脳の変化

1 グレートジャーニー (図表のワーク①～⑤) 教科書 P.20・21

- (1) 人類の進化…猿人：約700万年前のアフリカに現れ、チンパンジーと共通の祖先から進化。直立二足歩行。打製石器を使用。→原人：氷河時代(氷期と間氷期を繰り返す)の約240万年前に現れた。火・言葉の使用。→新人：約20万年前に出現。現在の人類の直接の祖先。
- (2) 旧石器時代…人々が打製石器を使用し狩りや採集をしていた時代。日本列島にも大型動物を追い人類が移住。約1万5千年前にフランスのラスコーの洞窟壁画が描かれる
- (3) 農耕と牧畜の始まり…今から約1万年前に氷期が終わり温暖となる。農耕や牧畜が始まり、人々は定住生活を行う。食料の調理・保存をする土器を使用し、石を磨いてつくった磨製石器を使用→新石器時代。

▲C 古代文明 AR

2 エジプトはナイルの賜物 (図表のワーク⑥～⑨) 教科書 P.22・23

- (1) 文明のおこり…農耕や牧畜が発達し、富の差から強い権力をもつ支配者(王)が生まれた→文明の形成。
- ① メソポタミア文明…紀元前3000年ごろ、チグリス川・ユーフラテス川流域で、神殿を中心とした都市国家がつくられる。青銅器、くさび形文字、太陰暦の使用。60進法の発明。ハンムラビ王のハンムラビ法典。
- ② エジプト文明…紀元前3000年ごろ、ナイル川流域に統一国家。ピラミッド、太陽暦、象形文字。測量の技術・数学が発達。メソポタミアやエジプトを含むオリエントでアルファベットの原型がつくられる。1年を365日とする
- ③ インダス文明…紀元前2600年ごろインダス川流域でおこる。都市が発達。青銅器・インダス文字を使用。排水溝・道路を計画的に整備

3 大帝国の出現と交流 (図表のワーク⑩～⑬) 教科書 P.24・25

- (1) 中国文明…紀元前6000年ごろ黄河流域で粟や稗などを、長江流域で稲を栽培し始めた。紀元前1600年ごろ、黄河流域に殷(商)がおこる→青銅器や、甲骨文字がつけられた。
- (2) 中国の戦乱と統一…殷の後に周。紀元前8世紀に春秋・戦国時代→孔子が儒教(儒学)を説く。
- ① 秦…紀元前3世紀、始皇帝が中国を初めて統一。万里の長城を築く。中央集権体制。度量衡を統一。北方の遊牧民族の侵入を防ぐ
- ② 漢…中央アジアまでを支配する大帝帝国。シルクロード(絹の道)が通る。儒教を重視。紙の発明。
- (3) 朝鮮半島の国々…中国では3世紀初めに漢が減じ、魏・呉・蜀の三国が分立。5世紀には南朝と北朝に分かれた国々が争った。朝鮮半島北部では高句麗が成長。南部には百済・新羅、南端には伽耶(加羅)諸国が分立。

4 すべての道はローマに通ず (図表のワーク⑭～⑰) 教科書 P.26・27

- (1) ギリシャ文明…紀元前8世紀ごろから都市国家(ポリス)を建設。民主政。哲学・芸術・数学などが発展。直接民主政
- (2) ヘレニズム文化…ギリシャ文化とオリエントの文化が融合←マケドニアのアレクサンドロス大王の東方遠征。
- (3) ローマ帝国…紀元前6世紀に共和政がローマで始まる。紀元前30年ごろ地中海地域を統一。水道橋・闘技場。

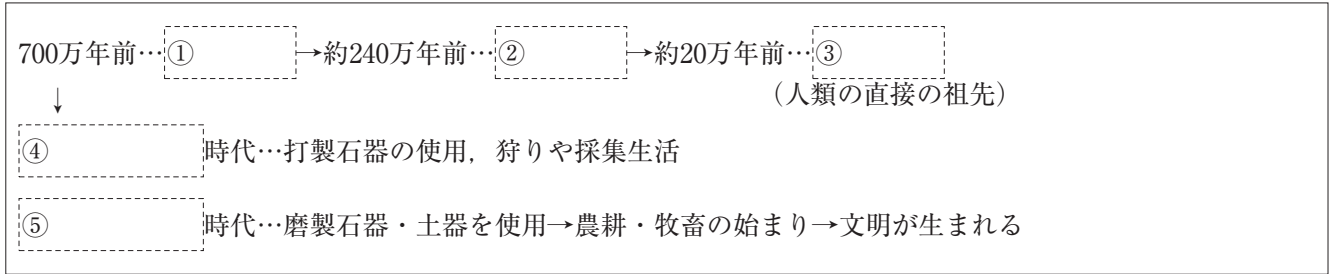
5 宗教の誕生 (図表のワーク⑱～⑳) 教科書 P.28・29

- (1) 仏教…紀元前6世紀ごろ、インドでシャカが開く。インドではその後、ヒンドゥー教がおこる。ガウタマ=シッダールタ
- (2) キリスト教…紀元前6世紀ごろ、パレスチナ地方のユダヤ人がユダヤ教をおこす→紀元前後、イエスがユダヤ教を批判→イエスの死後弟子たちがキリスト教をおこす→ローマ帝国が4世紀末に国教に。新約聖書をつくり布教
- (3) イスラム教…7世紀初めにアラビア半島の都市メッカでムハンマドがおこす。聖典は『コーラン』。

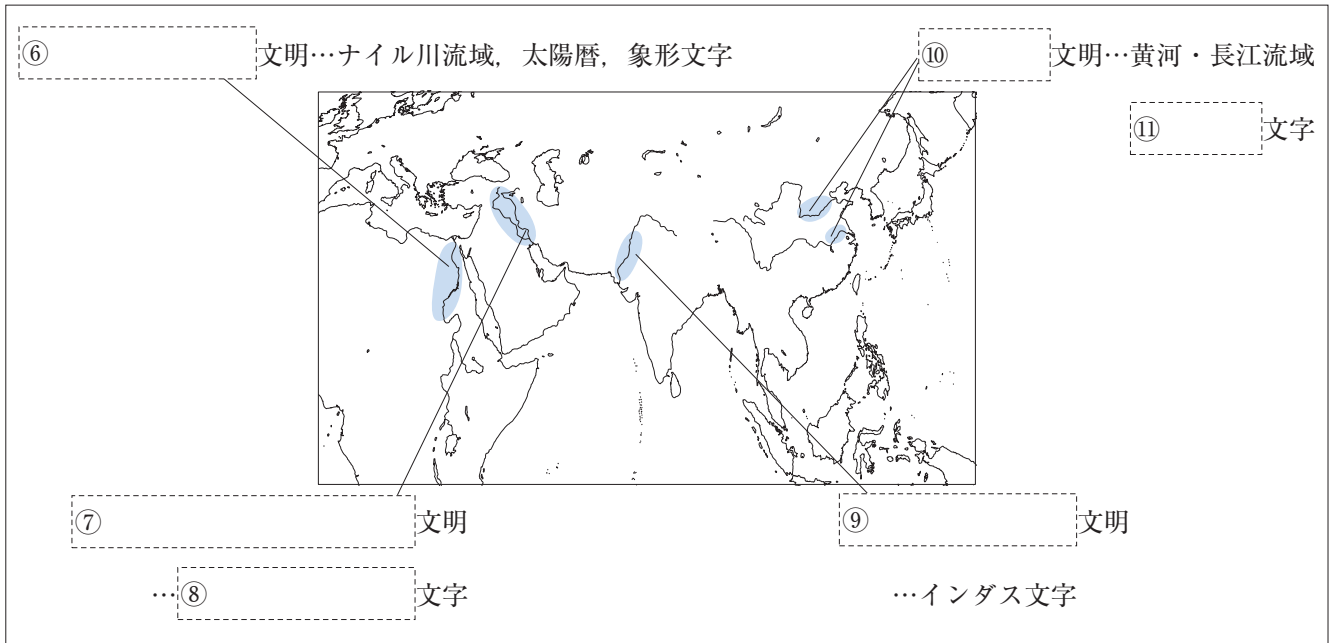
☑ 図表のワーク

学習のまとめを見て
図表を完成させよう

人類の進化



古代文明



中国の戦乱と統一

紀元前3世紀, 秦…⑫ が統一。万里の長城を築き, 度量衡を統一

紀元前202年, ⑬ …中国とローマを結ぶ⑭ が開かれる

朝鮮半島の国々

北部に⑮, 南部に⑯ ・新羅が成立

ギリシャ・ローマの古代文明

ギリシャ…紀元前8世紀, 各地に都市国家(⑰)を建設, 民主政(直接民主政)が行われる

ローマ帝国…紀元前6世紀に貴族を中心とする共和政が始まる → 紀元前30年ごろ地中海地域を統一

宗教のおこり

⑱ …紀元前6世紀ごろシャカが開く ⑲ …イエスの教えを弟子が布教

⑳ …7世紀初めにムハンマドがおこす

確認問題

→類題演習 P.72

① **グレートジャーニー** 次の文中の□□にあてはまる語句を答えなさい。

- (1) 今から700万年ほど前、チンパンジーと共通の祖先から進化した□□がアフリカに現れ、自由になった前足(手)で道具を使い始めた。 ()
- (2) (1)の人類が使用した、石を打ち欠いてつくった石器を□□石器という。 ()
- (3) 原人は、寒さから身を守ったり食べ物を調理するために□□を使い始めた。 ()
- (4) 今から約20万年前に、現在の人類の直接の祖先である□□が現れた。 ()
- (5) 人々が(2)の石器を使用し、狩りや採集をしていた時代を□□時代という。 ()
- (6) 食料の調理や保存のために土器を使用し、石を磨いた磨製石器を使うようになった時代を□□時代という。 ()

② **エジプトはナイルの賜物** 次の問いに答えなさい。

- (1) 紀元前3000年ごろにチグリス川・ユーフラテス川流域で発展し、月の満ち欠けをもとにした太陰暦やくさび形文字を使用した文明を何というか。 ()
- (2) 紀元前3000年ごろにナイル川の流域で発展し、石でできた巨大な神殿や、ピラミッドを築いた文明を何というか。 ()
- (3) 紀元前2600年ごろ、道路や排水溝が計画的に整備された都市が繁栄した文明を何というか。 ()

③ **大帝国の出現と交流** 次の文中の□□にあてはまる語句を答えなさい。

- (1) 紀元前1600年ごろ、□□という国が黄河流域におこった。 ()
- (2) (1)の国では、亀の甲や牛の骨に刻まれた□□文字がつくられた。 ()
- (3) 戦乱期の中国で、道徳を中心とする政治を説いた孔子の教えを□□という。 ()
- (4) 紀元前3世紀に秦の□□が中国を初めて統一した。 ()
- (5) 秦は北方の遊牧民族の侵入を防ぐため□□を築いた。 ()
- (6) 秦に代わって中国を統一した□□は、西は中央アジアまで支配した。 ()
- (7) (6)の時代、中国と地中海地域を結ぶ□□が開かれた。 ()
- (8) 朝鮮半島北部の□□が、4世紀初めに中国の郡を滅ぼした。 ()

④ **すべての道はローマに通ず** 次の問いに答えなさい。

- (1) 紀元前8世紀ごろからギリシャ各地に建設された都市国家を何というか。 ()
- (2) ギリシャ文化とオリエントの文化とが融合した文化を何というか。 ()
- (3) 紀元前30年ごろに地中海地域を統一して誕生した帝国を何というか。 ()

⑤ **宗教の誕生** 次の文中の□□にあてはまる語句を答えなさい。

- (1) 紀元前6世紀ごろ、インドで□□が仏教を開いた。 ()
- (2) 紀元前後、パレスチナで生まれたイエスが説いた教えを□□といい、のちの世界に大きな影響をあたえた。 ()
- (3) 7世紀初めに□□がイスラム教をおこした。 ()

練習問題

1 右の表を見て、次の問いに答えなさい。

- (1) A・Bにあてはまる時代名をそれぞれ答えなさい。
- (2) C石器は石を打ち欠いてつくった石器、 D石器は石を磨いてつくった石器である。 C・ Dにあてはまる語句をそれぞれ答えなさい。

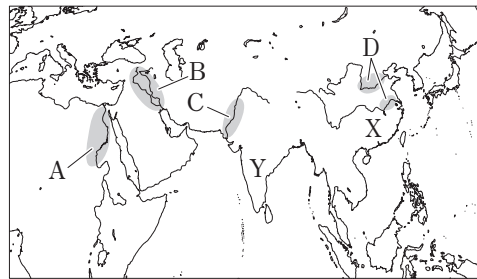
<input type="checkbox"/> A時代	時代	<input type="checkbox"/> B時代
～1万年前	時期	1万年前以降
<input type="checkbox"/> C石器	道具	<input type="checkbox"/> D石器
狩りや採集	暮らし	狩りや採集 農耕 <small>ほくちく</small> や牧畜

1 学習のまとめ ①

- (1) A 時代
B 時代
- (2) C 石器
D 石器

2 右の地図を見て、次の問いに答えなさい。

- (1) 地図中のA～Dの地域で発生した古代文明をそれぞれ答えなさい。
- (2) 地図中のA～Dの地域で発生した古代文明の特色を、次からそれぞれ1つずつ選び、記号で答えなさい。



- ア くさび形文字が使用され、太陰暦が発明された。
- イ 道路や排水溝が計画的に整備された都市が栄えた。
- ウ 象形文字しやうけいが使われ、太陽暦が発明された。
- エ 甲骨文字こうこつが使用され、優れた青銅器せいとうきがつくられた。
- (3) 戦乱が続く中で、地図中のXで道徳に基づく政治を説いた孔子の教えを何というか。
- (4) 紀元前3世紀、地図中のXの地域を初めて統一した人物と国の名をそれぞれ答えなさい。

2 学習のまとめ ②・③

- (1) A 文明
B 文明
C 文明
D 文明
- (2) A B
C D
- (3)
- (4) 人物
国

3 次の文を読んで、あとの問いに答えなさい。

現在のギリシャの地域では、紀元前8世紀ごろから①都市国家がつくられ、民主政(直接民主政)が行われた。紀元前4世紀、ギリシャは北方の②マケドニアに征服された。地中海地域では、都市国家であった③がしだいに勢力を広げ、紀元前1世紀に皇帝を頂点とする④③帝国となった。

- (1) 下線部①をカタカナで何というか。
- (2) 下線部②のアレクサンドロス大王が東方に遠征した結果、ギリシャ文化とオリエントの文化が融合した新しい文化が生まれた。この文化を何というか。
- (3) ③に共通してあてはまる語句を答えなさい。
- (4) 下線部④の帝国は4世紀末にある宗教を国教とした。次の問いに答えなさい。
- ① この宗教は何か。
- ② ①以外のおもな宗教として、Xイスラム教をおこした人物、Y仏教をおこした人物の名を、それぞれ答えなさい。

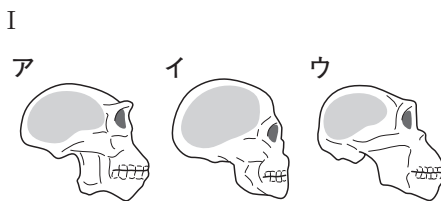
3 学習のまとめ ④・⑤

- (1)
- (2) 文化
- (3)
- (4) ①
- ② X
- Y

Key プラス

1 資料Ⅰ～Ⅲを見て、次の問いに答えなさい。

- (1) 右の資料Ⅰの図のア～ウは、今から約700万年前、今から約240万年前、今から約20万年前に出現した人類のいずれかの脳を示している。ア～ウを年代の古い順



に並べかえ、記号で答えなさい。

(2) 資料Ⅰの図のア～ウにあてはまる人類を、それぞれ漢字2字で答えなさい。

- (3) 人類の進化には、直立二足歩行が大きく関係していると考えられる。直立二足歩行により、人類はどのようなことができるようになったか、簡単に答えなさい。



(4) 資料Ⅱ・Ⅲは石器を示している。Ⅱ・Ⅲの石器

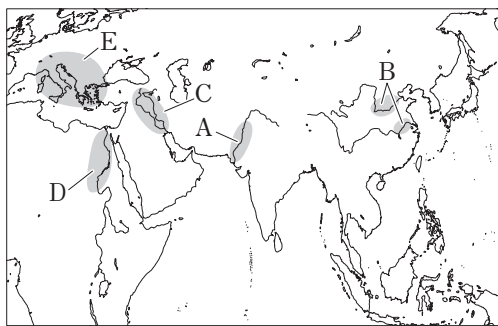
の名前をそれぞれ答えなさい。

(5) 資料Ⅲが使われ始めたころ、食料を調理・保存するためにつくられるようになった道具を何というか。

(6) 資料Ⅲの石器や(5)が使われるようになった時代を何というか。

2 右の地図を見て、次の問いに答えなさい。

- (1) 地図中のAの地域で発達した文明の特色を「排水溝」という語句を使って説明しなさい。また、Aの地域に近いインドでシャカがおこした宗教を何というか。



(2) 地図中のBの地域で発達した文明の特色を「占い」の語句を使って説明しなさい。また、Bの地域で孔子がおこした思想を何というか答えなさい。

(3) 地図中のA～Dの地域でつくられた文字を、次からそれぞれ選び、記号で答えなさい。

- ア くさび形文字 イ 象形文字
ウ インダス文字 エ 甲骨文字

(4) 紀元前3世紀、地図中のBを含む周辺地域を支配した漢は、3世紀初めに滅び、その後三国が分立した。分立していた三国をすべて答えなさい。

(5) 地図中のEの地域について述べた次の文中の□①・②にあてはまる語句をそれぞれ答えなさい。

紀元前8世紀ごろからEの地域では都市国家が生まれ、ギリシャのポリスでは市民全員で行う□①, ローマでは貴族中心の□②という政治が行われた。

1の答え

(1) → →

(2) ア

イ

ウ

(3)

(4)Ⅱ 石器

Ⅲ 石器

(5)

(6) 時代

2の答え

(1)特色

宗教

(2)特色

思想

(3)A B

C D


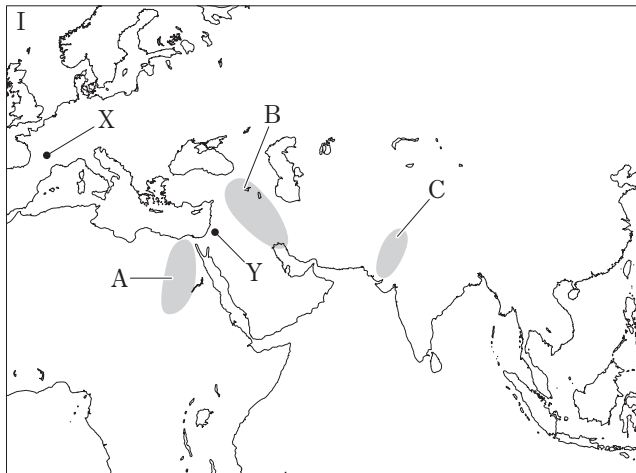
(4)

(5)①

②

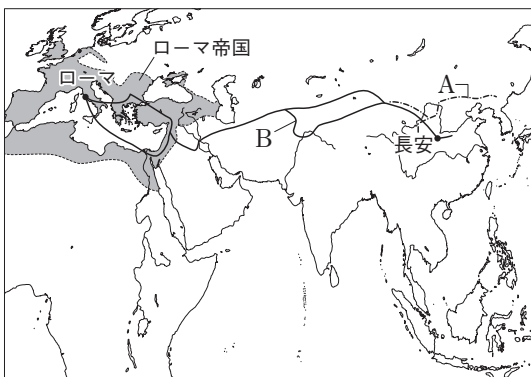
ここ得点アップ!

1 次の資料を見て、あとの問いに答えなさい。



- (1) 資料 I 中の X は約 1 万 5000 年前の遺跡が発見された場所である。X は何時代の遺跡か答えなさい。
□()
- (2) 資料 I 中の A～C は、古代文明がおこった地域である。A～C の古代文明に共通する特色を、①自然の面から、②文化の面から、それぞれ答えなさい。
□自然()
□文化()
- (3) 資料 I 中の C の地域では農業がさかんであり、道路や排水溝を備えた都市が発展した。その中心都市の 1 つを何というか。
□()
- (4) 資料 II の文字は、つくられた当時どのように使用されていたか。「占い」の語句を使って説明しなさい。
□()
- (5) 資料 III の人物について述べた次の文中の□①～③にあてはまる語句をそれぞれ答えなさい。
紀元前 1600 年ごろおこった□①のあとにおこった周しゅうがおとろえると、戦乱の時代を迎えた。この時代に資料 III の□②は、「仁じん」を重んじ道徳を中心とする政治を説き、その教えは□③として周辺国に伝えられた。
□①() □②() □③()

2 左の地図を見て、次の問いに答えなさい。



- (1) 地図中の A は、中国を最初に統一した国によってつくられた万里の長城ばんりちやうじやうである。これをつくった国の名前を明らかにして、つくった目的を説明しなさい。
□()
- (2) 漢の時代に発達した、地図中の B の交通路の名を答えなさい。また、この交通路を通じて西方から中国に伝わったものを次からすべて選び、記号で答えなさい。
ア 仏教 イ ぶどう ウ 絹 エ 馬
□交通路() □伝わったもの()
- (3) ヘレニズム文化が生まれた背景を、「マケドニア」「融合」の語句を用いて説明しなさい。
□()

定期テスト対策 Ⅲ 標準編 Ⅲ

単元1 人類の出現と文明のおこり～
単元4 貴族社会の発展

得点

/100点

教科書 P.20~51

実施時間のめやす⇒25分

1 次の文を読んで、あとの問いに答えなさい。⇒教科書P.20～29 (2)①②各完答、各3点)

最初の人類である□A□が誕生したのは、今から約700万年前だと考えられている。人類はしだいに進化し、今から約20万年前には、私たちの直接の祖先となる□B□が現れた。狩りや採集をしてくらしていた時代から、やがて、農耕や牧畜が始まり、人々の生活は安定した。

①紀元前3000年ごろから、大河の流域で文明が発達した。各文明では、巨大な建造物がつくられ、文字も使われた。その後、②中国では国ができては滅び、ギリシャやローマでも文明が発達した。また、7世紀までに、現在も世界で信仰されている③宗教も生まれた。

□(1) □A□, □B□にあてはまる語句を、次からそれぞれ選び、答えなさい。

□ [新人しんじん 猿人えんじん 原人げんじん] A() B()

□(2) 下線部①について、次の川の流域で発生した文明を答えなさい。また、それぞれの文明に関係の深い文字をあとからそれぞれ選び、記号で答えなさい。

① ナイル川 ② チグリス川・ユーフラテス川

①()文明・() ②()文明・()

ア くさび形文字 イ 甲骨文字 ウ インダス文字 エ 象形文字しやうけい

□(3) 下線部②について、紀元前221年に中国を統一し、北方の遊牧民族の侵入を防ぐために、万里の長城を整備した国を何というか。 ()

□(4) 下線部③について、シャカが開いた宗教を何というか。 ()

2 次の時代区分について、あとの問いに答えなさい。⇒教科書P.30～37 (各3点)

A 旧石器時代 B 縄文時代じやうもん C 弥生時代やよい D 古墳時代

□(1) Aの時代に使われていた、石を打ち欠いただけの石器を何というか。 ()

□(2) Bの時代の人々が食べかすなどを捨てた跡を何というか。 ()

□(3) Bの時代の末に九州に伝わり、Cの時代には東北地方にまで広まった農業は何か。 ()

□(4) Dの時代に九州地方から関東地方までの豪族ごうぞくをしたがえた、大王を中心とする政権を何というか。 ()

□(5) Dの時代に朝鮮半島ちやうせんから日本に移り住み、日本に漢字や新しい技術などを伝えた人々を何というか。 ()

□(6) 次のア～エは、A～Dの時代について述べたものである。A～Dの時代にあてはまるものを次からそれぞれ選び、記号で答えなさい。 A() B() C() D()

□ ア 邪馬台国の女王卑弥呼ひみこが魏に使いを送った。 イ 土器を煮炊きに使う習慣が広まり始めた。
ウ 中国の南朝にたびたび使いが送られた。 エ マンモスなどの大型動物の狩りを行っていた。

3 次のページの年表を見て、次の問いに答えなさい。⇒教科書P.38～43 (各3点)

(1) Aについて、次の問いに答えなさい。

□① 聖徳太子の政治について、あてはまらないものを次から選び、記号で答えなさい。 ()

ア 十七条の憲法けんぽう イ 冠位十二階の制度かんいじゅうにかい ウ 戸籍の作成 エ 遣隨使の派遣けんずいし

□② 聖徳太子が建てた後、火災により消失したが再建し、
現存する世界最古の木造建築物とされている寺を何とい
うか。 ()

□③ Aのころに栄えた文化を何というか。
()

□(2) Bの改革を中心となって進め、後に天皇となった人物を
答えなさい。 ()

□(3) □Cにあてはまる、天智天皇のあとつぎをめぐる争いを何というか。 ()

□(4) Dによって、新しい国家のしくみが定められた。中央の貴族が任命され、国を治めた役人を何というか。
()

年代	できごと
593	聖徳太子(厩戸皇子)が政治を行う… A
645	大化の改新がはじまる…………… B
672	□Cがおこる
701	大宝律令がつくられる…………… D

4 次の文を読んで、あとの問いに答えなさい。⇨教科書P.44～51 ((6)①②各完答, (3)(6)①②各4点, 他各3点)

710年に□Aへ都が移された。朝廷は、^a戸籍に基づき6歳以上の男女に決まった広さの農地をあたえ、
人々は、^b様々な税や労役、兵役を負担した。^c聖武天皇のころには仏教や唐の影響を強く受けた文化が
発達した。

8世紀の末、□Bは都を^d平安京に移し、律令政治の立て直しをはかった。平安時代には、しだいに
政治の実権を貴族が握るようになり、□Cとその子の時代には^e摂関政治が全盛期をむかえた。

□(1) □Aにあてはまる語句を答えなさい。
()

□(2) 下線部^aの農地を何というか。 ()

□(3) 下線部^bに関して、右の表の□X・□Yにあてはまる語句をそれ
ぞれ答えなさい。 X() Y()

□(4) 下線部^cのころの文化を何というか。
()

種類	内容	
租	収穫の約3%の稲	
□X	地方の特産物(絹・綿、塩など)	
庸	労役の代わりに麻の布	
労役	雑徭	年間60日以内の労働
兵役	衛士	都(1年)
	□Y	九州北部の防衛(3年)

□(5) □Bにあてはまる天皇を答えなさい。 ()

□(6) 下線部^dのころ、次の2人の僧が開いた仏教の宗派の名をそれぞれ答えなさい。またその中心寺院をあと
から選び、記号で答えなさい。

① 最澄 ② 空海

ア 金剛峯寺 イ 法隆寺 ウ 延暦寺 エ 四天王寺

①宗派()・寺院() ②宗派()・寺院()

□(7) 右の資料は、□Cにあてはまる人物について述べたもの
である。□Cにあてはまる人物はだれか。
()

この人物は、娘の威力が天皇のきさきになっ
たときに、このような歌をよんだ。
この世をば わが世とぞ思う
望月の かけたることも 無しと思えば

□(8) 下線部^eのころの社会の様子を述べた文として誤っている
ものを、次から1つ選び、記号で答えなさい。 ()

ア 戸籍がつくれなくなった。 イ 班田収授の法が行われなくなった。
ウ 荘園が全国各地で増えていった。 エ 小さなクニ同士の争いがおこった。

□(9) 下線部^eのころに広まった、念仏を唱えて阿弥陀仏にすがり、極楽浄土に生まれ変わることを願うという
教えを何というか。 ()

定期テスト対策 Ⅲ 応用編 Ⅲ

単元1 人類の出現と文明のおこり～

単元4 貴族社会の発展

得点

/100点

教科書 P.20~51

実施時間のめやす⇒30分

1 右の地図を見て、次の問いに答えなさい。⇒教科書P.20～29

((1)②4点, 他各3点)

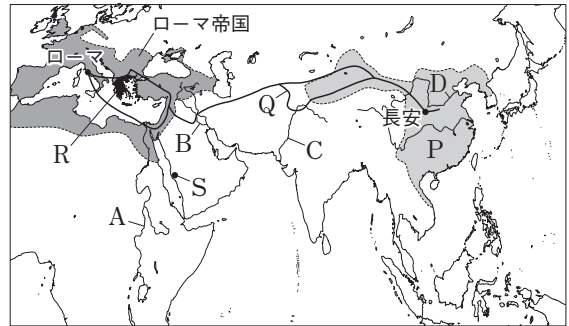
(1) 古代文明について、次の問いに答えなさい。

□① 右の資料がつくられた文明はどの川の流域で発達したか。地図中のA～Dから選び、記号で答えなさい。

()

□② 古代文明が大河の流域で発生したのはなぜか。簡単に説明しなさい。

()



□(2) 2世紀ごろ、地図中のPの地域を支配した大帝国を何というか。

()

□(3) 地図中のQは、(2)の国とローマ帝国を結んでいた交易路を示している。この交易路を何というか。

()

□(4) 地図中のRでは、紀元前8世紀ごろから、多くの都市国家が生まれた。この都市国家を何というか。


()

□(5) 地図中のSで、7世紀初めに宗教をおこした人物はだれか。


()

2 次の資料を見て、あとの問いに答えなさい。⇒教科書P.30～37

((3)4点, 他各3点)



Ⅲ 倭人の国は多くの国に分かれている。そのなかで、最も強い□は、30ほどの小国をしたがえて、女王の卑弥呼が治めている。



□(1) 資料Iのような土器を何というか。

()

□(2) 資料IIのような、おもに祭りの道具として用いられた金属器を何というか。

()

□(3) 資料IIが日本に伝えられた時代には、人口が増え、土地や水をめぐる争いがおこるようになった。この時代に人口が増えた理由を、資料Iが使われた時代との食料を得る手段の違いから、説明しなさい。

()

□(4) 資料IIIの□にあてはまる国の名を答えなさい。また、資料IIIは何という国の歴史書の一部か。

□ 国() 歴史書の国()

(5) 資料IVは、大阪府堺市にある日本最大の前方後円墳である。これについて、次の問いに答えなさい。

□① 資料IVの古墳を何というか。

()

□② 古墳の上に置かれた、人や家などの形をした焼ものを何というか。

()

□③ 資料IVの時代について誤って述べたものを次から1つ選び、記号で答えなさい。

()

ア 大和政権につかえる豪族たちは、氏という集団をつくっていた。

イ 武など大和政権の5代の王は、中国の南朝に使者を送った。

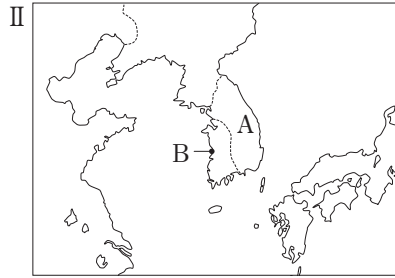
ウ 4世紀ごろ、大和政権は、高句麗と同盟を結んで百済や新羅と戦った。

エ 渡来人は須恵器、絹織物などの生産技術を日本に伝えた。

3 次の資料を見て、あとの問いに答えなさい。⇨教科書P.38～43

(各4点)

I
 一に曰く、和をもつて貴しとなし、さから
 うことなきを宗とせよ。
 二に曰く、あつく三宝を敬え。三宝とは仏・
 法・僧なり。
 三に曰く、詔を承りては、必ず謹め。



- (1) 資料Iは、聖徳太子(厩戸皇子)が定めた十七条の憲法の一部を示している。資料Iの下線部から、聖徳太子はどのような政治のしくみを目ざしていたことが読み取れるか、簡単に説明しなさい。
 ()
- (2) 聖徳太子は中国の進んだ文化を取り入れようとして、中国に使節を送った。この使節を何というか。また、このとき使節として派遣された人物はだれか、それぞれ答えなさい。
 使節() 人物()
- (3) 資料IIについて、次の問いに答えなさい。
- ① 地図中のAの国を何というか。また、Bで、Aの国と唐の連合軍に日本が敗れた戦いを何というか。
 国名() 戦い()
- ② ①の戦いを率いた人物が行った、645年からの政治改革を何というか。 ()
- ③ ①の戦いを率いた人物が亡くなった直後、即位した天皇はだれか。 ()

4 右の年表を見て、次の問いに答えなさい。⇨教科書P.44～51

(各4点)

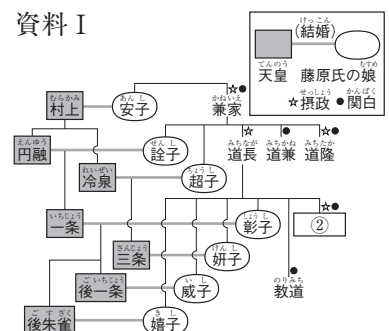
- (1) Aは、現在のどこにつくられた都か。現在の都道府県名を答えなさい。 ()
- (2) Bには開墾を奨励した法令があてはまる。この法令の名称を答えなさい。 ()
- (3) Cのころからしだいにさかんになった文化の作品として、あてはまらないものを次から1つ選び、記号で答えなさい。 ()

年代	できごと
710	平城京に都が移される…………… A
743	□ B □が出来る
794	平安京に都が移される
894	遣唐使が停止される…………… C
1016	藤原道長が□ D □となる
1053	□ E □が建てられる

- ア 『源氏物語』 イ 『枕草子』
 ウ 『万葉集』 エ 『古今和歌集』

- (4) □ D □にあてはまる語句を答えなさい。 ()
- (5) 次の文は、藤原氏が権力を握ることができた理由について述べたものである。文中の () にあてはまる内容を、資料Iを参考にしして答えなさい。

藤原氏は(), 生まれた子を天皇に即位させて、政治の実権を握った。
 ()



- (6) 右の資料IIは、□ E □にあてはまる建物である。この建物を何というか。
 □ また、この建物を建てた人物名を答えなさい。
 建物() 人物()