

定期テスト対策 Ⅲ 標準編 Ⅲ

単元6 欧米における近代化の進展～
単元9 明治維新(2)

得点

/100点

教科書 P.150~185

実施時間のめやす⇨25分

1 次のA～Cの文を読んで、あとの問いに答えなさい。⇨教科書P.150～159 (各4点)

- A 17世紀末以降、イギリスやフランスで様々な啓蒙思想^{けいもう}が広がり、アメリカなどへも影響がおよんだ。
B 18世紀後半、イギリスにおいて、世界で初めての産業革命がおこった。
C 18世紀から19世紀にかけて、ロシアやドイツが国力を高めた。

- (1) Aについて、1688年に名誉革命^{めいよ}がおこった国を次から選び、記号で答えなさい。 ()
ア イギリス イ アメリカ ウ フランス エ ドイツ
- (2) Bについて、産業革命のころの社会の様子として誤っているものを次から1つ選び、記号で答えなさい。 ()
ア 鉄道が開通し、輸送量が増加した。
イ 製鉄・造船などの産業が発達した。
ウ 都市では人口が減少した。
エ 資本家が労働者を雇って賃金を支払うしくみが広まった。
- (3) Cについて、次の問いに答えなさい。
□① 19世紀後半のロシアについて述べた次の文中の□にあてはまる語句を答えなさい。

ロシアは、不凍港^{ふとうこう}などを求めて、黒海・中央アジア・中国東北部へ進出した。これを□政策という。

()

- ② ドイツの統一を成しとげたプロイセンの宰相^{さいしやう}を、次から選び、記号で答えなさい。 ()
ア ビスマルク イ ナポレオン ウ リンカン エ クロムウェル

2 右の年表を見て、次の問いに答えなさい。⇨教科書P.160～167 (各4点)

- (1) Aについて、このころの清^{しん}からイギリスへの輸出品を次から選び、記号で答えなさい。

- ア 綿織物 イ 茶 ()
ウ 砂糖 エ 香辛料

年代	できごと
1840	アヘン戦争がおこる……………A
1858	日米修好通商条約が結ばれる……B
1866	薩長同盟が結ばれる……………C
1867	大政奉還が行われる……………D

- (2) Bの条約で開かれた5つの港にあてはまらない場所を右の地図中のア～カから1つ選び、記号で答えなさい。

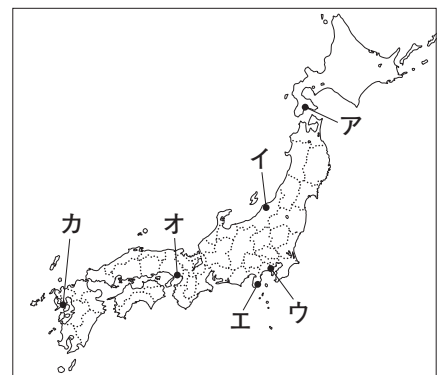
()

- (3) Cの同盟^{ちやうかい}を仲介した人物を次から選び、記号で答えなさい。

- ア 西郷隆盛^{さいごうたかもり} イ 木戸孝允^{きとたかよし} ()
ウ 坂本龍馬^{さかもとりやうま} エ 勝海舟^{かつかいしゆう}

- (4) Dについて、次の問いに答えなさい。

- ① 大政奉還を行った人物の名を答えなさい。()
□② 大政奉還のあと朝廷が行った、幕府を廃止して、天皇中心の政治を行うことの宣言を何というか。()



3 右の年表を見て、次の問いに答えなさい。⇨教科書P.168～173 (各4点)

□(1) A にあてはまる、明治天皇が神に誓う形で出された政治方針を何というか。 ()

(2) Bについて、次の問いに答えなさい。

□① 次のア～ウの政策が行われた年を年代の古い順に並べ、記号で答えなさい。 (→ →)

ア 地方に府や県を置いて、政府から府知事・県令を派遣した。

イ 地価を定めて、土地の所有者に税を現金で納めさせた。

ウ 藩主から土地(版)と人民(籍)を政府へ返上させた。

□② 明治維新の一環でつくられた富岡製糸場があった都道府県を次から選び、記号で答えなさい。

ア 山梨県 イ 富山県 ウ 群馬県 エ 栃木県 ()

□③ 1872年に日本で初めて鉄道が開通した2駅の組み合わせとして正しいものを次から選び、記号で答えなさい。 ()

ア 大阪・神戸 イ 新橋・横浜 ウ 銀座・浅草 エ 京都・大阪

□④ 満20歳になった男子が兵役につくことを義務づけた、1873年に出された命令を何というか。 ()

□(3) Cについて、このころ「学問のすゝめ」で「天は人の上に人をつくらず…」と説いた人物を次から選び、記号で答えなさい。 ()

ア 福沢諭吉 イ 中江兆民 ウ 渋沢栄一 エ 大久保利通

4 次の文を読んで、あとの問いに答えなさい。⇨教科書P.176～185 (各4点)

I 1871年、不平等条約改正の交渉のため、^a欧米に使節団が送られた。

II 近代的な立憲制国家をめざす^b自由民権運動は、全国各地に広がり、憲法草案が民間でつくられるようになった。国会の開設が1890年になることが決まると、 X が自由党、 Y が立憲改進黨を結成した。

III ^c内閣制度の創設や^d大日本帝国憲法の発布を経て、^e帝国議会が設置された。

□(1) 下線部^aの全権大使となった人物の名を答えなさい。 ()

□(2) 下線部^aの使節団が送られた年に、日本と清の間で、双方に領事裁判権を認めた条約が結ばれた。この条約を何というか。 ()

□(3) 下線部^bの運動が始まるきっかけとなった、1874年に政府に提出されたものを何というか。 ()

□(4) X・Yにあてはまる人物をそれぞれ答えなさい。
□ X() Y()

□(5) 下線部^cについて、初代内閣総理大臣に就任した人物はだれか。 ()

□(6) 下線部^dについて、右の史料は、大日本帝国憲法の一部を示したものである。 A・Bにそれぞれあてはまる語句を答えなさい。 A() B()

第11条 天皇ハ^{とうすい} Aヲ統帥ス
第29条 日本^{おおい} Bハ法律ノ範囲内ニ於テ
言論著作印行集会及結社ノ自由ヲ有ス

□(7) 下線部^eについて、帝国議会を構成していた2つの院の名称を答えなさい。
□ () ()

定期テスト対策 Ⅲ 応用編 Ⅲ

単元6 欧米における近代化の進展～
単元9 明治維新(2)

得点

/100点

教科書 P.150~185

実施時間のめやす⇒30分

1 右の年表を見て、次の問いに答えなさい。⇨教科書P.150~159 (各5点)

□(1) Aの革命のとき、議会の権限などを明記した法律が出された。これを何というか。

年代	できごと
1688	イギリスで名誉革命がおこる……………A
1789	フランス革命がおこる……………B
1804	フランスで□Xが皇帝になる
1825	イギリスで蒸気機関車が走り始める…C
1861	アメリカで南北戦争がおこる……………D

()

□(2) Bの革命のときなどにできた、多数の人々の意思によって政治が行われる政治体制のことを何というか。

()

□(3) □Xにあてはまる人物が行ったこととして正しいものを次から選び、記号で答えなさい。 ()

- ア ヨーロッパのほとんどを支配した。
- イ ロシアへの遠征に成功して皇帝となった。
- ウ 人権宣言を発表した。
- エ ウィーン会議を開き、革命前の体制を復活させた。

□(4) Cなどに代表される、技術の進歩によって経済のしくみが変わっていったことを、何というか。 ()

□(5) Dについて、アメリカ北部と南部が対立した理由は何か、奴隷制に着目して、簡単に説明しなさい。 ()

2 次のA～Cの文を読んで、あとの問いに答えなさい。⇨教科書P.160~167 (各5点)

- A イギリスは、1840年、アヘン戦争をおこし、清を破った。
- B 1853年、ペリーが浦賀に来航し、日本に開国を求めた。
- C 開国後、日本の政治や経済は大きく混乱し、□がさかんになった。

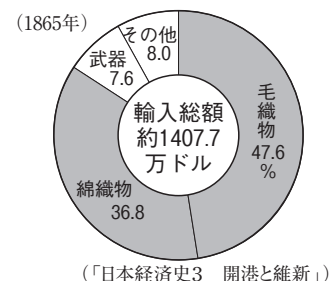
□(1) Aについて、アヘン戦争の講和条約である南京条約とその翌年に結ばれた条約の内容として誤っているものを次から1つ選び、記号で答えなさい。 ()

- ア 清のおもな港を外国人に開いた。
- イ 香港をイギリスに譲った。
- ウ 清の関税自主権が認められた。
- エ イギリスが領事裁判権を持った。

(2) Bについて、次の問いに答えなさい。

□① 1854年に江戸幕府がペリーと結んだ条約を何というか。 ()

□② 右のグラフは、このあと外国と貿易を行うようになった日本の1865年の輸入品を示したものである。このように、□の製品がたくさん輸入されるようになったことによる経済への影響を、簡単に説明しなさい。



()

(3) Cについて、次の問いに答えなさい。

□① □にあてはまる、外国の勢力を排除しようとする思想と天皇を尊ぶ思想が結びついておきた運動を何というか。 ()

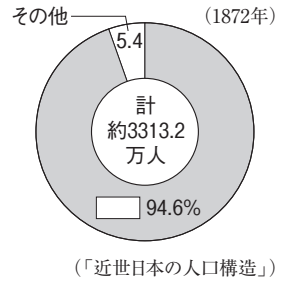
□② 1867年に将軍が政権を朝廷に返上したことを何というか。 ()

3 次の文章を読んで、あとの問いに答えなさい。⇨教科書P.168～173

(各5点)

幕末から明治時代にかけておきた政治改革と社会の変化を(a)という。 ^{はんせきほうかん} ^{はいはんちけん} 版籍奉還や廃藩置県を経て ^{しよくさんこうぎょう} 殖産興業が進められた。また、 ^{ぶんめい} 文明開化が^{おこ}り、人々の生活は大きく変わった。

- (1) (a)にあてはまる語句を答えなさい。 ()
- (2) 下線部^bの版籍奉還で行われたのはどのようなことか、簡単に説明しなさい。
()
- (3) 下線部^cについて、明治時代初期の身分別人口構成を表した右のグラフ中の にあてはまる身分を答えなさい。 ()
- (4) 下線部^dについて、1872年に群馬県につくられた、欧米の進んだ技術を取り入れた官営模範工場を何というか。 ()
- (5) 下線部^eによって人々の生活はどのように変わったか、簡単に説明しなさい。
()



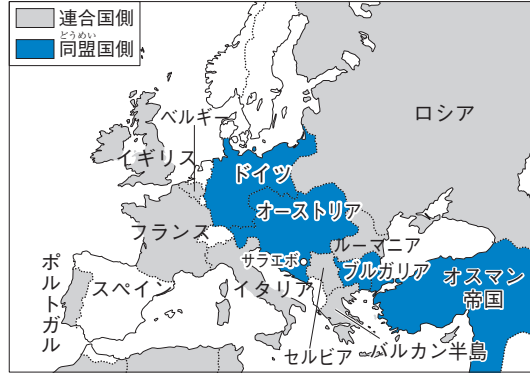
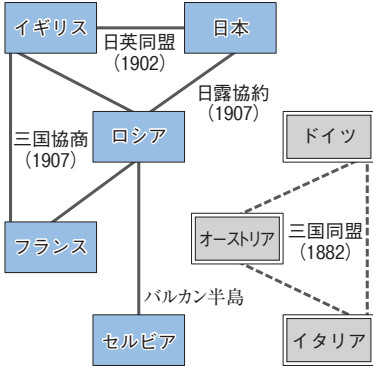
4 右の年表を見て、次の問いに答えなさい。⇨教科書P.176～185

((5)・(6)各3点、他各4点)

- (1) Aについて、岩倉使節団に参加していなかった人物を次から1人選び、記号で答えなさい。 ()
- ア ^{いとうひろぶみ} 伊藤博文 イ ^{さいごうたかもり} 西郷隆盛
ウ ^{つだうめこ} 津田梅子 エ ^{きどたかよし} 木戸孝允
- (2) Bの建白書の提出がきっかけで始まった自由民権運動が目指したのはどのようなことか。「議会」の語句を用いて、簡単に説明しなさい。

年代	できごと
1871	岩倉使節団を欧米に派遣する……………A
1874	民撰議院設立の建白書が提出される……………B
1875	<input type="text"/> C が結ばれる
1884	秩父事件がおこる……………D
1889	大日本帝国憲法が公布される……………E
1890	第1回衆議院議員総選挙が行われる……………F

- ()
- (3) ^{からふと} 樺太の領有を相手国に認めるかわりに千島列島を日本が領有することを定めた、 C の条約を日本と結んだ国を次から選び、記号で答えなさい。 ()
- ア ロシア イ 清 ウ 朝鮮 エ アメリカ
- (4) Dのあと、人々の政府に対する要求はどのようになったか。次から選び、記号で答えなさい。 ()
- ア 国会期成同盟が大阪でつくられ、自由民権運動が大きく盛り上がった。
イ 各地で武力による士族の反乱が次々とおこった。
ウ 政府の^{だんあつ}弾圧を受けて、自由民権運動が急速におとろえていった。
エ 開拓使の^{かいたくし}施設を安く払い下げようとしたことが国民に伝わり、政府を攻撃する声が高まった。
- (5) Eの大日本帝国憲法について説明した次の文中の X・Y にあてはまる語句をそれぞれ答えなさい。
 「大日本帝国憲法では、天皇が X として統治すると定められ、国民の権利は Y の許す範囲内で認められた。」
- X () Y ()
- (6) Fのとき選挙権を持っていた人の全人口に占める割合はどれくらいだったか。次から選び、記号で答えなさい。 ()
- ア 約1.1% イ 約5.5% ウ 約19.8% エ 約48.7%



- 中国政府は、ドイツが山東省に持っている一切の権益の処分について、日本とドイツとの協定にまかせる。
- 日本の旅順・大連の租借の期限、南満州鉄道の期限を99年延長する。
- 中国政府は、南満州・東部内蒙古における鉱山の採掘権を日本国民にあてる。

▲A 第一次世界大戦前の国際関係

▲B 第一次世界大戦中のヨーロッパ

▲C 二十一か条の要求 (部分要約)

1 第一次世界大戦 (図表のワーク ①～⑩) 教科書 P.208・209

- 列強の動き…三国協商と三国同盟の対立を背景に、緊張状態が続いた。
イギリスが中心 下ドイツが中心
- 第一次世界大戦…バルカン半島は列強の利害と民族の対立から紛争が絶えず、「ヨーロッパの火薬庫」とよばれていた。1914年、オーストリア皇位継承者夫妻がサラエボでセルビア人に暗殺された事件をきっかけに、第一次世界大戦が始まった。日本は日英同盟を理由に連合国側で参戦し、アメリカも1917年に連合国側で参戦。
- 総力戦…機関銃・戦車・毒ガスなどの使用により大きな被害。国民や資源のすべてを動員する総力戦。

2 ロシア革命 (図表のワーク ⑪～⑰) 教科書 P.210・211

- ロシア革命…1917年、戦争や皇帝の専制に対する民衆の不満が爆発。労働者や兵士の代表会議(ソビエト)が各地に広がると皇帝が退位し、レーニンの指導で世界最初の社会主義の政府が成立した(ロシア革命)。
- ソ連の成立…革命政府は、重要な産業を国有化し、農民に土地を分配。ドイツと単独講和を結んで大戦を離脱し、英仏米日などによる干渉戦争(シベリア出兵)に勝ち、1922年、ソビエト社会主義共和国連邦(ソ連)が成立。
- 独裁と計画経済…共産主義の実現をかけた共産党がソ連を指導。スターリンの独裁のもと、1928年からの「五か年計画」で重工業の増強と農業の集団化を強行。一方で批判する人々を弾圧。多くの農民が餓死。

3 国際協調の高まり (図表のワーク ⑱～⑳) 教科書 P.212・213

- パリ講和会議…1918年に連合国が勝利し、翌年、パリ講和会議が開かれ、ベルサイユ条約が結ばれた→ドイツは巨額の賠償金を課され植民地を失った。民族自決の原則に基づき、東ヨーロッパの国々が独立。
各民族には自分たちのことは自分たちで決める権利があるという考え
- 国際連盟…アメリカのウィルソン大統領の提案により、1920年、世界平和と国際協調をうたう国際連盟が発足。本部はジュネーブ。日本は常任理事国となり、新渡戸稲造が事務次長に。アメリカは加盟せず。
- 国際協調…アメリカが国際的な発言力を増し、1921年から翌年にかけてワシントン会議を開催→海軍の軍備制限、太平洋地域の現状維持、中国の独立と領土の保全を確認。日英同盟は解消。
- 民主主義の拡大…女性の選挙権が欧米諸国で実現。ドイツのワイマール憲法は労働者の基本的権利を保障。

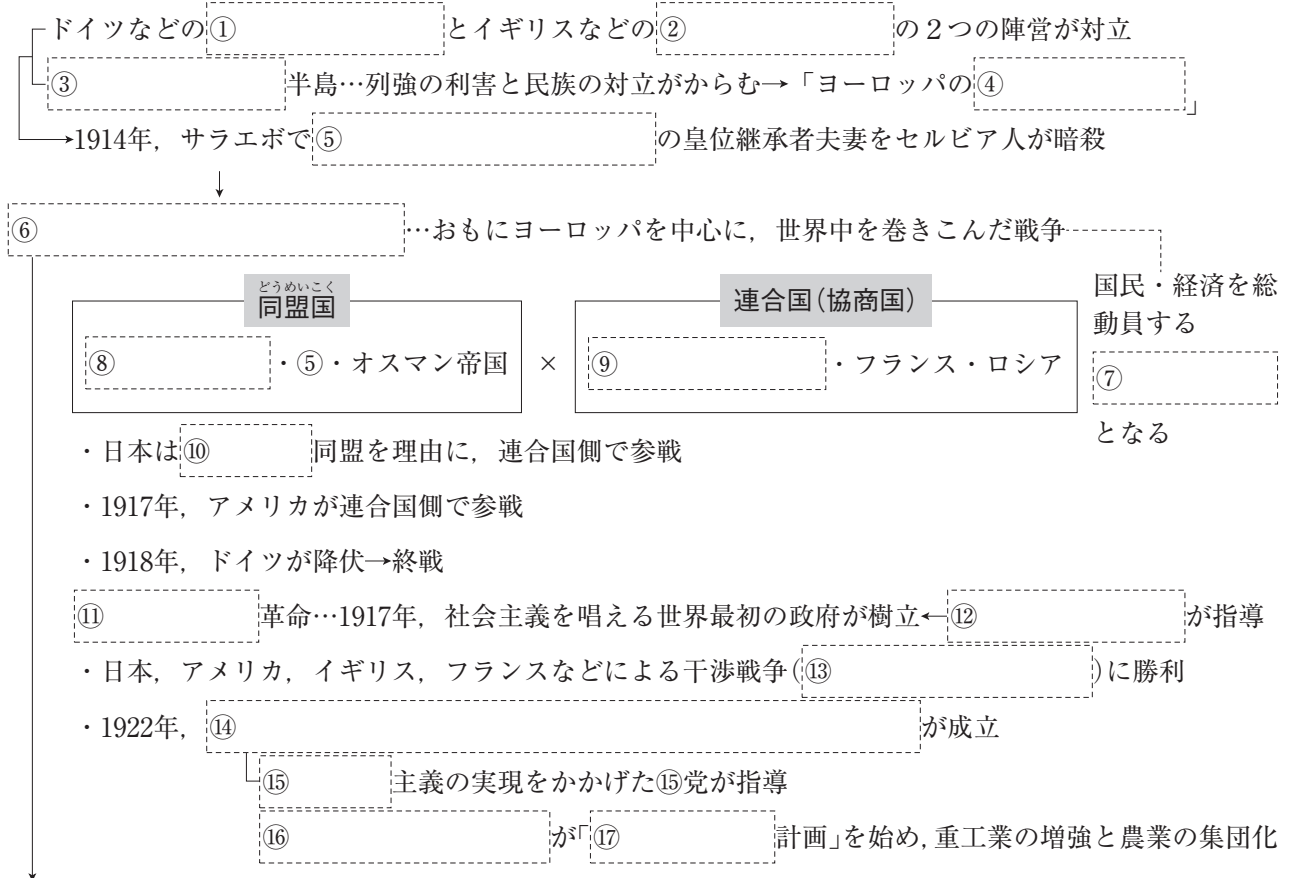
4 アジアの民族運動 (図表のワーク ㉕～㉟) 教科書 P.214・215

- 二十一か条の要求…第一次世界大戦中の1915年、日本が中国に、山東省のドイツ権益の継承などを要求。
- 五・四運動…1919年、北京での学生集会をきっかけに反日・反帝国主義の国民運動へ発展。孫文は中国国民党(国民党)を結成し、中国共産党と協力して国家の統一を目指した。日本は山東省の権益を返還。
- 三・一独立運動…1919年、京城(ソウル)で日本からの独立を宣言する文書が発表されたのをきっかけに、独立運動が朝鮮全土に広がった。朝鮮総督府は武力で鎮圧する一方、政治的な権利を一部認めるなどした。
- インドの民族運動…ガンディーの指導により、イギリスに対する非暴力・不服従の抵抗運動が高まった。大戦後、インドに自治をあたえるという約束を守らなかった

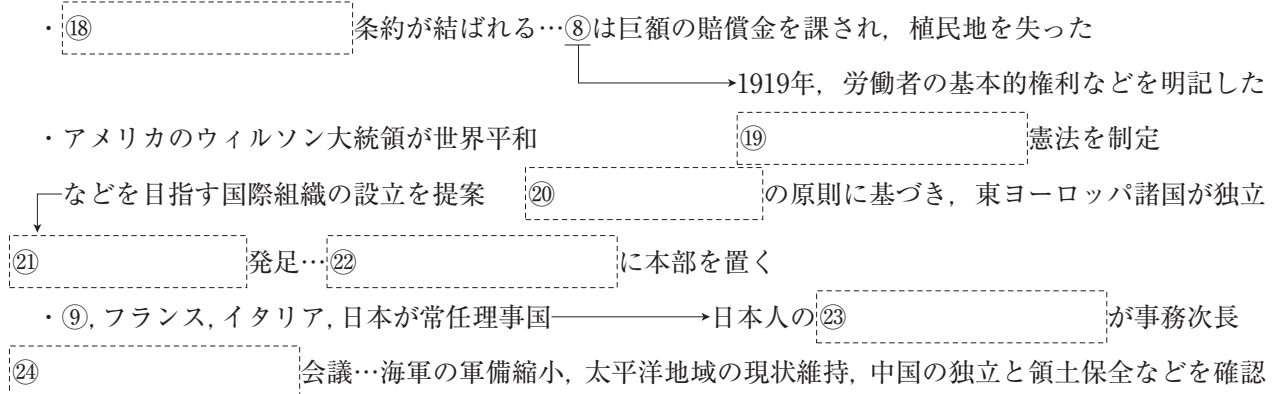
☑ 図表のワーク

学習のまとめを見て
図表を完成させよう

列強の対立



講和会議 …1919年、パリで開かれる



アジアの民族運動 …⑪革命や㉑の動きの影響を受けて、民族の独立を目指す運動が高まった

- ・1915年、日本は中国に㉔を出した→山東省の⑧の権益継承など
- ・中国 1919年、㉕運動…中国国内で反日運動→帝国主義に反対する国民運動へ発展
- ㉖が中国国民党を結成→1921年に結成された中国㉗党と協力
- ・朝鮮 1919年、㉘運動…朝鮮全土に広がった日本からの独立運動
- ㉙府は武力で鎮圧するとともに、政治的な権利を一部認める
- ・インド ㉚の指導により、イギリスに対する非暴力・不服従の抵抗運動

確認問題

→類題演習 P.155

1 第一次世界大戦 次の文中の□にあてはまる語句を答えなさい。

- (1) 20世紀初めのヨーロッパは、ドイツ・オーストリア・イタリアの□①と、イギリス・フランス・ロシアの□②の2つの陣営じんえいに分かれていた。①() ②()
- (2) ヨーロッパの□①半島は、列強の利害と民族の対立が絶えず、「ヨーロッパの□②」とよばれていた。①() ②()
- (3) (1)や(2)を背景に、1914年に始まった戦争を□とよぶ。()
- (4) (3)が始まると、日本は□を理由に連合国側で参戦した。()

2 ロシア革命 次の文中の□にあてはまる語句を答えなさい。

- (1) 1917年、ロシアでは□①の指導のもとに、世界最初の社会主義の政府が成立した。このできごとを□②とよぶ。①() ②()
- (2) (1)②の影響がおよぶことをおそれた日本・アメリカ・イギリス・フランスなどは、□①出兵を行って、革命政府に干渉した。これに勝利した革命政府は1922年、□②を成立させた。①() ②()
- (3) (2)②は□主義の実現を目指し、生産手段の国有化などを進めた。()
- (4) (1)①の後に指導者になったスターリンは、1928年から「□計画」を始めた。()

3 国際協調の高まり 次の問いに答えなさい。

- (1) 1919年に第一次世界大戦の講和会議が開かれた都市はどこか。()
- (2) (1)の講和会議で連合国とドイツとの間に結ばれた講和条約を何というか。()
- (3) 各民族は自分たちのことを決める権利があるという考え方を何というか。()
- (4) 1920年、世界平和と国際協調をうたう国際組織が設立された。この国際組織を何というか。()
- (5) (4)の設立を提案したアメリカの大統領はだれか。()
- (6) アメリカのよびかけで1921年から翌年にかけて開かれ、太平洋地域の現状維持、中国の独立と領土の保全などを決めた会議を何というか。()
- (7) 1919年にドイツで制定され、労働者の基本的権利の保障などを明記した憲法を一般に何というか。()

4 アジアの民族運動 次の文中の□にあてはまる語句を答えなさい。

- (1) 1915年、日本は中国に対して□を示し、さんとう山東省のドイツ権益の継承、りょじゅん旅順・だいらん大連の租借の期限の延長などを求めた。()
- (2) 1919年、中国では北京での学生集会をきっかけに反日運動が高まり、さらにていこく帝国主義に反対する国民運動へと発展した。このできごとを□という。()
- (3) 1919年、けいじょう京城(ソウル)で知識人・学生らが日本からの独立を宣言したことをきっかけに、独立運動が朝鮮全土に広がった。このできごとを□という。()
- (4) インドでは、非暴力・不服従を唱える□の指導により、イギリスに対する抵抗運動が高まった。()

練習問題

1 右の年表を見て、次の問いに答えなさい。

- (1) 年表中のAの戦争の原因となった、オーストリア皇位継承者夫妻の暗殺事件がおこった地域を、次から選んで答えなさい。

パリ ジュネーブ
けいじょう 京城(ソウル) サラエボ

- (2) 年表中のAの戦争において、日本は下線部ア・イのどちらの陣営じんえいに立って参戦したか、記号で答えなさい。

- (3) 年表中のAの戦争は、各国が国民や経済を総動員して戦ったことから、何とよばれたか。

- (4) 年表中のBの□□にあてはまる国名を答えなさい。また、この革命を指導した中心人物の名を答えなさい。

- (5) 年表中のBの結果として成立した、年表中のXにあてはまる国名を答えなさい。

- (6) 年表中のCの□□にあてはまる、重工業の増強と農業の集団化をかかげた計画名を答えなさい。また、この計画を進めた人物の名を答えなさい。

年代	おもなできごと
1882	ア 三国同盟が成立する
1907	イ 三国協商が成立する
1914	第一次世界大戦が始まる……A
1917	□□革命がおこる………B
1918	第一次世界大戦が終わる
1922	□ X が成立する
1928	□ X で「□□計画」が始まる…C

1 学習のまとめ ①・②

(1) _____

(2) _____

(3) _____

(4) 国 _____

人物 _____

(5) _____

(6) _____ 計画

人物 _____

2 右の年表を見て、次の問いに答えなさい。

- (1) 年表中のAは、日本が何という国に対して出したものか。

- (2) 年表中のBの会議で唱えられた、各民族には、自分たちのことは自分たちで決める権利があるとする考え方を何というか。

- (3) 年表中のBの会議で、敗戦国として講和条約を結んだドイツが同じ年に定めた、労働者の基本的権利を保障した世界初の憲法の名を答えなさい。

- (4) 年表中のCは朝鮮半島で、Dは中国でおこった運動である。C・Dの□□にあてはまる語句をそれぞれ答えなさい。

- (5) 年表中のDをきっかけに、中国国民党(国民党)を結成した人物を、次から選び、記号で答えなさい。

ア えんせいがい 袁世凱 イ りせいけい 李成桂 ウ そんぶん 孫文 エ あんじゅうこん 安重根
ユアンシーカイ イソンゲ スンウエン アンジュンゴン

- (6) 年表中のEについて、国際連盟の設立を提案した人物を、次から選び、記号で答えなさい。

ア リンカン イ ウィルソン ウ ワシントン エ ルソー

- (7) 年表中のFの会議は、アメリカのよびかけで開かれ、海軍の軍備制限などを定めた。□□にあてはまる語句を答えなさい。

2 学習のまとめ ③・④

(1) _____

(2) _____

(3) _____

(4) C _____ 独立運動

D _____ 運動

(5) _____

(6) _____

(7) _____ 会議

Key プラス

1 次の文を読んで、あとの問いに答えなさい。

ヨーロッパでは、①とオーストリアが同盟関係にあり、これに対抗して、②が接近し、特に③バルカン半島で対立が激化していた。1914年、バルカン半島の都市でオーストリア皇位継承者夫妻が暗殺された事件をきっかけに、第一次世界大戦が始まった。日本は②との同盟を理由に連合国側で参戦し、1917年には③も連合国側で参戦した。④1918年には①が降伏して、大戦が終わった。翌年、⑤講和会議が開かれ、①に巨額の賠償金などを義務づける⑥講和条約が結ばれた。1920年には、③の⑦大統領の提案により、⑧世界平和と国際協調を目指す国際組織が設立された。日本は、フランス・②・④とともに常任理事国となった。

- (1) 文中の①～④にあてはまる国名をそれぞれ答えなさい。
- (2) 下線部①・②に示された陣営をそれぞれ何というか。
- (3) 下線部③のロシアが支援していた民族を次から選び、記号で答えなさい。
ア ゲルマン民族 イ スラブ民族 ウ アラブ民族 エ ラテン民族
- (4) 下線部④は各国の対立が高まったことから、何とよばれていたか。
- (5) 下線部⑤の年から始まった、ロシアへの干渉戦争を何というか。
- (6) 下線部⑥が開かれた都市を次から選び、記号で答えなさい。
ア ベルリン イ ロンドン ウ ジュネーブ エ パリ
- (7) 下線部⑦の条約名を答えなさい。
- (8) 下線部⑧の人物名、下線部⑨の組織名をそれぞれ答えなさい。

2 次の問いに答えなさい。

- (1) 右の史料は、中国に対して、日本が見つけた要求である。これについて、次の問いに答えなさい。

— 中国政府は、①が②に持っている一切の権益の処分について、日本と③との協定にまかせる。
 — 日本りよじゆんのだいいれん旅順・大連の租借の期限、まんしゅう南満州鉄道の期限を99か年延長する。
 — 中国政府は、南満州・東部うちもうち内モンゴルにおける鉱山の採掘権を日本国民にあたえる。

- ① この要求を何というか。
- ② 史料中の①にあてはまる国はどこか。
- ③ 史料中の②にあてはまる地名を次から選び、記号で答えなさい。

ア シャンハイ上海 イ ペキン北京 ウ さんとう山東省 エ りょうとう遼東半島

- (2) アメリカで1921～22年に開かれた会議について、次の問いに答えなさい。
- ① この会議が開かれた都市名を答えなさい。
- ② この会議で確認されたことがらを次から2つ選び、記号で答えなさい。

ア 太平洋地域の現状維持 イ インドシナ半島の民族自決
ウ 中国の独立と領土の保全 エ ワイマール憲法の制定

- (3) 第一次世界大戦後のインドで、非暴力・不服従の抵抗運動が高まった理由を、「イギリス」の語句を使って簡単に説明しなさい。

1の答え

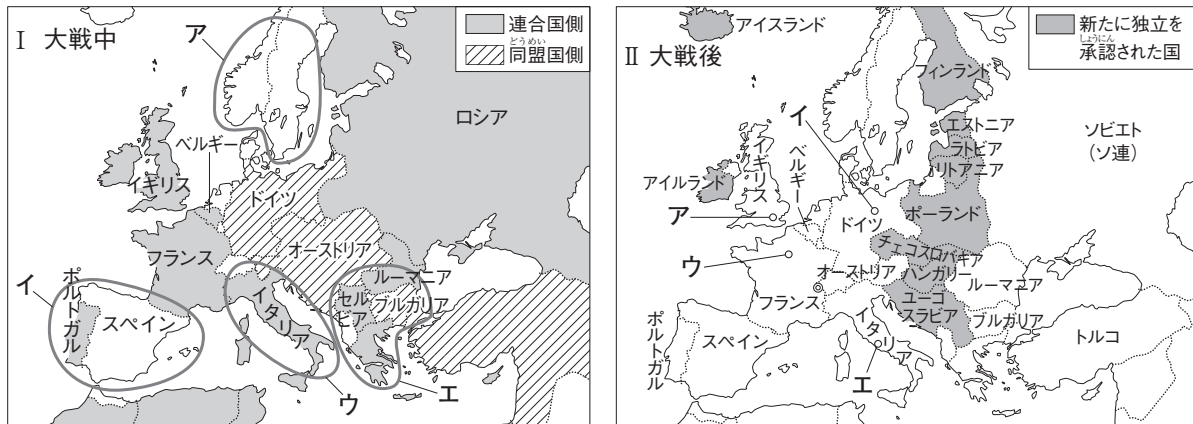
- (1) ① _____
- ② _____
- ③ _____
- ④ _____
- (2) ① _____
- ② _____
- (3) _____
- (4) _____
- (5) _____
- (6) _____
- (7) _____
- (8) ① _____
- ② _____
- ③ _____
- ④ _____
- ⑤ _____
- ⑥ _____
- ⑦ _____
- ⑧ _____

2の答え

- (1) ① _____
- ② _____
- ③ _____
- (2) ① _____
- ② _____
- (3) _____

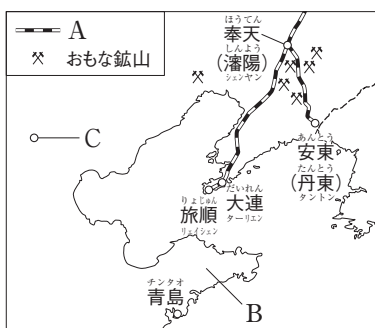
ここ得点アップ!

1 次の2つの地図は、第一次世界大戦中のヨーロッパと大戦後のヨーロッパを表している。これらの地図を見て、あとの問いに答えなさい。



- (1) 「ヨーロッパの火薬庫」とよばれ、第一次世界大戦のきっかけとなった事件がおこった半島を、地図Ⅰ中のア～エから選び、記号と半島名を答えなさい。 □() □()
- (2) 第一次世界大戦のきっかけとなった事件とは、どのような事件か。「セルビア人」「サラエボ」の語句を使って、簡単に説明しなさい。
□()
- (3) それまでの戦争とは異なる第一次世界大戦の特色を、次の語句を使って、簡単に説明しなさい。「新兵器」「被害」「総力戦」
□()
- (4) 第一次世界大戦の講和会議が開かれた都市を、地図Ⅱ中のア～エから選び、記号で答えなさい。 □()
- (5) 講和会議では、どのようなことが承認されたか。地図Ⅰ・Ⅱを参考にして、簡単に説明しなさい。
□()
- (6) 地図ⅠからⅡにかけて、「新たに独立を承認された国」以外で国名が変わっている国が1つある。この国で国名が変わるきっかけとなった、第一次世界大戦中のできごととは何か。 □()
- (7) ウィルソン大統領の提案に基づいて、地図Ⅱ中の○に本部を置く国際連盟が設立された。○の都市名を答えなさい。 □()

2 中国に関する左の地図を見て、次の問いに答えなさい。



- (1) 1915年、日本は地図中のAの鉄道の期限延長、Bの半島を含む省の権益などの要求を中国に示した。この要求を何というか。 □()
- (2) 次の文中の①・②にあてはまる語句をそれぞれ答えなさい。
・(1)の要求のうち、地図中のBの半島を含む省の権益は①条約で日本に認められたが、その数年後に開かれた②で、日本はその権益を中国に返した。 □①() □②()
- (3) 中国では、1919年に地図中のCの都市での学生集会をきっかけに、^{ていこく}帝国主義に反対する運動がおこった。この運動を何というか。 □()
- (4) (3)がおこった年に、^{ちやうせん}朝鮮では独立を目指す運動がおこった。これを何というか。 □()
- (5) (4)の運動を武力でおさえた朝鮮総督府は、日本への同化政策を進める一方で、統治の方針をどのように転換したか。 □()