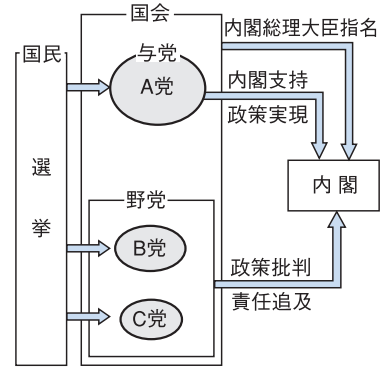


()は全人口に占める割合 (総務省資料)

衆議院	小選挙区比例代表並立制 (比例代表制 全国11のブロックから176人を選出 小選挙区制 全国289の選挙区)
	選挙区制 おもに都道府県単位※147人を選出
参議院	比例代表制 (非拘束名簿式を採用) 全国を1つの単位 98人を選出

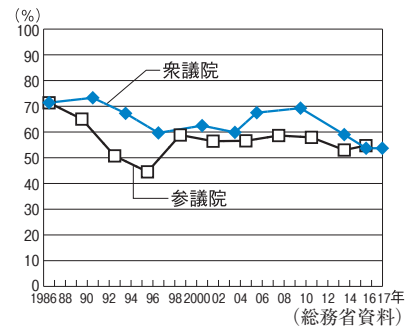
▲B 選挙制度のちがい ※2県を単位とする場合もある。



▲C 政党と国民の関係

1 政治と民主主義 (図表のワーク ①~⑥) 教科書 P.78・79

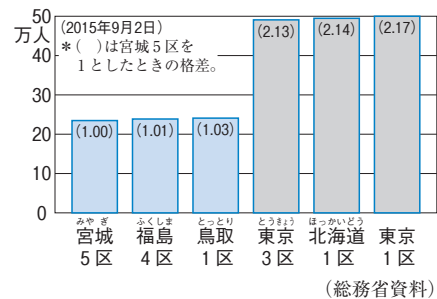
- 政治…意見の対立を公共の課題と考え、調整して社会を成り立たせることを政治という。多くの国で、主権者である国民の代表者が、国民全体のために政治を行う民主主義(民主政治)を採用。個人の尊重を基本とする。
リンカンの言葉「人民の、人民による、人民のための政治」
- 多数決と少数意見の尊重
 - 話し合い方…国民が話し合いに直接参加する直接民主制、選挙で選ばれた代表者が議会で話し合って決める間接民主制(議会制民主主義)。
 - 多数決の原理…話し合っても意見が一致しない場合、一般に多数の意見にしたがう。結論を出す前に少数意見の尊重が必要。



▲D 国政選挙の投票率

2 選挙の意義と仕組み (図表のワーク ⑦~⑭) 教科書 P.80・81

- 政治参加…民主主義の実現に政治参加が不可欠。中でも選挙は重要。
公職選挙法で方法などが定められている
- 選挙の原則…満18歳以上の国民が選挙権を持つ普通選挙、1人1票の平等選挙、代表を直接選ぶ直接選挙、無記名で投票する秘密選挙。
- 日本の選挙制度…1つの選挙区で代表を1人選ぶ小選挙区制、得票に応じて政党に議席を配分する比例代表制。過去には1つの選挙区で代表を2人以上選ぶ大選挙区制を採用。衆議院議員は小選挙区制と比例代表制を組み合わせた小選挙区比例代表並立制。



(総務省資料) 衆議院議員選挙・小選挙区の議員1人あたりの有権者数。

3 政党の役割/マスメディアと世論 (図表のワーク ⑮~⑳) 教科書 P.82~85

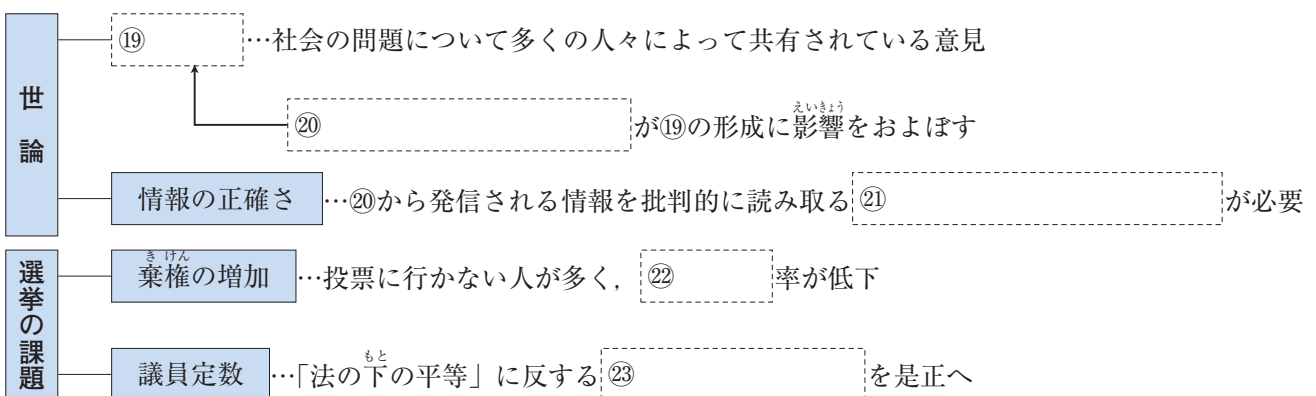
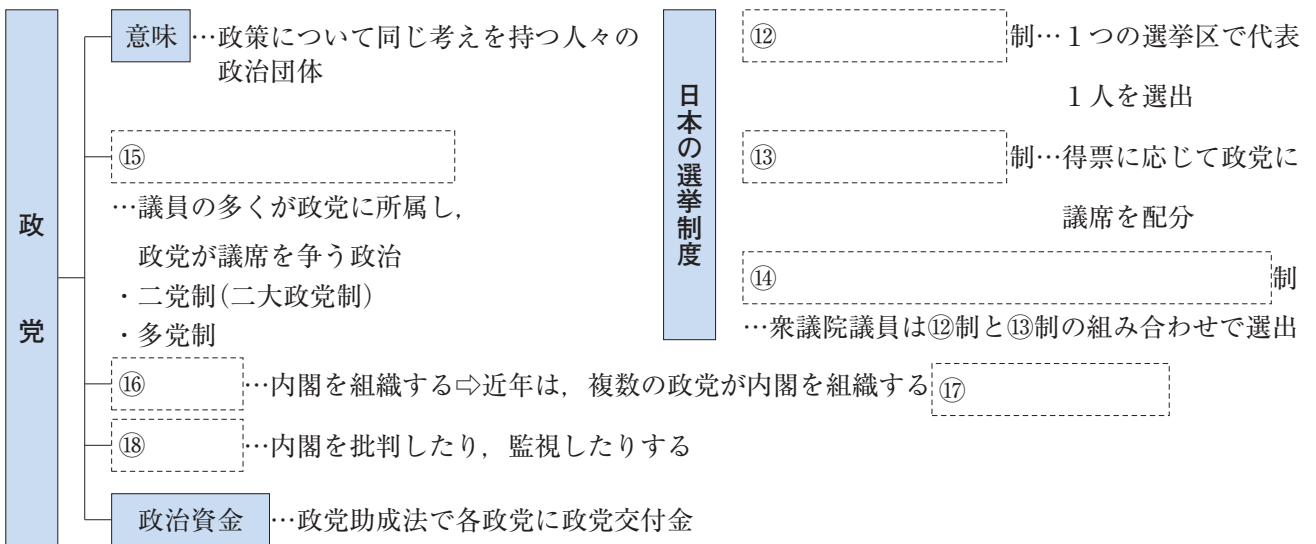
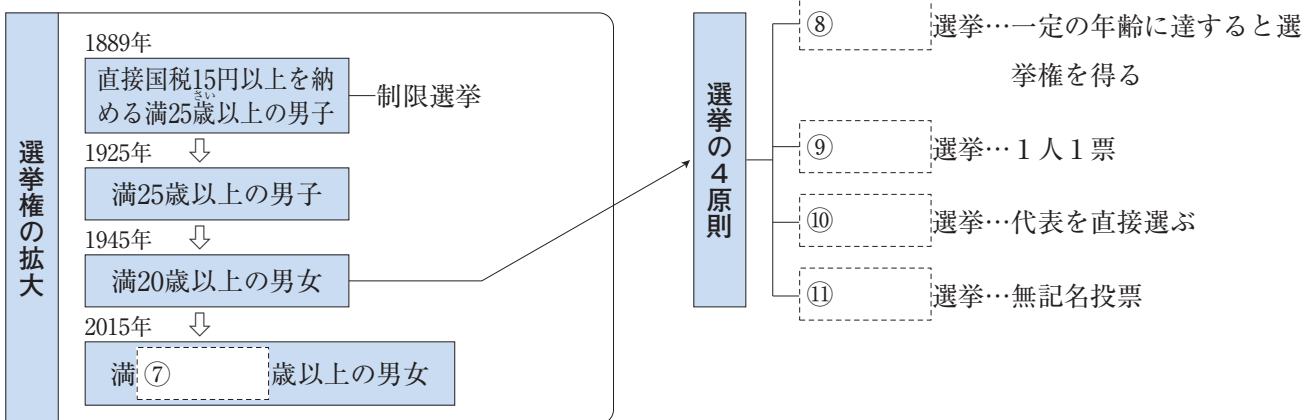
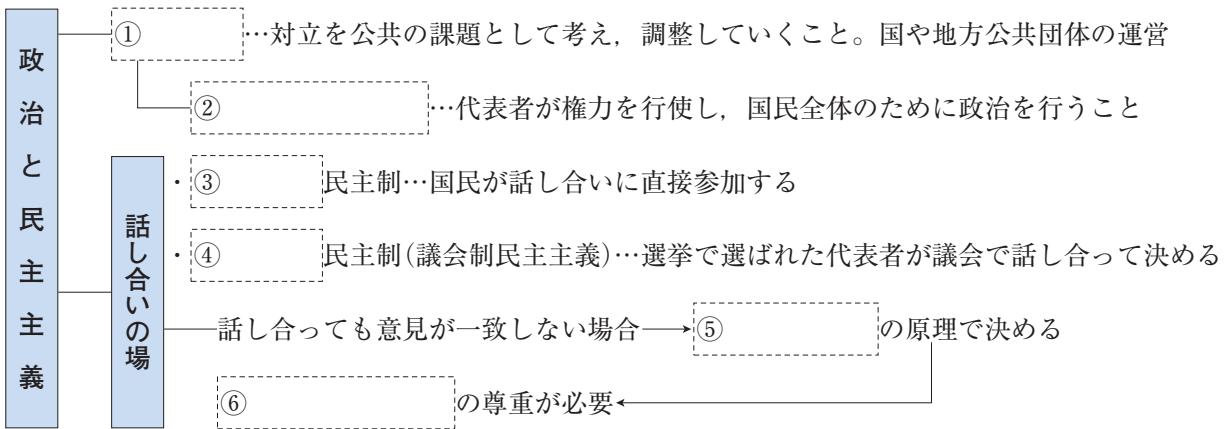
- 政党…政策について同じ考えを持つ人々の団体。
- 政党政治…議員の多くが政党に所属し、政党が議席を争う政治。内閣を組織する政党を与党、それ以外の政党を野党という。複数の政党が内閣を組織する場合は連立政権(連立内閣)。
- 日本の政党政治…1955年以来、自由民主党(自民党)が長期にわたり単独で政権を担当。1990年代以降は様々な連立政権。選挙では各政党が政権公約を発表。
- 世論…社会の問題について、多くの人々が共有している意見。人々はマスメディアを通して考えをまとめる。報道(表現)の自由、十分な議論(熟議)が大切。
- メディアリテラシー…マスメディアやインターネットから発信される情報を批判的に読み取る力。
2013年から有権者はSNSなどを、候補者や政党は電子メールなどを使った選挙運動が可能になった

4 選挙の課題と私たちの政治参加 (図表のワーク ㉒・㉓) 教科書 P.86・87

- 選挙の課題…棄権の増加により投票率が低下。「法の下の平等」に反する一票の格差は是正へ。
期日前投票制度などの取り組みを整備
- 政治参加…利益団体(圧力団体)、住民運動への参加。情報公開制度の活用。
選挙区の議員1人あたりの人口の不均衡

☑ 図表のワーク

学習のまとめを見て
図表を完成させよう



確認問題

→類題演習 P.170

① 政治と民主主義 次の文中の□にあてはまる語句を答えなさい。

- (1) 意見の対立を公共の課題と考え、調整して社会を成り立たせることを□という。()
- (2) 多くの国で、主権者である国民が、国民全体のために政治を行う□を採用している。()
- (3) 国民が話し合いに直接参加する方法を□①、選挙で選ばれた代表者が議会で話し合っ
て決める方法を□②という。①() ②()
- (4) 話し合っても意見が一致しない場合、一般に多数の意見に従う□①の原理が用いられる。その結論を出
す前には、□②の尊重が必要である。①() ②()

② 選挙の意義と仕組み 次の問いに答えなさい。

- (1) 日本の選挙の原則のうち、満18歳以上のすべての国民が選挙権を持つことを何というか。()
- (2) 日本の選挙の原則のうち、1人1票の投票を行うことを何というか。()
- (3) 日本の選挙の原則のうち、代表者を直接選ぶことを何というか。()
- (4) 日本の選挙の原則のうち、無記名で投票することを何というか。()
- (5) 1つの選挙区で代表を1人選ぶ選挙制度を何というか。()
- (6) 得票に応じて政党に議席を配分する選挙制度を何というか。()
- (7) 衆議院議員総選挙に取り入れられている、(5)・(6)を組み合わせた選挙制度を何というか。()

③ 政党の役割／マスメディアと世論 次の文中の〔 〕から最も適当な語句を選んで答えなさい。

- (1) 議員の多くが政党に所属し、政党が議席を争う政治を〔政党政治 立憲主義〕という。()
- (2) 内閣を組織する政党を①〔野党 与党〕、それ以外の政党を②〔野党 与党〕という。
①() ②()
- (3) 複数の政党が内閣を組織する場合は〔連立政権 間接民主制〕が組織される。()
- (4) 選挙の際は、各政党が政治で実現したい理念などを〔世論 政権公約〕として発表する。()
- (5) 社会の問題について、多くの人々が共有している意見を〔世論 政権公約〕という。()
- (6) 人々はマスメディアを通して考えをまとめるが、発信される情報を批判的に読み取る〔メディアリテラシー 持続可能性〕を身につける必要がある。()

④ 選挙の課題と私たちの政治参加 次の問いに答えなさい。

- (1) 投票率の低下をまねく、有権者が選挙の投票に行かないことを何というか。()
- (2) 「法の下の平等」に反するとされる、選挙区の議員1人あたりの人口の不均衡を何というか。()
- (3) 経営者団体などが政治参加のためにつくる、立場や得る利益が同じ人々の集まりを何というか。()

練習問題

1 次の文を読んで、あとの問いに答えなさい。

主権者である国民の代表者が権力を行使し、国民全体のために政治を行う仕組みが()である。今日の社会では^①国民全体が直接話し合いに参加して決めるのは不可能であるため、多くの国では、^②国民に選ばれた代表者が議会で話し合って決めている。国民が代表者を選ぶために行われるのが^③選挙である。

- (1) 文中の()にあてはまる語句を答えなさい。
- (2) 下線部^①、^②の方法をそれぞれ何というか。
- (3) 話し合いによって問題を解決できないときは、一般に多数の意見に従うことになる。この原理を何というか。
- (4) (3)の原理では、結論を出す前に、できるだけ[]を尊重する必要がある。
[]にあてはまる語句を答えなさい。
- (5) 下線部^③について、次の問いに答えなさい。
- ① 日本の選挙は、次のA～Dの原則で行われている。A～Dの原則をそれぞれ何というか。
- A…満18歳以上のすべての国民が選挙権を持つ。 B…1人が1票を持つ。
C…選挙する人が議員を直接選ぶ。 D…無記名で投票を行う。
- ② 1つの選挙区から1人の代表を選出する選挙制度を何というか。
- ③ 得票に応じて政党に議席を配分する選挙制度を何というか。

2 次の文を読んで、あとの問いに答えなさい。

議員の多くが政党を中心に活動し、政党が議席を争う政治のことを()という。一般に、^①衆議院議員総選挙で多数を占めた政党が^②内閣を組織する。内閣は、^③様々な問題に対して国民の多くが持っている意見を参考にし、政策を立案したり、政治を行う。国民の意見は^④マスメディアによって形成される。

- (1) 文中の()にあてはまる語句を答えなさい。
- (2) 下線部^①において、選挙区の議員1人あたりの有権者数が多くなると、1票の価値は重くなるか、軽くなるか。
- (3) 下線部^②について、次の問いに答えなさい。
- ① A内閣を組織した政党と、Bそれ以外の政党を、それぞれ何というか。
- ② 複数の政党で内閣を組織する政権を何というか。
- ③ 政権を担当した場合に実施する政策やそのための財源、期限などを、選挙の前に具体的に発表するものを何というか。
- (4) 下線部^③のことを何というか。
- (5) 下線部^④において、マスメディアから発信される情報を批判的に読み取る能力を何というか。

1 学習のまとめ ①・②

- (1) _____
- (2) ① _____
- ② _____
- (3) _____
- (4) _____
- (5) ① A _____
- B _____
- C _____
- D _____
- ② _____
- ③ _____

2 学習のまとめ ③・④

- (1) _____
- (2) _____
- (3) ① A _____
- B _____
- ② _____
- ③ _____
- (4) _____
- (5) _____

Key プラス

1 次の親子の会話を読んで、あとの問いに答えなさい。

娘：もうすぐ^a選挙だけど、おかあさんはだれに投票するか決めた？

母：まだ決めてないわね。今ちょうど、各^①が出している^②を読んで、政策を比べているところ。

娘：どの^①が^③になろうと^④になろうと、私たちのくらはあまり変わらないんじゃないの？

母：^②をちゃんと読んでみると、けっこう政策がちがうのがわかるわよ。でも、実際に政権を取ったら、^⑤をきちんと反映して政治を行ってもらわないと困るけどね。

娘：私にはまだ選挙権はないけれど、^⑥の報道は気になるな。

母：^⑥の報道をもとに自分の意見をまとめるときには、^bメディアリテラシーという力が求められるのよ。

(1) 次の説明を参考にして、文中の^①~^⑥にあてはまる語句を、あとの〔 〕からそれぞれ選んで答えなさい。

- ①は政治について同じ考えを持つ人々の団体。
- ②は政権を獲得した場合に実施する予定の政策などを具体的に示したもの。
- ①のうち③は内閣を組織する。④は内閣の政策を批判したり監視したりする。
- ⑤は国民の多数が持っている意見。
- ⑥は新聞やテレビなど。

〔 野党 与党 政党 ^{せろん}世論 文化 批判
利益団体(圧力団体) 政権公約 マスメディア 〕

(2) 複数の^①が手を結んで組織する政権を何というか。

(3) 下線部^aについて、次の問いに答えなさい。

① 資料1は、衆議院議員の選挙制度を 資料1

示している。資料1中のA・Bにあてはまる選挙制度をそれぞれ答えなさい。

② 資料1中のA・Bのうち、死票が多くなるのはどちらか。

③ 衆議院議員総選挙は、資料1中のAとBの選挙を組み合わせで行われる。この選挙制度を何というか。

④ 資料2は、定数が4議席ある選挙区の 資料2 Aの選挙の結果

投票結果を表したものである。X党、Y党、Z党に配分される議席数をそれぞれ答えなさい。ただし、議席はドント式によって配分されるものとする。

⑤ 多くの人が選挙に行かないと、どのような問題が起こるか。「一部の人」の語句を使って簡潔に説明しなさい。

(4) 下線部^bとはどのような能力か。簡潔に説明しなさい。

1の答え

(1) ① -----

② -----

③ -----

④ -----

⑤ -----

⑥ -----

(2) -----

(3) ① A -----

B -----

② -----

③ -----

④ X ----- 議席

Y ----- 議席

Z ----- 議席

⑤ -----

(4) -----


ここで得点アップ!

1 次の日本国憲法の条文を読んで、あとの問いに答えなさい。

第43条 ①^㉑両議院は、全国民を代表する選挙された議員でこれを組織する。

第44条 両議院の議員及びその^{およ}⑥^{また}選挙人の資格は、法律でこれを定める。但し、人種、信条、性別、社会的身分、門地、教育、財産又は収入によって差別してはならない。

第47条 選挙区、^㉒③投票の方法その他両議院の議員の選挙に関する事項は、法律でこれを定める。

第66条 ①^㉓④内閣は、法律の定めるところにより、その首長たる内閣総理大臣及びその他の国务大臣でこれを組織する。

- (1) 下線部^㉑の両議院とは、国会の衆議院と参議院を指している。下線部^㉑について、次の問いに答えなさい。
- ① 下線部^㉑のような形で行われる民主政治を何というか。 ()
- ② 3年ごとに議員の半数を改選する制度がとられているのは、衆議院・参議院のどちらか。 ()
- (2) 下線部^㉒の資格は、日本では満何歳以上の国民にあたえられているか。 ()
- (3) 下線部^㉓について、比例代表制とはどのような選挙制度か。簡潔に説明しなさい。
 ()
- (4) 選挙で投票したり、選出されたりする権利は、日本国憲法に定められた基本的人権のうち、何権にあてはまるか。 ()
- (5) 下線部^㉔について、次の問いに答えなさい。
- ① 日本の政党は、政権を獲得し、内閣を組織することを目的として活動している。日本の政党について誤って述べたものを、次から1つ選び、記号で答えなさい。 ()
- ア 日本は、二党制となっている。 イ 政党は、国民の意見を政治に生かす役割をしている。
- ウ 日本は、政党政治が行われている。 エ 内閣の政策を批判・監視する政党を野党とよぶ。
- ② 近年、日本は連立政権による内閣となっている。連立政権とはどのようなことか、簡潔に説明しなさい。
 ()

2 日本の選挙の課題について、次の問いに答えなさい。

	有権者数(万人)	議員定数(人)
A選挙区	100	5
B選挙区	40	4

- (1) 左の資料は、2つの選挙区における有権者数と議員定数を比べたものである。議員1人あたりの有権者数をそれぞれ答えなさい。またこの場合、一票の価値が高い選挙区はどちらだといえるか。
 A () B ()
 選挙区 ()
- (2) 一票の格差は、一票の持つ価値が選挙区によって異なるということであり、憲法が保障する に反する。そのため、しばしば憲法問題として争われている。 にあてはまる語句を答えなさい。
 ()
- (3) 近年、政治に関心のない人や政治への不信感や選挙に対する無力感をい多く人が多くなっており、選挙に行かないで、 する人の増加が問題になっている。 にあてはまる語句を答えなさい。
 ()
- (4) 政治参加の1つとして、自分と立場や得る利益が同じ人々と をつくって議員や政党を応援、説得するというものがある。 にあてはまる語句を答えなさい。
 ()

1 次の文を読んで、あとの問いに答えなさい。⇒教科書P.130～139 (各4点)

私たちは、様々なものを消費しながら暮らしている。私たちが①消費生活を営む単位を(A)といい、収入と支出がある。収入から②消費支出と税金や社会保険料などの非消費支出を差し引いた残りが(B)である。私たちは、収入と支出のバランスをとりながら、かしこい使いみちを決めることが必要である。

□(1) () A・Bにあてはまる語句を、それぞれ答えなさい。

□ A () B ()

(2) 下線部①について、次の①・②は、消費生活上のトラブルから消費者を保護する法律や制度の内容を表している。あてはまる法律や制度の名称を、それぞれ答えなさい。

□① 訪問販売や電話勧誘などで商品を購入した場合に、購入後、一定期間内であれば消費者側から無条件で契約を解除できる。

()

□② 製品の欠陥によって消費者が損害を被ったときの企業の責任について定めている。

()

□(3) 下線部②について、右の表は、1970年と2018年における消費支出の割合を示している。1970年と比べて割合が最も増えた項目と割合が最も減った項目を、それぞれ答えなさい。

1世帯あたりの消費支出の内訳(%)

項目	年	1970	2018
食料費		32.2	24.1
住居費		5.3	5.8
光熱・水道費		4.1	6.9
被服・はき物費		9.3	4.1
保健医療費		2.6	3.8
交通・通信費		5.5	16.3
教育費		2.7	6.1
教養娯楽費		9.2	9.5
その他		29.1	23.4
計		100.0	100.0

[全国の勤労者世帯における各年1か月の平均]
(総務省資料)

割合が最も増えた項目() 割合が最も減った項目()

2 次の文を読んで、あとの問いに答えなさい。⇒教科書P.140～149 (各4点)

私たちは(A)を使って必要な財やサービスと交換することで、消費生活を行っている。財やサービスを生産する企業には、①利益を得ることを目的とする企業と国や地方公共団体が営む公企業があり、前者の代表的なものが②株式会社である。また、資本金や従業員の数によって、大企業と③中小企業に分けられる。現在、多くの企業が④企業の社会的責任を果たすため様々なことに取り組んでいる。

□(1) (A)にあてはまる語句を答えなさい。 ()

□(2) 下線部①の企業を何というか。 ()

□(3) 下線部②について述べた次の文中の() X・Yにあてはまる語句を、それぞれ漢字で答えなさい。

株式会社は、(X)を集めるために株式を発行する。株式を購入した株主は、株主総会に出席して議決をしたり、会社の利益の一部を(Y)として受けとったりすることができる。

X () Y ()

□(4) 下線部③について、独自の先進技術を活用して急成長した企業を何というか。 ()

□(5) 下線部④の事例として不適切なものを、次から1つ選び、記号で答えなさい。 ()

- ア 雇用の確保や働きやすい条件を整えること。 イ 消費者の保護や環境によい商品を開発すること。
- ウ 利潤を追求すること。 エ 地域文化や環境保全活動に貢献すること。

3 右のグラフを見て、次の問いに答えなさい。⇨教科書P.140～149

(各4点)

(1) グラフ中のAについて、次の問いに答えなさい。

① 主に正社員の労働条件について述べた次の文中の

① a・bにあてはまる、適切な漢字1字をそれぞれ答えなさい。

日本は主要先進国に比べて労働時間が a いため、働きながら子育てをすることが難しくなり、 b 子化の原因になっているという見方がある。 ①() ②()

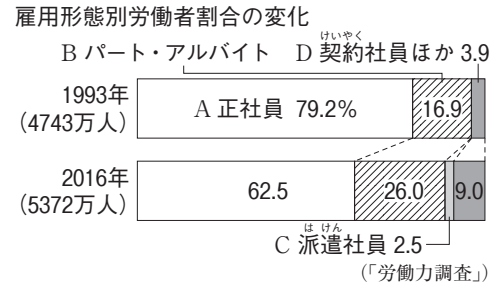
② ①のような問題を解決するため、仕事と個人の生活を両立させることが大切である。下線部を何というか。 ()

③ 労働時間などの労働条件について、最低基準を定めた法律を何というか。 ()

(2) グラフ中のB～Dについて、次の問いに答えなさい。

① B～Dの労働者をまとめて何というか。 ()

② 1993年に比べて、B～Dの労働者の割合が2016年に増えた企業側の理由として、業績に応じて労働者の数を調整することで、 をおさえるようになったことがあげられる。 にあてはまる語句を答えなさい。 ()



4 次の文を読んで、あとの問いに答えなさい。⇨教科書P.150～161

((4)C・D各完答, 各4点)

お金に余裕のある人と不足している人との間で資金を貸し借りすることを a 金融という。金融機関のうち、 b 日本銀行は、政府のお金の出し入れをする「政府の銀行」、一般の銀行に不足する資金を貸し出す「銀行の銀行」、紙幣を発行する「(A)銀行」としての役割を持つ。また、経済全体に流通する通貨量を管理する責任を負う日本の(B)銀行でもある。

(1) () A・Bにあてはまる語句を、それぞれ漢字2字で答えなさい。

A () B ()

(2) 下線部aについて、株式や債券のやりとりなど、金融機関を通さずに行う金融を何というか。

()

(3) 下線部bについて、日本銀行が行う金融政策として、①・② { } のうち、正しいものをそれぞれ選び、記号で答えなさい。 ①() ②()

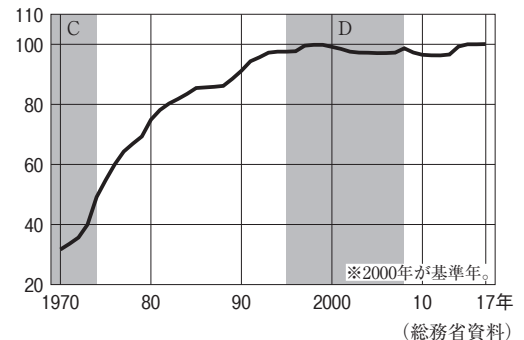
日本銀行は、景気の安定を図るため、不況のときには一般の銀行から国債を① {ア 買う イ 売る} ことにより、一般の銀行がもつ通貨量を② {ア 増やそう イ 減らそう} とする。

(4) 景気は物価の動きと密接に結びついている。右のグラフ中の C・Dの時期について、次の文中のW～Zから正しい語句をそれぞれ選び、記号で答えなさい。

Cの時期には商品のW [ア 需要が供給 イ 供給が需要] を上回り、物価が上がり続けるX [ア デフレーション イ インフレーション] が起こった。Dの時期には商品のY [ア 需要が供給 イ 供給が需要] を下回り、物価が下がり続けるZ [ア デフレーション イ インフレーション] が起こった。

C (W , X) D (Y , Z)

消費者物価指数の推移



定期テスト対策 Ⅲ 応用編 Ⅲ

単元10 消費生活と市場経済～
単元12 市場経済の仕組みと金融

得点

/100点

教科書 P.130~161

実施時間のめやす⇒30分

1 次の文は、ある日の生徒の日記の一部である。これを読んで、あとの問いに答えなさい。⇨教科書P.130~139

((1)完答, (1)・(3)各7点, 他各6点)

今日、ア歯の治療を受けた後、駅までイバスに乗った。バスの乗車賃はICカードで支払った。駅近くの本屋でウ参考書を買ひ、美容院でエ髪を切ってもらった。帰りは歩いて帰った。家の近くの①スーパーマーケットでオパンを買った。②閉店が近かったせいか、売れ残ったパンが安売りされていた。

□(1) 文中の下線部ア～オのうち、サービスの購入にあたるものをすべて選び、記号で答えなさい。

()

(2) 文中の波線部①について、次の問いに答えなさい。

□① スーパーマーケットなど、消費者に直接ものを売る業者を何というか。

()

□② 生産者から商品を仕入れ、①へ販売する業者を何というか。

()

□(3) 文中の波線部②について、パンは売れ残っていたことから、人の求める量に対して、財の量が多い、状態にあったことがわかる。にあてはまる内容を「希少性」の語句を使って答えなさい。

()

2 次の文を読んで、あとの問いに答えなさい。⇨教科書P.140~149

((3)完答, 各4点)

①企業で働く労働者は、②さまざまな法律によって、労働基本権が守られているが、③雇用状況の変化にともない、問題も生じている。また、景気の変動によっても大きな影響を受ける。

(1) 下線部①について、次の問いに答えなさい。

□① 法人企業の中で最も多くの割合を占めている会社の形態を何というか。

()

□② 企業の生産活動について述べた次の文中のX・Yにあてはまる語句を、漢字2字でそれぞれ答えなさい。

Xが生産要素、商品へと形を変え、Yを生み出したくわえられる仕組みを、X主義経済という。

X() Y()

(2) 下線部②について、次の①・②で説明した法律を、あとからそれぞれ選び、記号で答えなさい。

□① 労働組合の結成や加入への使用者の妨害を禁じている。

()

□② 労働時間や休日といった、労働条件の基準を定めている。

()

ア 労働組合法 イ 男女雇用機会均等法 ウ 労働関係調整法 エ 労働基準法

□(3) 下線部③について述べた文として適当なものを、次から2つ選び、記号で答えなさい。

ア 労働組合に加入している人が年々増え、労働条件がよくなっている。

イ 年功序列型にかえて、成果主義に基づく賃金制度を導入する企業が多く見られるようになった。

ウ 近年、非正規労働者を雇う企業が増えていて、正社員に比べて賃金格差が問題になっている。

エ 外国人労働者は一般に日本人労働者より低賃金であり、その雇用は減ってきている。

オ 景気変動にあわせて雇用を調整しやすくするため、終身雇用を採用する企業が増えてきている。

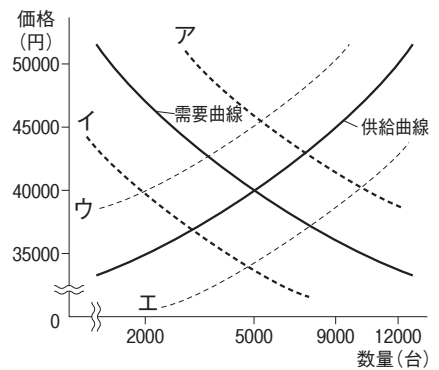
(,)

3 次の文を読んで、あとの問いに答えなさい。⇨教科書P.150~161

(各5点)

農作物だけでなく、工業製品の中にも天候によって価格が変動するものがある。冷夏の年は、生産者がエアコンを売ろうとする量に対し、①消費者が買おうとする量が少なくなるため、価格は安くなる。反対に猛暑の年には、②多くの消費者がエアコンを買おうとする。それに対して生産が追いつかないと、エアコンの価格は高くなる。

- (1) 右のグラフは、気温が平年並みのときの価格が40000円のエアコンの需要と供給の関係について示している。文中の下線部①・②のときの需要曲線または供給曲線の変動を、グラフ中のア～エからそれぞれ選び、記号で答えなさい。 ①() ②()



- (2) 右下の表は、ある商品の市場占有率を示している。これについて、次の文中の□A・Bにあてはまる語句をそれぞれ答えなさい。また、Cから適切な内容を選び、記号で答えなさい。

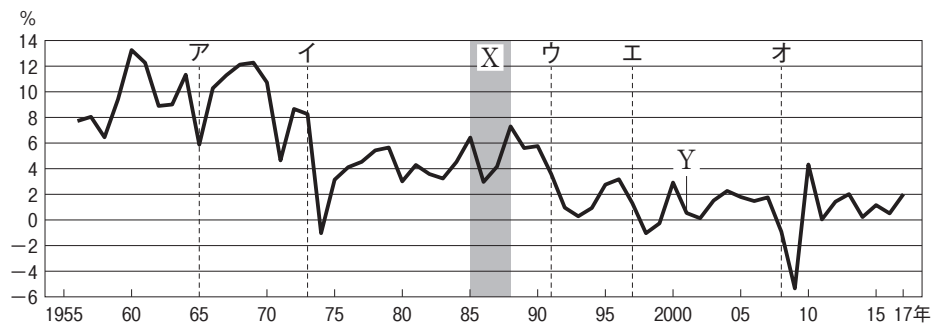
市場の競争が弱まり、消費者が不当に高い価格で購入する状況が生まれた場合、競争をうながすことを目的として定められた□Aに基づいて、

□B委員会による取りしまりを受けることになる。この商品の場合、独占価格または寡占価格^{かせん}はC [ア 形成されている イ 形成されていない] と考えられる。 A() B() C()

順位	企業(占有率)
1位	P社(15%)
2位	D社(10%)
3位	M社(8%)
4位	H社(6%)
5位	F社(4%)

4 経済成長率の推移を示した右のグラフを見て、次の問いに答えなさい。⇨教科書P.150~161 ((2)①完答、各5点)

- (1) ①バブル経済^{ほうかい}が崩壊した時期、②高度経済成長が終わった時期を、グラフ中のア～オからそれぞれ選び、記号で答えなさい。



- ①() ②()

- (2) グラフ中のXの時期には、急速な円高が進んだ。これについて、次の問いに答えなさい。

- ① 円高の状況を示す文として適切なものを、次から2つ選び、記号で答えなさい。

ア 1ドル=220円が1ドル=250円に変化する。

イ 1ドル=220円が1ドル=200円に変化する。

ウ 輸出が中心の日本の企業には不利に働く。

エ 輸入が中心の日本の企業には不利に働く。

(,)

- ② グラフ中のXの時期に、日本の自動車会社にはどのような変化が表れたか。「海外生産」の語句を使って簡単に説明しなさい。

()

- (3) グラフ中のYのころから、日本銀行は一般の銀行が日本銀行に預金しているお金の量を調整することで景気を安定させる政策をとるようになった。不景気のときは、日本銀行は公開市場操作で銀行から国債を買い、その代金として一般銀行が日本銀行に持つ預金を増やす。このような政策を何というか、漢字6字で答えなさい。

()