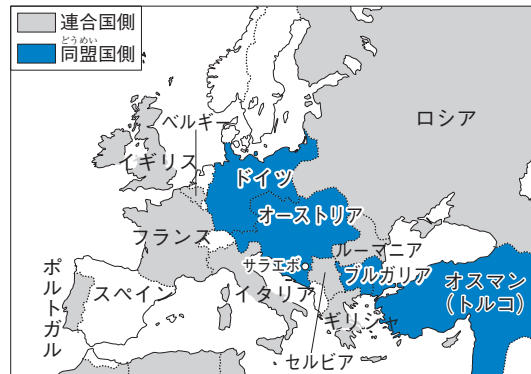
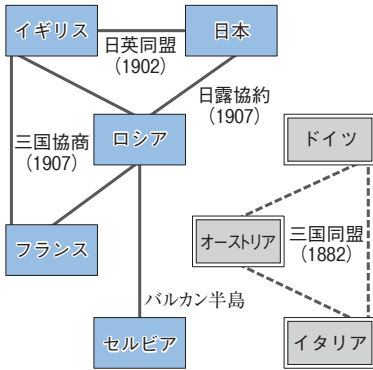




11

第一次世界大戦と日本(1)



- 中国政府は、ドイツが山東省に持っている一切の権益を日本にゆずる。
- 日本の旅順・大連の租借の期限、南満州鉄道の期限を99か年延長する。
- 中国政府は、南満州・東部内蒙古における鉱山の採掘権を日本国民にあたえる。

▲A 第一次世界大戦前の国際関係

▲B 第一次世界大戦中のヨーロッパ

▲C 二十一か条の要求(部分要約)

1 第一次世界大戦(図表①~⑩)

- (1) 列強の動き…三国協商と三国同盟の対立を背景に、「武装した平和」と呼ばれる緊張が続いた。
イギリスが中心 ドイツが中心
- (2) 第一次世界大戦…バルカン半島は列強の利害と民族・宗教の対立から紛争が絶えず、「ヨーロッパの火薬庫」と呼ばれていた。1914年、オーストリア皇太子夫妻がサラエボでセルビア人に暗殺された事件をきっかけに、第一次世界大戦が始まった。日本は日英同盟を理由に連合側で参戦し、アメリカも1917年に連合側で参戦。
協商国
- (3) 総力戦…機関銃・戦車・毒ガスなどの使用により大きな被害。国民や資源の全てを動員する総力戦。

2 ロシア革命(図表⑪~⑰)

- (1) ロシア革命…1917年、戦争や皇帝の専制に対する民衆の不满が爆発。労働者や兵士の代表会議(ソビエト)が各地に広がると皇帝が退位し、レーニンの指導で世界最初の社会主義の政府が成立した(ロシア革命)。
- (2) ソ連の成立…革命政府は、重要な産業を国有化し、農民に土地を分配。ドイツと単独講和を結んで大戦を離脱し、英仏米日などによる干渉戦争(シベリア出兵)に勝ち、1922年、ソビエト社会主義共和国連邦(ソ連)が成立。
銀行や工場など
- (3) 独裁と計画経済…共産主義の実現をかけた共産党がソ連を指導。スターリンの独裁のもと、1928年からの五か年計画で重工業の育成と農業の集団化を強行。
計画経済

3 国際協調の高まり(図表⑱~⑳)

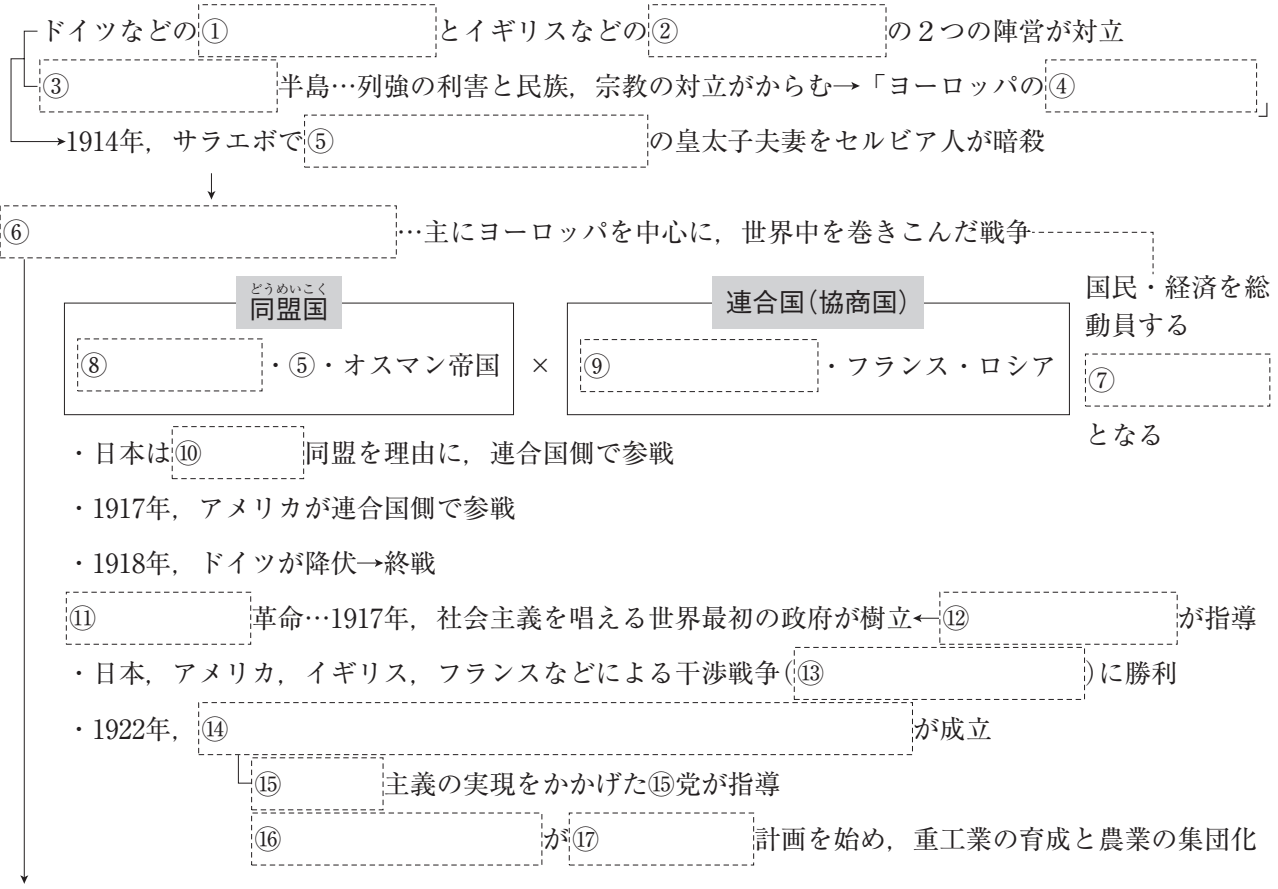
- (1) パリ講和会議…1918年に連合側が勝利し、翌年、パリで講和会議が開かれ、ベルサイユ条約が結ばれた→ドイツは巨額の賠償金を支払い植民地を失った。民族自決の原則に基づき、東ヨーロッパの国々が独立。
各民族には自分たちのことは自分たちで決める権利があるという考え
- (2) 国際連盟…アメリカのウィルソン大統領の提案により、1920年、世界平和と国際協調をうたう国際連盟が発足。本部はジュネーブ。日本は常任理事国となり、新渡戸稲造が事務局長に。アメリカは加盟せず。
にと べいなぞう
- (3) 国際協調…アメリカが国際的な発言力を増し、1921年から翌年にかけてワシントン会議を開催→海軍の軍備制限、太平洋地域の現状維持、中国の独立と領土の保全を確認。米英仏日の四か国条約により日英同盟は解消。
- (4) 大衆の時代…女性の参政権が欧米諸国で実現。ドイツのワイマール憲法は労働者の基本的権利を保護。

4 アジアの民族運動(図表㉕~㉟)

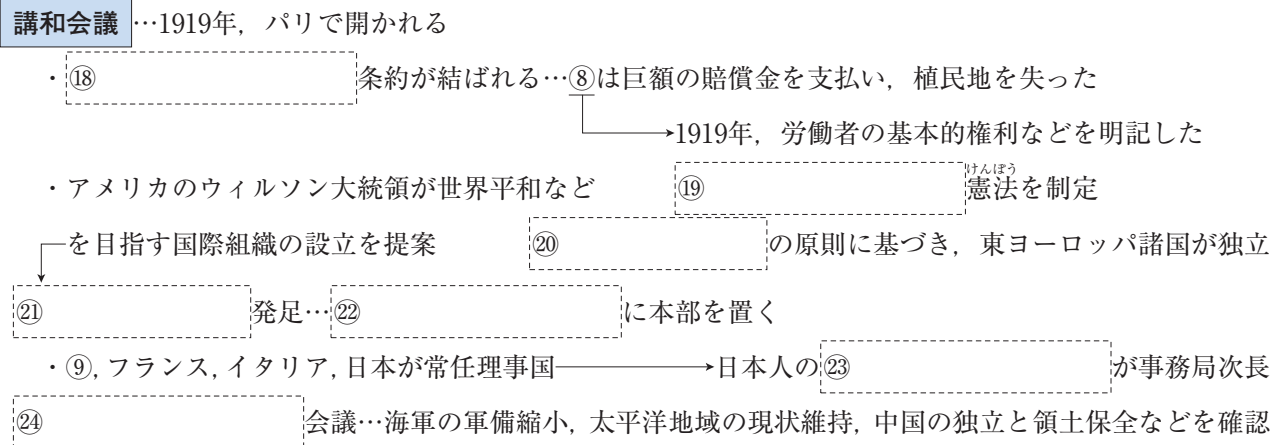
- (1) 二十一か条の要求…第一次世界大戦中の1915年、日本が中国に、山東省のドイツ権益の継承などを要求。
さんとう シャントン
- (2) 五・四運動…1919年、北京での学生集会をきっかけに反日・反帝国主義の国民運動へ発展。孫文は中国国民党を結成し、中国共産党と協力して国家の統一を目指した。日本は山東省の権益を返還。
せんぶん スンワン
- (3) 三・一独立運動…1919年、京城(ソウル)で日本からの独立を宣言する文章が発表されたのをきっかけに、独立運動が朝鮮全土に広がった。朝鮮総督府は武力で鎮圧する一方、政治的な権利を一部認めるなどした。
けいじょう ちんあつ
- (4) インドの民族運動…ガンディーの指導により、非暴力・不服従の抵抗運動が高まった。

図表のワーク

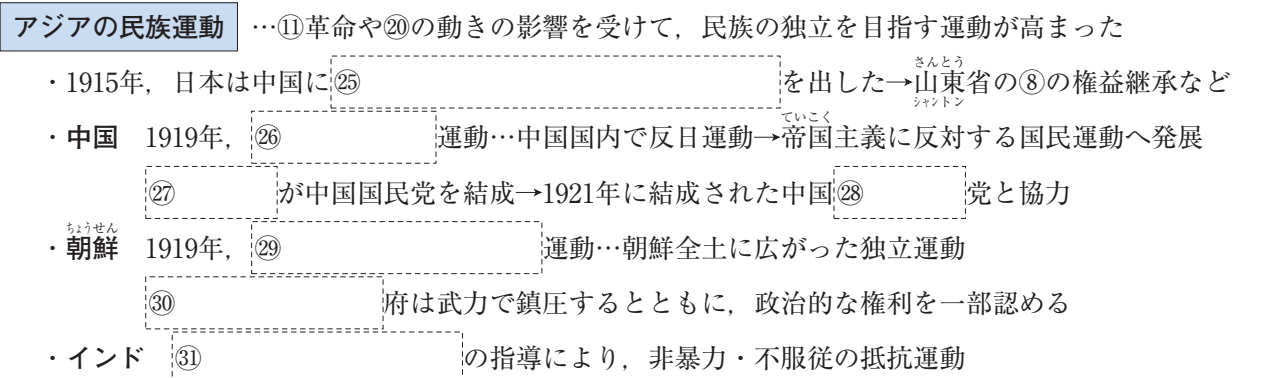
列強の対立



講和会議



アジアの民族運動



確 認 問 題

1 第一次世界大戦 次の文中の□にあてはまる語句を答えなさい。

- (1) 20世紀初めのヨーロッパは、ドイツ・オーストリア・イタリアの□①と、イギリス・フランス・ロシアの□②の2つの陣営じんえいに分かれていた。 ①() ②()
- (2) ヨーロッパの□①半島は、列強の利害と民族・宗教の対立が絶えず、「ヨーロッパの□②」と呼ばれていた。 ①() ②()
- (3) (1)や(2)を背景に、1914年に始まった戦争を□と呼ぶ。 ()
- (4) (3)が始まると、日本は□を理由に連合国側で参戦した。 ()

2 ロシア革命 次の文中の□にあてはまる語句を答えなさい。

- (1) 1917年、ロシアでは□①の指導のもとに、世界最初の社会主義の政府が成立した。このできごとを□②と呼ぶ。 ①() ②()
- (2) (1)②の影響がおよぶことをおそれた日本・アメリカ・イギリス・フランスなどは、□①出兵を行って、革命政府に干渉した。これに勝利した革命政府は1922年、□②を成立させた。 ①() ②()
- (3) (2)②は□主義の実現を目指し、生産手段の国有化などを進めた。 ()
- (4) (1)①の後に指導者になったスターリンは、1928年から□計画を始めた。 ()

3 国際協調の高まり 次の問いに答えなさい。

- (1) 1919年に第一次世界大戦の講和会議が開かれた都市はどこか。 ()
- (2) (1)の講和会議で連合国とドイツとの間に結ばれた講和条約を何というか。 ()
- (3) 各民族は自分たちのことを決める権利があるという考え方を何というか。 ()
- (4) 1920年、世界平和と国際協調をうたう国際組織が設立された。この国際組織を何というか。 ()
- (5) (4)の設立を提案したアメリカの大統領はだれか。 ()
- (6) アメリカの呼びかけで1921年から翌年にかけて開かれ、太平洋地域の現状維持、中国の独立と領土の保全などを決めた会議を何というか。 ()
- (7) 1919年にドイツで制定され、労働者の基本的権利の保護などを明記した憲法を一般に何というか。 ()

4 アジアの民族運動 次の文中の□にあてはまる語句を答えなさい。

- (1) 1915年、日本は中国に対して□を示し、さんとう山東省のドイツ権益の継承、りょじゅん旅順・だいらん大連の権益の期限の延長などを認めさせた。 ()
- (2) 1919年、中国では北京での学生集会をきっかけに反日運動が高まり、さらにていこく帝国主義に反対する国民運動へと発展した。このできごとを□という。 ()
- (3) 1919年、けいじょう京城(ソウル)で知識人・学生らが日本からの独立を宣言したことをきっかけに、独立運動がちようせん朝鮮全土に広がった。このできごとを□という。 ()
- (4) インドでは、非暴力・不服従を唱える□の指導により、イギリスに対する抵抗運動が高まった。 ()

練習問題

1 右の年表を見て、次の問いに答えなさい。(→①・②)

- (1) 年表中のAの戦争の原因となった、オーストリア皇太子夫妻の暗殺事件が起こった地域を、次から選んで答えなさい。

シベリア オスマン帝国
 京城(ソウル) サラエボ

- (2) 年表中のAの戦争において、日本は下線部ア・イのどちらの陣営に立って参戦したか、記号で答えなさい。

- (3) 年表中のAの戦争は、各国が国民や経済を総動員して戦ったことから、何と呼ばれたか。

- (4) 年表中のBの□にあてはまる国名を答えなさい。また、この革命を指導した中心人物の名を答えなさい。

- (5) 年表中のBの結果として成立した、年表中のXにあてはまる国名を答えなさい。

- (6) 年表中のCの□にあてはまる、重工業の育成と農業の集団化をかかげた計画名を答えなさい。また、この計画を進めた人物の名を答えなさい。

年代	主なできごと
1882	ア三国同盟が成立する
1907	イ三国協商が成立する
1914	第一次世界大戦が始まる……A
1917	□革命が起こる………B
1918	第一次世界大戦が終わる
1922	□Xが成立する
1928	□Xで□計画が始まる…C

1の答え

(1)

(2)

(3)

(4) 国

人物

(5)

(6) 計画

人物

2 右の年表を見て、次の問いに答えなさい。(→③・④)

- (1) 年表中のAは、日本が何という国に対して出したものか。

- (2) 年表中のBの会議で唱えられた、各民族には、自分たちのことは自分たちで決める権利があるとする考え方を何というか。

- (3) 年表中のBの会議で、敗戦国として講和条約を結んだドイツが同じ年に定めた、当時世界で最も民主的といわれた憲法の名を答えなさい。

- (4) 年表中のCは朝鮮半島で、Dは中国で起こった運動である。C・Dの□にあてはまる語句をそれぞれ答えなさい。

- (5) 年表中のDをきっかけに、中国国民党(国民党)を結成した人物を、次から選び、記号で答えなさい。

ア 袁世凱 (えんせいがい) イ 李成桂 (りせいけい) ウ 孫文 (そんぶん) エ 洪秀全 (こうしゅうぜん)

- (6) 年表中のEについて、国際連盟の設立を提案した人物を、次から選び、記号で答えなさい。

ア リンカン イ ウィルソン ウ ワシントン エ ルソー

- (7) 年表中のFの会議は、アメリカの呼びかけで開かれ、海軍の軍備制限などを定めた。□にあてはまる語句を答えなさい。

2の答え

(1)

(2)

(3)

(4) C 独立運動

D 運動

(5)

(6)

(7) 会議



1 次の文を読んで、あとの問いに答えなさい。

ヨーロッパでは、①とオーストリアが同盟関係にあり、これに対抗して、②ロシアとフランス・③が接近し、特に④バルカン半島で対立が激化していた。1914年、バルカン半島の都市でオーストリア皇太子夫妻が暗殺された事件をきっかけに、第一次世界大戦が始まった。日本は⑤との同盟を理由に連合国側で参戦し、1917年には⑥も連合国側で参戦した。⑦1918年には⑧が降伏して、大戦が終わった。翌年、⑨講和会議が開かれ、⑩に巨額の賠償金などを義務づける⑪講和条約が結ばれた。1920年には、⑫の⑬大統領の提案により、⑭世界平和と国際協調を目指す国際組織が設立された。日本は、フランス・⑮・⑯とともに常任理事国となった。

- (1) 文中の①～④にあてはまる国名をそれぞれ答えなさい。
- (2) 下線部①・②に示された陣営をそれぞれ何というか。
- (3) 下線部③のロシアが支援していた民族を次から選び、記号で答えなさい。
ア ゲルマン民族 イ スラブ民族 ウ アラブ民族 エ ラテン民族
- (4) 下線部④は各国の対立が高まったことから、何と呼ばれていたか。
- (5) 下線部⑤の年から始まった、ロシアへの干渉戦争を何というか。
- (6) 下線部⑥が開かれた都市を次から選び、記号で答えなさい。
ア ベルリン イ ロンドン ウ ジュネーブ エ パリ
- (7) 下線部⑦の条約名を答えなさい。
- (8) 下線部⑧の人物名、下線部⑨の組織名をそれぞれ答えなさい。

2 次の問いに答えなさい。

- (1) 右の史料は、中国に対して、日本がつけた要求である。これについて、次の問いに答えなさい。
① この要求を何というか。
② 史料中の a にあてはまる国はどこか。
③ 史料中の b にあてはまる地名を次か

— 中国政府は、aがbに持っている一切の權益を日本にゆずる。
— 日本の旅順・大連の租借の期限、南満州鉄道の期限を99か年延長する。
— 中国政府は、南満州・東部内モンチウにおける鉱山の採掘権を日本国民にあてる。

- ら選び、記号で答えなさい。
ア ^{シャンハイ}上海 イ ^{ペキン}北京 ウ ^{さんとう}山東省 エ ^{りょうとう}遼東半島
^{シャンドン} ^{リアオトン}
- (2) アメリカで1921～22年に開かれた会議について、次の問いに答えなさい。
① この会議が開かれた都市名を答えなさい。
② この会議で確認されたことがらを次から2つ選び、記号で答えなさい。
ア 太平洋地域の現状維持 イ インドシナ半島の民族自決
ウ 中国の独立と領土の保全 エ イギリスの王政の廃止
 - (3) 第一次世界大戦後のインドで、非暴力・不服従の抵抗運動が高まった理由を、「イギリス」の語句を使って簡単に説明しなさい。

1の答え

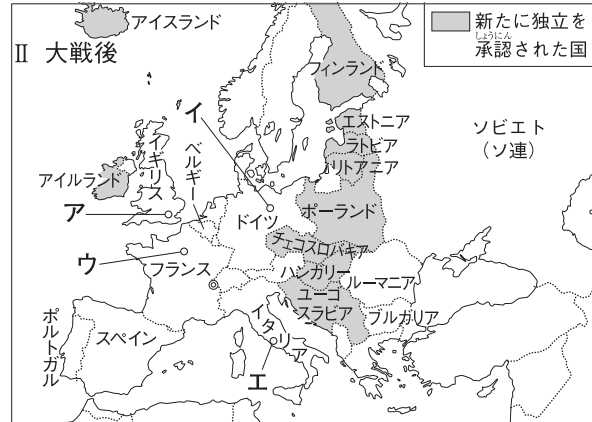
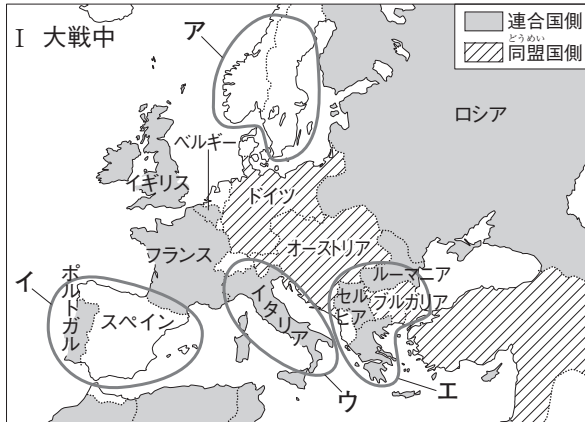
- (1) ① _____
② _____
③ _____
④ _____
- (2) ① a) _____
② _____
- (3) _____
- (4) _____
- (5) _____
- (6) _____
- (7) _____
- (8) ① g) _____
② _____
③ _____

2の答え

- (1) ① _____
② _____
③ _____
- (2) ① _____
② _____
- (3) _____

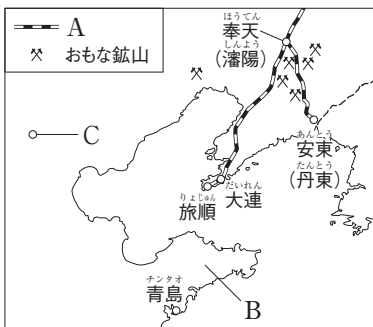
ここで差がつく

1 次の2つの地図は、第一次世界大戦中のヨーロッパと大戦後のヨーロッパを表している。これらの地図を見て、問いに答えなさい。



- (1) 「ヨーロッパの火薬庫」と呼ばれ、第一次世界大戦のきっかけとなった事件が起こった半島を、地図Ⅰ中のア～エから選び、記号と半島名を答えなさい。() ()
- (2) 第一次世界大戦のきっかけとなった事件とは、どのような事件か。「セルビア」「サラエボ」の語句を使って、簡単に説明しなさい。()
- (3) それまでの戦争とは異なる第一次世界大戦の特色を、次の語句を使って、簡単に説明しなさい。「新兵器」「被害」「総力戦」()
- (4) 第一次世界大戦の講和会議が開かれた都市を、地図Ⅱ中のア～エから選び、記号で答えなさい。()
- (5) 講和会議では、どのようなことが承認されたか。地図Ⅰ・Ⅱを参考にして、簡単に説明しなさい。()
- (6) 地図ⅠとⅡで、「新たに独立を承認された国」以外で国名が変わっている国が1つある。この国で国名が変わるきっかけとなった、第一次世界大戦中のできごととは何か。()
- (7) ウィルソン大統領の提案に基づいて、地図Ⅱ中の○に本部を置く国際連盟が設立された。○の都市名を答えなさい。()

2 中国に関する左の地図を見て、問いに答えなさい。



- (1) 1915年、日本は地図中のAの鉄道の期限延長、Bの半島を含む省の権益などの要求を中国に示した。この要求を何というか。()
- (2) 次の文中の①・②にあてはまる語句をそれぞれ答えなさい。
・(1)の要求のうち、地図中のBの半島を含む省の権益は①条約で日本に認められたが、その数年後に開かれた②で、日本はその権益を中国に返した。①() ②()
- (3) 中国では、1919年に地図中のCの都市での学生集会をきっかけに、^{ていこく}帝国主義に反対する運動が起こった。この運動を何というか。()
- (4) (3)が起こった年に、朝鮮では独立を目指す運動が起こった。これを何というか。()
- (5) (3)や(4)の運動に影響をあたえた民族自決とは、どのような考えか。簡単に説明しなさい。()