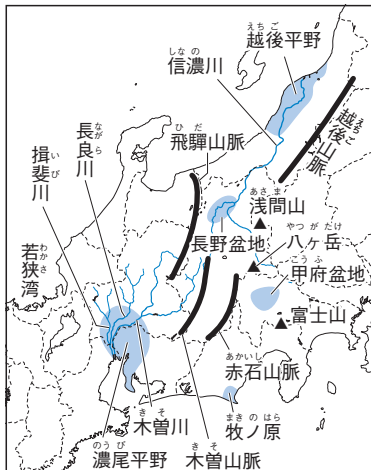


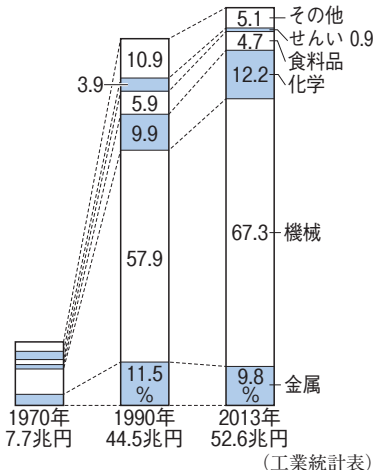


## 9

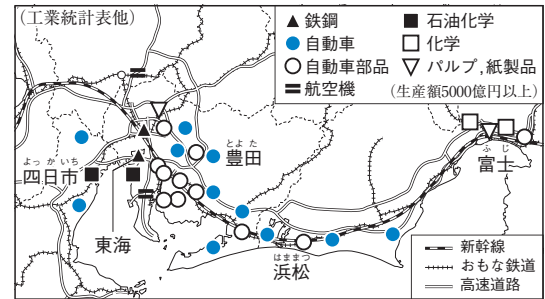
## 中部地方



▲④中部地方の自然



▲⑤中京工業地帯の工業生産額



▲⑥太平洋側の工業都市

ぶどう 計18.9万t	山梨 23.9%	長野 15.6%	山形 10.1%	岡山 8.2%	福岡 4.8%	その他 37.4%
	和歌山					山形
もも 計13.7万t	山梨 33.9%	福島 21.4%	長野 11.9%	和歌山 7.9%	山形 6.0%	その他 18.9%
	宮崎					京都
茶 計8.4万t	静岡 39.6%	鹿児島 29.4%	三重 8.1%	その他 14.8%	京都 3.5	

(農林水産省資料)

## 1 中部地方の生活の舞台(図表①～⑤)

- (1) 地形…かつて日本アルプス(飛驒・木曽・赤石山脈)が人々の移動をさまたげ、東海・中央高地・北陸の三地域に独自の文化。▲⑦ぶどう・もも・茶の生産量割合
- (2) 気候…東海地方は太平洋側の気候、北陸地方は日本海側の気候、中央高地は内陸性の気候。
- (3) 水害を防ぐ工夫…濃尾平野の木曽三川下流に堤防に囲まれた輪中。信濃川河口付近に大河津分水路。

## 2 中部地方の人々の営み(図表⑥～⑨)

- (1) 人口…東海道新幹線・東名高速道路などが通る東海に人口が集まり、3つの政令指定都市が並ぶ。
- (2) 工業…東海の中京工業地帯・東海工業地域では輸送用機械や情報機器、中央高地では電子部品やIC(集積回路)の生産が盛ん。北陸では金属・化学工業や、伝統産業・地場産業が盛ん。
- (3) 農業など…越後平野は日本有数の米どころ。東海で野菜・花の施設園芸農業、茶・みかんの栽培。中央高地の盆地でぶどう・もも・りんごなどの果樹栽培、高冷地で野菜の抑制栽培。焼津港(静岡県)で遠洋漁業。

## 3 工業の発展と地域の変化(図表⑩～⑭)

- (1) 中京工業地帯…名古屋市を中心とする日本最大の工業地帯。伊勢湾岸の四日市市に石油化学コンビナート、東海市に製鉄所。内陸部は輸送用機械のほか、瀬戸市・多治見市で陶磁器・ファインセラミックス。
- (2) 変わる工業地域…豊田市周辺はかつてせんい工業→現在は自動車の関連工場が集まり、地域全体で自動車を生産。名古屋港から自動車を輸出。浜松市・富山市を中心に東海工業地域が発達。
- (3) 北陸…加賀友禅や輪島塗などの伝統産業、富山の売薬、鯖江市の眼鏡フレームなどの地場産業が発達。石川県金沢市 石川県輪島市 積雪で農業ができない冬の副業から発達。他にも新潟県小千谷市の小千谷ちぢみなど

## 4 自然環境を生かした各地の農業(図表⑮～⑳)

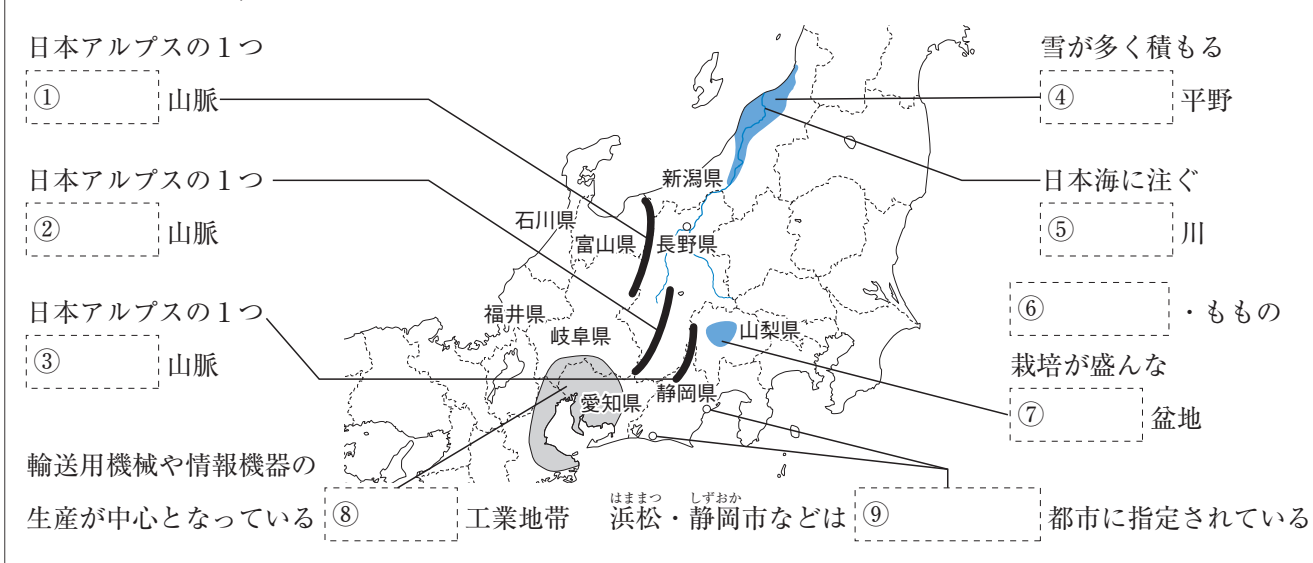
- (1) 中央高地…甲府盆地・長野盆地周辺の扇状地で、りんご・ぶどう・ももなどの果樹栽培が盛んで観光農園も見られる。八ヶ岳・浅間山のおもとの高冷地で、レタス・キャベツなどの高原野菜を栽培。
- (2) 東海…静岡県では牧ノ原を中心に茶、沿岸部の斜面ではみかん・いちご・メロンを栽培。豊川用水が引かれた渥美半島では電照ぎく、愛知用水が引かれた知多半島では野菜の施設園芸農業が盛ん。
- (3) 北陸…平野では客土で土地を改良し、早場米の水田地帯となった。現在は味の良い米の品種改良に努力。

## 5 世界と結びつく中部地方(図表㉑・㉒)

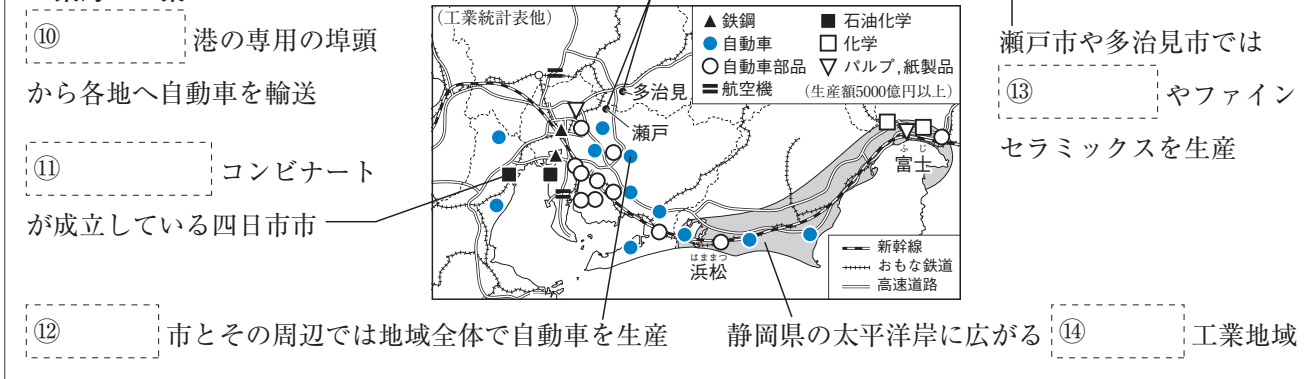
- (1) 大都市圏…名古屋市を中心に名古屋大都市圏を形成。名古屋港や中部国際空港から工業製品を輸出。
- (2) 北陸の結び付き…新潟市が物流の拠点づくりを進める。東海北陸自動車道の開通で東海とつながり。政令指定都市。ロシア連邦・中国・韓国との間に航空路 富山県と愛知県を結ぶ

# 図表のワーク

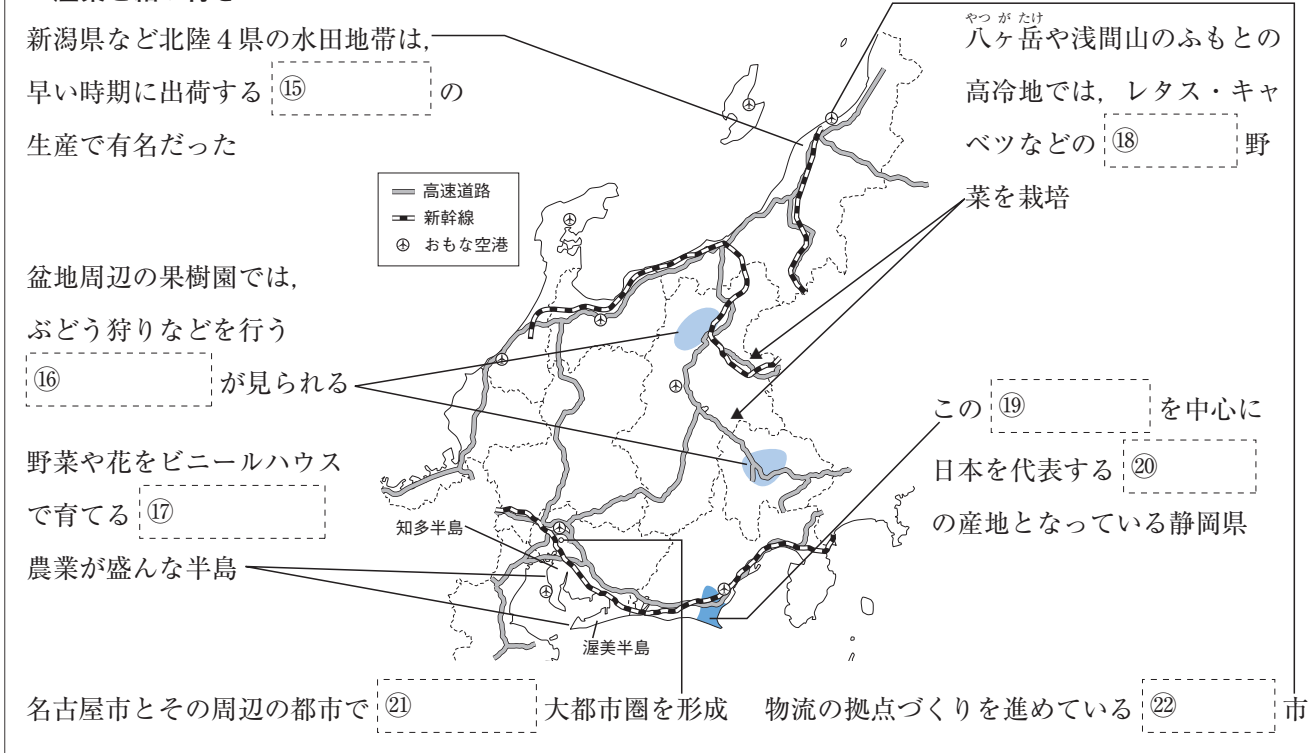
## 中部地方の自然、人々の営み



## 東海の工業



## 産業と結び付き



# 確認問題

① 中部地方の生活の舞台 次の文中の〔 〕にあてはまる語句を答えなさい。

- (1) 高くけわしい飛騨・木曽・赤石山脈は、日本〔 〕と呼ばれる。( )
- (2) 木曽川や長良川の下流部には、〔 〕平野が広がる。( )
- (3) 中部地方のうち、〔 〕地方は日本海側の気候を示す。( )

② 中部地方の人々の営み 次の文中の〔 〕にあてはまる語句を答えなさい。

- (1) 東海には、〔 〕新幹線・東名高速道路などの交通の主要幹線が通る。( )
- (2) 東海では、名古屋・浜松・静岡市が〔 〕都市に指定されている。( )
- (3) 静岡県の太平洋岸に発達した〔 〕工業地域では、輸送用機械の生産が多い。( )
- (4) 東海では、ビニールハウスや温室を使って野菜や花を栽培する〔 〕農業が盛んである。( )
- (5) 中央高地の盆地では、〔 〕・もも・りんごなどの果樹栽培が盛んである。( )

③ 工業の発展と地域の変化 次の問いに答えなさい。

- (1) 石油化学コンビナートがある伊勢湾岸の都市はどこか。( ) 市
- (2) 製鉄所がある伊勢湾岸の都市はどこか。( ) 市
- (3) 愛知県瀬戸市と並んで、陶磁器・ファインセラミックスの生産が盛んな岐阜県の都市はどこか。( ) 市
- (4) 名古屋市を中心に発達した、日本最大の工業地帯を何というか。( )
- (5) 自動車の関連工場が集まり、地域全体で自動車を生産している愛知県の都市はどこか。( ) 市
- (6) 東海工業地域の富士市で生産が盛んな工業製品は紙製品と何か。( )
- (7) 富山の売薬など、地域と密接に結び付いた産業を何というか。( )

④ 自然環境を生かした各地の農業 次の文中の〔 〕から最も適当な語句を選んで答えなさい。

- (1) 甲府盆地・長野盆地周辺の〔三角州 扇状地〕では、果樹栽培が行われている。( )
- (2) 八ヶ岳・浅間山のふもとの高冷地では、〔なす レタス〕などの高原野菜を栽培している。( )
- (3) 静岡県では、〔牧ノ原 軽井沢〕を中心に茶を栽培している。( )
- (4) 静岡県の沿岸部の斜面では〔みかん りんご〕・いちご・メロンを栽培している。( )
- (5) 豊川用水が引かれている渥美半島では、〔ピーマン 電照ぎく〕の栽培が盛んに行われている。( )
- (6) 知多半島には〔愛知 明治〕用水が引かれ、水不足が解消されている。( )
- (7) 北陸の平野は客土で土地を改良し、〔早場米 二期作〕の水田地帯となった。( )

⑤ 世界と結び付く中部地方 次の文中の〔 〕にあてはまる語句を答えなさい。

- (1) 名古屋市を中心に周辺都市が結び付き、〔 〕大都市圏が形成されている。( )
- (2) 北陸で最初の政令指定都市となった〔 〕市では、物流の拠点づくりが進められている。( )

# 練習問題

## 1 右の地図を見て、次の問いに答えなさい。(→①～③)

- (1) 地図中の①～③は、中部地方を3つの地域に区分したものである。それぞれの地域名を次から選んで答えなさい。

〔中央高地 北陸 東海〕

- (2) 地図中の①～③の各地域に見られる様子を、次からそれぞれ選び、記号で答えなさい。

ア 浜松市で二輪車の生産が盛んである。

イ 鯖江市で眼鏡のフレームづくりが盛んである。

ウ 夏のすずしい気候を利用して、軽井沢などに別荘地がつくられている。

- (3) 地図中の①の地域では、雪におおわれる冬の間の副業として、産業や地場産業が発達した。にあてはまる語句を漢字2字で答えなさい。

- (4) 地図中の②の地域で盛んな農業を、次から選び、記号で答えなさい。

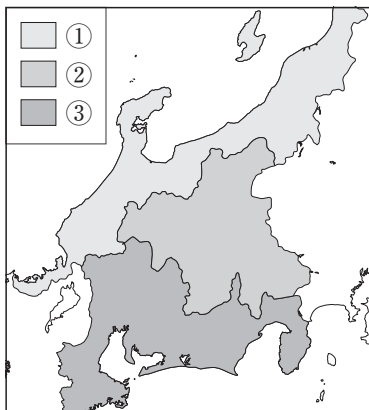
ア 砂地でのらっきょうの栽培

イ さとうきび・パイナップルの栽培

ウ 電照ぎくの栽培

エ 野菜の抑制栽培

- (5) 地図中の③の地域には、生産額が日本最大の工業地帯がある。この工業地帯を何というか。



## 1の答え

(1) ①

②

③

(2) ①

②

③

(3)

(4)

(5)

## 2 右のまとめを見て、次の問いに答えなさい。(→④・⑤)

- (1) Aにあてはまる地形を次から選び、記号で答えなさい。

ア 丘陵 イ 三角州

ウ 台地 エ 扇状地

- (2) B・Cに適する農作物を次からそれぞれ選び、記号で答えなさい。

ア なす イ レタス

ウ トマト エ 茶

オ ピーマン

- (3) 下線部Dのうち、豊川用水が引かれたのはどちらか、半島名を答えなさい。

- (4) 下線部Eの地域では、ほかの地域から土を運んできて土地の改良が行われてきた。この土地の改良を何というか。

- (5) Fにあてはまる都市名を答えなさい。

- (6) 下線部Gのうち、北陸でただ1つの政令指定都市がある県名を答えなさい。

自然環境に応じた農業	
中央高地	<ul style="list-style-type: none"> <li>●甲府盆地・長野盆地…周辺部の( A )でりんご・ぶどう・ももなどの果樹栽培。</li> <li>●八ヶ岳・浅間山のふもと…( B )などの高原野菜の栽培。</li> </ul>
東海	<ul style="list-style-type: none"> <li>●静岡県…牧ノ原で( C )の栽培。沿岸部の斜面でみかん・いちごなどの栽培。</li> <li>●愛知県…D知多半島や渥美半島で施設園芸農業。</li> </ul>
北陸	●E平野部…早場米の産地から、品種改良によるおいしい米の産地へ。
世界との結び付き	
東海	●名古屋港・中部国際空港…( F )大都市圏でつくられた工業製品を世界へ輸出。
北陸	●G北陸4県…日本海を囲む国々との交流の進展に取り組む。

## 2の答え

(1)

(2) B

C

(3)

(4)

(5)

(6)

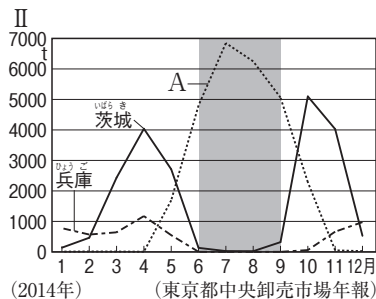
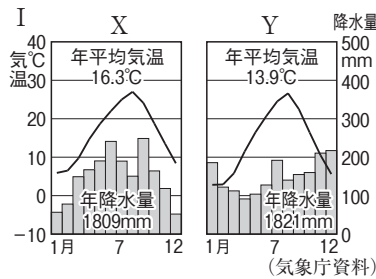
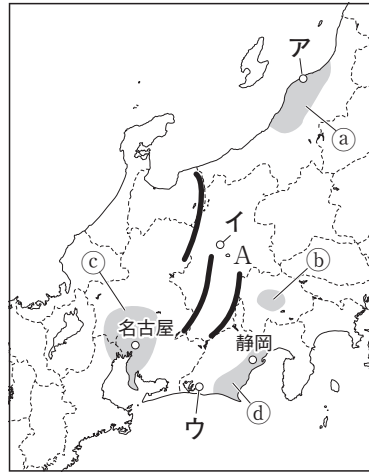




## 1 右の地図を見て、次の問いに答えなさい。

- 地図中に——で示した3つの山脈は、ヨーロッパの山脈になぞらえて何と呼ばれるか。
- グラフⅠのX・Yの雨温図は、どの都市の気候を表したものか。地図中のア～ウからそれぞれ選び、記号で答えなさい。
- 次の農業が行われている地域を、地図中の①～④からそれぞれ選び、記号で答えなさい。
  - 温暖な気候を利用した、みかんやいちごの栽培が盛んである。
  - 水がしみこみやすい土地で、ぶどうやももが栽培されている。
- グラフⅡは、主なレタス産地の月別出荷量で、Aは地図中のAの県を示している。Aの県で——の時期にレタスを多く出荷できる理由を、自然条件の面から簡単に説明しなさい。
- 地図中のア・ウのほか、名古屋・静岡市は、政府から特別の権限をあたえられた——都市である。——にあてはまる語句を答えなさい。
- 地図中のアの都市との間に航空路が通じている国を、次から3つ選んで答えなさい。
 

かんこく    モンゴル    ロシア連邦  
 カザフスタン    中国



## 1の答え

- \_\_\_\_\_
- X  
Y \_\_\_\_\_
- ① \_\_\_\_\_  
② \_\_\_\_\_
- \_\_\_\_\_
- \_\_\_\_\_
- \_\_\_\_\_

## 2の答え

- A  
B  
C  
D
- \_\_\_\_\_
- ① \_\_\_\_\_  
② \_\_\_\_\_  
③ \_\_\_\_\_

## 2 右の地図を見て、次の問いに答えなさい。

- 地図Ⅰ中にA～Dで分布を示した工業を、次からそれぞれ選び、記号で答えなさい。
 

ア 食料品

イ 鉄鋼

ウ パルプ・紙製品

エ 石油化学

オ 自動車

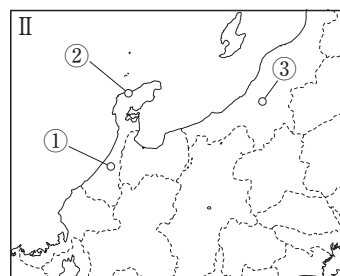
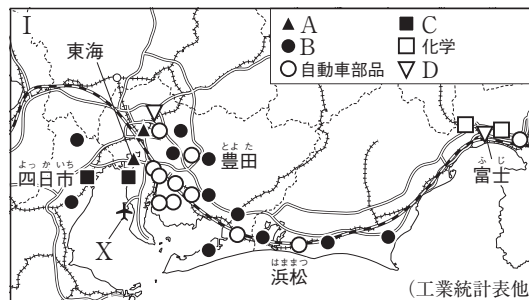
カ 航空機・航空機器
- 地図Ⅰ中の富士市から浜松市にかけて広がる工業地域を何というか。
- 地図Ⅱ中の①～③の都市で受けつがれている伝統産業を、次からそれぞれ選んで答えなさい。
 

きよみずやき 清水焼

おちや 小千谷ちぢみ

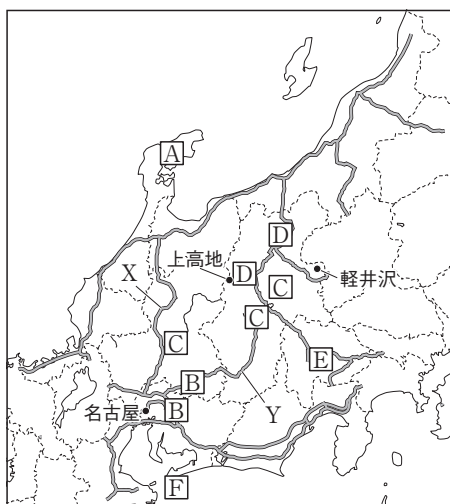
わじまぬり 輪島塗

か が ゆう 加賀友禅



◆ ここで差がつく ◆

# 1 次の地図を見て、問いに答えなさい



- (1) 地図中にA～Cで主な生産地を示した工業製品を、次からそれぞれ選び、記号で答えなさい。 A( ) B( ) C( )

ア 電子部品      イ <sup>しっき</sup>漆器      ウ オートバイ  
エ <sup>とうじき</sup>陶磁器      オ 紙

- (2) 地図中にD～Fで生産地を示した農産物を、次からそれぞれ選び、記号で答えなさい。 D( ) E( ) F( )

ア もも      イ 茶      ウ りんご  
エ 米      オ きく

- (3) 地図中のFの農産物は、温室の中で栽培されている。このような農業を何というか、漢字6字で答えなさい。( )

- (4) 地図中の<sup>かるいざわ</sup>軽井沢には別荘地がつくられ、夏には<sup>なごや</sup>名古屋市などの大都市圏から多くの観光客が訪れている。軽井沢が別荘地となっている理由を、

左の雨温図をもとに考え、簡単に説明しなさい。

( )

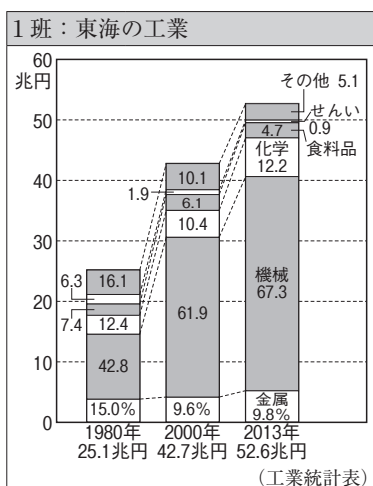
- (5) 2008年に開通した地図中のXの高速道路を、次から選び、記号で答えなさい。( )

ア 長野自動車道      イ 東海北陸自動車道      ウ 東名高速道路

- (6) 地図中の上高地にはXやYの高速道路を使って多くの観光客が訪れるが、自家用車の乗り入れは規制され、ふもとの駐車場からハイブリッド車のバスなどが観光客を運んでいる。この理由を次から選び、記号で答えなさい。( )

ア 道路がせまいため。      イ <sup>なだれ</sup>雪崩のおそれがあるため。      ウ 環境を保護するため。

## 2 中部地方の工業に関する1班と2班のまとめを見て、問いに答えなさい。



2班：北陸の工業

( ) A ( )	として、伝統産業や地場産業が発達した。
[新潟県]	小千谷ちぢみ
[富山県]	売薬
[石川県]	輪島塗・加賀友禅
[福井県]	B眼鏡フレーム

- (1) 1班のグラフは、日本最大の工業地帯の生産額の変化を示している。この工業地帯を何というか。( )

- (2) 1班のグラフについて述べた文として正しいものには○を、まちがっているものには×を答えなさい。 ①( ) ②( ) ③( )

① 1980年と比べて、2013年の総生産額は約3倍に増えている。

② 1980年から2013年にかけて、重化学工業の生産額がしめる割合はのび続けている。

③ 2013年のせんい工業の生産額は、1980年の生産額よりも多い。

- (3) 2班のまとめについて、Aには北陸で伝統産業が発達した背景があてはまる。適切な内容を「冬」の語句を使って書きなさい。( )

- (4) 2班のまとめのBの生産が行われている都市を、次から選び、記号で答えなさい。

ア <sup>さばえ</sup>鯖江市      イ 三条市  
ウ <sup>はまつ</sup>浜松市      エ <sup>せと</sup>瀬戸市

( )