

9A

ヨーロッパ①

| | | |
|----|----|----|
| 氏名 | 組番 | 得点 |
| | | 50 |

1 〈ヨーロッパ州をながめて〉 次の問いに答えなさい。

- (1) ヨーロッパの気候に影響をあたえる、一年を通して西からふく風を何と
いうか。
- (2) ライン川など、複数の国を流れ、沿岸国が自由に航行できる河川を何と
いうか。
- (3) イタリアで行われている、夏は高温で乾燥し、冬は温暖で雨が多い気候
を利用して、オリーブ・ぶどう・小麦などを栽培する農業を何と
いうか。
- (4) 乳牛を飼育して、チーズやバターなどの製品をつくる農業を何と
いうか。

((3)×4各4点×2,
他各3点×2)

1

| | |
|-----|--|
| (1) | |
| (2) | |
| (3) | |
| (4) | |

2 〈ヨーロッパ文化の共通性〉 次の〔 〕から最も適当な語句を選んで答えな
さい。

- (1) 英語やドイツ語は、〔ゲルマン ラテン〕系言語にふくまれる。
- (2) 〔イースター ラマダン〕は、キリスト教の行事である。
- (3) 〔イタリア ベルギー〕では、オランダ語を話す人々とフランス語を話す
人々が共存している。
- (4) 多民族国家の〔スイス デンマーク〕は、「永世中立」を宣言している国
の1つである。

2 ((3)4点, 他各3点×3)

| | |
|-----|-----|
| (1) | 系言語 |
| (2) | |
| (3) | |
| (4) | |

3 〈進むヨーロッパ統合〉 次の□にあてはまる語句を答えなさい。

- (1) ヨーロッパ共同体(EC)が発展して、1993年にヨーロッパ連合(□)
が発足した。
- (2) □の生産では、フランス・イギリス・ドイツなどのヨーロッパ連合
加盟国が技術協力を行い、各部位を分担して生産している。
- (3) 多くのヨーロッパ連合加盟国の間では、国境の検問所での□検査が
ない。
- (4) イギリスの□とフランスのパリの間を、ユーロスターという高速鉄
道が結んでいる。

3 ((1)4点, 他各3点×3)

| | |
|-----|--|
| (1) | |
| (2) | |
| (3) | |
| (4) | |

4 〈ヨーロッパの課題とロシア連邦〉 次の問いに答えなさい。

- (1) ヨーロッパ連合加盟国の間では、一人あたりの国民総所得(GNI)に大
きな差が生じている。このような格差を何と
いうか。
- (2) ロシア連邦で信仰が盛んなキリスト教の宗派は何か。
- (3) ロシア連邦の南西部に広がる肥えた土地で、主に栽培されている穀物は
小麦・米のどちらか。

4 ((2)4点, 他各3点×2)

| | |
|-----|--|
| (1) | |
| (2) | |
| (3) | |

9B

ヨーロッパ州①

| | | |
|----|----|----|
| 氏名 | 組番 | 得点 |
| | | 50 |

1 右の地図を見て、次の問いに答えなさい。

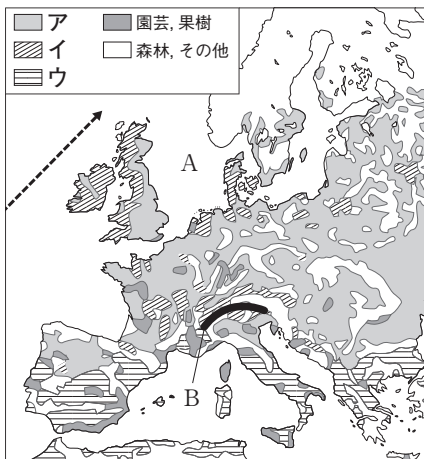
(1) 地図中の-----→で示した暖流を何というか。

(2) 次の①・②の説明にあてはまる農業地域を、地図中のア～ウからそれぞれ選び、記号で答えなさい。

- ① オリーブ・オレンジ・小麦などを栽培する。
- ② 穀物栽培と家畜の飼育を組み合わせさせている。

(3) 石油が盛んに産出される地図中のAの海と、イタリアとスイスなどの国境の基準となっている地図中のBの山脈の名をそれぞれ答えなさい。

(4) ラテン系言語にあてはまるものを、次から選び、記号で答えなさい。
 ア フランス語 イ ドイツ語 ウ 英語 エ ロシア語



1 ((1)5点, 他各4点×5)

| | |
|-----|--------|
| (1) | |
| (2) | ① ② |
| (3) | A B |
| (4) | |

2 右の地図を見て、次の問いに答えなさい。

(1) 地図中のア～ウのうち、石炭の産地を示したものを1つ選び、記号で答えなさい。

(2) 地図中の木材・パルプの原料となる樹林のうち、針葉樹の森林のことをカタカナで何というか。

(3) 右の表は、アメリカを1.00 5か国(地域)の規模の比較

とした場合の、ロシア連邦・日本・中国・ヨーロッパ連合(EU)の規模を比べたものである。ロシア連邦とEUにあたるものを表中のア～エからそれぞれ選び、記号で答えなさい。

| | 面積 | 人口 | 国内総生産 | 輸出額 |
|------|------|------|-------|------|
| アメリカ | 1.00 | 1.00 | 1.00 | 1.00 |
| ア | 1.74 | 0.45 | 0.13 | 0.31 |
| イ | 1.00 | 4.28 | 0.55 | 1.44 |
| ウ | 0.45 | 1.57 | 1.07 | 3.69 |
| エ | 0.04 | 0.39 | 0.29 | 0.43 |

(2015/16年版「世界国勢図会」)

(4) ヨーロッパ連合(EU)の加盟国が増えていくと、西ヨーロッパの中には東ヨーロッパへ工場を移転する企業も多くなった。この理由を簡単に説明しなさい。

2 (各5点×5)

| | |
|-----|-------------|
| (1) | |
| (2) | |
| (3) | ロシア連邦 EU |
| (4) | |

10A

ヨーロッパ州②

| | | |
|----|----|----|
| 氏名 | 組番 | 得点 |
| | | 50 |

1 〈ヨーロッパ州をながめて〉 次の〔 〕から最も適当な語句を選んで答えなさい。

- (1) ヨーロッパと日本の緯度を比べると、〔イギリス イタリア〕の北部がほぼ日本の北端にあたる。
- (2) ヨーロッパ北部には、氷河によってつくられた〔リアス フィヨルド〕という奥行きのある湾が見られる。
- (3) ヨーロッパ北西部や東部では、穀物栽培と家畜の飼育を組み合わせた〔混合農業 酪農〕が行われている。
- (4) ヨーロッパでは、〔18世紀後半 20世紀前半〕から、世界に先がけて近代工業が発達した。

1 ((2)(3)各4点×2,
他各3点×2)

| | |
|-----|--|
| (1) | |
| (2) | |
| (3) | |
| (4) | |

2 〈ヨーロッパ文化の共通性〉 次の〔 〕にあてはまる語句を答えなさい。

- (1) ロシア連邦・ポーランドなどのヨーロッパ東部では、主に〔 〕系言語が使われている。
- (2) ヨーロッパで最も広く信仰されている宗教は〔 〕教である。
- (3) 主に〔 〕州や西アジアからヨーロッパに移住してきた労働者には、イスラム教徒も多い。
- (4) フランスやスペインには少数民族の〔 〕人が住み、スペインでは自治権も認められている。

2 ((1)4点, 他各3点×3)

| | |
|-----|-----|
| (1) | 系言語 |
| (2) | 教 |
| (3) | 州 |
| (4) | 人 |

3 〈進むヨーロッパ統合〉 次の問いに答えなさい。

- (1) ヨーロッパ連合(EU)の前身は、1967年に結成された組織である。この組織を何というか。
- (2) EUの多くの加盟国で導入されている共通通貨を何というか。
- (3) 国境をこえるヨーロッパの高速鉄道ICEは、どこの国を中心に運行されているか。

3 ((2)4点, 他各3点×2)

| | |
|-----|--|
| (1) | |
| (2) | |
| (3) | |

4 〈ヨーロッパの課題とロシア連邦〉 次の〔 〕にあてはまる語句を答えなさい。

- (1) EU加盟国の間には、一人あたりの国民総所得(略称:〔 〕)に大きな格差がある。
- (2) ロシア連邦と周辺の国々は、1991年までは〔 〕という社会主義国を構成していた。
- (3) ロシア連邦は、〔 〕という設備を使って天然ガス・石油などの鉱産資源をEU諸国へ直接輸出している。
- (4) ロシア連邦の中央部にはタイガと呼ばれる広大な〔 〕の森林が広がる。

4 ((1)4点, 他各3点×3)

| | |
|-----|--|
| (1) | |
| (2) | |
| (3) | |
| (4) | |

10B

ヨーロッパ州②

| | | |
|----|----|----|
| 氏名 | 組番 | 得点 |
| | | 50 |

1 右の地図を見て、次の問いに答えなさい。

(1) 地図中の→の方向から一年中ふいている風を何というか。

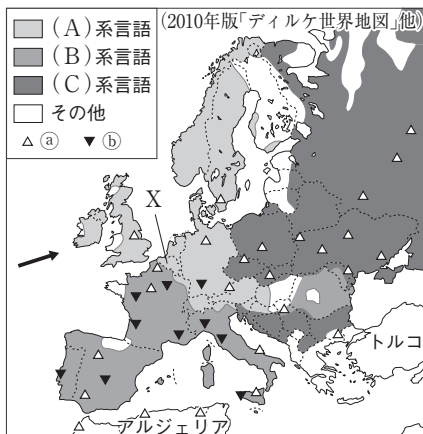
(2) 地図中のA～Cにあてはまる言語を、次からそれぞれ選び、記号で答えなさい。

- ア ラテン イ アラブ
ウ スラブ エ ゲルマン

(3) ヨーロッパ州で生産が盛んな、地図中の①・②で栽培されている農作物を、次からそれぞれ選び、記号で答えなさい。

- ア バナナ イ 小麦 ウ 綿花 エ ぶどう

(4) 地図中のアルジェリアやトルコから労働力としてヨーロッパに移住してきた人の多くは、何という宗教を信仰しているか。



1 (各4点×7)

| | |
|-----|---|
| (1) | |
| (2) | A |
| | B |
| | C |
| (3) | ① |
| | ② |
| (4) | |

2 国・地域別の国内総生産(GDP)を比べた右のグラフを見て、次の問いに答えなさい。

(1) EUの正式名称を日本語で答えなさい。

(2) このグラフから、ヨーロッパの国々がEUを結成した目的を読み取り、「競争」の語句を使って簡単に説明しなさい。

(3) グラフ中のEU加盟国の中から、ユーロスターという高速鉄道で結ばれている2か国を選んで答えなさい。

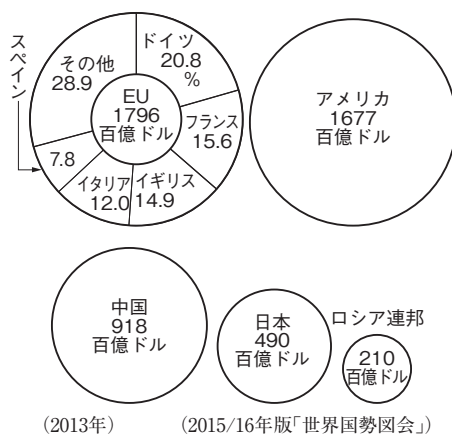
(4) 次の文中の□にあてはまる語句を漢字4字で答えなさい。

EU加盟国は28か国であるが、そのうちの5か国だけで国内総生産の約7割をしめていることから、加盟国間で□があることが読み取れる。

(5) グラフ中のドイツ・フランス・イギリスなどのEU加盟国が技術協力を行って、共同で生産している輸送機器は何か。

(6) グラフ中のロシア連邦が、パイプラインを使ってEU諸国へ輸出している鉱産資源を、次から2つ選び、記号で答えなさい。

- ア 石炭 イ 天然ガス ウ 鉄鉱石 エ 石油



2 ((2)(3)5点×2, 他各3点×4)

| | |
|-----|--|
| (1) | |
| (2) | |
| (3) | |
| (4) | |
| (5) | |
| (6) | |