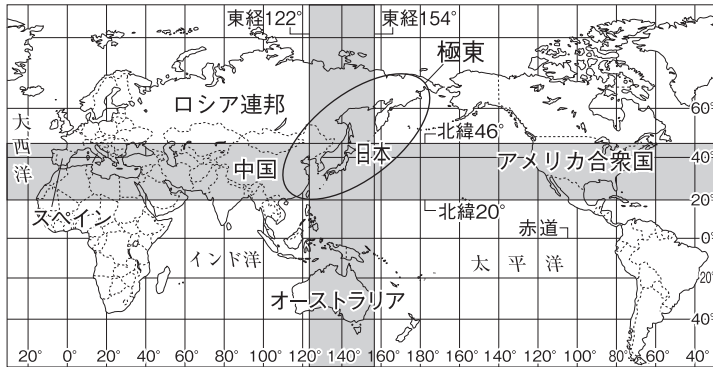
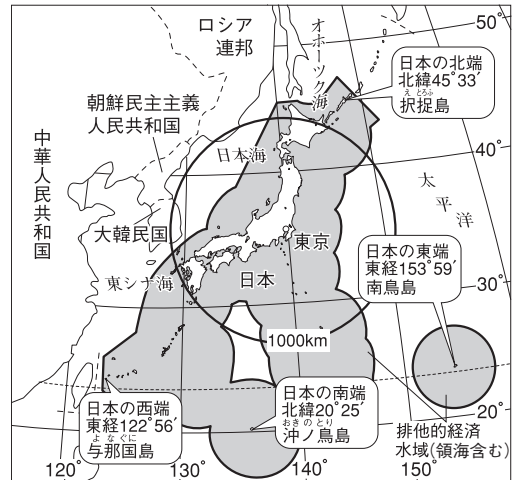


# 第2講座 日本のがた



▲日本の緯度・経度の範囲



▲日本のまわりにある国々

## 1 日本の位置と領域

(1) 日本の位置…ユーラシア大陸の東側にあり、太平洋に面する。日本を含むアジア東部は、ヨーロッパから見て「極東」とよばれる。

(2) 日本と同緯度・同経度の国々

- ① 緯度…およそ北緯20度から46度。スペイン・イラン・中国・アメリカ合衆国など。
- ② 経度…およそ東経122度から154度。ロシア連邦・インドネシア・オーストラリアなど。

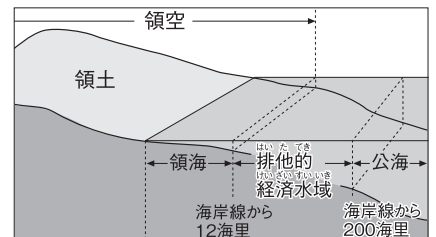
(3) 日本列島…北海道・本州・四国・九州の4つの大きな島と、多くの小さな島々から成り立ち、約3000kmにわたってのびる島国(海洋国)。北端は択捉島(北海道)、南端は沖ノ鳥島(東京都)、東端は南鳥島(東京都)、西端は与那国島(沖縄県)。

(4) 日本の領域…国の主権がおよぶ範囲を領域という。陸地である領土、領土に接する海である領海(日本の場合は干潮時の海岸線から12海里まで)、領土と領海の上空である領空からなる。

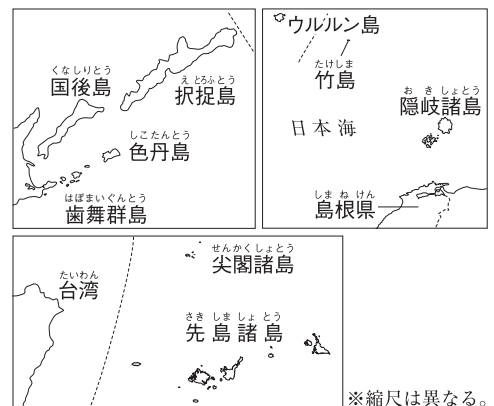
(5) 排他的経済水域…領海の外側の、海岸線から200海里以内の範囲の海。沿岸の国が水産資源や鉱産資源を自国のものとする事ができる。沖ノ鳥島では、この水域を確保するために島の水没を防ぐ護岸工事が行われた。離島が点在する島国の日本は、領海と排他的経済水域を合わせた面積が、国土面積(約38万km<sup>2</sup>)のわりに大きい。

(6) 領土をめぐる問題

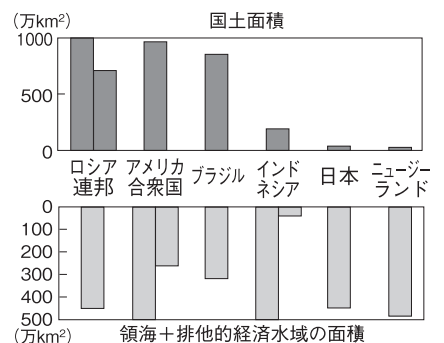
- ① 北方領土…北海道東部の歯舞群島・色丹島・国後島・択捉島。第二次世界大戦後ソ連に占領され、ソ連解体後はロシア連邦に占拠されている。
- ② 竹島…島根県に属する日本固有の領土であるが、韓国に占拠されている。
- ③ 尖閣諸島…沖縄県に属する日本固有の領土であるが、中国が領有を主張している。



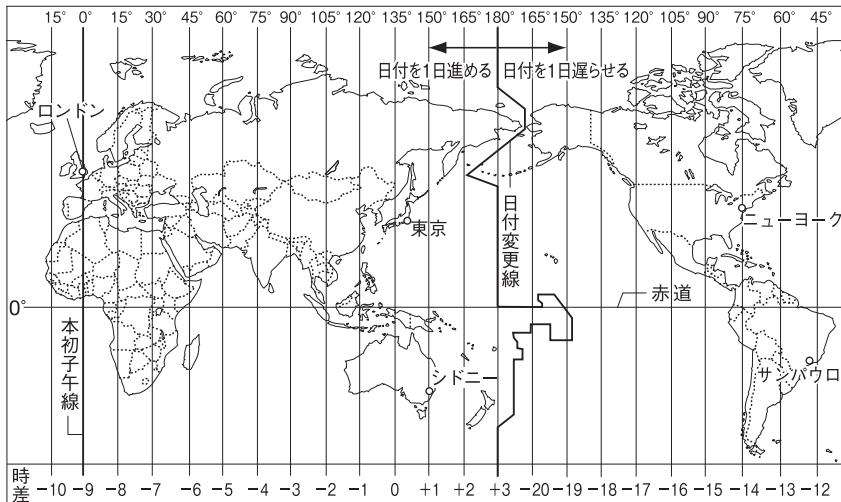
▲国の領域



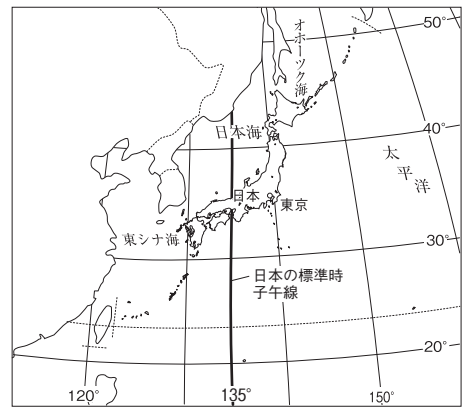
▲領土をめぐる問題



▲おもな国の排他的経済水域の面積



▲世界の標準時子午線と時差



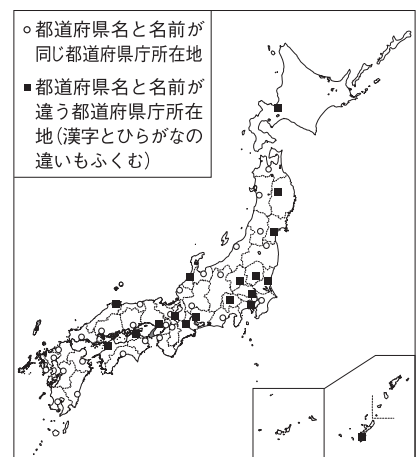
▲日本の標準時子午線

## 2 時差のとりえ方

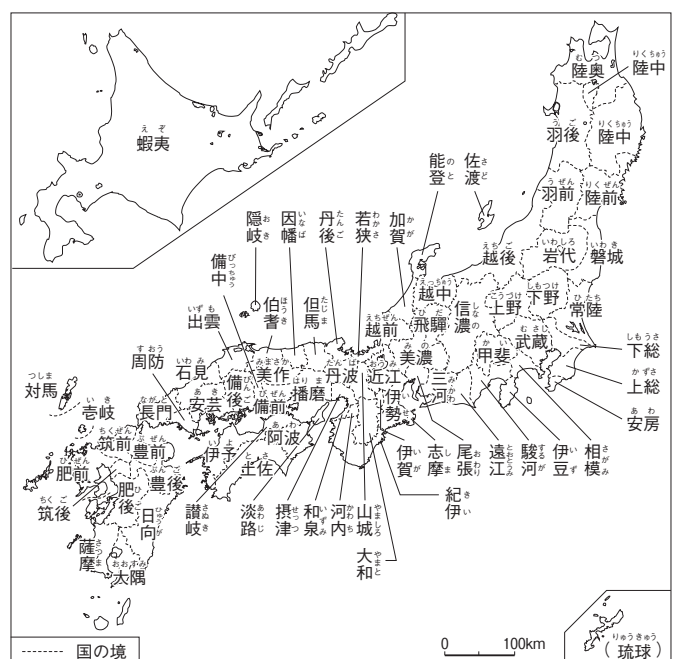
- (1) **標準時**…国・地域ごとに、基準となる標準時子午線の真上に太陽がきたときを正午とする標準時を定めている。日本の標準時子午線は兵庫県明石市を通る東経135度の経線。国土が東西に広大なロシア連邦などには複数の標準時がある。
- (2) **時差**…各地の標準時の差。標準時子午線の経度が15度違うと、1時間の時差が生じる。
- (3) **日付の調整**…太平洋上を通る日付変更線を西から東へこえたときは日付を1日遅らせ、東から西へこえたときは1日進める。

## 3 都道府県

- (1) **地方の政治の単位**
  - ① 昔…地方にあたる道、県にあたる国があった。昔の国名などは、伊勢湾や讃岐うどんのように今でも地名や特産品などの名前に残っている。
  - ② 今…1都1道2府43県からなる47の都道府県に区分される。「都」は、東京都、「府」は、大阪府と京都府、「道」は、北海道である。
- (2) **県庁所在地**…県庁が置かれている都市。城下町・港町・門前町などの歴史を持つ都市や人口の多い都市であることが多い。県庁所在地名は、県名と異なる都市名の場合と、県名と同じ都市名の場合がある。
- (3) **県境**…昔の国の境を引きついだものが多い。千葉県と茨城県の県境の一部は川に沿っている。また、和歌山県の北山村は飛地となっている。山梨県と静岡県にまたがる富士山山頂のように未確定の部分もある。



▲都道府県庁所在地



▲日本の昔の国名

## 確認問題

### 1 日本の位置と領域 次の問いに答えなさい。

- (1) 日本を含むアジア東部は、ヨーロッパから見て何とよばれるか。〔 〕
- (2) 日本の緯度・経度の範囲を、北緯・南緯・東経・西経から2つ選びなさい。〔 〕
- (3) 日本列島を形づくる特に大きな島は、北海道・四国・九州とあと1つは何か。〔 〕
- (4) 日本の南端に位置する島はどこか。〔 〕
- (5) 日本の西端に位置する島はどこか。〔 〕
- (6) 国の領域のうち、陸地の範囲を何というか。〔 〕
- (7) 国の領域のうち、(6)と領海の上空を何というか。〔 〕
- (8) 領海の外側の、海岸線から200海里以内の範囲の海では、沿岸の国が水産資源や鉱産資源を自国のものとする  
ことができる。この水域を何というか。〔 〕
- (9) 日本固有の領土であるが、第二次世界大戦後ソ連に占領され、ソ連解体後はロシア連邦に占拠されている  
島々をまとめて何というか。〔 〕
- (10) 日本固有の領土であるが、韓国との間で領土問題がある、島根県に属する島を何というか。  
〔 〕
- (11) 日本固有の領土であるが、中国が領有を主張している、沖縄県に属する島々を何というか。  
〔 〕

### 2 時差のとりえ方 次の文中の□□にあてはまる語句や数字を答えなさい。

- (1) 国・地域ごとに、基準となる標準時子午線の真上に太陽がきたときを正午とする□□を定めている。  
〔 〕
- (2) 標準時子午線の経度が□□度ずれるごとに、1時間の時差が生じる。〔 〕
- (3) 太平洋上を通る□□を西から東へこえたときは日付を1日遅らせ、東から西へこえたときは1日進める。  
〔 〕
- (4) 日本・イギリス・ニュージーランドのうち、最初に元旦をむかえるのは□□である。  
〔 〕
- (5) 日本とロシア連邦のうち、東西に国土が広がり、複数の(1)を持つ国にあてはまるのは□□である。  
〔 〕

### 3 都道府県 次の文中の〔 〕から正しい語句を選んで答えなさい。

- (1) 現在の日本は、47に細かく区分され、その内訳は43の〔州 県〕、2つの府、1つの都、1つの道である。  
〔 〕
- (2) 2つの府は、京都府と〔東京 大阪〕府である。〔 〕
- (3) 1つの道は、〔東海 北海〕道である。〔 〕
- (4) 〔沖縄 福岡〕県では、県名と県庁所在地名が異なっている。〔 〕
- (5) 〔千葉 山梨〕県では、県名と県庁所在地名が異なっている。〔 〕
- (6) 〔高知 群馬〕県は、県名と県庁所在地名が同じである。〔 〕
- (7) 〔岩手 和歌山〕県は、県名と県庁所在地名が同じである。〔 〕
- (8) 千葉県と茨城県の県境の一部は、〔山脈 川〕に沿って引かれている。〔 〕

# 練習問題

1 右の地図を見て、次の問いに答えなさい。

- (1) 地図中のA・Bの島の名を、次からそれぞれ選び、記号で答えなさい。

- ア 国後島      イ 南鳥島  
ウ 八丈島      エ 択捉島

- (2) 地図中のAの島を占拠している国を、地図中のア～ウから選び、記号と国名を答えなさい。

- (3) 日本の東西南北の端である島々のうち、1つだけ県に属する島がある。その島が属する県名を答えなさい。

- (4) 地図中のCの緯線が通る国を、次から選び、記号で答えなさい。

- ア オーストラリア      イ チリ      ウ スペイン      エ イギリス

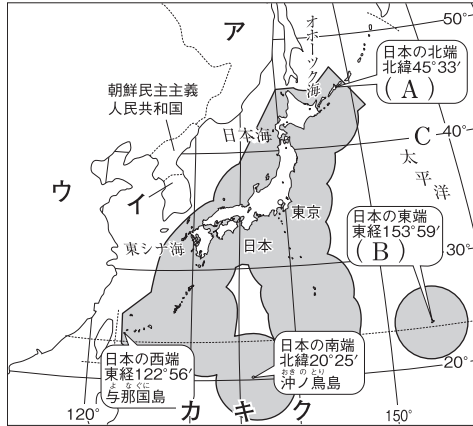
- (5) 地図中の( )は、日本の排他的経済水域(領海含む)を示している。この水域は、海岸線から何海里までの範囲か。

- (6) 領海と排他的経済水域を合計した面積について、国土の面積よりも広くなる国を次から選び、記号で答えなさい。

- ア ロシア連邦      イ ニューゼaland  
ウ アメリカ合衆国      エ ブラジル

- (7) 日本の標準時子午線を、地図中のカ～クから選び、記号で答えなさい。

- (8) 地図中のウの国は、東経120度を標準時子午線としている。日本とウの国の時差は何時間か。なお、サマータイムは考えないものとする。



1

|     |    |    |
|-----|----|----|
| (1) | A  |    |
|     | B  |    |
| (2) | 記号 |    |
|     | 国名 |    |
| (3) |    | 県  |
| (4) |    |    |
| (5) |    | 海里 |
| (6) |    |    |
| (7) |    |    |
| (8) |    | 時間 |

2 右の地図を見て、次の問いに答えなさい。

- (1) 地図中のア～オのうち、都道府県の「府」にあたるものを2つ選び、記号で答えなさい。

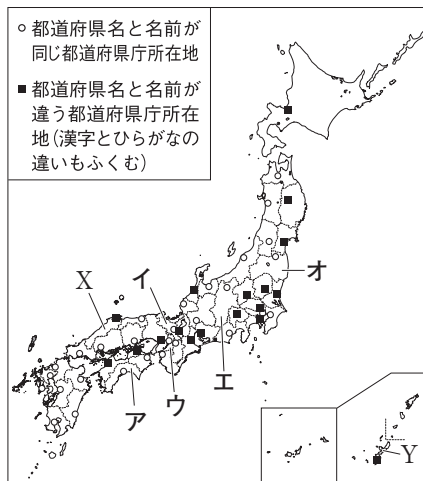
- (2) 地図中のXの県に属し、韓国との間に領土問題がある島の名前を答えなさい。

- (3) 地図中のYの県についての説明として正しいものを次から選び、記号で答えなさい。

- ア 県庁所在地名は津市である。  
イ かつて琉球とよばれていた。  
ウ 歯舞群島という島々が属している。

- (4) 日本の旧国名が由来ではないものを次から1つ選び、記号で答えなさい。

- ア 讃岐うどん      イ 越後平野      ウ 伊勢湾      エ 北海道



2

|     |  |
|-----|--|
| (1) |  |
| (2) |  |
| (3) |  |
| (4) |  |