

第 1 講座 地理の復習

1 世界のすがた

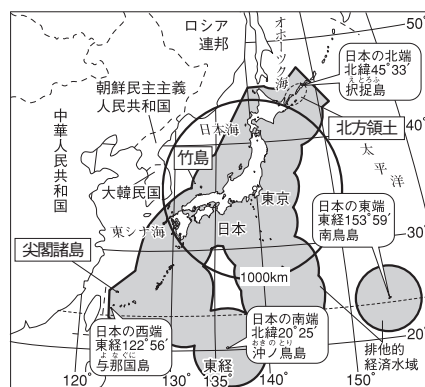
- (1) 大陸と大洋…陸と海の面積比は3：7。
- (2) 国境…山脈、川などの自然や経緯線を基準とした国境線。海に囲まれた島国(海洋国)、海に面していない内陸国。
- (3) 地球上の位置…緯度は赤道を0度に南北90度ずつ。経度はロンドンを通る本初子午線を0度に東西180度ずつ。



▲六大陸・三大洋・州

2 日本のすがた

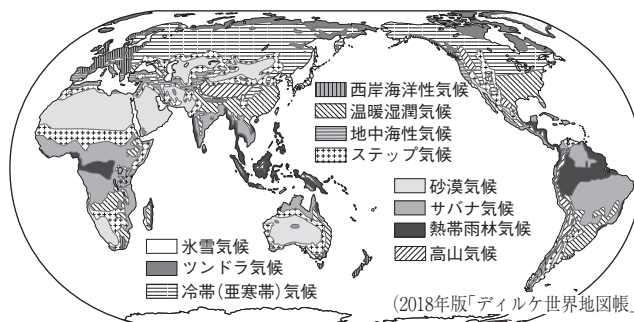
- (1) 日本の位置と領域…ユーラシア大陸の東。本州・北海道・九州・四国の4つの大きな島。国土面積(約38万km²)のわりに200海里の排他的経済水域が広い。北方領土をロシア連邦、竹島を韓国が不法に占拠。尖閣諸島は中国などが領有を主張。
- (2) 時差…経度15度で1時間の時差。180度の経線沿いに日付変更線。日本の標準時子午線は兵庫県明石市を通る東経135度の経線。
- (3) 都道府県…1都1道2府43県の47都道府県。



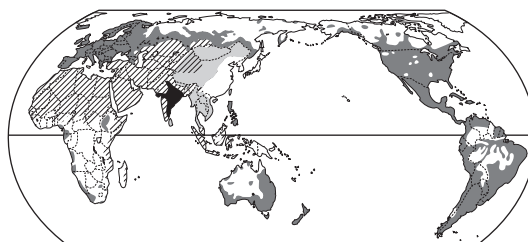
▲日本の領域

3 世界の人々の生活と環境

- (1) 熱帯…年じゅう高温で年降水量が多い。熱帯雨林気候とサバナ気候。南太平洋でさんご礁が発達。高床の住居。
- (2) 乾燥帯…降水量が少ない。砂漠気候とステップ気候。オアシスに集落。らくだや羊の遊牧。
- (3) 温帯…四季の変化がある。西岸海洋性気候、地中海性気候、温暖湿潤気候。
- (4) 冷帯(亜寒帯)…冬は寒冷だが夏はやや温暖。北半球のみに分布。シベリアなどに針葉樹林のタイガ。
- (5) 寒帯…年じゅう寒冷。ツンドラ気候と氷雪気候。北アメリカ北部のイヌイットが雪や氷でイグルーをつくり、カリブーやあざらしの狩猟をしてきた。
- (6) 高山気候…アンデス山脈の高地では先住民がじゃがいもやとうもろこしを栽培し、リャマやアルパカを放牧。
- (7) 世界の宗教…仏教、キリスト教、イスラム教は三大宗教。イスラム教徒は1日に5回、聖地メッカの方角に向かって礼拝。インドに多いヒンドゥー教徒は牛を神聖視。



▲世界の気候

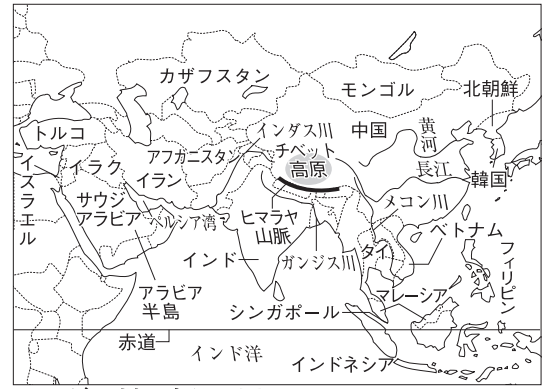


▲世界の宗教

4 アジア州

- (1) 自然…中央部にヒマラヤ山脈。中国に黄河・長江。東部・南部は季節風(モンスーン)の影響。
- (2) 中国…人口は世界最多で、9割は漢族(漢民族)。少数民族もくらす。一人っ子政策は廃止された。沿海部のシェンチェンなどに経済特区。「世界の工場」に成長。沿海部と内陸部の農村との経済格差が拡大。
- (3) アジアン I E S (新興工業経済地域)…1970年代から発展した韓国、台湾、ホンコン、シンガポール。

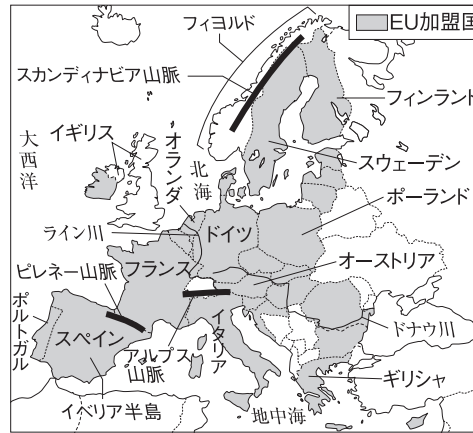
- (4) 東南アジア…米の二期作。プランテーションで天然ゴムやあぶらやしなどを栽培。中国系の華人が活躍。東南アジア諸国連合(A S E A N)を結成。
- (5) インド…情報通信技術(I C T)産業が発達。
- (6) 西・中央アジア…ペルシヤ(ペルシャ)湾は産油地帯→産油国が石油輸出国機構(O P E C)を結成。イスラム教徒が多い。



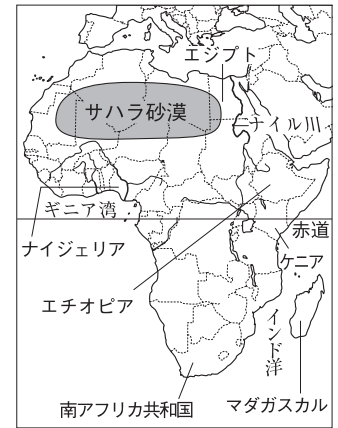
▲アジア州の自然・国々

5 ヨーロッパ州

- (1) 自然…南部にアルプス山脈。暖流の北大西洋海流と偏西風の影響⇒高緯度のわりに温暖。北部にフィヨルド。
- (2) 民族・宗教…中・北部にゲルマン系, 南部にラテン系, 東部にスラブ系。キリスト教徒が多い。
- (3) 農業…広い地域で混合農業。南部で地中海式農業, 北部などで酪農。
- (4) ヨーロッパ連合(E U)…共通通貨のユーロを導入。加盟国間の経済格差が課題。航空機の共同生産。



▲ヨーロッパ州の自然・国々



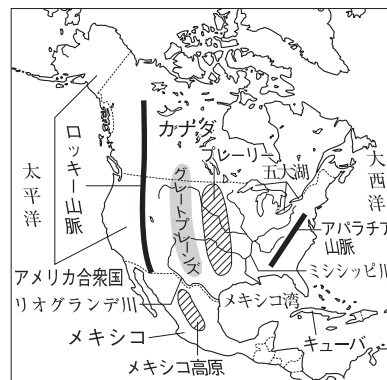
▲アフリカ州の自然・国々

6 アフリカ州

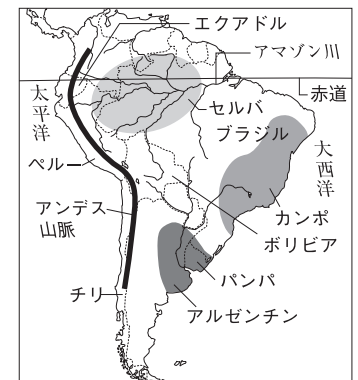
- (1) 自然…中央部を赤道が通る。北部にサハラ砂漠。東部にナイル川。
- (2) あゆみ・産業…戦後, ヨーロッパの植民地支配から独立⇒経済発展の遅れ。ギニア湾岸でカカオ豆栽培。レアメタル(希少金属)などを産出⇒モノカルチャー経済。

7 北アメリカ州

- (1) 自然…西部にロッキー山脈。
- (2) アメリカ合衆国…適地適作, 大規模な企業的農業。北緯37度以南のサンベルト



▲北アメリカ州の自然・国々



▲南アメリカ州の自然・国々

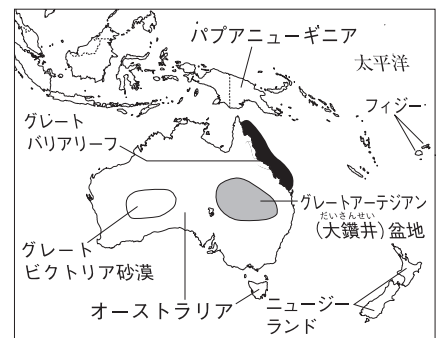
で先端技術(ハイテク)産業, 西部のシリコンバレーでI C T産業。移民のヒスパニックが増加。

8 南アメリカ州

- (1) 自然…北部に流域面積最大のアマゾン川。西部にアンデス山脈。
- (2) あゆみ…インカ帝国などの先住民の文明をヨーロッパ人が征服。スペイン語やポルトガル語が公用語。日系人がくらす。
- (3) 産業…伝統的な焼畑農業。さとうきびからバイオ燃料(バイオエタノール)を生産。開発でアマゾン川流域の熱帯雨林が減少。

9 オセアニア州

- (1) 自然…オーストラリア内陸部は乾燥帯。太平洋の島々は熱帯。
- (2) あゆみ・民族…オーストラリアはかつてイギリスの植民地→ヨーロッパ系の移民が移住→現在は白豪主義を廃止し, 多文化社会を目指す。オーストラリアにはアボリジニ, ニュージーランドにはマオリの先住民。
- (3) 産業…オーストラリアの北西部で鉄鉱石, 東部で石炭を産出。東部や南西部で羊などの牧畜がさかん。



▲オセアニア州の自然・国々

1 世界のすがた 次の文中の□□□□にあてはまる語句や数字を答えなさい。

- (1) 六大陸のうち、面積が最大なのは□□□□大陸である。〔 〕
- (2) 三大洋のうち、面積が最大なのは□□□□である。〔 〕
- (3) 0度の緯線いせんを□□□□という。〔 〕
- (4) 経度ほんしよしごせんは、本初子午線を0度として東西それぞれ□□□□度ずつに分かれている。〔 〕

2 日本のすがた 次の問いに答えなさい。

- (1) 日本の南の端に位置する島を何というか。〔 〕
- (2) 領海の外側で、海岸線から200海里までの水域を何というか。〔 〕
- (3) 中国などが領有を主張している、沖縄県の島々を何というか。〔 〕
- (4) 日本の標準時子午線は、何度の経線か。〔 〕

3 世界の人々の生活と環境 次の問いに答えなさい。

- (1) 熱帯の南太平洋の島々などの周辺に発達している、美しい岩礁がんしょうを何というか。〔 〕
- (2) 草や水を求めて、移動しながらくたや羊などを飼育する牧畜を何というか。〔 〕
- (3) 冷帯あ(亜寒帯)のシベリアなどに広がる針葉樹の森林を何というか。〔 〕
- (4) カナダやアラスカの寒帯の地域しゅりやうで狩猟などを行ってきた先住民を何というか。〔 〕
- (5) 1日に5回、聖地メッカに向かって礼拝する宗教は何か。〔 〕

4 アジア州, ヨーロッパ州 次の文中の□□□□にあてはまる語句を答えなさい。

- (1) アジア州の東部や南部は、□□□□えいきやうの影響で雨季と乾季が見られる。〔 〕
- (2) 中国の人口の90%以上は、□□□□という民族である。〔 〕
- (3) 東南アジアなどに見られる、植民地時代に開発された大農園を□□□□という。〔 〕
- (4) インドでは□□□□(ICT)産業がさかんである。〔 〕
- (5) 偏西風へんせいふうとともに、ヨーロッパの気候を温暖にしている暖流を□□□□という。〔 〕
- (6) 1993年、ヨーロッパ諸国が経済的な統合を目指して□□□□を結成した。〔 〕

5 アフリカ州, 北アメリカ州 次の文中の□□□□にあてはまる語句を答えなさい。

- (1) かつて、アフリカ大陸のほとんどの国々が、ヨーロッパの□□□□となっていた。〔 〕
- (2) アフリカには、特定の農産物や鉱産資源の輸出にたよる□□□□経済の国が多い。〔 〕
- (3) アメリカでは、各地の自然条件に合った作物を栽培する□□□□さいばいが行われている。〔 〕
- (4) サンフランシスコ郊外の□□□□には、ICT関連の企業きぎやうが集中している。〔 〕

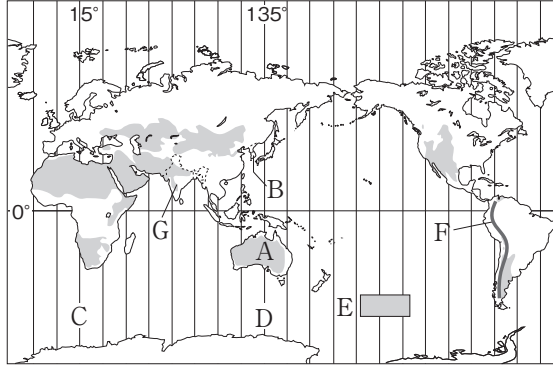
6 南アメリカ州, オセアニア州 次の問いに答えなさい。

- (1) アマゾン川の流域で行われてきた、森林を焼いて畑をつくる農業を何というか。〔 〕
- (2) ブラジルで生産がさかんな、さとうきびなどからつくる燃料を何というか。〔 〕
- (3) オーストラリアの先住民を何というか。〔 〕
- (4) オーストラリアの北西部で、露天掘りでさかんに産出される鉱産資源は何か。〔 〕

練習問題

1 右の地図を見て、次の問いに答えなさい。

- (1) 赤道が通過する大陸名を2つ答えなさい。
- (2) 地図中Aの大陸が位置する州を何というか。
- (3) 地図中Bの国によって不法に占拠せんきょされている日本の領土はどこか。
- (4) 地図中Cはイタリアの、Dは日本の標準時子午線である。2つの国の時差は何時間か。
- (5) イタリアや日本の大部分が属する気候帯は何か。
- (6) 地図中Eの気候の地域にある、水がわき、集落が発達した地域を何というか。
- (7) 地図中Fの山脈の高地で、アルパカとともに飼育されている、おもに荷物の運搬のために用いる家畜を何というか。
- (8) 地図中Gの国の約80%の人々が信仰しんこうしている宗教は何か。

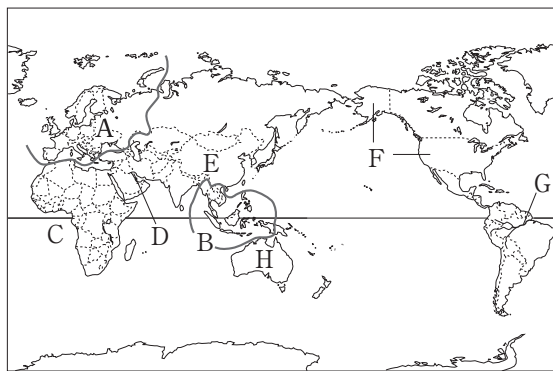


1

(1)	
(2)	
(3)	
(4)	時間
(5)	
(6)	
(7)	
(8)	

2 右の地図を見て、次の問いに答えなさい。

- (1) 地図中A・Bの地域の多くの国々が結びつきを強めるためにつくっている組織をそれぞれ何というか。
- (2) 地図中Cのギニア湾の沿岸で特に生産がさかんな、チョコレートなどの原料となる農作物は何か。
- (3) 地図中Dの湾岸で特に多く産出される鉱産資源を次から選び、記号で答えなさい。
ア 石炭 イ 鉄鉱石 ウ 石油 エ 銅鉱
- (4) 地図中Eの国の工業化の中心となった、外国企業を受け入れてきた5地区をまとめて何というか。
- (5) 地図中Fの国の北緯37度以南の、先端技術(ハイテク)産業が発達している地域を何というか。
- (6) 地図中Fの国に多い、メキシコや中央アメリカ、西インド諸島などからのスペイン語系の移民を何というか。
- (7) 開発にともない流域の熱帯雨林の減少が環境問題となっている、地図中Gの川を何というか。
- (8) 地図中Hの国でかつて行われていた、ヨーロッパ系以外の移民を制限する政策を何主義というか。



2

(1)	A B
(2)	
(3)	
(4)	
(5)	
(6)	
(7)	
(8)	主義