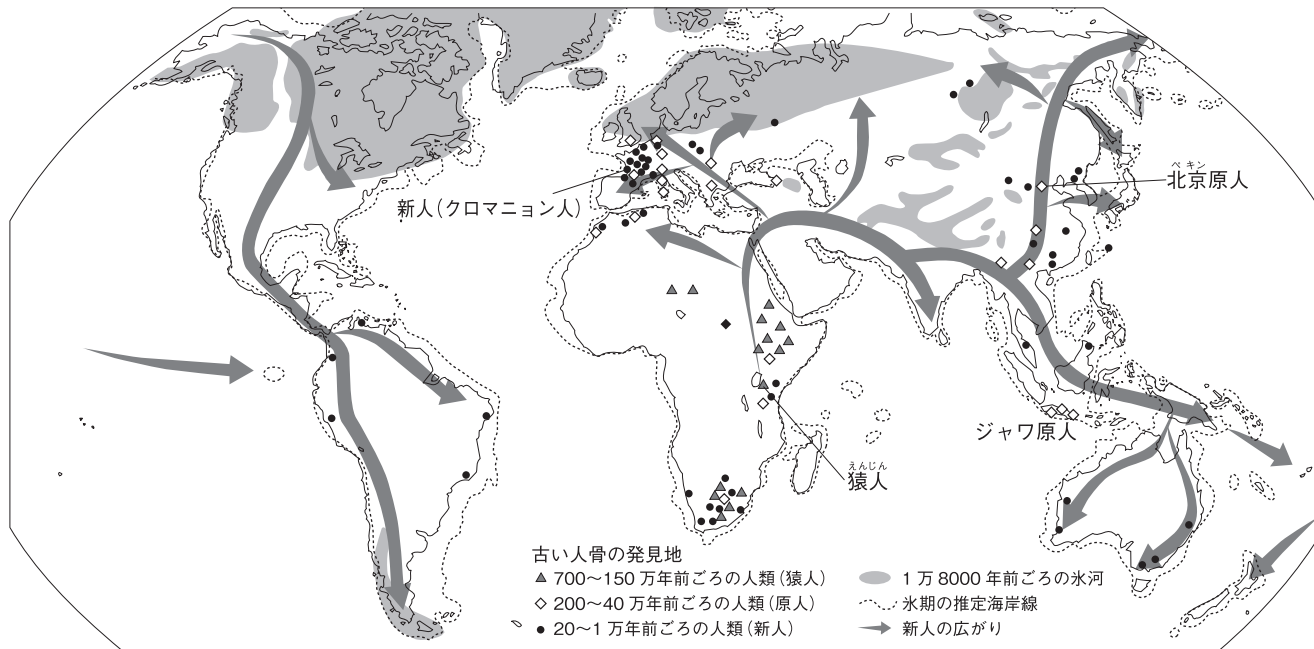


# 第 3 講座 人類の誕生と文明のおこり



## ▲古い人骨の発見地と新人(ホモ・サピエンス)の広がり

### 1 人類の誕生

#### (1) 人類の進化

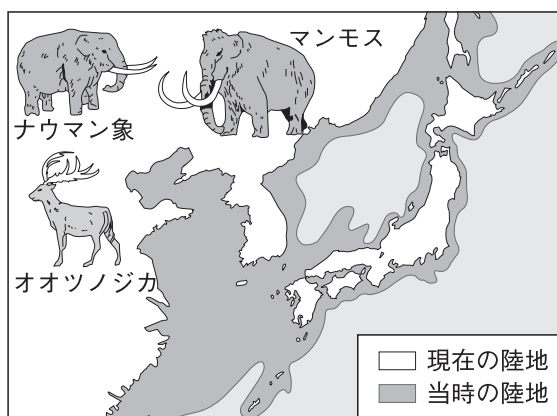
- ① **猿人**…約700~600万年前にアフリカに現れた最古の人類。直立二足歩行を行い、自由になった手で木や石の道具を使った。
- ② **原人**(北京原人, ジャワ原人など)…200万年ほど前の氷河時代に現れた。石を打ち欠いてつくった**打製石器**を使用。火を使い, 言葉を話した。
- ③ **新人**(ホモ・サピエンス)(クロマニヨン人など)…現在の人類の直接の祖先。20万年ほど前にアフリカに現れ, 世界各地に移り住んだ。
- ④ **旧石器時代**…打製石器を使い, 狩りや採集を行っていた時代。日本は大陸と陸続きで, ナウマン象やオオツノジカなどがすんでいた。⇒日本にも旧石器時代があったことは, 岩宿遺跡から打製石器が発見されてわかった。



▲打製石器

#### (2) 農耕と牧畜の始まり

- ① 氷河時代の終わり…1万年ほど前, 地球の温度が上がる⇒大型の動物が死滅するいっぽう, 食用となる木の実が増えた。大河のほとりで麦などの栽培がはじまり, 牛や羊などの家畜を飼育するようになった。
- ② **新石器時代**…**土器**や**磨製石器**を使い, 農耕や牧畜をはじめた時代。



▲氷河時代の日本

### 2 古代文明のおこり

- (1) **エジプト文明**…紀元前3000年ごろ, ナイル川流域の小さな国々が統一され, 大きな国家が生まれた。
  - ① ナイル川は毎年夏にはんらんし, 上流から肥えた土を運ぶ⇒早くから農業が発達し, 小さな国ができた。
  - ② 国王は神のようにあがめられ, 王の墓として巨大なピラミッドがつくられた。

**メソポタミア文明**  
・くさび形文字  
・ハンムラビ法典

**中国文明**  
・殷の都の跡 (殷墟)  
・甲骨文字

**エジプト文明**  
・ピラミッド、スフィンクス  
・象形文字 (神聖文字)

**インダス文明**  
・モヘンジョ=ダロ  
・インダス文字

**エジプト文明**  
象形文字 (神聖文字)

**メソポタミア文明**  
くさび形文字

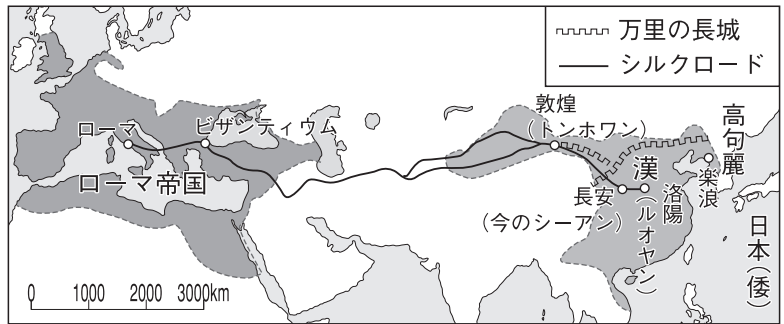
**中国文明**  
甲骨文字

▲大河の流域に生まれた古代文明    ▲モヘンジョ=ダロ    ▲インダス文字    ▲いろいろな文字

- ③ ナイル川のはんらんの時期を知るために天文学が発達し、1年を365日とする太陽暦がつくられた。
- (2) メソポタミア文明…紀元前3000年ごろ、チグリス川・ユーフラテス川流域に多くの都市国家が生まれた。
- ① 天文学が発達し、太陰暦や七曜制、六十進法が考え出された。くさび形文字が使われた。
- ② ハンムラビ法典…紀元前18世紀ごろ、メソポタミアを統一したハンムラビ王が定めた。
- (3) インダス文明…紀元前2500年ごろ、インダス川流域にモヘンジョ=ダロなどの計画都市がつくられた。紀元前1500年ごろ、中央アジアからアーリア人が侵入し、のちのカースト制度となる身分制度をつくった。

### 3 中国の古代文明

- (1) 殷…紀元前16世紀ごろ、黄河流域におこる。すぐれた青銅器や漢字のもととなる甲骨文字が使われた。  
⇒紀元前11世紀、周にほろぼされた。
- (2) 春秋・戦国時代…多くの国が争う時代。紀元前6世紀ごろ孔子が現れ、儒学(儒教)を説いた。この時代、鉄製の農具や武器が広まった。
- (3) 秦…紀元前3世紀、始皇帝が中国を統一。北方の遊牧民の侵入を防ぐため、万里の長城を築いた。
- (4) 漢…秦の滅亡後、中国を統一。朝鮮半島北部から中央アジアまでを支配し、ローマ帝国との間にシルクロード(絹の道)が開かれた。
- (5) 朝鮮半島…紀元前後に、朝鮮半島北部の国々を統一した高句麗がおこった。



### 4 宗教のおこり

- (1) 仏教…紀元前6～5世紀ごろ、インドに生まれたシャカ(釈迦)が開いた宗教。悟りを開くことでこの世の苦しみに逃れられると説いた。のちに中国や日本、東南アジアにも伝えられた。
- (2) キリスト教…紀元前後ごろにパレスチナに生まれたイエスが開いた宗教。神を信じるものはだれでも救われると説いた。最初はローマ皇帝に迫害を受けたが、ローマ帝国各地に広まり、のちに帝国の国教となった。
- (3) イスラム教…アラビア半島に生まれたムハンマド(マホメット)が、7世紀はじめに開いた宗教。唯一の神アラー(アッラー)を信仰する。北アフリカからヨーロッパの一部、東南アジアなどに広まった。

## 確認問題

### 1 人類の誕生 次の問いに答えなさい。

- (1) サヘラントロプス・チャデンシスなど、約700～600万年前にアフリカに現れた最古の人類を何というか。〔 〕
- (2) (1)の後に現れ、北京やジャワ島などで骨の化石が発見された人類を何というか。〔 〕
- (3) 20万年ほど前にアフリカに現れた、現在の人類の直接の祖先を何というか。〔 〕
- (4) 石を打ち欠いてつくった石器を何というか。〔 〕
- (5) (4)の石器を使い、狩りや採集を行っていた時代を何というか。〔 〕
- (6) 日本にも(5)の時代があったことが明らかになった、群馬県の遺跡を何というか。〔 〕
- (7) 氷河時代が終わったのは、今から何万年ほど前か。〔 〕
- (8) 石の表面を磨いてつくった石器を何というか。〔 〕
- (9) 土器や(8)の石器を使い、農耕や牧畜を始めた時代を何というか。〔 〕

### 2 古代文明のおこり 次の文中の□□□□にあてはまる語句を答えなさい。

- (1) エジプトでは、紀元前3000年ごろ、□□□□川流域に大きな国家がおこった。〔 〕
- (2) エジプト人は、川のはんらんの時期を知るために、□□□□という暦をつくった。〔 〕
- (3) 紀元前3000年ごろ、チグリス川・ユーフラテス川流域におこった文明を□□□□という。〔 〕
- (4) 紀元前18世紀ごろにつくられたハンムラビ法典は、粘土板に刻んだ□□□□文字で書かれていた。〔 〕
- (5) インドでは、紀元前2500年ごろ、□□□□川流域にモヘンジョ = ダロなどの計画都市がつくられた。〔 〕

### 3 中国の古代文明 次の問いに答えなさい。

- (1) 紀元前16世紀ごろ、黄河流域で青銅器の文化を発展させた国を何というか。〔 〕
- (2) (1)の国で、政治や祭りの占いの内容を記した文字を何というか。〔 〕
- (3) 紀元前6世紀ごろ、中国で孔子が説いた教を何というか。〔 〕
- (4) 紀元前3世紀に始皇帝が中国を統一して建てた国を何というか。〔 〕
- (5) (4)の国の滅亡後、中国を統一した国を何というか。〔 〕
- (6) (5)の国とローマ帝国を結んだ交通路を何というか。〔 〕
- (7) 紀元前後に朝鮮半島の北部の国々を統一しておこった国を何というか。〔 〕

### 4 宗教のおこり 次の文中の□□□□にあてはまる語句を答えなさい。

- (1) 紀元前6～5世紀ごろ、インドに生まれた□□□□は、悟りを開くことでこの世の苦しみから逃れられると説き、仏教を開いた。〔 〕
- (2) 紀元前後ごろパレスチナに生まれたイエスは、神を信じるものはだれでも救われると説いて、□□□□教をおこした。〔 〕
- (3) アラビア半島に生まれた□□□□が7世紀はじめに開いたイスラム教は、唯一の神アラー(アッラー)を信仰する。〔 〕

# 練習問題

## 1 次の問いに答えなさい。

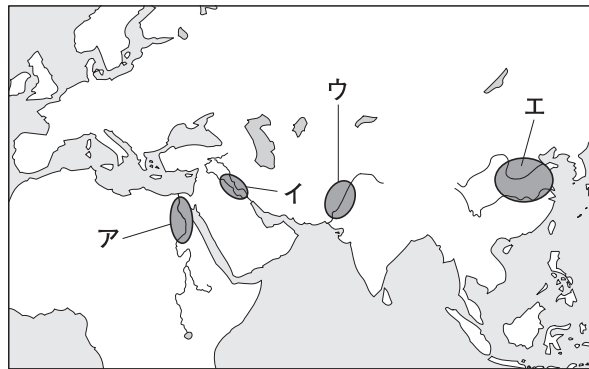
- (1) ヒトは、約700～600万年前に出現したといわれている。サルとちがう、ヒトの特徴としてふさわしくないものを次から1つ選び、記号で答えなさい。
- ア 道具の加工・使用      イ 言語の使用  
ウ 愛情の表現      エ 直立二足歩行
- (2) 最古の人類は約700～600万年前に出現したといわれている。南アフリカで化石が発見された、この人類を何というか。
- (3) 古い人類が使用していた、石を打ち欠いてすどくした石器を何というか。
- (4) 原人が調理や暖をとるために利用していたものは何か。
- (5) 1万年以上前の日本では、大陸からマンモスなどの動物が移りすんでいた。ヒトが狩っていた、マンモスを除く大型の動物を2つ答えなさい。

## 1

|     |  |
|-----|--|
| (1) |  |
| (2) |  |
| (3) |  |
| (4) |  |
| (5) |  |

## 2 右の地図を見て、次の問いに答えなさい。

- (1) 地図中の○は、世界でも早くから文明が発達していた地域である。この地域に共通している点を次から選び、記号で答えなさい。



- ア 大きな湖のほとりである。  
イ 大河の流域である。  
ウ 氷河時代には海に沈んでいた。  
エ 高い山脈のふもとである。
- (2) 次の①、②の文明が発生した場所を地図中のア～エからそれぞれ選び、記号で答えなさい。
- ① 象形(神聖)文字が使われ、巨大なピラミッドやスフィンクスがつくられた。  
② モヘンジョ＝ダロなどの計画的な都市がつくれ、文明が栄えた。
- (3) 中国の文明について、右の年表を見て、次の問いに答えなさい。

- ① 年表のa～dにあてはまる国名を〔 〕からそれぞれ選び、答えなさい。
- 〔 秦      高句麗  
新羅      漢      殷 〕

| 世紀         | できごと              |
|------------|-------------------|
| 紀元前1500年ごろ | 〔 a 〕が栄える         |
| 紀元前6世紀     | 孔子が現れる……………A      |
| 紀元前3世紀     | 〔 b 〕の始皇帝が中国を統一する |
|            | 〔 c 〕が中国を統一する……B  |
| 紀元前後       | 朝鮮北部を〔 d 〕が統一するC  |

- ② 年表中のAのころ、インドでシャカ(釈迦)が説いた宗教は何か。  
③ 年表中のBのころ、中国とローマ帝国とを結ぶ交通路が開かれた。この交通路を何というか。  
④ 年表中のCのころ、パレスチナでイエスがおこした宗教は何か。

## 2

|     |                                   |
|-----|-----------------------------------|
| (1) |                                   |
| (2) | ①<br>②                            |
| (3) | a<br>b<br>① c<br>d<br>②<br>③<br>④ |