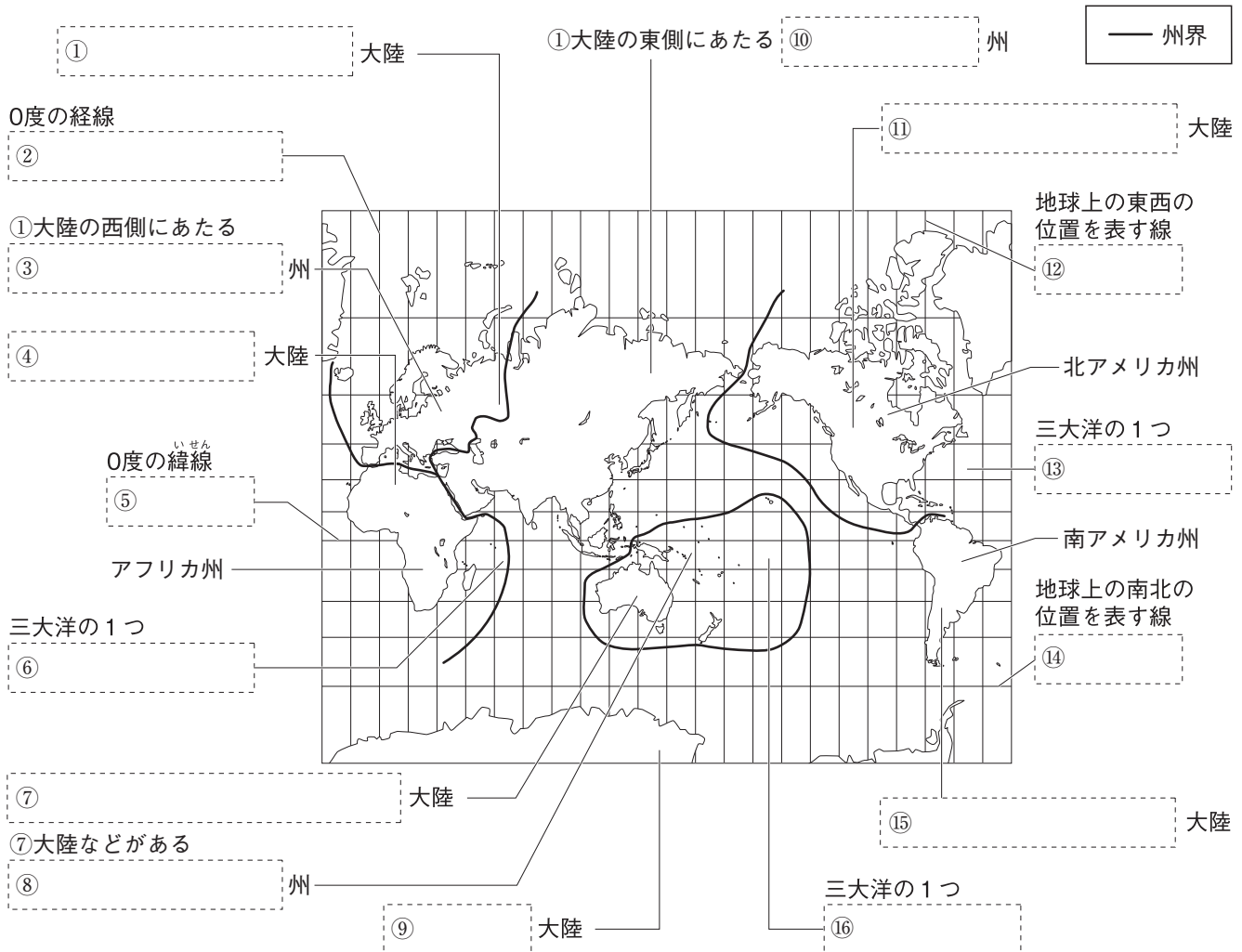


第 1 講座 世界のすがた

1 六大陸と三大洋、州 次の地図の〔 〕にあてはまる語句を答えなさい。



2 世界の国々 次の文にあてはまる国名や語句を、右のページの〔 〕から選んで答えなさい。

- (1) 直線の国境が多く見られる大陸。〔 〕
- (2) まわりを海に囲まれた国のこと。〔 〕
- (3) 海に面していない国のこと。〔 〕
- (4) 世界で最も面積が大きい国。〔 〕
- (5) 世界で2番目に面積が大きい国。〔 〕
- (6) 世界で最も面積が小さい国。〔 〕
- (7) 世界で最も人口が多い国。〔 〕
- (8) 世界で2番目に人口が多い国。〔 〕
- (9) 正式名を「ネーデルラント(低地)」という、ヨーロッパ州の国。〔 〕
- (10) 国名が探検家コロンブスの名前に由来する、南アメリカ州の国。〔 〕
- (11) 国名が国土を通る「赤道」に由来する、南アメリカ州の国。〔 〕
- (12) 「ユニオンジャック」とよばれる国旗をもつヨーロッパ州の国。〔 〕

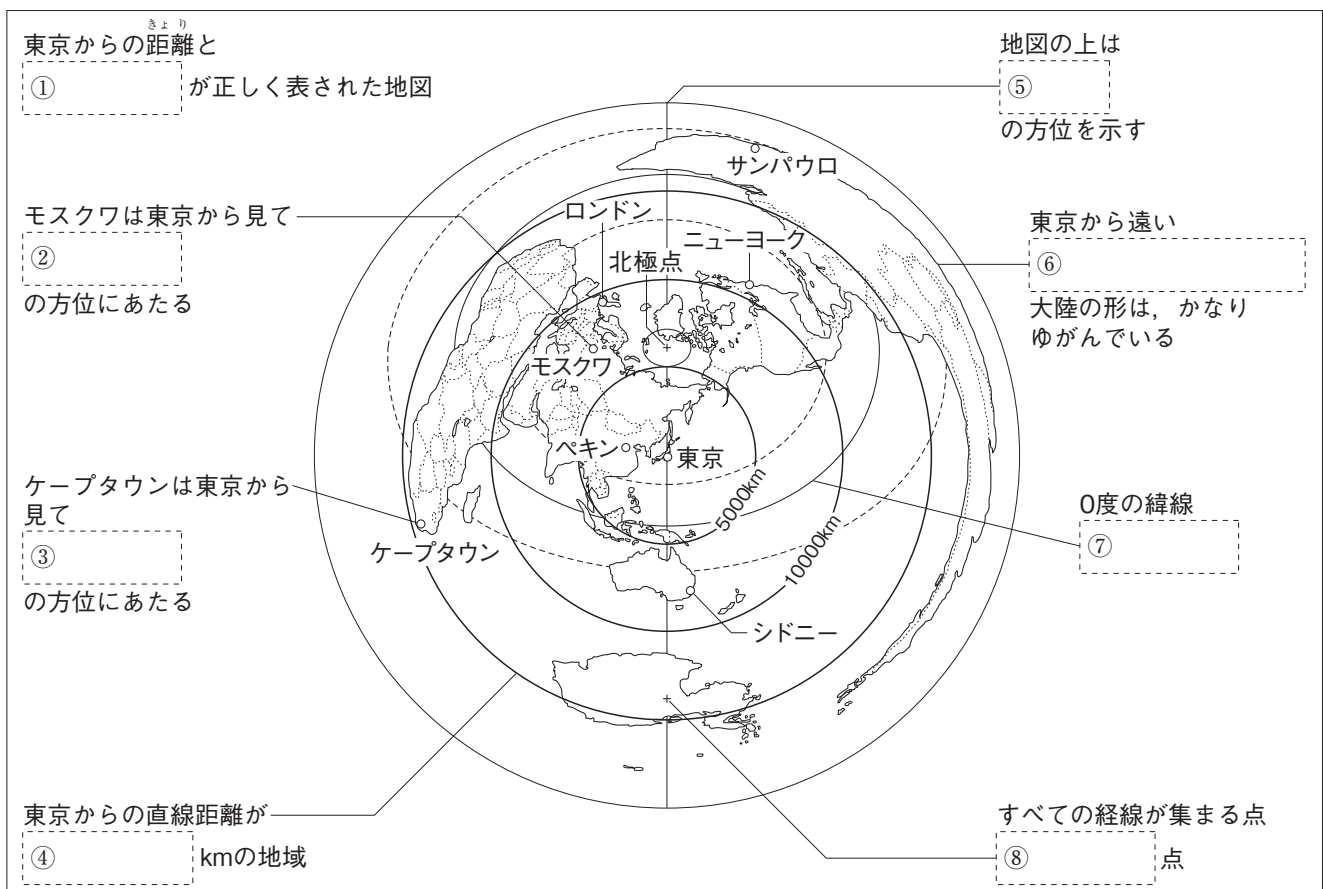
- (13) 三日月と星を描いた国旗をもつ南アジアの国。 []
- (14) 南十字星が描かれている国旗をもつオセアニア州の国。 []

中国 パキスタン ロシア連邦 ブラジル バチカン市国 コロンビア イギリス
 南アメリカ大陸 アフリカ大陸 カナダ インド ニュージーランド 内陸国 ドイツ
 島国(海洋国) エクアドル オランダ

3 緯度と経度 次の問いに答えなさい。

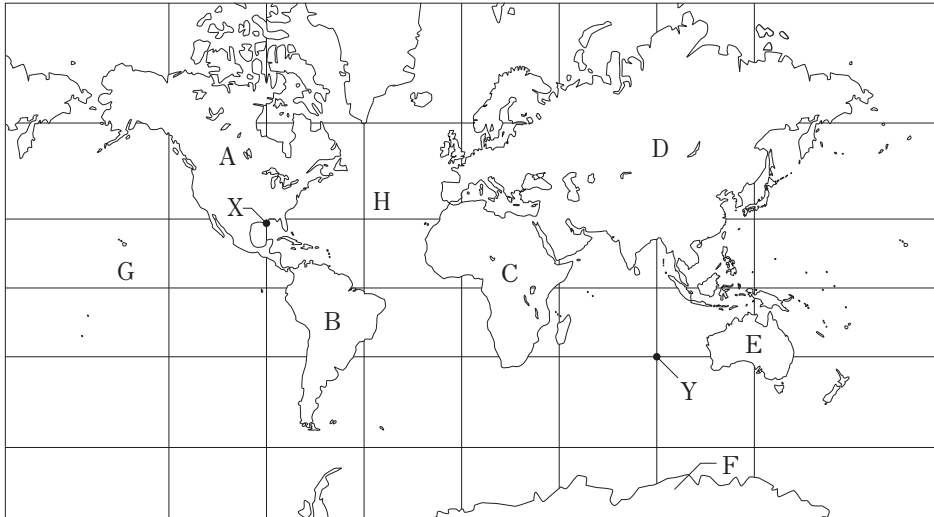
- (1) 北緯90度にあたる地点を何というか。 []
- (2) 南緯90度にあたる地点を何というか。 []
- (3) 赤道に平行な線を何というか。 []
- (4) 0度の経線が通っているイギリスの首都はどこか。 []
- (5) 赤道をはさんで、地球の北半分の半球を何というか。 []
- (6) 赤道をはさんで、地球の南半分の半球を何というか。 []
- (7) 地球は地軸をかたむけて太陽のまわりを1年かけて回っていることから、同じ緯度の地域でも1年の間に何のちがいが生まれるか。 []
- (8) 一般的に、緯度が高くなるほど気温は高くなるか、低くなるか。 []
- (9) (5)の高緯度地域では、夏至のころ、夜になっても太陽が完全にしずまず、うす明るい状態が続く。この現象を何というか。 []

4 地球儀と図法 次の地図の[]にあてはまる語句や数字を答えなさい。



STEP 問題

1 次の地図を見て、あとの問いに答えなさい。



- (1) 地図中のA・Cの大陸名をそれぞれ答えなさい。
- (2) 地図中のA～Fのうち、実際の面積が最大の大陸はどこか。記号で答えなさい。
- (3) 地図中のG・Hの大洋名をそれぞれ答えなさい。
- (4) 地図中のXの位置は、「北緯30度、西経90度」と表すことができる。Yの位置を同じように表しなさい。なお、地図中の緯線は0度を基準に30度ごとに、経線は0度を基準に45度ごとに引かれている。

2 右の図を見て、次の問いに答えなさい。

- (1) 図は、地球をそのまま縮めてつくられた模型の一部を描いている。このような模型を何というか。
- (2) 図中の横の線を何というか。
- (3) 図中のたての線を何というか。
- (4) 図中のXは180度の線である。Xより西半分の地球を何というか。
- (5) 図中に見られる3つの大陸名を、面積の大きい順に答えなさい。
- (6) 図中のYは三大洋の1つである。Yの大洋名を答えなさい。
- (7) 図中のZの付近では、12月の半ばには、夜になっても太陽が完全にしずまず、うす明るい状態が続く。この現象を何というか。
- (8) 図中の日本とオーストラリアの関係について誤って述べた文を次から1つ選び、記号で答えなさい。
 - ア 日本とオーストラリアには同じ経線が通っている。
 - イ 日本とオーストラリアには同じ緯線が通っている。
 - ウ 日本が夏のとき、オーストラリアは冬である。



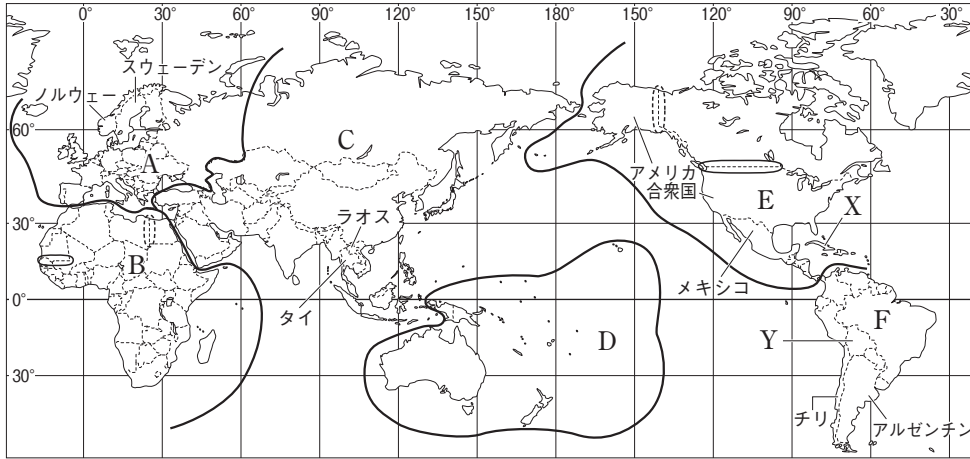
1

(1)	A
	C
(2)	
(3)	G
	H
(4)	

2

(1)	
(2)	
(3)	
(4)	
(5)	大 ↑ 小 ↓
(6)	
(7)	
(8)	

3 次の地図を見て、あとの問いに答えなさい。



- (1) 地図中のAの州について、次の問いに答えなさい。
- ① Aの州にある、世界で最も面積が小さい国はどこか。
 - ② Aの州には、「ユニオンジャック」とよばれる国旗をもつ国がある。この国はどこか。
- (2) 地図中のCの州について、次の問いに答えなさい。
- ① Cの州は、さらにいくつかの地域に区分される。次のX～Zの国が属する地域名をそれぞれ答えなさい。
X インドネシア Y サウジアラビア Z 韓国
 - ② Cの州にある、世界で最も人口が多い国はどこか。
 - ③ Cの州にある、国名が「インダス川」に由来する国はどこか。
- (3) 地図中のAの州とCの州にまたがる、世界で最も面積が大きい国はどこか。
- (4) 地図中のDの州には、国旗に□星が描かれている国が多い。□にあてはまる語句を答えなさい。
- (5) 地図中のFの州の国のうち、0度の緯線と関係の深い国名をもつ国はどこか。
- (6) 次の①～④の国境の基準となっているものを、あとのア～オからそれぞれ選び、記号で答えなさい。
- ① 地図中のAの州のノルウェーとスウェーデンや、Fの州のチリとアルゼンチンの国境。
 - ② 地図中のCの州のタイとラオスや、Eの州のアメリカ合衆国とメキシコの国境。
 - ③ 地図中のBの州やEの州に○で示した国境。
 - ④ 地図中のBの州やEの州に◇で示した国境。
- ア 湖 イ 川 ウ 山脈 エ 経線 オ 緯線
- (7) 地図中のXの国のように、まわりを海に囲まれた国を、次から選び、記号で答えなさい。
- ア スイス イ スリランカ ウ マレーシア エ トルコ
- (8) 地図中のYの国のように、海に面していない国を、次から選び、記号で答えなさい。
- ア モンゴル イ ドイツ ウ ペルー エ エジプト

3

(1)	①
	②
(2)	X
	① Y
	Z
	②
	③
(3)	
(4)	星
(5)	
(6)	①
	②
	③
	④
(7)	
(8)	