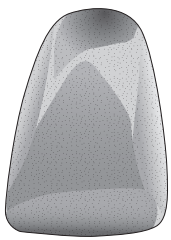


# 第 3 講座 人類の誕生と文明のおこり

1 人類の誕生と文明のおこり 次の表の〔 〕にあてはまる語句を答えなさい。

<p><b>人類の誕生</b></p> <p>① …およそ700～600万年前に出現した最も古い人類</p> <p>原人…およそ200万年前に出現。打製石器を使用，火を使い言葉を話す</p> <p>② …およそ20万年前に出現。現在の人類の直接の祖先</p> <p><b>文明のおこり</b></p> <p>土器，③ 石器の使用→農耕・<small>ぼくちく</small>牧畜→文明の発生</p> <p>古代文明…大河のほとりに発生</p> <ul style="list-style-type: none"> <li>・エジプト文明…④ 川</li> <li>・メソポタミア文明…チグリス川・ユーフラテス川</li> <li>・⑤ 文明…インダス川</li> <li>・中国文明…⑥ <small>ちやうこう</small>長江流域で発達 <small>チヤンチヤン</small></li> </ul> <p>→<small>いん</small>殷(青銅器文化)→<small>しゅう</small>周→<small>しん</small>秦(紀元前221年，⑦ が統一)→<small>かん</small>漢(紀元前202年)</p>	 <p>▲ ③ 石器</p>
----------------------------------------------------------------------------------------------------------------------------------------------------------------------------------------------------------------------------------------------------------------------------------------------------------------------------------------------------------------------------------------------------------------------------------------------------------------------------------------------------------------------------------------------	---------------------------------------------------------------------------------------------------

2 人類の誕生 次の問いに答えなさい。

- 人類の祖先が，他の動物と比べて違っていた特徴は，何を使って獲物えものをとるようになったことか。〔 〕
- アフリカで骨が発見された，現在確かめられている最古の人類を何というか。〔 〕
- 長い年月をかけて進化していった人類は，火を使って食物を加工することを覚えるとともに，仲間との意思の伝達をはかるために何を発達させていったか。〔 〕
- 中国で骨が発見された，今から数十万年前に生活していた人類を何というか。〔 〕
- 石を打ち欠いてつくった石器を何というか。〔 〕
- (5)を使い，狩りや採集を行っていたころの時代を何というか。〔 〕
- 表面をみがいて使いやすくした石器を何というか。〔 〕
- (7)や土器を使い，農耕や牧畜を行うようになった時代を何というか。〔 〕

3 文明のおこり・宗教のおこり 次の文中の〔 〕にあてはまる語句や人物名を答えなさい。

- ナイル川の流域に発達した〔 〕文明では，巨大な建築物がつくられた。〔 〕
- チグリス川・ユーフラテス川の流域に発達した〔 〕文明では，くさび形文字が使用された。〔 〕
- 紀元前後ごろにパレスチナに〔 〕が現れ，その教えがキリスト教になった。〔 〕
- 紀元前6～5世紀ごろのインドでは，〔 〕が現れ，人はみな平等であり，心の迷いを取り去れば苦しみから逃れられると説いて，仏教を開いた。〔 〕
- 7世紀にアラビア半島に〔 〕が現れ，唯一の神アラー(アッラー)を信仰するイスラム教を開いた。〔 〕

**4 古代文明の発生地** 次の図の[ ]にあてはまる語句を答えなさい。

① 文字 (船)

② 文明

③ 文明

④ 文字 (ナイル川)

⑤ 文字

⑥ 文明

⑦ 文明

⑧ の都市遺跡

**5 中国の文明と古代国家** 中国の古代国家の流れをまとめた次の図の[ ]にあてはまる語句を書き、あとの問いに答えなさい。

殷 (紀元前16世紀ごろ)……すぐれた① 器が作られる

↓

② (紀元前11世紀ごろ)

↓

(春秋・戦国時代) (紀元前8～紀元前3世紀ごろ)……孔子の教え→のちの③ のもととなる

↓

④ (紀元前221～紀元前202年)……始皇帝の統一、⑤ の建設

↓

⑥ (紀元前202～紀元220年)……東西の交通路の発達

▲ ① 器

▲ 孔子

▲ ⑤

- (1) ⑥の時代に発達した、中国と西方を結ぶ交通路を何というか。 [ ]
- (2) ⑥の影響を受けて、朝鮮半島北部におこった国を何というか。 [ ]

1 次の文を読んで、あとの問いに答えなさい。

① アフリカ南部で、今から700～600万年ほど前の地層から化石人骨が発見された。この人類は直立歩行していたことがわかり、石器も同時に発掘された。数十万年前の② 中国の地層から発掘された人類は、石器とともに火を使っていたことがわかった。

今から20万年ほど前には、③ 現在の人類の直接の祖先にあたる人類が現れた。このころまでの人類の祖先は、④ 石を打ち欠いてつくった石器を使い、採集や狩りの生活を送っていた。

今から1万年ほど前になると、気候が暖かくなって氷河時代が終わった。このころから人類は、⑤ 野生の植物の中からよく実のなるものを選んで栽培したり、野生の動物を飼いならしたりした。こうして農耕や牧畜が始まると、人類はむらをつくって定住するようになり、⑥ 表面をみがいた石器や、食物を煮たり保存したりするための土器がつけられ、織物も織られるようになった。

(1) 下線部①について、この人類を何というか。

(2) 下線部②について、この人類を何というか。

(3) 下線部③について、この人類を何というか。

(4) 下線部④について、次の問いに答えなさい。



① この石器を何というか。

② この石器が使われていた時代を、何時代とよんでいるか。

(5) 下線部⑤について、チグリス川・ユーフラテス川流域では小麦・大麦などの栽培が始まった。あてはまる場所を上地図中のア～エから選び、記号で答えなさい。

(6) 下線部⑥について、次の問いに答えなさい。

① この石器を何というか。

② この石器が使われた時代を、何時代とよんでいるか。

(7) 次の3つの道具について、人類が利用するようになった順番に並べかえて答えなさい。

青銅器 鉄器 石器

2 次のページの地図を見て、次の問いに答えなさい。

(1) 地図中の①の地域でつくられた、国王の大きな墓を何というか。

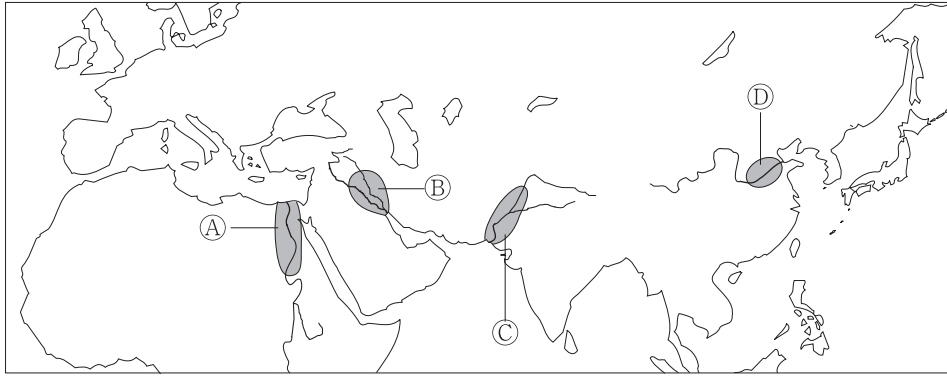
(2) 地図中の②の地域では、紀元前18世紀ごろ、法律が整えられた。この法律を整えた王はだれか。

1

(1)	
(2)	
(3)	
(4)	①
	②
(5)	
(6)	①
	②
(7)	→
	→

2

(1)	
(2)	王



(3)	
(4)	
(5)	

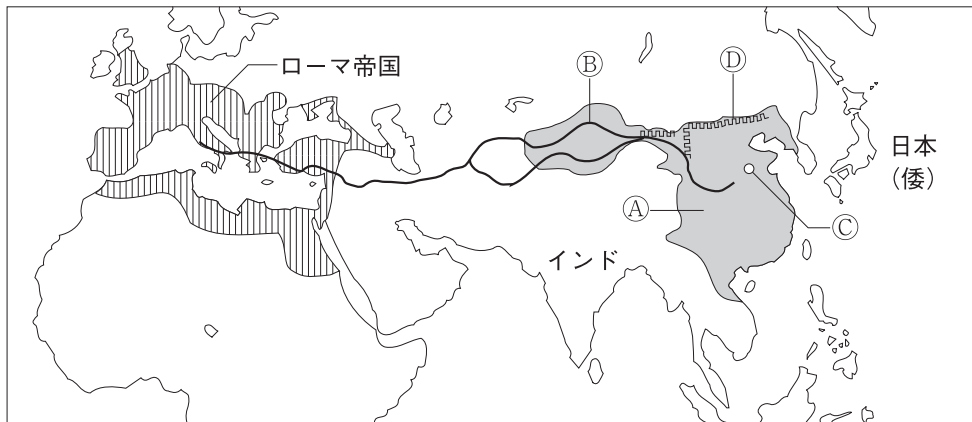
(3) 地図中の③の地域で発達した文明にかかわりの深いものを、次から選び、記号で答えなさい。

- ア くさび形文字      イ モヘンジョ＝ダロ  
ウ スフィンクス      エ 六十進法

(4) 地図中の④の地域でおこった殷で、うらないに用いた亀の甲や牛の骨に刻まれた文字を何というか。

(5) 紀元前11世紀ごろ、殷を滅ぼして中国を支配した王朝を何というか。

**3** 2世紀ごろの世界を示した次の地図を見て、あとの問いに答えなさい。



(1)	
(2)	
(3)	
(4)	
(5)	王朝
	皇帝
	①
(6)	②
	③

(1) 地図中の①は紀元前202年に中国を統一した国である。その国名を答えなさい。

(2) ①の影響から朝鮮半島北部に建てられた国を何というか。

(3) 地図中の②は、①とローマ帝国を結ぶ交通路を示している。この交通路は中国の絹を運んだために何とよばれたか。カタカナで答えなさい。

(4) 地図中の③で生まれた人物は、紀元前6世紀ごろ、儒学(儒教)のもととなる教を説いた。この人物の名を答えなさい。

(5) 地図中の④は、紀元前3世紀に北方の遊牧民族の侵入に備えて築かれた万里の長城を示している。これを築いた王朝名を答えなさい。また、その皇帝の名を答えなさい。

(6) 次の①～③にあてはまる宗教の名をそれぞれ答えなさい。

- ① イエスの教をもちとし、やがてローマ帝国の国教となった。  
② インドに現れたシャカ(釈迦)が開き、②の交通路をって中国にも伝えられた。  
③ 7世紀にアラビア半島でムハンマド(マホメット)が開いた。