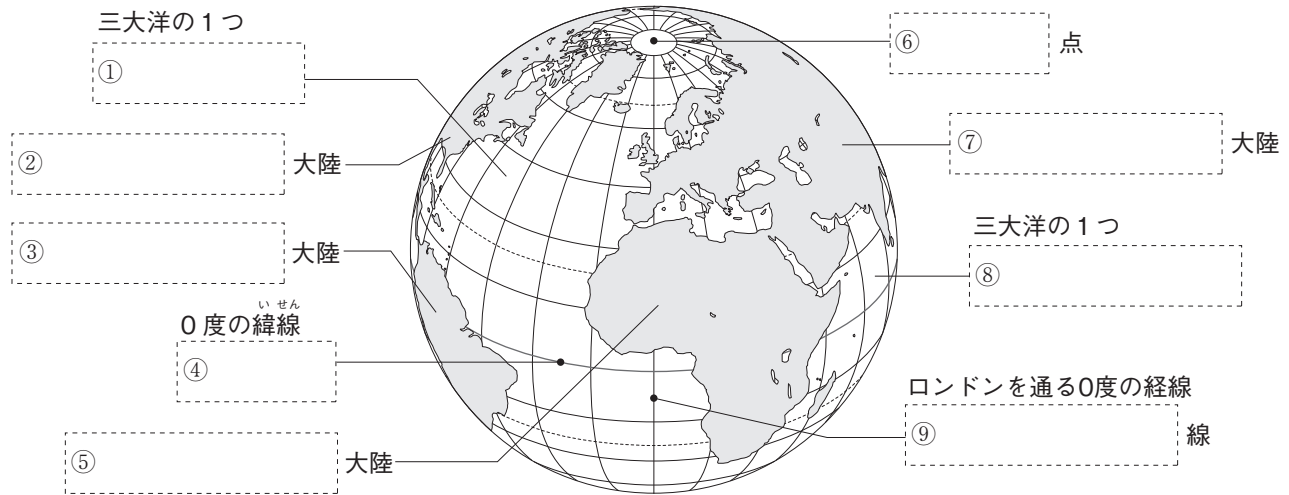


第 1 講座 地理の復習

1 世界のすがた 次の地図の〔 〕にあてはまる語句を答えなさい。



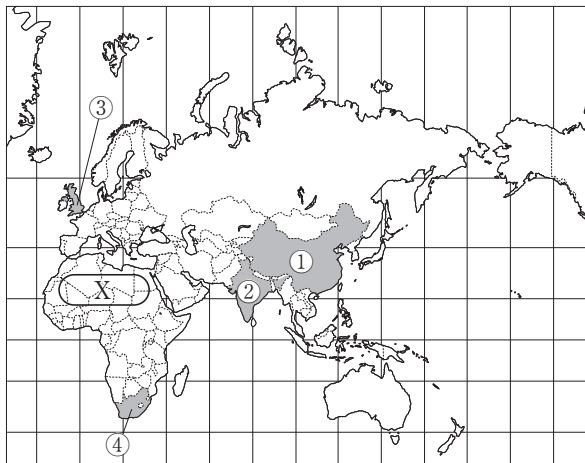
2 日本のすがた 次の文中の〔 〕から正しい数字や語句を選んで答えなさい。

- (1) 日本は北緯〔20 25〕度から46度、東経122度から154度の範囲に位置する。〔 〕
- (2) 地球はほぼ24時間で1回転しているため、経度が〔15 30〕度違うと1時間の時差が生まれる。〔 〕
- (3) 日本の北端に位置する島は択捉島で、南端に位置する島は〔沖ノ鳥島 南鳥島〕である。〔 〕
- (4) 日本は、約3000kmにわたってのびる〔内陸国 島国〕である。〔 〕
- (5) 国の主権がおよぶ領土・領海・領空をまとめて〔領域 国土〕という。〔 〕
- (6) 領海の外側の、海岸線から200海里以内の範囲の海は〔公海 排他的経済水域〕とされている。〔 〕
- (7) 日本の国土面積は約〔23 38〕万km²である。〔 〕
- (8) 北海道東部の歯舞群島・色丹島・国後島・択捉島を、まとめて〔北方領土 尖閣諸島〕という。〔 〕

3 世界の人々の生活と環境 次の問いに答えなさい。

- (1) 北極海に面したカナダ北部やアラスカに住む先住民を何というか。〔 〕
- (2) カナダ北部やロシア北部などに広がる針葉樹林を何というか。〔 〕
- (3) 西アジアや北アフリカでは、えさとなる牧草や水を求めて、家畜とともに移動する牧畜が行われている。このような牧畜を何というか。〔 〕
- (4) 西アジアや北アフリカの人々の多くが信仰している宗教は何か。〔 〕
- (5) 南太平洋の島々などの周辺に発達している、美しい岩礁を何というか。〔 〕
- (6) 南太平洋のサモアなどが属する、一年じゅう気温が高い気候帯を何というか。〔 〕
- (7) 標高4000m付近で人々が生活する、南アメリカ州にある険しい山脈は何か。〔 〕
- (8) (7)の高地でアルパカとともに飼育され、荷物の運搬などに利用される家畜は何か。〔 〕

左の地図を見て、次の問いに答えなさい。



- (1) 地図中①～④の国名を答えなさい。

①〔 〕 ②〔 〕

③〔 〕 ④〔 〕

(2) 地図中①の国の国民の90%以上を占めている民族は何か。
〔 〕

(3) 地図中②の国の国民の多くが信仰している宗教は何か。
〔 〕

(4) 西アジアなどの産油国が石油価格の安定などをはかって
結成した組織を何というか。〔 〕

(5) 地図中③の国は日本よりも高緯度に位置するが、冬でも
ひかく
比較的温暖である。この一因である、一年じゅう吹く西よりの風を何というか。〔 〕

(6) ヨーロッパの国々が、1993年に経済の統合などを目指して結成した組織を何というか。
〔 〕

(7) 地図中Xに広がるさばく砂漠を何というか。〔 〕

(8) 地図中④の国では、マンガンやクロムなどさいくつ採掘量が限られている金属が多く産出される。このような金属
を何というか。〔 〕

を見て、次の問いに答えなさい。



- (1) 地図中①～⑤の国名を答えなさい。 ①〔 〕
②〔 〕 ③〔 〕
④〔 〕 ⑤〔 〕
- (2) 地図中②の国では、各地の自然条件などに合った作物を栽培する農業が行われている。これを何というか。〔 〕
- (3) 地図中②の国の北緯37度以南の、先端技術(ハイテク)産業が発達している温暖な気候の地域を何というか。〔 〕
- (4) 地図中②の国は多くの民族が共存する多民族国家である。②の国で増えている、スペイン語圏からの移民を何というか。〔 〕
- (5) 地図中Xの川を何というか。〔 〕
- (6) 地図中②や④の国では、とうもろこしやさとうきびを原料とする燃料をつくっている。このような燃料を何というか。〔 〕

に答えなさい。

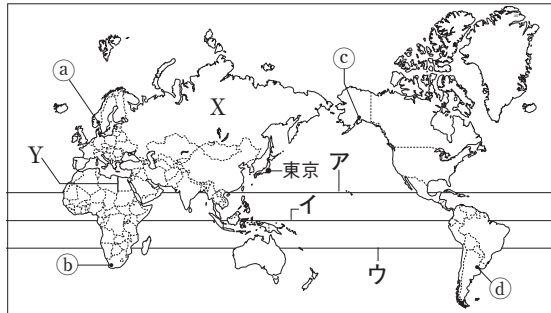


- (1) 地図中①、②の国名を答えなさい。
- ①〔 〕 ②〔 〕
- (2) 地図中①、②の国に住む先住民をそれぞれ何というか。
- ①〔 〕 ②〔 〕
- (3) 地図中①、②の国で飼育がさかんな家畜は何か。〔 〕
- (4) 地図中①の国では、かつて、白人以外の移民を制限する政策をとっていた。この政策を何というか。〔 〕

STEP 問題

1 右の地図を見て、次の問いに答えなさい。

- (1) 赤道にあたる緯線を、地図中のア～ウから選び、記号で答えなさい。
- (2) 地図中の東京の位置を緯度と経度を使って表すと、およそ「①35度、②140度」となる。①・②にあてはまる語句をそれぞれ答えなさい。



- (3) 世界の陸地面積の1割以上を占める、地図中X国の国名を答えなさい。
- (4) 地図中Yの直線的な国境は、何を基準に決められているか。
- (5) 地図中a～dのうち、日本からの距離が最も遠い都市を選び、記号で答えなさい。

1

(1)	
(2)	①
	②
(3)	
(4)	
(5)	

2 右の地図を見て、次の問いに答えなさい。

- (1) 次の文中のa・bにあてはまる語句をそれぞれ答えなさい。

この地図は、a大陸の上空から見た日本を描いたものである。海に囲まれている日本とは異なり、海に面していない国はbとよばれる。

- (2) 地図中A・Bをめぐる日本との間に領土問題が発生している国を、地図中のア～ウからそれぞれ選び、記号で答えなさい。



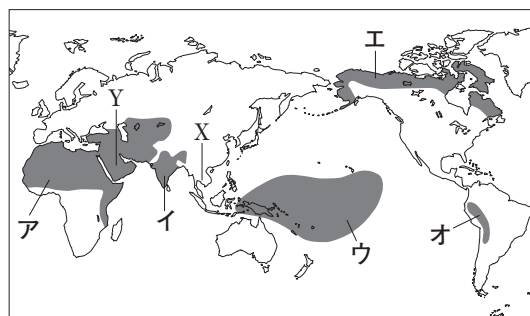
- (3) 数多くの島からなる日本の中で、地図中Cは最も大きな島である。この島の名を答えなさい。
- (4) 日本は東経135度の経線を標準時子午線としている。本初子午線が通るイギリスとの時差は何時間か。

2

(1)	a
	b
(2)	A
	B
(3)	
(4)	時間

3 右の地図を見て、次の問いに答えなさい。

- (1) 地図中Xの半島に住む人々の多くが信仰している宗教は何か。
- (2) 地図中Yの半島の砂漠には、水が得られ、樹木が育ち、集落や畑が見られる場所がある。このような場所を何というか。
- (3) 次のページの①～③の文にあ



てはまる地域を、地図中のア～オからそれぞれ選び、記号で答えなさい。

3

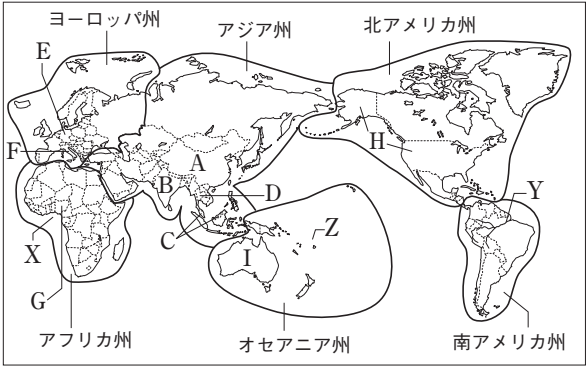
(1)	
(2)	

- ① 一年じゅう暑くて雨が多く、人々はタロイもなどのいも類を主食としている。
- ② 標高約4000mの高地で、人々はリヤマやアルパカを飼っている。
- ③ 寒冷な土地で、人々はあざらしやカリブーなどの狩猟しゅりょうを行ってきた。

4 世界を6つの州に分けた右の地図を見て、次の問いに答えなさい。

(1) 地図中のアジア州について、次の問いに答えなさい。

- ① 地図中A国の人口は約14.26億人、B国の人口は約14.29億人である(2023年)。A、B国の人口の合計は、世界の人口(約80億人)の約何分の1か。



- ② 地図中C、D国などの東南アジア諸国が、地域の経済・社会の発展を目指して結成した地域組織を何というか。

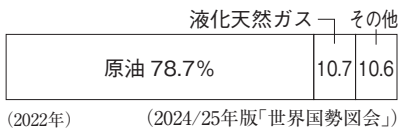
(2) 地図中のヨーロッパ州について、次の問いに答えなさい。

- ① 地図中E、F国に多く住む民族を次からそれぞれ選び、記号で答えなさい。
ア ラテン系民族 イ スラブ系民族 ウ ゲルマン系民族
- ② ヨーロッパ連合(EU)では、拡大にともない、加盟国間の経済力の□の問題が課題となっている。□にあてはまる語句を答えなさい。

(3) 地図中のアフリカ州について、次の問いに答えなさい。

- ① 沿岸でカカオ豆さいいばいの栽培がさかんな、地図中Xの湾わんを何というか。

- ② 右のグラフは、地図中G国の輸出品の割合を示している。このように、特定の鉱産資源や農産物の輸出にたよっている経済を何というか。



(4) 地図中の北アメリカ州について、次の問いに答えなさい。

- ① 地図中H国では、広い農地で大型機械を使って、利益を上げることを目的とする□な農業を大規模に行っている。□にあてはまる語句を答えなさい。
- ② H国のサンフランシスコの郊外こうがいには、情報通信技術(ICT)関連の企業が集中している。この地域を何というか。

(5) 地図中の南アメリカ州について、次の問いに答えなさい。

- ① 地図中Y川の流域では、森林を焼き、その灰を肥料に用いた農業が伝統的に行われてきた。このような農業を何というか。
- ② Y川の流域では、地域開発によって□の面積が急速に減少し、環境問題となっている。□にあてはまる語句を漢字4字で答えなさい。

(6) 地図中のオセアニア州について、次の問いに答えなさい。

- ① 地図中Zの島々で見られる美しい岩礁がんしょうを何というか。
- ② 様々な民族が共存する地図中I国では、多様な民族の文化を尊重する社会を築こうとしている。このような社会を何というか。

(3)	①
	②
	③

4

(1)	① 約 分の1
	②
(2)	① E
	F
(3)	①
	②
(4)	①
	②
(5)	①
	②
(6)	①
	②