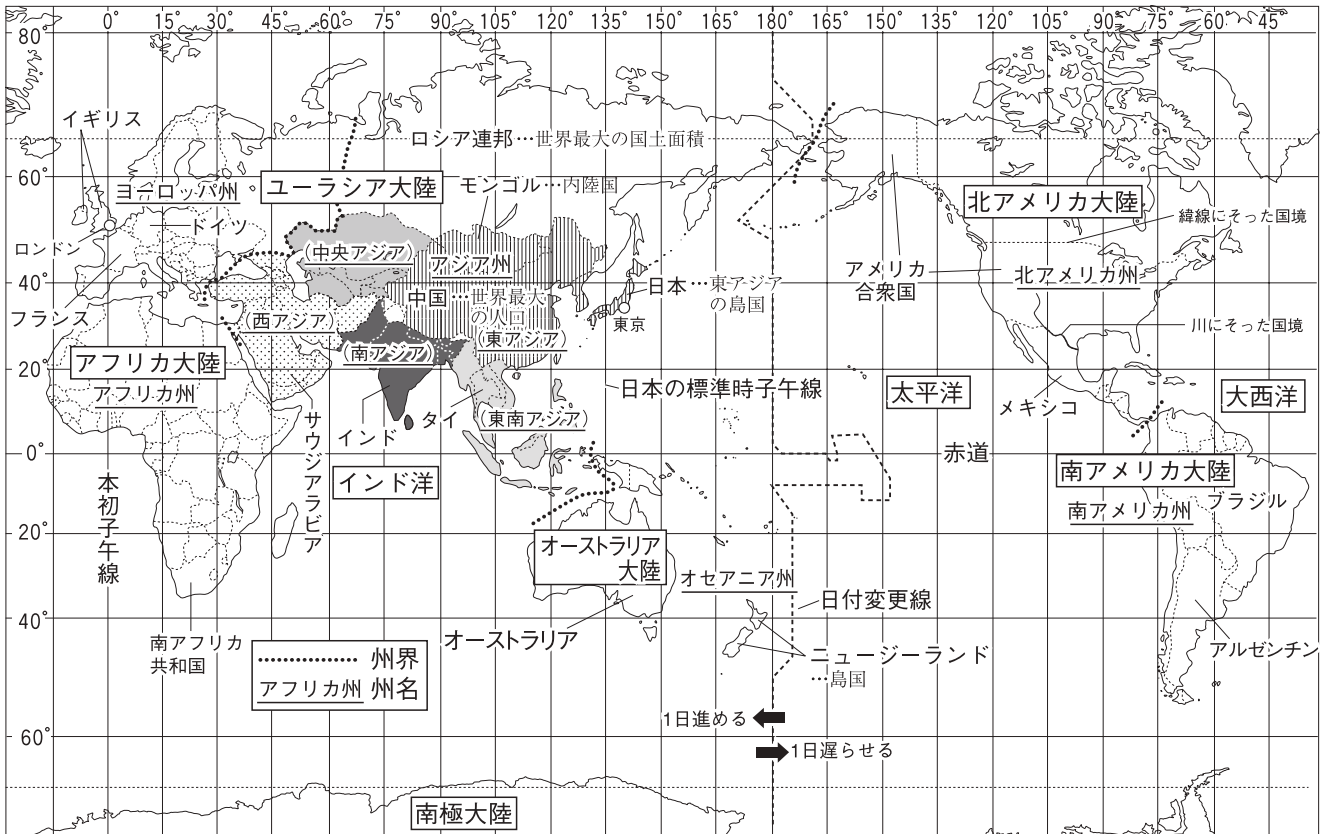


第 1 講座 世界のすがた, 人々の生活と環境



1 世界のすがた

(1) 大陸と大洋…地球表面の陸地と海洋の面積比は3:7。

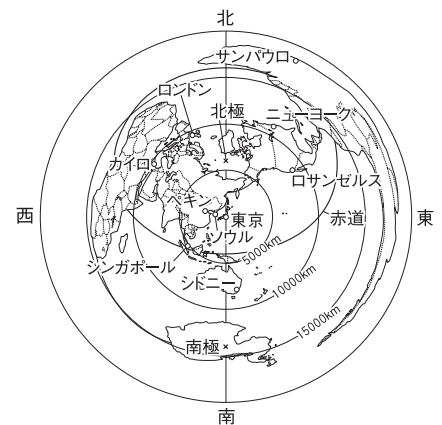
- ① 六大陸…ユーラシア大陸, アフリカ大陸, 北アメリカ大陸, 南アメリカ大陸, オーストラリア大陸, 南極大陸。ユーラシア大陸が最大で, 3つの大洋に面している。
- ② 三大洋…太平洋, 大西洋, インド洋。太平洋が最大で, 5つの大陸に囲まれている。

(2) 地球儀と世界地図

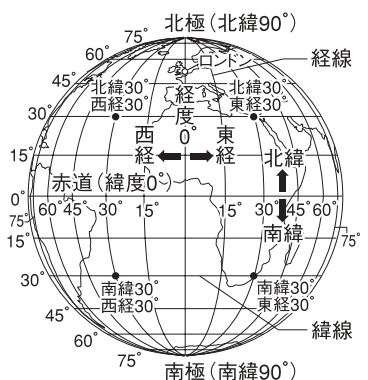
- ① 地球儀…地球を縮めた模型で, 地球をほぼ正確に表している。
- ② 世界地図…球体である地球を平面で表す世界地図には, 距離, 面積, 方位, 形などを一度に正確に表すことはできない。使う目的に応じて, さまざまな種類の地図がつけられている。

(3) 緯度と経度…地球上の各地点の位置は, 緯度と経度で表すことができる。

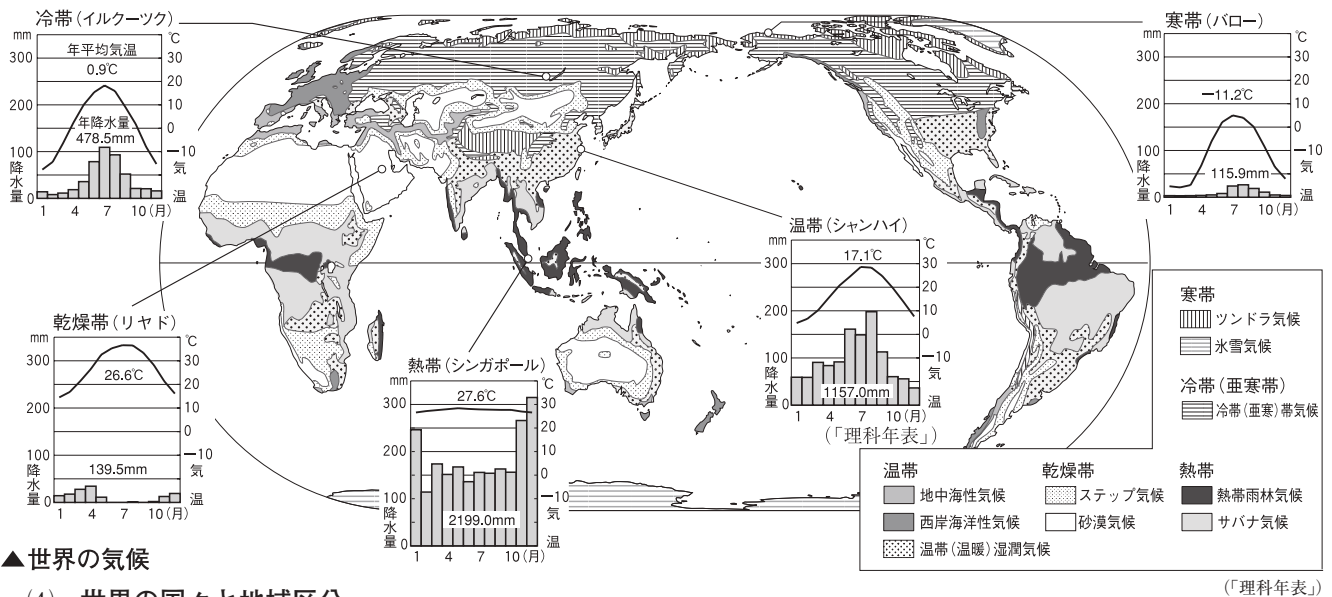
- ① 緯度…赤道に平行な線で, 緯度を表す。赤道を0度とし, 北極点と南極点までをそれぞれ90度に分け, 赤道より北を北緯, 南を南緯とよぶ。同じ緯度を結んだ線を緯線という。
- ② 経度…北極点と南極点を結ぶ線で, 経度を表す。ロンドンを通る本初子午線を0度とし, 東西をそれぞれ180度に分け, 本初子午線より東側を東経, 西側を西経とよぶ。同じ経度を結んだ線を経線という。



▲中心からの距離と方位が正しい地図



▲緯線と経線



▲世界の気候

(4) 世界の国々と地域区分

- ① 地域区分…アフリカ州, ヨーロッパ州, アジア州, オセアニア州, 北アメリカ州, 南アメリカ州の6つの州。アジア州は, さらに東アジア, 東南アジア, 南アジア, 西アジア, 中央アジアなどに分けられる。
- ② 世界の国々の面積…最大はロシア連邦(日本の約45倍), 最小はバチカン市国(ローマ市内にある)。
- ③ 国境…山脈や川, 湖などの自然や, 緯線・経線にそって引かれた国境線がある。まわりを海で囲まれ, 国境が海にある国を島国(海洋国), まわりの国境がすべて陸地で, 海に面していない国を内陸国という。

2 世界の気候と人々の生活

- (1) 寒帯…1年じゅう雪と氷におおわれている氷雪気候と, 夏にコケ類が生えるツンドラ気候に分かれる。
- (2) 冷帯(亜寒帯)…冬の寒さがきびしく, 短い夏に気温があがり, 針葉樹の森林(タイガ)が広がる。
- (3) 温帯…温暖な気候。1年を通して降水量の多い温帯(温暖)湿潤気候, 偏西風と暖流の影響で冬と夏の気温・降水量の差が小さい西岸海洋性気候, 夏は乾燥し, 冬に降水量が多くなる地中海性気候の3つに分かれる。
- (4) 乾燥帯…降水量がきわめて少ない。砂漠が広がる砂漠気候と, わずかに降水量があり, 草原が広がるステップ気候に分かれる。
- (5) 熱帯…1年を通して気温が高い。降水量が1年じゅう多い熱帯雨林気候と, 雨季と乾季のあるサバナ気候に分かれる。
- (6) 高山気候…同緯度の平野より気温が低い。寒帯のように樹木の育たない場所がある。また, 1年じゅう春のように暖かい場所もある。

気候帯	国・地域	衣服	食料	住居
寒帯	カナダ北部のイヌイット	毛皮	あざらし・カリブーの肉, 魚	夏はテント, 冬はイグルー
冷帯	シベリアの人々	冬は毛皮	魚, 牛・豚などの肉, 野菜	ログハウス, 窓は二重
温帯	イタリアの人々	標準的な衣服	パスタ, ワイン, トマトなど	石の壁, 小さな窓→夏の強い日差しを防ぐ
乾燥帯	アラビア半島・アフリカ北部の人々	長そで, 丈の長い衣服	らくだ・羊の肉, 穀物	日干しれんが
熱帯	フィジーやツバルの人々	うす着	タロイもなどのいも類	壁がなく, 高床→風通しがよい
高山気候	アンデス山脈の人々	ポンチョ, つばのついた帽子	じゃがいも, とうもろこし, トマト	日干しれんが・石, 小さな玄関→熱をのがさない

▲世界各地の人々の伝統的な生活の例

- (5) 熱帯…1年を通して気温が高い。降水量が1年じゅう多い熱帯雨林気候と, 雨季と乾季のあるサバナ気候に分かれる。
- (6) 高山気候…同緯度の平野より気温が低い。寒帯のように樹木の育たない場所がある。また, 1年じゅう春のように暖かい場所もある。

3 宗教と生活

- (1) 生活や文化と宗教…世界には多くの宗教があり, 人々の生活や文化と深くかかわっている。
- (2) 世界の三大宗教…仏教, キリスト教, イスラム教。仏教は東南アジアから東アジア, キリスト教はヨーロッパや南北アメリカ, オセアニアなど, イスラム教は北アフリカから西・東南アジアで信仰されている。

1 世界のすがた 次の文中の□□□□にあてはまる語句を答えなさい。

- (1) 六大陸のうち、最大の大陸は□□□□大陸である。 []
- (2) 三大洋のうち最大の□□□□は、5つの大陸に囲まれている。 []
- (3) 球体である地球を平面で表す□□□□は、地球儀のように距離、面積、方位などを一度に正確に表せないの
で、使う目的に応じて、さまざまな種類がある。 []
- (4) 地球上の各地点の位置は、緯度と□□□□を組み合わせることで表すことができる。 []
- (5) 緯線とは、緯度0度の□□□□に平行に引かれた線である。 []
- (6) ロンドンを通る、経度0度の本初子午線より東側を□□□□とよぶ。 []
- (7) オーストラリアは、□□□□州に属する国である。 []
- (8) 日本や中国、韓国は、アジア州の中の□□□□アジアにふくまれる。 []
- (9) 世界最大の面積をもつ国は、□□□□である。 []
- (10) まわりを海で囲まれ、国境が海にある国を□□□□という。 []

2 世界の気候と人々の生活 次の問いに答えなさい。

- (1) 1年じゅう雪と氷におおわれている氷雪気候と、夏にコケ類が生えるツンドラ気候に分かれる気候帯を何
というか。 []
- (2) 冬の寒さがきびしく、短い夏に気温があがり、針葉樹の森林(タイガ)が広がる気候帯を何というか。
 []
- (3) 温帯のうち、夏は乾燥し、冬に降水量が多くなる気候を何というか。 []
- (4) 降水量がきわめて少なく、砂漠や丈の短い草原が広がる気候帯を何というか。 []
- (5) 1年を通して気温が高く、降水量が多い熱帯雨林気候と、雨季と乾季のあるサバナ気候に分かれる気候帯
を何というか。 []
- (6) アンデス山脈の標高の高い都市などで見られる、同緯度の平野より気温が低い気候を特に何というか。
 []
- (7) カナダ北部に住み、あざらし・カリブーの肉や、魚などを食料としている人々を何というか。
 []
- (8) アラビア半島やアフリカ北部の伝統的な住居の材料は何か。 []
- (9) フィジーやツバルの人々の主食は何か。 []
- (10) アンデス山脈の人々は、寒さや風を防ぐため、アルパカの毛でつくった脱ぎ着のしやすい衣服を着ている。
この衣服を何というか。 []

3 宗教と生活 次の問いに答えなさい。

- (1) 世界の三大宗教のうち、おもに東南アジアや東アジアの人々に信仰されている宗教は何か。
 []
- (2) 世界の三大宗教のうち、おもにヨーロッパや南北アメリカ、オセアニアの人々に信仰されている宗教は何
か。 []
- (3) 世界の三大宗教のうち、おもに北アフリカから西アジア、東南アジアの人々に信仰されている宗教は何か。
 []

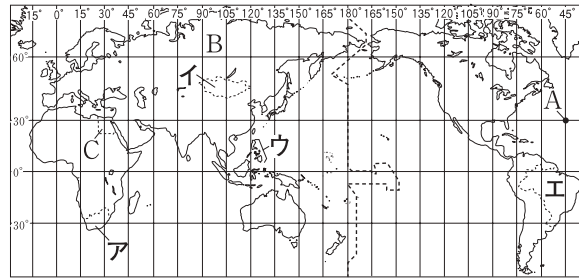
練習問題

1 右の地図Ⅰ・Ⅱを見て、次の問いに答えなさい。

(1) 地図Ⅰ中のAについて、
次の問いに答えなさい。

- ① A地点の位置を緯度と経度で答えなさい。
- ② A地点は、何という海洋上にあるか。

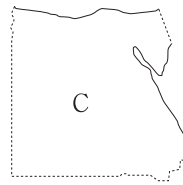
地図Ⅰ



(2) 地図Ⅰ中のBについて、
次の問いに答えなさい。

- ① Bの大陸を何というか。
- ② Bの大陸にある州を2つ答えなさい。
- ③ Bの大陸にあり、世界最小の面積をもつ国はどこか。

地図Ⅱ



(3) 地図Ⅱは、地図Ⅰ中のC国の形を示したものである。地図Ⅱについて、次の問いに答えなさい。

- ① C国の西側の国境は、何を基準に引かれているか。
- ② C国の多くの人々が信仰している宗教を次から選び、記号で答えなさい。

ア キリスト教 イ ヒンドゥー教 ウ 仏教 エ イスラム教

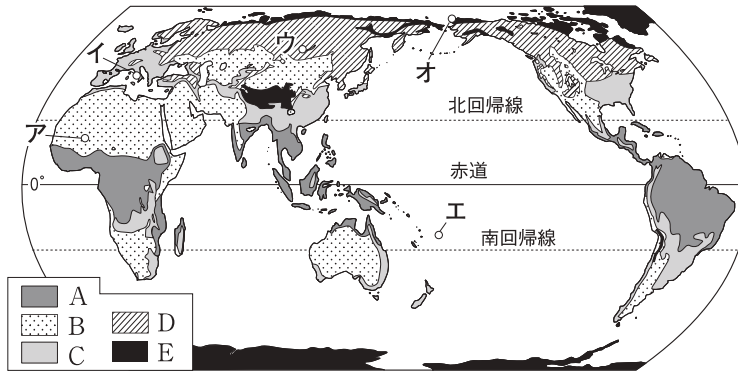
(4) 地図Ⅰ中のア～エのうち、内陸国にあたる国を選び、記号で答えなさい。

1

(1)	緯度
	①
(2)	経度
	②
(3)	①
	②
	③
(4)	①
	②
(4)	

2 世界の気候帯を示した、右の地図を見て、次の問いに答えなさい。

(1) 地図中のA～Eの気候帯の特色について述べた文を次からそれぞれ選び、記号で答えなさい。



ア 降水量が

きわめて少なく、砂漠や丈の短い草原が広がっている。

イ 温暖な気候で、四季の変化がある。

ウ 1年じゅう雪と氷におおわれる気候と、夏にコケ類が生える気候がある。

エ 1年を通して気温が高く、雨の多い気候と、雨季と乾季のある気候がある。

オ 冬の寒さがきびしく、針葉樹の森林(タイガ)が広がっている。

(2) 次の①～③は、地図中のア～オのいずれかに住む人々の生活環境を説明したものである。①～③にあてはまるものをそれぞれ選び、記号で答えなさい。

- ① 住居は風通しがよいように壁がなく、高床で、いも類を主食としている。
- ② オアシスのまわりに住み、住居は日干しれんがを材料としている。
- ③ 丸太を組み合わせたログハウスを住居とし、冬は外出時に毛皮を着る。

2

(1)	A
	B
	C
	D
	E
(2)	①
	②
	③