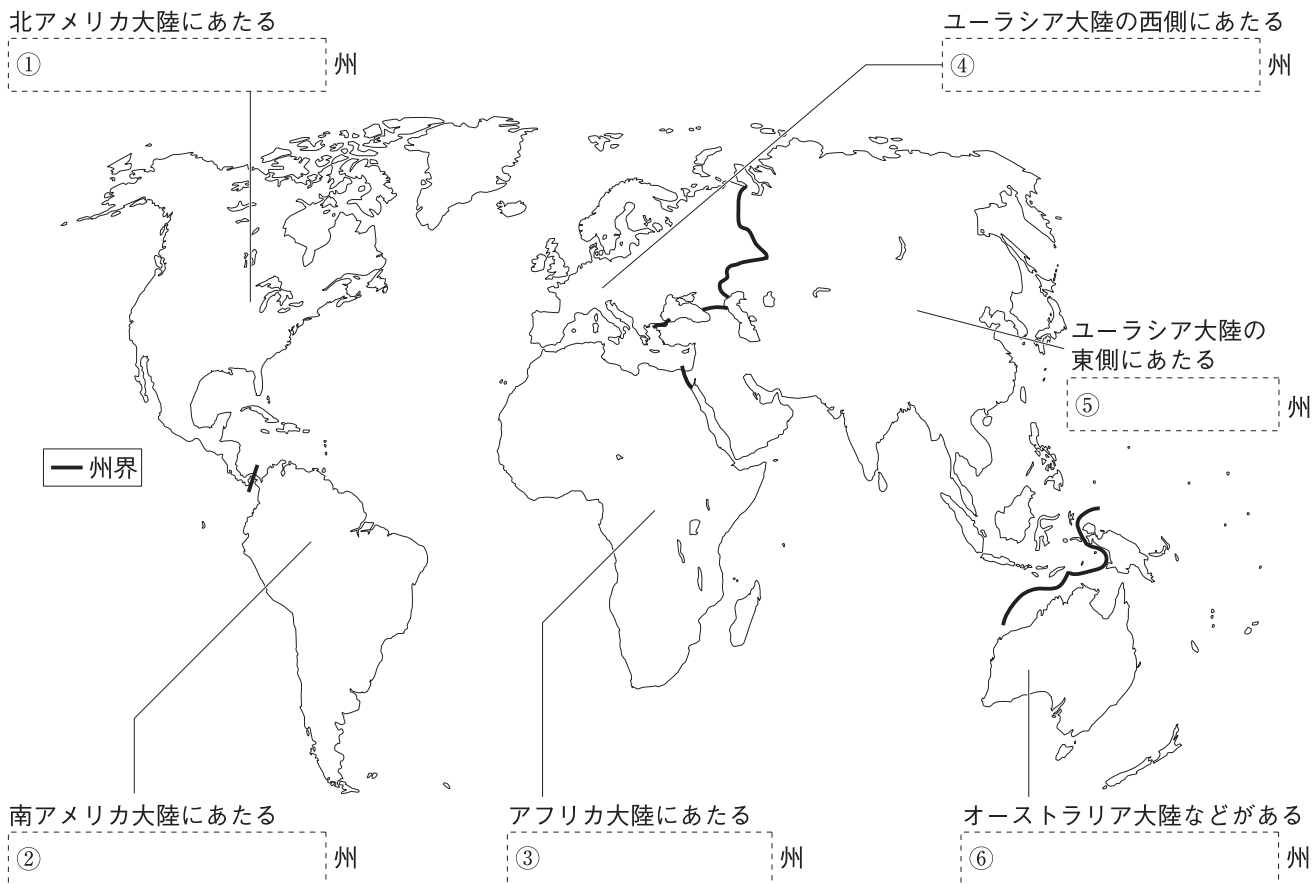


第 2 講座 世界の地域区分, 世界の国々

1 世界の地域区分 次の地図の〔 〕にあてはまる語句を答えなさい。



2 世界の地域区分 次の文中の〔 〕にあてはまる語句を答えなさい。

- (1) ユーラシア大陸には、アジア州と〔 〕州がある。 []
- (2) 6つの州のうち、アフリカ州と〔 〕州は陸続きである。 []
- (3) アジア州のうち、日本、中国、^{かんこく}韓国などがある地域を〔 〕という。 []
- (4) アジア州のうち、サウジアラビア・イランなどがある地域を〔 〕という。 []
- (5) アジア州のうち、スリランカ・パキスタンなどがある地域を〔 〕という。 []
- (6) アジア州のうち、インドネシア・タイなどがある地域を〔 〕という。 []

3 世界の国名 次の文にあてはまる国名や語句を答えなさい。

- (1) 探検家アメリゴ＝ベスプッチの名前に由来し、大陸や州、国の名前となっている。 []
- (2) 国名が「インダス川」に由来する、南アジアの国。 []
- (3) 国名が国土を通る「赤道」に由来する、南アメリカ州の国。 []
- (4) 正式名を「ネーデルラント（低地）」という、ヨーロッパ州の国。 []
- (5) 国名が「ライオンの町」を意味する、東南アジアの国。 []
- (6) アジア州のカザフ□□□, ウズベキ□□□, タジキ□□□など、国名の語尾に共通するカタカナ3文字。 []

4 世界の国々の面積・人口 次の問いに答えなさい。

- (1) 日本の約45倍の国土面積をもつ世界最大の国はどこか。 []
- (2) イタリアの首都ローマ市内にある、国土面積が世界最小の国はどこか。 []
- (3) 日本の国土面積は約38万km²で、大きい順から約 [20 40 60 80] 番目くらいである。 [] のうち、正しい数字を選びなさい。 []
- (4) 人口が約14億人で、世界最多の国はどこか。 []
- (5) 人口が約13億人で、(4)の国に次いで多い国はどこか。 []
- (6) 日本の人口は約 [] 億2700万人で、世界で11番目に多い。 [] にあてはまる整数を答えなさい。 []
- (7) 国や地域の人口を、その面積で割ったものを何というか。 []

5 世界の国々の国境 次の地図の [] にあてはまる語句を答えなさい。

アメリカ合衆国とカナダの間の [①] をもとにした国境

アメリカ合衆国とメキシコの間のリオグランデ [②] に沿った国境

アルゼンチンとチリの間のアンドス [③] をもとにした国境

まわりを海に接していない [④] のモンゴル

ヒマラヤ山脈を境にインドやネパールと接している国 [⑤]

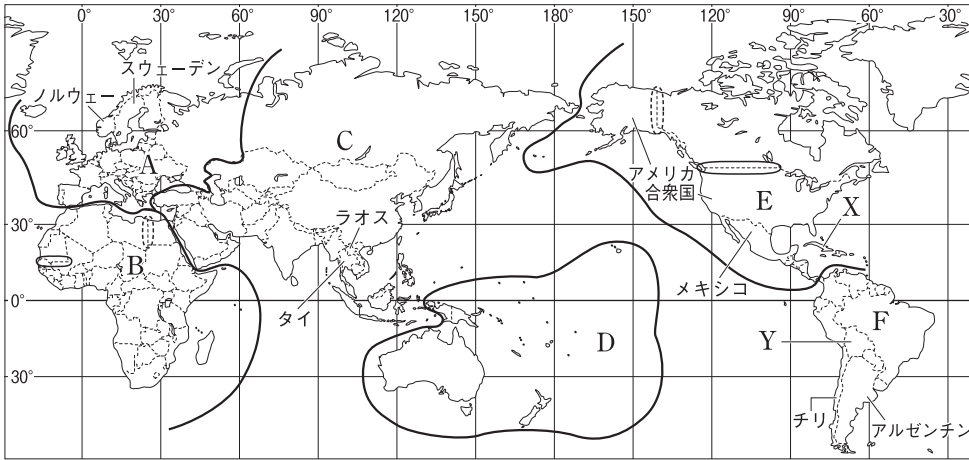
まわりを海に囲まれた [⑥] であるニュージーランド

6 内陸国と島国 次の表にあてはまる国を、右の [] から選びなさい。

	島国(海洋国)	内陸国
アジア	① []	② []
アフリカ	③ []	④ []
ヨーロッパ	⑤ []	⑥ []
南・北アメリカ	⑦ []	⑧ []
オセアニア	⑨ []	

イギリス
 カナダ
 ツバル
 タイ
 オーストリア
 エチオピア
 ドイツ
 ボリビア
 マダガスカル
 フィリピン
 キューバ
 ラオス

1 次の地図を見て、あとの問いに答えなさい。



- (1) 地図中のAの州について、次の問いに答えなさい。
- ① Aの州を何というか。
 - ② Aの州にあてはまらない国を次から1つ選び、記号で答えなさい。
ア スイス イ イタリア ウ ガーナ エ ドイツ
- (2) 地図中のBの州を何というか。
- (3) 地図中のCの州は、さらにいくつかの地域に区分される。そのうち、次の①～④にあてはまる国を、あとの[]からそれぞれ2つずつ選びなさい。
- ① 西アジア ② 南アジア ③ 東南アジア ④ 東アジア
- [
ネパール インドネシア モンゴル アラブ首長国連邦
かんこく 韓国 インド ベトナム イラン
]
- (4) 地図中のAの州とCの州にまたがり、東西の広がりが経度で150度以上になる国はどこか。
- (5) 地図中のD・Eの州名をそれぞれ答えなさい。
- (6) 地図中のFの州について、次の問いに答えなさい。
- ① Fの州を何というか。
 - ② Fの州の国のうち、0度の緯線と関係の深い国名をもつ国はどこか。
- (7) 独立国の数が最も多い州を、A～Fから選び、記号で答えなさい。
- (8) 次の①～④の国境の基準となっているものを、あとからそれぞれ選び、記号で答えなさい。
- ① 地図中のAの州のノルウェーとスウェーデンや、Fの州のチリとアルゼンチンの国境。
 - ② 地図中のCの州のタイとラオスや、Eの州のアメリカ合衆国とメキシコの国境。
 - ③ 地図中のBの州やEの州に で示した国境。
 - ④ 地図中のBの州やEの州に で示した国境。
- ア 湖 イ 川 ウ 山脈 エ 経線 オ 緯線

(1)	①	
(2)	②	
(3)	③	
(4)	④	
(5)	D	
(6)	E	
(7)	①	
(8)	②	
(8)	③	
(8)	④	

(9) 地図中のXの国について、次の問いに答えなさい。

- ① Xの国のように、まわりを海に囲まれた国を何というか。
 ② まわりを海に囲まれた国を、次から選び、記号で答えなさい。

- ア スイス イ ニュージーランド
 ウ マレーシア エ 南アフリカ共和国

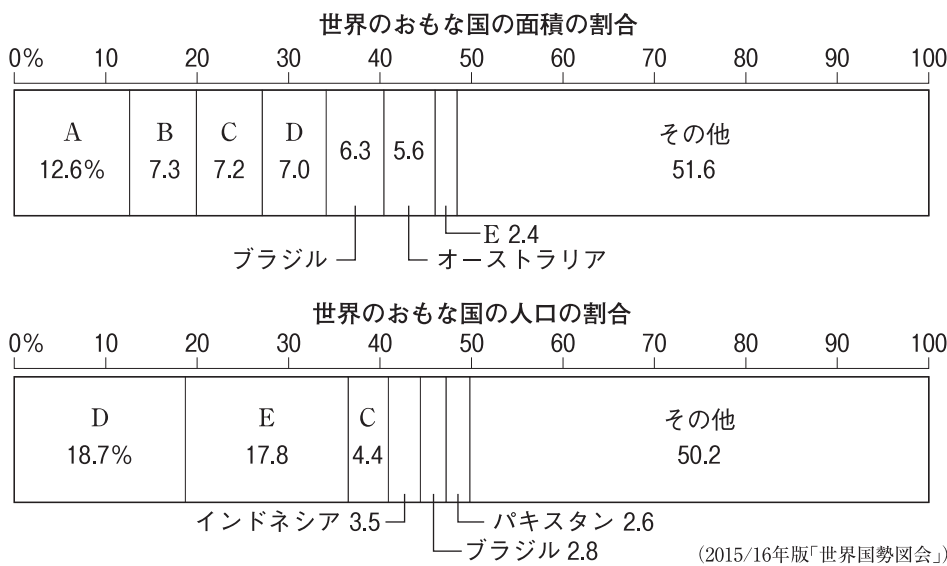
(10) 地図中のYの国について、次の問いに答えなさい。

- ① Yの国のように、海に面していない国を何というか。
 ② 海に面していない国を、次から選び、記号で答えなさい。

- ア モンゴル イ フランス
 ウ サウジアラビア エ スリランカ

(9)	①
	②
(10)	①
	②

2 次のグラフを見て、あとの問いに答えなさい。



2

(1)	
(2)	
(3)	D
	E
(4)	
(5)	

(1) グラフ中のA～Cの国の組み合わせとして正しいものを次から選び、記号で答えなさい。

- ア A－カナダ B－アメリカ合衆国 C－ロシア連邦
 イ A－ロシア連邦 B－アメリカ合衆国 C－カナダ
 ウ A－ロシア連邦 B－カナダ C－アメリカ合衆国
 エ A－カナダ B－ロシア連邦 C－アメリカ合衆国

(2) グラフ中のAの国の面積(1710万km²)は、日本(38万km²)の約何倍か。次から選び、記号で答えなさい。

- ア 25倍 イ 35倍 ウ 45倍 エ 55倍

(3) グラフ中のD・Eの国名をそれぞれ答えなさい。

(4) 人口密度について、グラフからわかることとして正しいものを次から選び、記号で答えなさい。

- ア AはCより人口密度が高い。 イ BはEよりも人口密度が高い。
 ウ DはCより人口密度が高い。 エ DとEの人口密度はほぼ同じである。

(5) 面積のグラフの「その他」の中で割合が最低の国は、イタリアの首都の中にある。その国名を答えなさい。