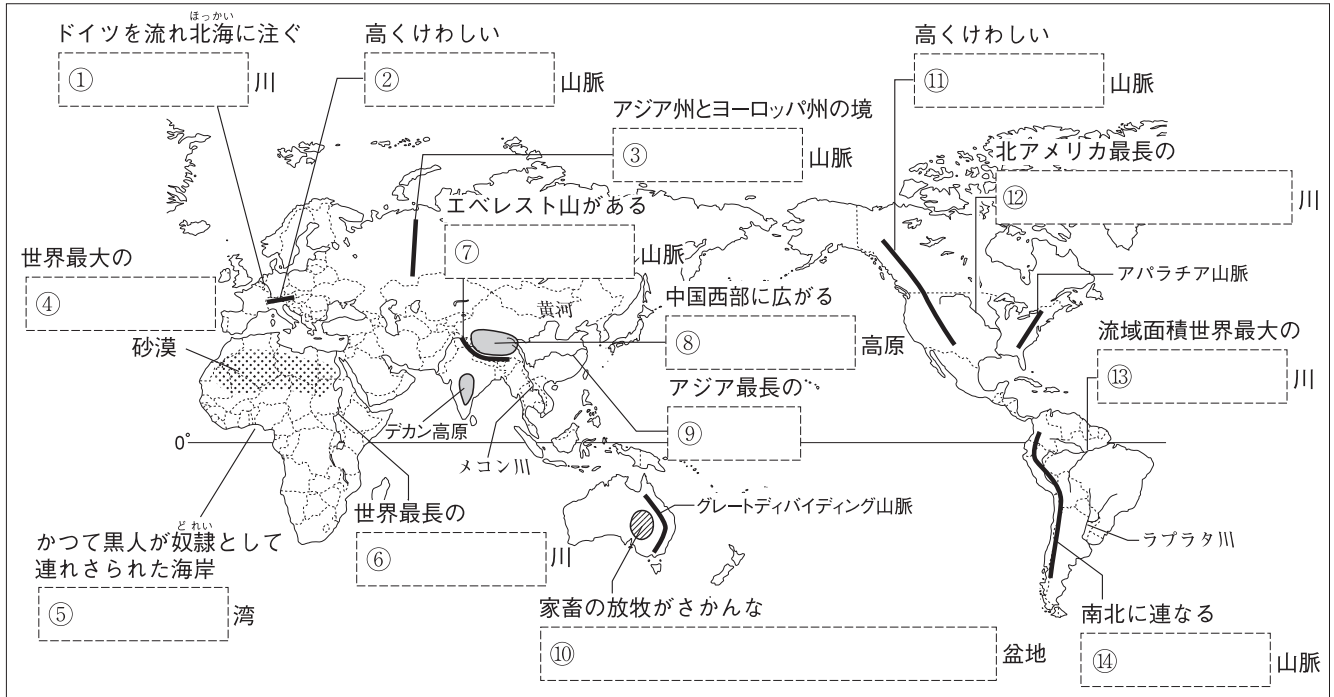
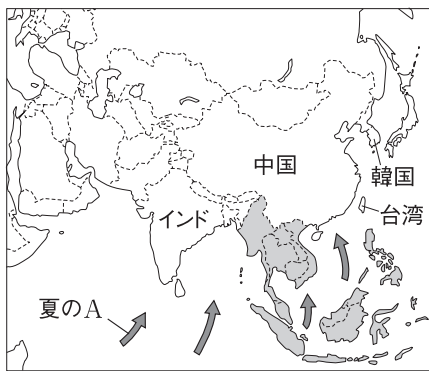


第 2 講座 世界の諸地域

1 世界の地形 次の世界地図の〔 〕にあてはまる語句を答えなさい。

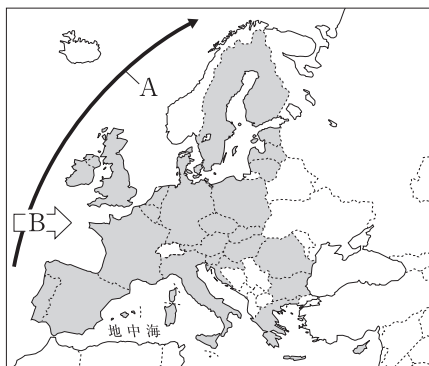


2 アジア州 左の地図を見て、次の文中の〔 〕にあてはまる語句を答えなさい。



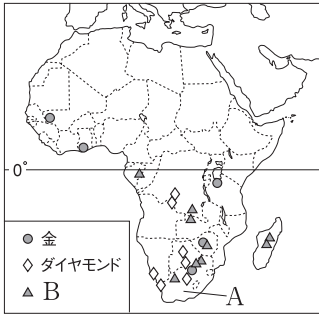
- 東部と南部は、夏と冬で風向きが逆になる地図中Aの〔 〕の影響を受ける。〔 〕
- 中国や〔 〕では、人口が10億をこえている。〔 〕
- 東アジアや南アジアなどの平野部では〔 〕が、中国北部では畑作がさかんである。〔 〕
- 近年、韓国や台湾のほか、地図中の〔 〕の東南アジア10か国で構成される〔 〕の加盟国でも工業化が進んでいる。〔 〕
- 中国では、シェンチェンやアモイなどに〔 〕を設けて外国企業を誘致し、現在では「世界の工場」とよばれるほど工業が発展している。〔 〕

3 ヨーロッパ州 左の地図を見て、次の文中の〔 〕にあてはまる語句を答えなさい。



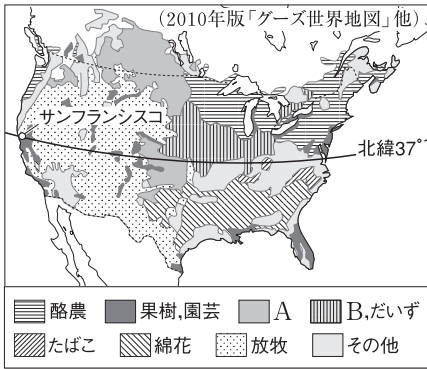
- 西岸は、地図中Aの〔 ① 〕海流とBの〔 ② 〕の影響を受け、温暖な西岸海洋性気候である。①〔 〕 ②〔 〕
- 地中海沿岸では、乾燥する夏にオリーブやオレンジ、降水量の多い冬に小麦を栽培する〔 〕農業が行われている。〔 〕
- 北西部や東部では、豚などの飼育と小麦の栽培を組み合わせた〔 〕農業が、北部では酪農が行われている。〔 〕
- 地図中の〔 〕の国々が結成しているEU(ヨーロッパ連合)では、多くの国が共通通貨の〔 〕を導入している。〔 〕

4 アフリカ州 左の地図を見て、次の問いに答えなさい。



- 植民地時代に開かれた、カカオやコーヒーなど、特定の作物を大量に生産する大規模な農園を何というか。 []
- 金などの鉱産資源が豊富な地図中のAの国はどこか。 []
- 地図中のBは、携帯電話などの電子機器の生産に欠かせない、埋蔵量が非常に少ない金属である。このような金属を何というか。 []
- アフリカの国々などで見られる、限られた種類の農産物や鉱産資源の生産や輸出にたよる経済を何というか。 []

5 北アメリカ州 農業地域を示した、左の地図を見て、次の文中の [] にあてはまる語句を答えなさい。



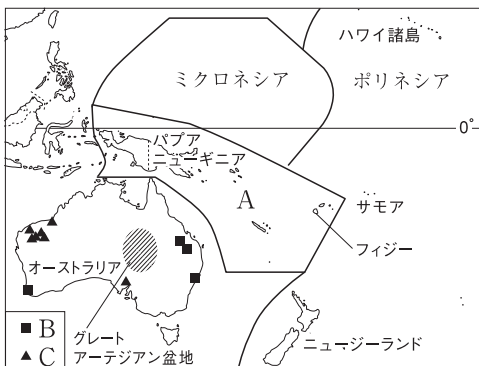
- 近年、アメリカ合衆国では、 [] とよばれるスペイン語を話すメキシコやカリブ海諸国からの移民が増えている。 []
- 地図中のAの作物は ① [] , Bの作物は ② [] である。
① [] ② []
- 地図中に見られるように、アメリカ合衆国では地域の自然環境に合った作物を生産する [] が行われている。 []
- アメリカ合衆国では1970年代以降、地図中のほぼ北緯37度より南の [] とよばれる地域に工業が発達した。 []
- 地図中のサンフランシスコ近郊にある [] とよばれる地域には、IT企業が集まり、ソフトウェアなどの開発で世界をリードしている。 []

6 南アメリカ州 左の地図を見て、次の文中の [] にあてはまる語句を答えなさい。



- 地図中のアマゾン川流域には [] が広がっているが、近年、 [] が伐採され、地球温暖化が進むのではないかと心配されている。 []
- 南アメリカ州の国々は、19世紀初めにあいついで独立したが、現在でも多くの国が [] 語やポルトガル語を公用語としている。 []
- ブラジルの農業は、長い間 [] の輸出に依存していたが、現在ではだいずやオレンジ、さとうきびの生産も増えてきた。 []
- ブラジルの [] , ベネズエラの原油、チリの銅など、南アメリカ州は鉱産資源が豊富である。 []

7 オセアニア州 左の地図を見て、次の問いに答えなさい。

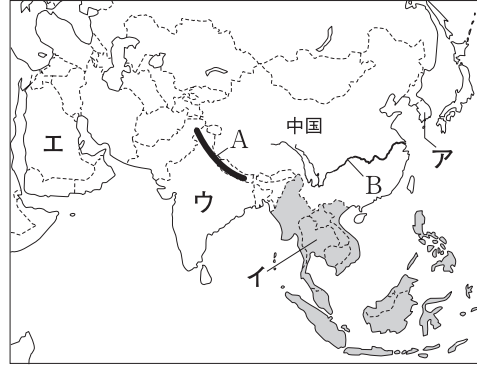


- オセアニア州の太平洋の島々を地域区分したとき、地図中のAの地域を何というか。 []
- オーストラリアの先住民を何というか。 []
- 地図中のオーストラリアのグレートアーテジアン盆地で飼育がさかんな家畜は何か。2つ答えなさい。 [] []
- オーストラリアの東部に産地が多い、地図中のBの鉱産資源は何か。また、北西部に産地が多い、地図中のCの鉱産資源は何か。
B [] C []

STEP 問題

1 右の地図を見て、次の問いに答えなさい。

- (1) 地図中のAの山脈名とBの河川名をそれぞれ答えなさい。
- (2) 地図中の中国について述べた文として誤っているものを次から1つ選び、記号で答えなさい。
 ア 人口の増加を抑制するために、一人っ子政策をとった。
 イ 人口の約9割が漢民族である。
 ウ 北部では稲作、南部では畑作、内陸部では牧畜がさかんである。
 エ 沿海部に経済特区を設けて外国企業を誘致し、工業が発展した。



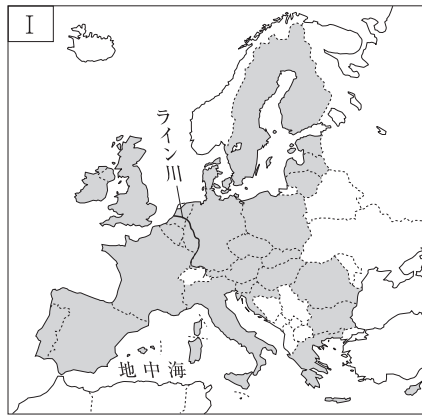
- (3) 次の①・②の文にあてはまる国を、地図中のア～エからそれぞれ選び、記号で答えなさい。
 ① 世界第2位の人口をもつこの国は、情報技術(I T)産業が発達している。
 ② イスラム教の聖地メッカがあるこの国は、原油の埋蔵量が世界屈指である。
- (4) 地図中の()の国々が加盟している国際組織を何というか。

1

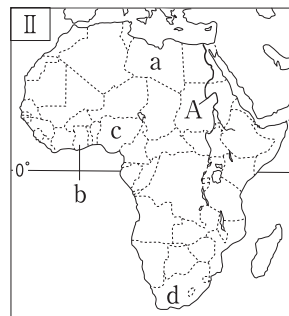
(1)	A
	B
(2)	
(3)	①
	②
(4)	

2 右の地図を見て、次の問いに答えなさい。

- (1) 地図I中のライン川のように、複数の国を流れ、沿岸国の船が自由に航行できる河川を何というか。
- (2) 地図I中の農業について正しく述べた文を次から選び、記号で答えなさい。
 ア 地中海沿岸では、夏にオリーブなど、冬に小麦を栽培している。
 イ 北西部や東部では、バターなどを生産する酪農がさかんである。
 ウ 北部やアルプスでは、豚などの家畜の飼育と小麦などの栽培を組み合わせた農業がさかんである。



- (3) 地図I中の()の国々が加盟している国際組織を何というか。
- (4) 地図II中のAの河川名を答えなさい。
- (5) 地図II中のa～dの国について正しく述べた文を次から選び、記号で答えなさい。



- ア aの国には、かつて古代文明が栄え、ピラミッドなどがつくられた。
- イ bの国は、カカオの世界的な産地として知られる。
- ウ cの国は、金やダイヤモンド、レアメタルの世界的な産地として知られる。
- エ dの国は、アフリカの産油国である。

2

(1)	
(2)	
(3)	
(4)	
(5)	

3 右の地図を見て、次の問いに答えなさい。

(1) 地図中のA・Bの山脈名、C・Dの河川名をそれぞれ答えなさい。

(2) 地図中のO～Rの国の公用語や主要言語として誤っているものを1つ選び、記号で答えなさい。

- ア O国：英語とフランス語
- イ P国：英語 ウ Q国：スペイン語
- エ R国：スペイン語

(3) 右の①～③のグラフは、だいた、とうもろこし、小麦のいずれかのおもな国の輸出量の割合を示したものである。①～③にあてはまる農作物をそれぞれ答えなさい。


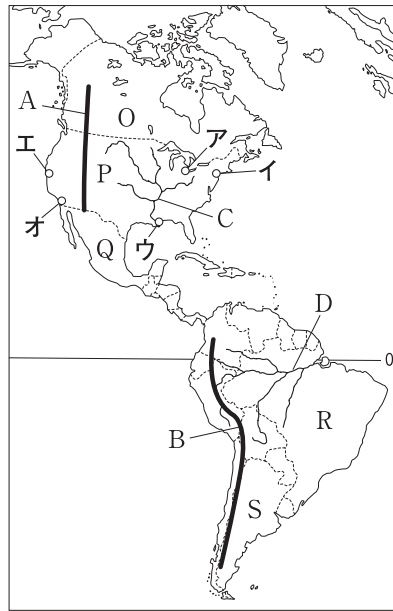
(4) Pの国では、1970年代以降、^{ほくい}ほぼ北緯37度より南側の地域に新しい工業地域が発達した。この地域を何というか。

(5) 次の①・②の説明文にあてはまる都市や地域を地図中のア～オからそれぞれ選び、記号で答えなさい。

- ① この都市は、自動車製造の中心地として発展した。
- ② シリコンバレーとよばれるこの地域には、IT企業の本社が集まっている。

(6) 地図中のR・Sの国について述べた、次の①・②の文中の□にあてはまる語句を答えなさい。

- ① Rの国では、さとうきびを原料としてつくられた、□とよばれる燃料を使って走る自動車が増えてきている。
- ② Sの国のラプラタ川下流域には、□とよばれる草原が広がり、小麦やとうもろこしの栽培、牛の放牧がさかんである。



3

(1)	A
	B
	C
	D
(2)	
	①
	②
(3)	③
(4)	
(5)	①
	②
(6)	①
	②


4 右のグラフを見て、次の問いに答えなさい。

(1) Iのグラフ中の①・②の国をそれぞれ答えなさい。

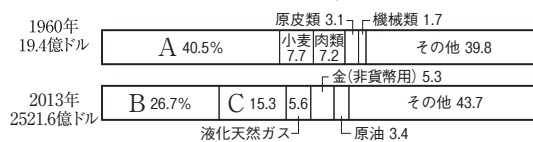
(2) IIのグラフ中のA～Cにあてはまる輸出品を、次の文を参考にしして答えなさい。

- A ニューージーランドでも飼育がさかんな家畜からとれる。
- B 北西部に産地が集中している鉱産資源である。
- C 東部に産地が集中している鉱産資源である。

グラフI オーストラリアの貿易相手国の変化



グラフII オーストラリアの輸出品の変化



(2015/16年版「世界国勢図会」ほか)

4

(1)	①
	②
(2)	A
	B
	C