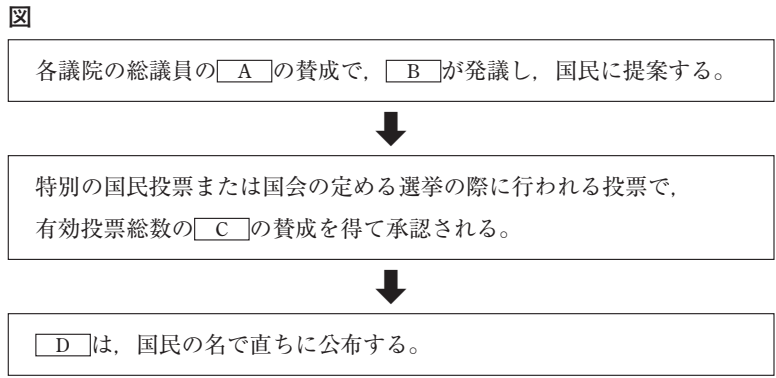




2 次の(1)~(6)の問いに答えなさい。

(1) 図は、憲法改正の手続きを表したものである。図中の[A]~[D]に当てはまる語の組み合わせとして適切なものを、次のア~エの中から1つ選び、記号で答えなさい。

- ア A：3分の2以上 B：国会
- イ A：3分の2以上 B：天皇
- ウ A：過半数 B：国会
- エ A：過半数 B：天皇



[ ]

(2) 内閣の仕事の中で国会の承認が必要とされているものを、次のア~エの中から1つ選び、記号で答えなさい。

- ア 閣議を開く
- イ 最高裁判所長官を指名する
- ウ 条約を結ぶ
- エ 衆議院の解散を決定する

[ ]

(3) 地方公共団体（地方自治体）の住民がもつ直接請求権の説明として正しいものを、次のア~エの中から2つ選び、記号で答えなさい。

- ア 首長に、条例の改廃請求ができる。
- イ 選挙管理委員会に、地方議会の解散請求ができる。
- ウ 監査委員に、首長の解職請求ができる。
- エ 首長に、地方議会議員の解職請求ができる。

[ ] [ ]

(4) 国民一人一人の意思を直接投票によって表せるものを、次のア~エの中から2つ選び、記号で答えなさい。

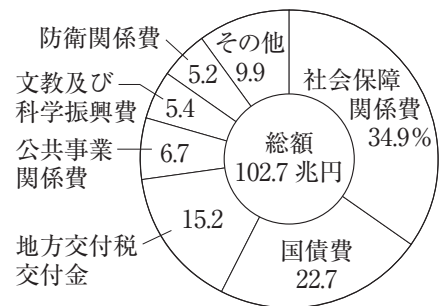
- ア 最高裁判所裁判官の罷免
- イ 弾劾裁判所の設置
- ウ 法律の制定
- エ 憲法の改正

[ ] [ ]

(5) 政府の1年の収入を歳入、支出を歳出という。グラフは2020年度予算における政府の歳出を示している。グラフ中で最も割合の高い、社会保障関係費の説明として正しいものを、次のア~エの中から1つ選び、記号で答えなさい。

- ア 収入の少ない地方公共団体へ、使い方を指定して交付される。
- イ 国が国民から借り入れたお金の返済に使われる。
- ウ 道路の建設や河川の補修などに使われる。
- エ 働くことが困難になった人の生活を守るためなどに使われる。

グラフ



注 「日本国勢図会 2020/21」により作成

[ ]

★(6) モンテスキューが「法の精神」で三権分立（権力分立）のしくみをつくることを主張した理由を、「国民の自由」という語を使って、簡単に書きなさい。

[ ]



4 政治と経済に関する次の(1)~(5)の問いに答えなさい。

★(1) 内閣は、衆議院で内閣不信任案が可決されると、どうしなければならないか。簡単に書きなさい。

[ ]

(2) 次の文は、司法権の独立について述べた日本国憲法の条文である。条文中の(①)、(②)に当てはまる語を、それぞれ書きなさい。

第76条3項：すべて裁判官は、その(①)に従ひ独立してその職権を行ひ、この憲法及び(②)にのみ拘束される。

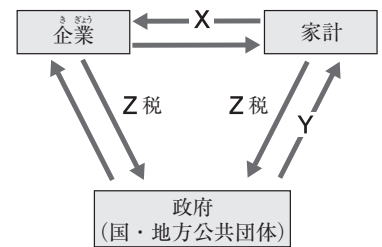
①[ ] ②[ ]

(3) 日本の社会保障制度のうち、公的扶助に当てはまるものを、次のア~エの中から1つ選び、記号で答えなさい。

ア 雇用保険      イ 感染症対策      ウ 児童福祉      エ 生活保護      [ ]

(4) 資料1は、国民経済について示している。次のa~cの問いに答えなさい。

資料1



a 資料1中のX・Yに当てはまる語を、次のア~エの中からそれぞれ選

び、記号で答えなさい。

ア 商品                      イ 配当  
ウ 公共サービス          エ 労働力

X [ ]

Y [ ]

b 資料1中のZの税にはさまざまな種類がある。固定資産税と自動車税について説明した次の文中の(①)、(②)に当てはまる語を、それぞれ書きなさい。

固定資産税は、土地や建物などの所有者にかかる税金であり、自動車税は、自動車の所有者にかかる税金である。ともに、税金を払う担税者と納める納税者が同一である(①)税であり、納入先は地方公共団体(地方自治体)であるので(②)税となる。

①[ ] ②[ ]

★c 資料2は、クーリング・オフを求めるときの通知書である。クーリング・オフとはどのような制度か、簡単に書きなさい。

[ ]

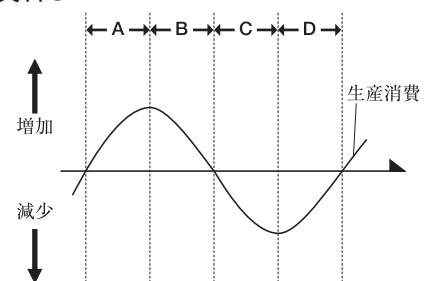
資料2

宛先住所 代表取締役 株式会社 殿	内容証明書用紙	<p style="text-align: right;">通知書</p> <p>私は、平成〇〇年〇月〇日に、貴社のセールスマン〇〇〇氏にすめられて、左記の契約をしましたが、都合により解約します。支払済の金〇〇〇〇円をただちに返金してください。</p> <p>一、商品名      金〇〇〇〇円 二、代金      金〇〇〇〇円     (契約書番号      〇〇〇〇〇〇)</p> <p>平成〇〇年〇月〇日</p> <p>氏名      住所</p> <p style="text-align: right;">印</p>
----------------------------	---------	---

(5) 資料3は、景気変動を模式的に示している。資料3中のA~Dは景気の状態によって4つの時期に分けたものである。景気がCの状態のときの企業のようにして当てはまるものを、次のア~エの中から1つ選び、記号で答えなさい。

- ア 景気の後退期であり、供給量が需要量を上回り、生産を縮小させる時期である。
- イ 好況期であり、生産・雇用量が増大し、経済活動が活発となる時期である。
- ウ 不況期であり、生産量・雇用量が減少し、経済活動が停滞する時期である。
- エ 景気の回復期であり、需要量が供給量を上回り、生産が少しずつ拡大する時期である。      [ ]

資料3



5 世界とのかかわりに関する次の(1)~(4)の問いに答えなさい。

(1) 国際連合に関する a~c の問いに答えなさい。

a 国際連合の総会について述べた文として正しいものを次のア~エの中から1つ選び、記号で答えなさい。

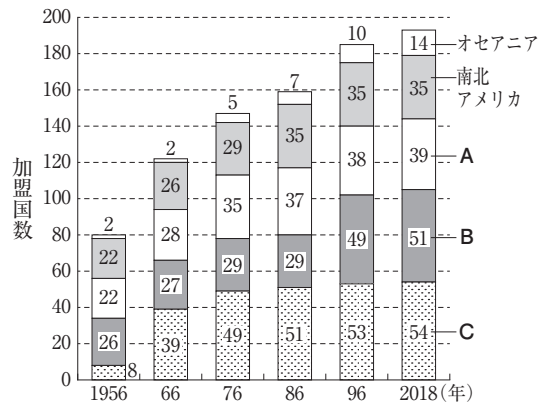
- ア 常任理事国と非常任理事国からなる。      イ 加盟国はすべて平等に一票をもっている。  
ウ 拒否権が発動されることがある。      エ 毎年9月にジュネーブで開かれる。      [      ]

b 国際連合の専門機関のうち、すべての人々が最高水準の健康に恵まれることを目的としてつくられた機関は何か。アルファベットの略称で書きなさい。      [      ]

c グラフは、国際連合加盟国数の推移を表したものであり、グラフ中のA~Cはヨーロッパ・旧ソ連、アジア、アフリカのいずれかである。A~Cと地域の組み合わせとして適切なものを、次のア~エの中から1つ選び、記号で答えなさい。

- ア A：アジア      B：アフリカ  
C：ヨーロッパ・旧ソ連  
イ A：アジア      B：ヨーロッパ・旧ソ連  
C：アフリカ  
ウ A：アフリカ      B：アジア  
C：ヨーロッパ・旧ソ連  
エ A：アフリカ      B：ヨーロッパ・旧ソ連      C：アジア      [      ]

グラフ



注 国際連合広報センターホームページなどにより作成

(2) 次の説明に当てはまる条約名を書きなさい。

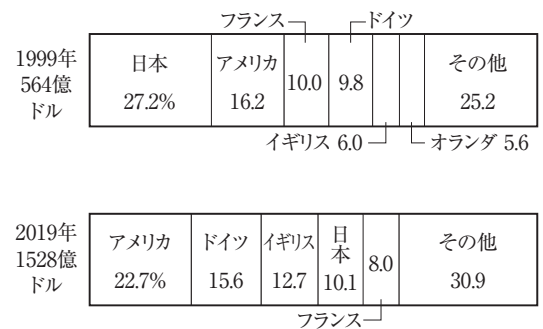
1963年にアメリカ、ソ連、イギリスによって調印された条約で、地下核実験を除く、水中、大気圏内、宇宙空間での核実験を禁止する条約。

[      ]

(3) 資料は、1999年と2019年のおもな国のODAの割合を示したものである。資料から読み取れることとして正しいものを、次のア~エの中から1つ選び、記号で答えなさい。

- ア ODAの総額は、この20年で3倍以上になっている。  
イ 1999年の日本のODAの金額と、2019年の日本のODAの金額とは、ほぼ同額である。  
ウ 2019年のイギリスのODAの金額は、20年前の10倍以上である。  
エ 2019年のドイツとフランスのODAの合計額は、同じ年のアメリカ合衆国よりも少ない。      [      ]

資料



注 「世界国勢図会 2020/21」などにより作成

(4) 南北問題に関して、「北」に分類される国と「南」に分類される国について次の統計を調査した。「北」の国々よりも「南」の国々の方が数値が大きくなると考えられる項目を、次のア~エの中から1つ選び、記号で答えなさい。

- ア 総人口に占める栄養不良人口の割合      イ 国民千人当たりの医師数  
ウ 国民百人当たりのパソコン台数      エ 政府開発援助(ODA)の支出額      [      ]