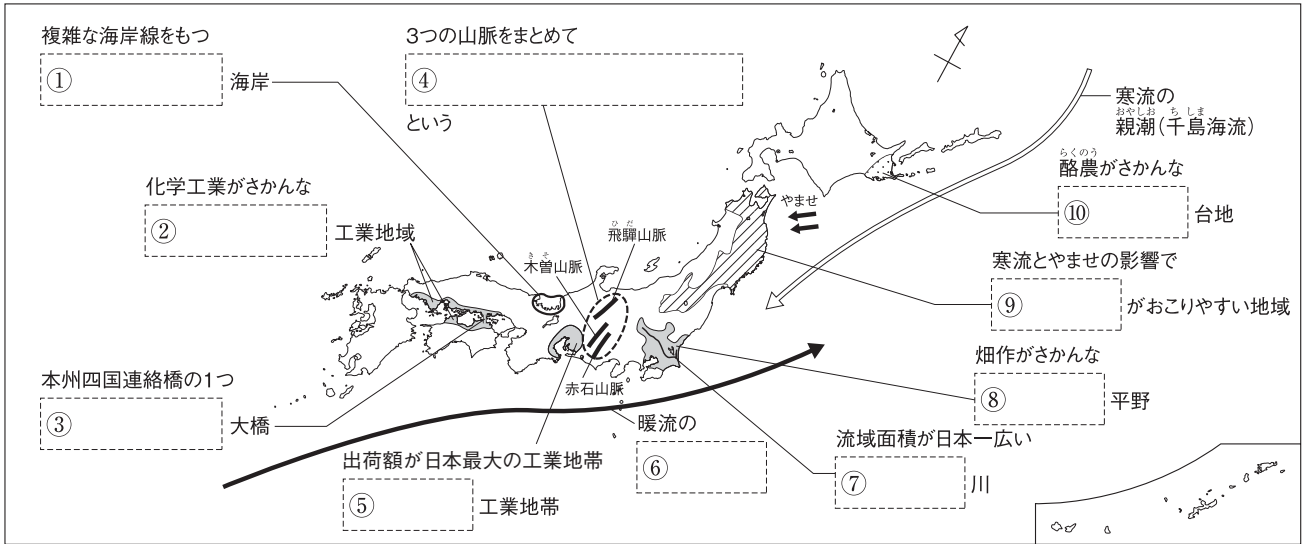
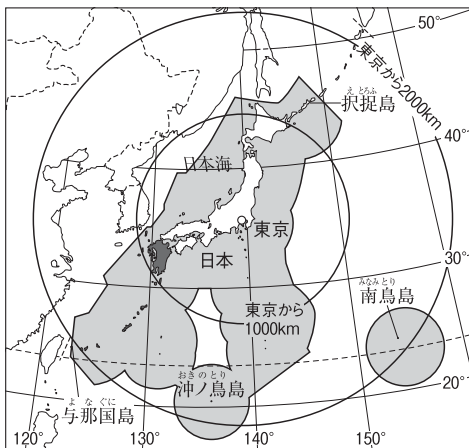


# 第 2 講座 日本地理

## 1 日本のさまざまな地域 次の地図中の [ ] にあてはまる語句を答えなさい。



## 2 日本のすがた 左の地図を見て、次の文中の [ ] にあてはまる語句や数字を答えなさい。



- 日本は、 [ ] 大陸の東、太平洋の北西部に位置する島国である。 [ ]
- 日本の国土面積は、約 [ ] km<sup>2</sup> である。 [ ]
- 地図中に [ ] で示した水域を [ ] といい、域内の水産資源や鉱産資源は日本が優先的に利用できる。 [ ]
- 日本固有の領土にもかかわらずロシア連邦に占拠されている、択捉島などの島々をまとめて [ ] という。 [ ]
- 標準時を決める経線を [ ① ] といい、日本は兵庫県明石市を通る東経 [ ② ] 度の経線を基準に標準時を決めている。

- ① [ ] ② [ ]
- 日本は、1都1道2府 [ ] 県に区分される。 [ ]
  - 地図中に [ ] で示した [ ] 地方は、8つの県で構成されている。 [ ]
  - 最も北にある都道府県の都道府県庁所在地は、 [ ] 市である。 [ ]

## 3 世界と比べた日本 次の文中の [ ] にあてはまる語句を答えなさい。

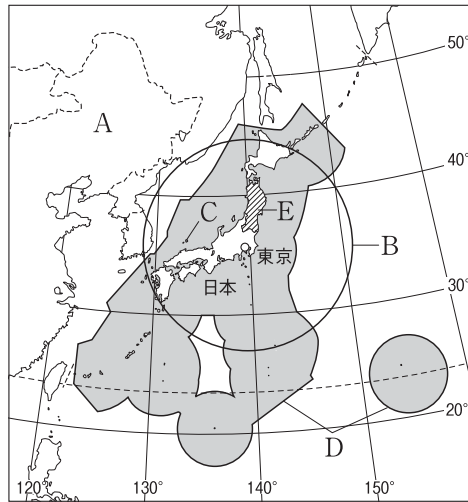
- 日本列島やロッキー山脈、アンデス山脈が属している造山帯を [ ] という。 [ ]
- 日本の気候区分のうち、冬の降水量が特に多いのは [ ] の気候である。 [ ]
- 現代の日本は、子どもの数が減り、高齢者の割合が高い [ ] 社会となっている。 [ ]
- 山間部や離島では、人口の減少がいちじるしい [ ] 化が進んでいる。 [ ]
- 日本の電力は、石炭や天然ガス、石油を燃料とする [ ] 発電の割合が最も高い。 [ ]
- 関東地方から九州地方北部にかけて連なる工業がさかんな地域を [ ] とよぶ。 [ ]
- 輸出国と輸入国との間で、貿易について生じるさまざまな問題を [ ] という。 [ ]



# STEP 問題

1 右の地図を見て、次の問いに答えなさい。

- 地図中のA国は、東経120度の経線で標準時を決めている。ロンドンが1月1日午前1時のとき、A国の時刻は何月何日何時か。午前・午後を明らかにして答えなさい。
- 地図中のBの半径を次から選び、記号で答えなさい。  
ア 500km    イ 1000km  
ウ 1500km    エ 2000km
- 地図中のCの島は、日本固有の領土であるが、外国に占拠されている。この島を何というか。
- 地図中のDは日本の排他的経済水域と領海で、面積は約447万km<sup>2</sup>である。これは日本の国土面積の約何倍か。小数第1位を四捨五入して整数で答えなさい。
- 日本を7地方に分けた場合、地図中のEの地方を何地方というか。
- 日本の西端にある島が属する都道府県の都道府県庁所在地はどこか。

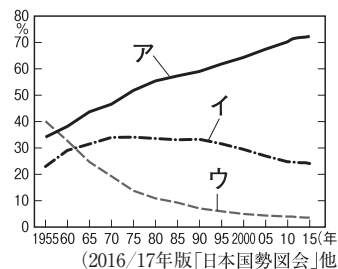
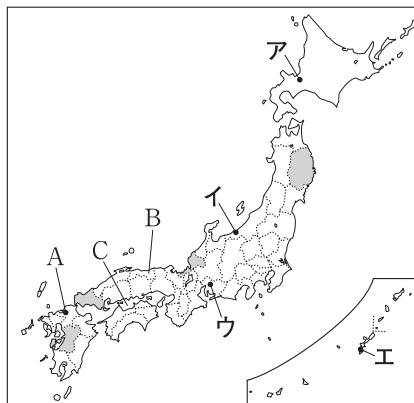
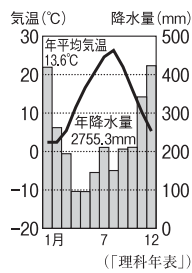


1

(1)	月	日	時
(2)			
(3)			
(4)	約		倍
(5)			地方
(6)			市

2 右の地図を見て、次の問いに答えなさい。

- 世界の2つの造山帯のうち、日本列島が属していない造山帯を何というか。
- 右の気候グラフにあてはまる都市を地図中のア～エから選び、記号で答えなさい。
- 地図中のA市のように、地方の政治・経済・文化の中心地である都市を何というか。
- 地図中のB県の面積は約3507km<sup>2</sup>、人口は約57万人である(2015年)。B県の人口密度を計算し、小数第1位を四捨五入して整数で答えなさい。
- 地図中のCの海では、人工ふ化させた稚魚をある程度まで育てた後、放流する漁業がさかんである。このような漁業を何というか。
- 右のグラフは日本の産業別就業人口割合の推移を示しており、グラフ中のア～ウは第一産業、第二産業、第三産業のいずれかである。サービス業が含まれる産業をア～ウから選び、記号で答えなさい。
- 新幹線が通っていない県を地図中の [ ] から1つ選び、県名を答えなさい。

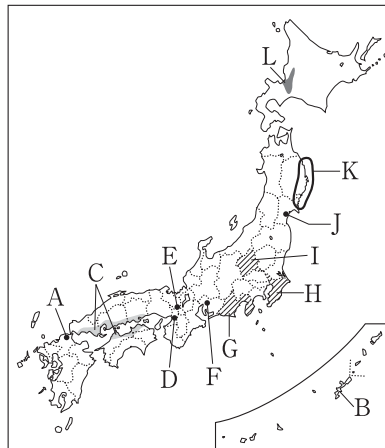


2

(1)	
(2)	
(3)	
(4)	人/km <sup>2</sup>
(5)	
(6)	
(7)	県

**3** 右の地図を見て、次の問いに答えなさい。

- (1) 地図中のA市は、環境保全をめざして、  
廃棄物のリサイクル産業を推し進めている。  
このような取り組みを行っている地域を何  
というか、カタカナで答えなさい。
- (2) 地図中のBの島で広大な面積をしめてい  
る軍用地は、どこの国が使用しているか。
- (3) 石油化学工業がさかんな、地図中のCの  
工業地域を何というか。
- (4) 四国地方と本州を結ぶ3つのルート of 橋  
をまとめて何というか。
- (5) 地図中のD市など見られる、人口が過度に集中する現象を何というか。
- (6) 地図中のE市の西陣織のように、地域の特性を生かし、古くから受けつがれ  
ている工芸品を何というか。
- (7) 地図中のF市とその周辺の都市で形成される大都市圏を何というか。
- (8) 右のグラフはある農産物の都道府県別生  
産割合を示しており、グラフ中のGは地図  
中のG県である。この農産物は何か。
- (9) 地図中のH県などで行われている、大都市の周辺で大都市の消費者向けに野  
菜などを栽培する農業を何というか。
- (10) 地図中のI県などに見られる、計画的につくられた工業地区を何というか。
- (11) 地図中のJ市で毎年行われている祭りを次から選び、記号で答えなさい。  
ア 七夕まつり    イ 竿燈まつり    ウ ねぶた祭
- (12) 地図中のKの三陸海岸の沖合いは、暖流と寒流がぶつかり、栄養分が豊富な  
漁場となっている。このような海域を何というか。
- (13) 明治政府が北海道を開拓するために置いた役所を何というか。
- (14) 低湿な泥炭地であったが、土地改良によって稲作地帯となった地図中のLの  
平野を何というか。



**3**

(1)	
(2)	
(3)	
(4)	
(5)	
(6)	
(7)	
(8)	
(9)	
(10)	
(11)	
(12)	
(13)	
(14)	

**4** 右の5万分の1の地形図を見て、次の問いに答えなさい。

- (1) 地形図中の高等学校から見て、図書館はどの方位  
にあるか。8方位で答えなさい。
- (2) 地形図中の高等学校と石川橋の間は、地形図上で  
4 cmある。実際の距離は何mか。
- (3) 地形図中の「東恩納」の土地のようすについて正  
しく述べたものを次から選び、記号で答えなさい。  
ア 傾斜が急な土地に畑が広がっている。  
イ 傾斜がゆるやかな土地に畑が広がっている。  
ウ 傾斜が急な土地に針葉樹林がしげっている。  
エ 傾斜がゆるやかな土地に針葉樹林がしげっている。



**4**

(1)	
(2)	m
(3)	