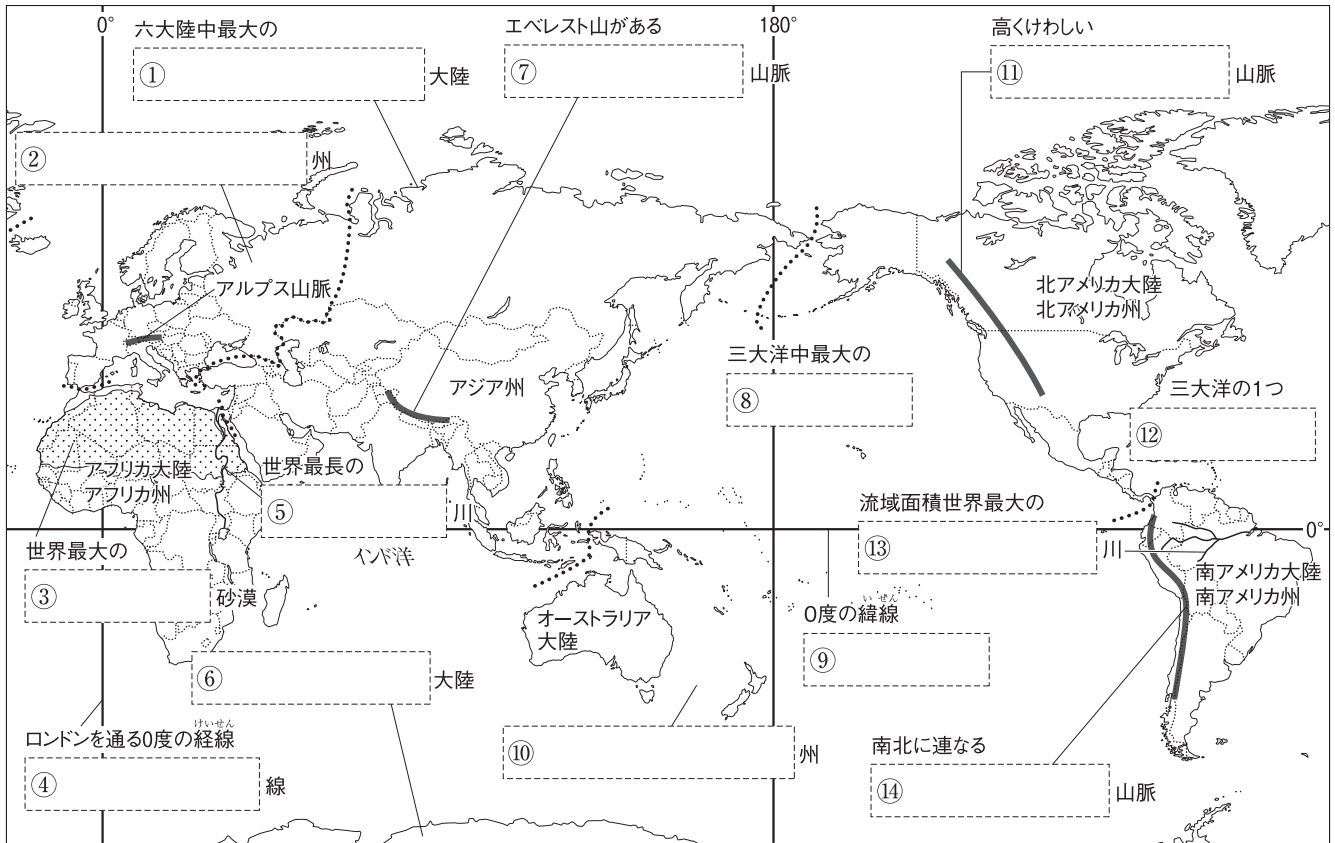


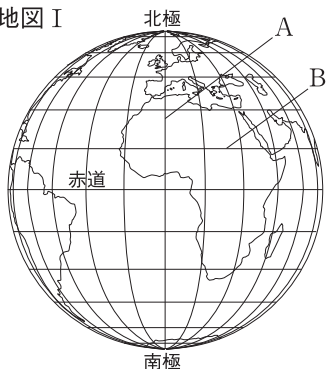
第 1 講座 世界地理

1 世界の様々な地域 次の地図中の [] にあてはまる語句を答えなさい。



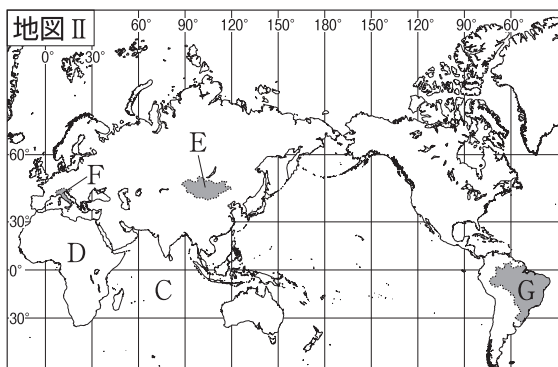
2 世界のすがた 左の地図を見て、次の文中の [] にあてはまる語句や数字を答えなさい。

地図 I



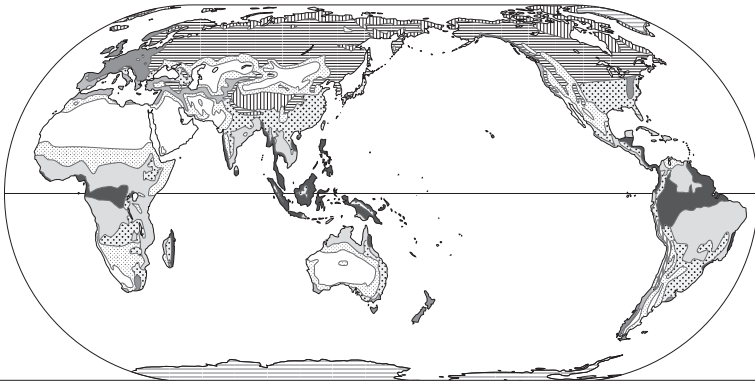
- (1) 地図 I のような地球の模型を [] という。 []
- (2) 地図 I 中の A などの、地球上の東西の位置を表すたての線を [] という。 []
- (3) (2) の線のうち、イギリスのロンドンを通る 0 度の線を [] という。 []
- (4) 地図 I 中の B などの、地球上の南北の位置を表す横の線を [] という。 []
- (5) (4) の線は、南北それぞれ [] 度までである。 []

地図 II



- (6) 地図 II 中の C の大洋を ① []、D の大陸を ② [] という。① [] ② []
- (7) 地図 II 中の E 国のように、海岸線を持たない国を [] という。 []
- (8) 地図 II 中の F 国の首都の中に、面積が世界最小の [] がある。 []
- (9) 世界の 6 つの州のうち、地図 II 中の G 国は、 [] 州に含まれる。 []

3 世界の人々の生活と環境 次の問いに答えなさい。



① 帯	② 帯	③ 帯	冷帯(亜寒帯)	④ 帯
熱帯雨林気候	⑥ 気候	地中海性気候	冷帯(亜寒帯)気候	ツンドラ気候
⑤ 気候	砂漠気候	温暖湿潤気候	氷雪気候	
		⑦ 気候		

(1) 左の地図中の①～④にあてはまる気候帯名をそれぞれ答えなさい。

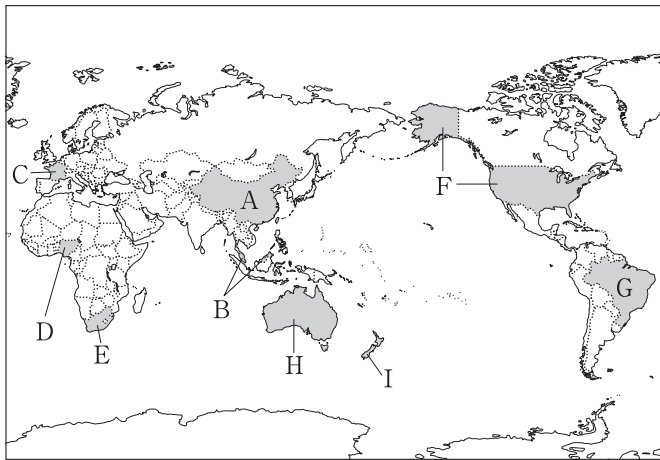
- ① []
- ② []
- ③ []
- ④ []

(2) 左の地図中の⑤～⑦にあてはまる気候区名をそれぞれ答えなさい。

- ⑤ []
- ⑥ []
- ⑦ []

- (3) 北アメリカ州などの北極海に面した地域に住む先住民を何というか。 []
- (4) 北極海沿岸に見られる、短い夏の間だけこけ類の生える土地を何というか。 []
- (5) 西アジアなどで見られる、水や草を求め家畜とともに移動する牧畜を何というか。 []
- (6) 北アフリカや西アジアの人々の多くが信仰している宗教は何か。 []
- (7) 温暖な浅い海で発達する、生物の死骸などの石灰質でできた地形を何というか。 []
- (8) アンデス山脈で主食とされ、この地域から世界へ広がったいも類は何か。 []
- (9) アンデス山脈でアルパカとともに飼育され、荷物の運搬に利用される家畜は何か。 []

4 世界の諸地域 左の地図を見て、次の問いに答えなさい。



(1) 地図中のA国の国民の90%以上を占める民族は何か。 []

(2) 地図中のB国などに見られる、植民地時代に欧米の資本で開発された大農園を何というか。 []

(3) アジアの南部や東部の気候に影響をあたえる、夏と冬で向きが逆になる風を何というか。 []

(4) 地図中のC国などでさかんな、畑作と牧畜を組み合わせた農業を何というか。 []

- (5) ヨーロッパの国々が経済や政治の統合を目指して結成した国際組織を何というか。 []
- (6) 地図中のD国などで見られる、特定の産物の輸出にたよる経済を何というか。 []
- (7) 地図中のE国などで産出される、埋蔵量が少ないなど入手困難な金属を何というか。 []
- (8) 地図中のF国の、ほぼ北緯37度以南の地域に発達した工業地域を何というか。 []
- (9) 近年、F国で増えている、メキシコや西インド諸島などからの移民を何というか。 []
- (10) 地図中のG国で生産がさかんな、さとうきびなどからつくる燃料を何というか。 []
- (11) G国の赤道周辺など熱帯に広がる、一年じゅう緑の葉がしげる森林を何というか。 []
- (12) 地図中のH国に住む先住民を何というか。 []
- (13) 地図中のH国やI国で特に飼育がさかんな、毛や肉が利用される家畜は何か。 []

STEP 問題

1 右の地図を見て、次の問いに答えなさい。

(1) 地図Ⅰは、地球儀をある方向から見て描いたものである。地図Ⅰ中に描かれていない大陸名を2つ答えなさい。

(2) 地図Ⅰ中のAとBの大洋名を答えなさい。

(3) 地図Ⅱ中のCの大陸について正しく述べたものを次から選び、記号で答えなさい。

ア 南部を赤道が通過している。

イ 六大陸の中で日本から3番目に近い大陸である。

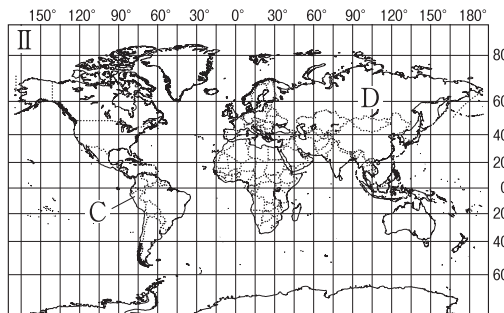
ウ 内陸国が複数ある。

エ 国境が直線になっている国が多い。

(4) 次の①、②の地点がある州名を、地図Ⅱを参考にして答えなさい。

① 南緯20度、東経165度 ② 緯度0度、東経30度

(5) 地図Ⅱ中のDは、面積が世界最大の国である。この国の名を答えなさい。



1

(1)	
(2)	A B
(3)	
(4)	① ②
(5)	

2 右の地図を見て、次の問いに答えなさい。

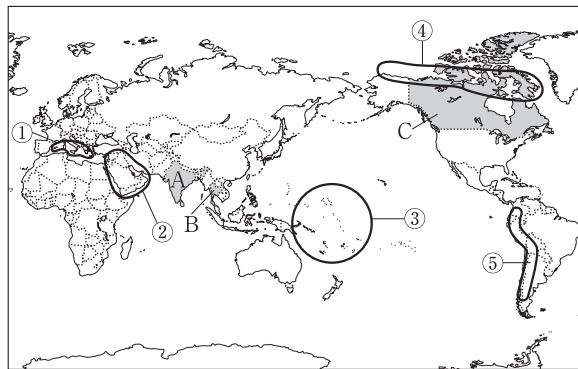
(1) 地図中のA、Bの国に住む人々の大部分が信仰している宗教を次からそれぞれ選び、記号で答えなさい。

ア キリスト教

イ ヒンドゥー教

ウ イスラム教

エ 仏教



(2) 地図中のC国などに広がる針葉樹林帯を何というか。

(3) 地図中の①～⑤の地域の自然環境にあてはまるものを次のア～オからそれぞれ選び、記号で答えなさい。また、①～⑤の地域の人々の生活にあてはまるものを次のa～eからそれぞれ選び、記号で答えなさい。

ア 1年じゅう氷や雪におおわれる。

イ 降水量が年間を通じて少ない。

ウ 1年じゅう高温多雨である。

エ 標高4000m以上の高地である。

オ 夏に乾燥し、冬に雨が多い。

a リャマなどを飼育している。

b 壁のない高床の住居が見られる。

c 羊などの遊牧で生活している。

d 窓が小さな石造りの家に住む。

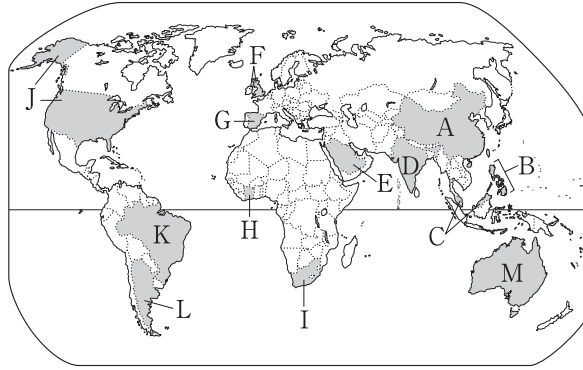
e 肉や魚が食事の中心だった。

2

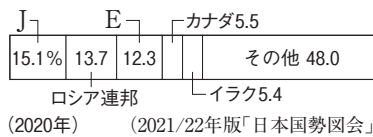
(1)	A B
(2)	
(3)	① ② ③ ④ ⑤

3 右の地図を見て、次の問いに答えなさい。

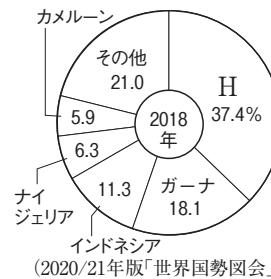
- (1) 地図中のA国で外国企業の進出をしやすくした、シェンチェンやアモイなど沿岸部の5地区を何というか。
- (2) 地図中のBやCなどの国々が、東南アジアの安定や経済発展を目指して結成した国際組織を何というか。



- (3) 地図中のD国のベンガルールでは、コンピューターやソフトウェア、通信技術などにかかわる産業が成長している。このような産業を何というか。
- (4) 右のグラフはある鉱産資源の国別産出量割合を示しており、グラフ中のE・Jは地図中のE国・J国である。この鉱産資源は何か。
- (5) 偏西風とともに地図中のF国の気候を温暖にしている海流を何というか。
- (6) 地図中のF、G国に住んでいる人々の多くが信仰しているキリスト教の宗派を次からそれぞれ選び、記号で答えなさい。



- ア プロテスタント イ 正教会 ウ カトリック
- (7) 地図中のG国などが導入しているEUの共通通貨を何というか。
- (8) 右のグラフはある農産物の国別生産割合を示しており、グラフ中のHは地図中のH国である。この農産物を次から選び、記号で答えなさい。



- ア コーヒー豆 イ 綿花
ウ 天然ゴム エ カカオ豆
- (9) 地図中のI国では、白人以外の人々を差別する人種隔離政策が1990年代初めまで行われていた。I国の国名を答えなさい。

- (10) 右の表は地図中のJ国と日本の、農地面積と農林水産業従事者数を示す。農林水産業従事者1人あたりの農地面積が広いのはどちらの国か。

	日本	J国
農地面積(万ha)	444	40555
従事者数(千人)	2344	2181

(2020/21年版「世界国勢図会」)

- (11) 地図中のJ国のサンフランシスコ郊外には、コンピューター関連の企業や研究所が集中している。この地域を何というか。
- (12) 農業や工業で大きな生産力を持つ地図中のJ国には、世界じゅうで経済活動を行っている企業が多い。このような企業を何というか。
- (13) 地図中のK国のアマゾン川流域では、森林を焼いて耕地をつくる農業が行われてきた。このような農業を何というか。
- (14) 地図中のL国に広がる、牧畜や小麦の栽培がさかんな大草原を何というか。
- (15) オセアニアの島々は、ミクロネシア、メラネシア、の3つに分けられる。にあてはまる語句を答えなさい。
- (16) 多様な民族が共存する地図中のM国では、それぞれの民族の文化を尊重する社会を目指している。このような社会を何というか。

3

(1)	
(2)	
(3)	
(4)	
(5)	
(6)	F
(7)	G
(8)	
(9)	
(10)	
(11)	
(12)	
(13)	
(14)	
(15)	
(16)	