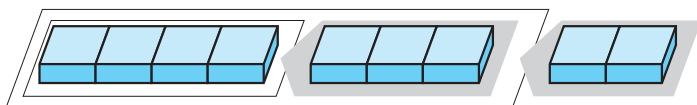


## たしざん, ひきざん

☆ バスに 4にん のって います。1つめの バスでい  
3にん のりました。2つめの バスでい ふたり のりま  
した。バスには ぜんぶで なんにん のって いるでしょう。

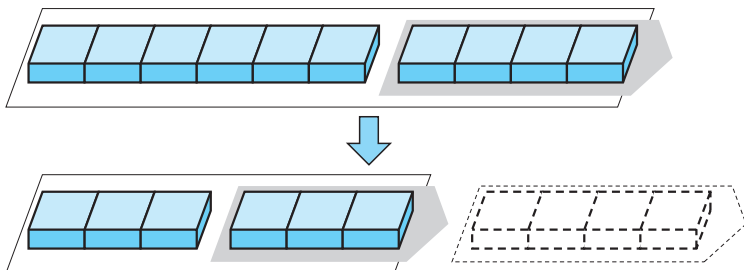


- ・4に 3を たして 7。
- ・7に 2を たして 9。

$$\text{しき } 4+3+2=9$$

こたえ 9にん

☆ バスに 10にん のって います。1つめの バスでい  
4にん おりました。2つめの バスでい 3にん おりま  
した。バスには なんにん のって いるでしょう。



- ・10から 4を ひいて 6。



- ・6から 3を ひいて 3。

$$\text{しき } 10-4-3=3$$

こたえ 3にん

## ▶ やってみよう ◀

1 けいさんを しましょう。

(1)  $2+1+3$

(2)  $1+5+4$

(3)  $9-4-1$

(4)  $7-2-3$

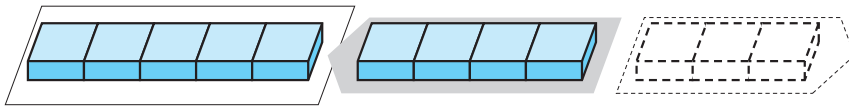
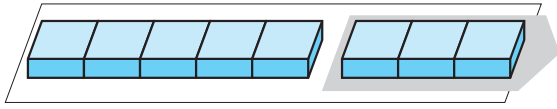
(5)  $6+4+2$

(6)  $18-8-7$



## たしざんと ひきざん

☆ バスに 8にん のって います。1つめの バステいで 3にん おりました。2つめの バステいで 4にん のって きました。バスには なんにん のって いるでしょう。



・8から 3を ひいて 5。



・5に 4を たして 9。

しき  $8 - 3 + 4 = 9$

こたえ 9にん

## ▶ やってみよう ◀

2 けいさんを しましょう。

(1)  $6 - 3 + 2$

(2)  $7 - 1 + 2$

(3)  $10 - 6 + 5$

(4)  $12 - 2 + 3$

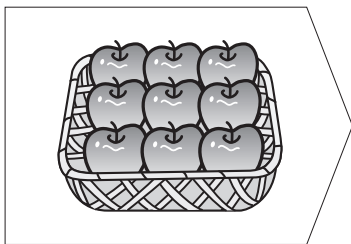
(5)  $5 + 4 - 3$

(6)  $8 + 1 - 5$

(7)  $3 + 7 - 9$

(8)  $15 + 4 - 7$

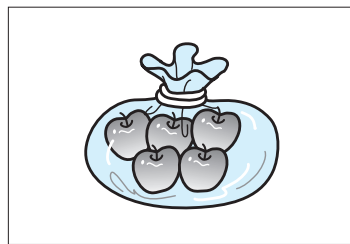
3 りんごは なんこに なったでしょう。



9こ あります。



4こ たべました。



5こ かって きました。

しき [

] こたえ [



## れんしゅうしよう

**1** けいさんを しましょう。

(1)  $3+1+3$

(2)  $9-1-5$

(3)  $6-5+7$

(4)  $10-7+6$

(5)  $5+4-9$

(6)  $2+8-5$

(7)  $13-3+8$

(8)  $14+2-6$

(9)  $15-5-7$

(10)  $10+9-3$

**2** まきさんは シールを 2まい もって います。シールを、お  
 ねえさんから 2まい もらい、おかあさんから 6まい もらい  
 ました。シールは ぜんぶで なんまいに なったでしょう。

しき  こたえ

**3** ヨーグルトが 10こ あります。あさごはんの ときに 3こ  
 たべました。ひるごはんの ときに 4こ たべました。のこりは  
 なんこに なったでしょう。

しき  こたえ



さんすう  
の  
オアシス

ただしい カードは どれかな

☆ □ に あてはまる かずと  
こたえが おなじに なる

カードに、いろを ぬりましょう。



① ねこの しっぽは □ ぽん




$$7 - 7 + 6$$

$$5 + 1 + 3$$

$$2 + 5 - 6$$

② いぬの あしは □ ほん




$$9 - 3 - 4$$

$$10 - 8 + 2$$

$$3 + 7 - 5$$

③ たこの あしは □ ほん




$$7 - 2 + 3$$

$$7 - 1 - 6$$

$$5 + 4 - 2$$

④ さいころの めは、1から □ まで



$$5 + 2 - 1$$

$$4 - 3 + 4$$

$$1 + 2 + 7$$