


# 9 0のけいさん

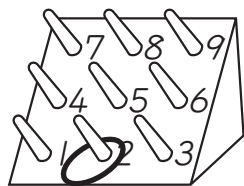


## 0の たしざん

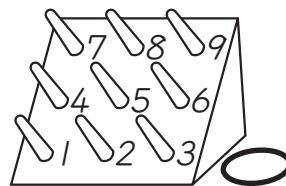
ある かずに 0を たしたり, 0に ある かずを たしたり すると, こたえは ある かずに なります。

☆ わなげを 2かい しました。あわせて なんてんでしょう。

(1) 1かいめ



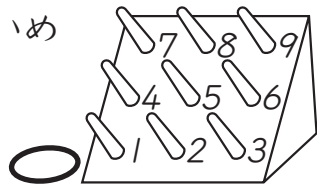
2かいめ



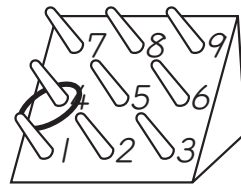
しき  $2+0=2$

こたえ 2てん

(2) 1かいめ



2かいめ



しき  $0+4=4$

こたえ 4てん

### ▶ やってみよう ◀

**1** けいさんを しましょう。

(1)  $5+0$

(2)  $8+0$

(3)  $3+0$

(4)  $7+0$


(5)  $0+2$

(6)  $0+4$

(7)  $0+9$

(8)  $0+6$

(9)  $0+0$

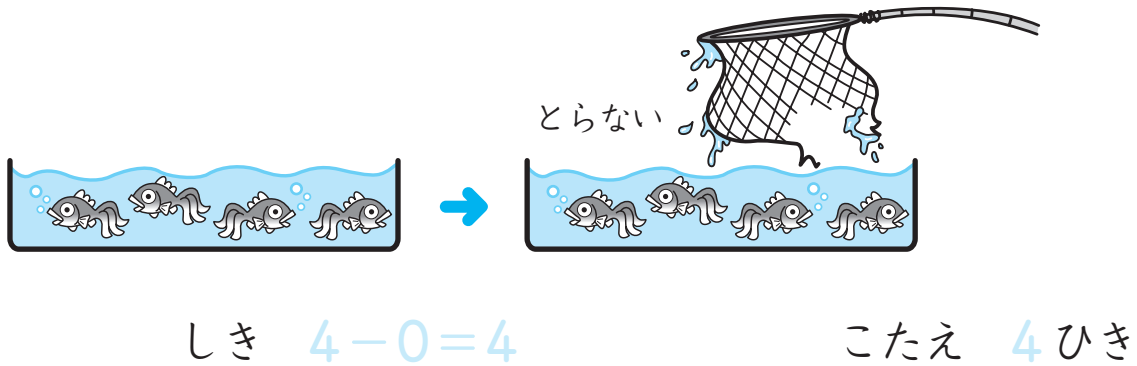


## 0の ひきざん

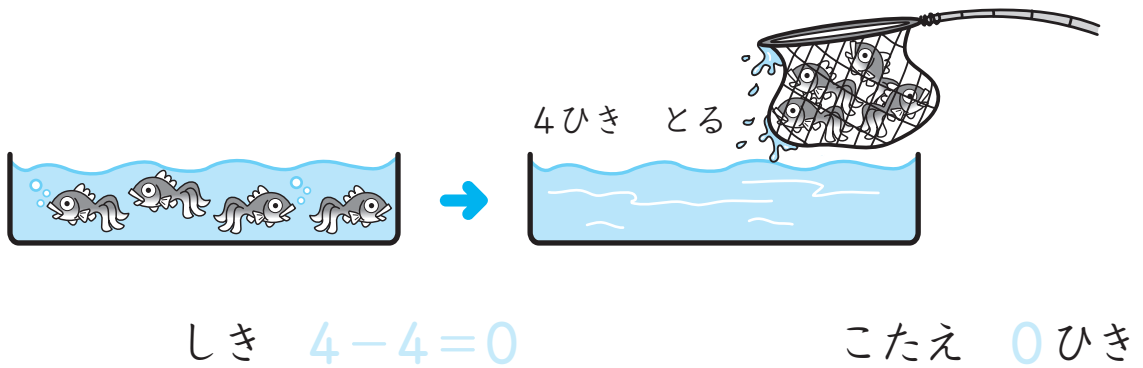
0を ひく ひきざんの こたえは、もとの かずに なります。  
また、ある かずから おなじ かずを ひく ひきざんの  
こたえは、0に なります。

☆ のこりは なんびきに なるでしょう。

(1)



(2)



## ▶ やってみよう ◀

2 けいさんを しましょう。

(1)  $2-0$

(2)  $5-0$

(3)  $9-0$

(4)  $8-0$

(5)  $3-0$

(6)  $7-7$

(7)  $9-9$

(8)  $1-1$

(9)  $0-0$



# れんしゅうしよう



**1** こたえが おなじに なる ものを, せんで つなぎましょう。



$$\begin{array}{r} 6+0 \\ \cdot \end{array}$$

$$\begin{array}{r} 1+2 \\ \cdot \end{array}$$

$$\begin{array}{r} 0+7 \\ \cdot \end{array}$$

$$\begin{array}{r} 3+5 \\ \cdot \end{array}$$

$$\begin{array}{r} 4+0 \\ \cdot \end{array}$$

$$\begin{array}{r} 0+3 \\ \cdot \end{array}$$

$$\begin{array}{r} 5+1 \\ \cdot \end{array}$$

$$\begin{array}{r} 4+3 \\ \cdot \end{array}$$

$$\begin{array}{r} 1+3 \\ \cdot \end{array}$$

$$\begin{array}{r} 0+8 \\ \cdot \end{array}$$

**2** こたえが おなじに なる ものを, せんで つなぎましょう。



$$\begin{array}{r} 3-0 \\ \cdot \end{array}$$

$$\begin{array}{r} 8-8 \\ \cdot \end{array}$$

$$\begin{array}{r} 2-1 \\ \cdot \end{array}$$

$$\begin{array}{r} 7-0 \\ \cdot \end{array}$$

$$\begin{array}{r} 6-0 \\ \cdot \end{array}$$

$$\begin{array}{r} 1-0 \\ \cdot \end{array}$$

$$\begin{array}{r} 5-2 \\ \cdot \end{array}$$

$$\begin{array}{r} 9-3 \\ \cdot \end{array}$$

$$\begin{array}{r} 0-0 \\ \cdot \end{array}$$

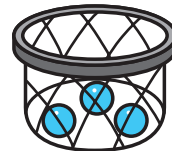
$$\begin{array}{r} 8-1 \\ \cdot \end{array}$$

**3** たまいを 2かい しました。

1かいめ



2かいめ



(1) あわせて なんこ はいったでしょう。


しき [ ] こたえ [ ]

(2) はいった かずの ちがいは なんこでしょう。

しき [ ] こたえ [ ]

**4** いちごが 8こ あります。8こ たべると,

のこりは なんこに なるでしょう。



しき [ ] こたえ [ ]

さんすう  
の  
オアシス



## 0の あんごう

☆ こたえが 0に なる けいさんを  の  
なかから みつけましょう。



0の たしざんと ひきざんだね。  
けいさんをして みよう!

スタート→

5-5	9-0	1+0	9-9	0+5
お	し	み	や	わ
3-3	8+0	2-2	0+0	7-0
つ	め	は	ケ	ン
4-0	0-0	6-0	3+0	1-1
プ	ー	ル	ナ	キ

こたえが 0に なる けいさんの したに かいて ある  
もじを、じゅんに  に かきましよう。


お						
---	--	--	--	--	--	--



おいしそうだね!




# 10 かずしらべ



## まとめて みよう

かずを しらべて まとめます。

せいりして まとめると  
いちばん おおい ものや  
いちばん すくない ものが  
すぐに わかります。




りす	うさぎ	ひよこ

いちばん おおいのは  
ひよこです。

いちばん すくないのは  
うさぎです。

☆ くだものの かずを しらべて まとめます。


かずだけ いろを ぬりましょう。 したから ぬろう。



りんご	いちご	バナナ

## ▶ やってみよう ◀

1 おかしの かずを しらべて まとめます。



□(1) かずだけ いろを ぬりましょう。


□(2) いちばん おいしいのは [ ] です。

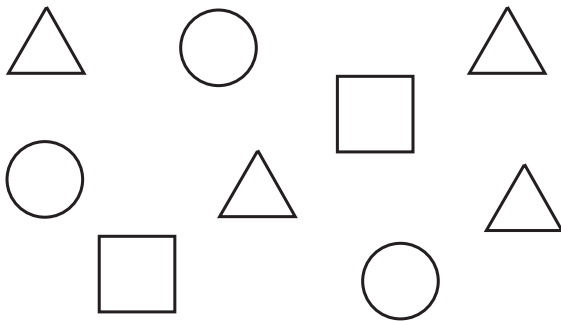
□(3) いちばん すくないのは [ ] です。



# れんしゅうしよう



1 ○, △, □の かずを しらべて まとめますよう。



○	△	□

2 したの もんだいに こたえましょう。

うさぎ	ねずみ	ねこ	いぬ

□(1) うさぎの かずは [            ] ひきです。

□(2) いちばん おおいのは [            ] です。

□(3) いちばん すくないのは [            ] です。

□(4) いぬと ねこの かずの ちがいは [            ] ひきです。

さんすう  
の  
オアシス

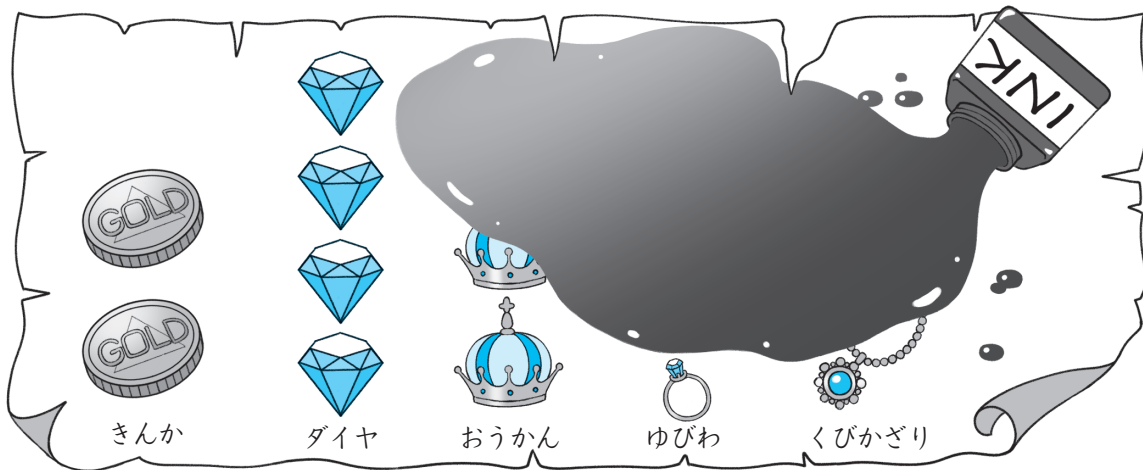


## たからの かず

たからの かずを まとめました。ですが……。



インクを こぼしちゃって かずが  
わからないぞ!



おうかんの かずは きんかより 1つ  
おおかったよ。



ゆびわの かずは きんかと ダイヤを あわせた  
かずだったよ。



くびかざりの かずは いちばん すくなかったよ。

☆ たからの かずを かきましょう。

きんか	ダイヤ	おうかん	ゆびわ	くびかざり