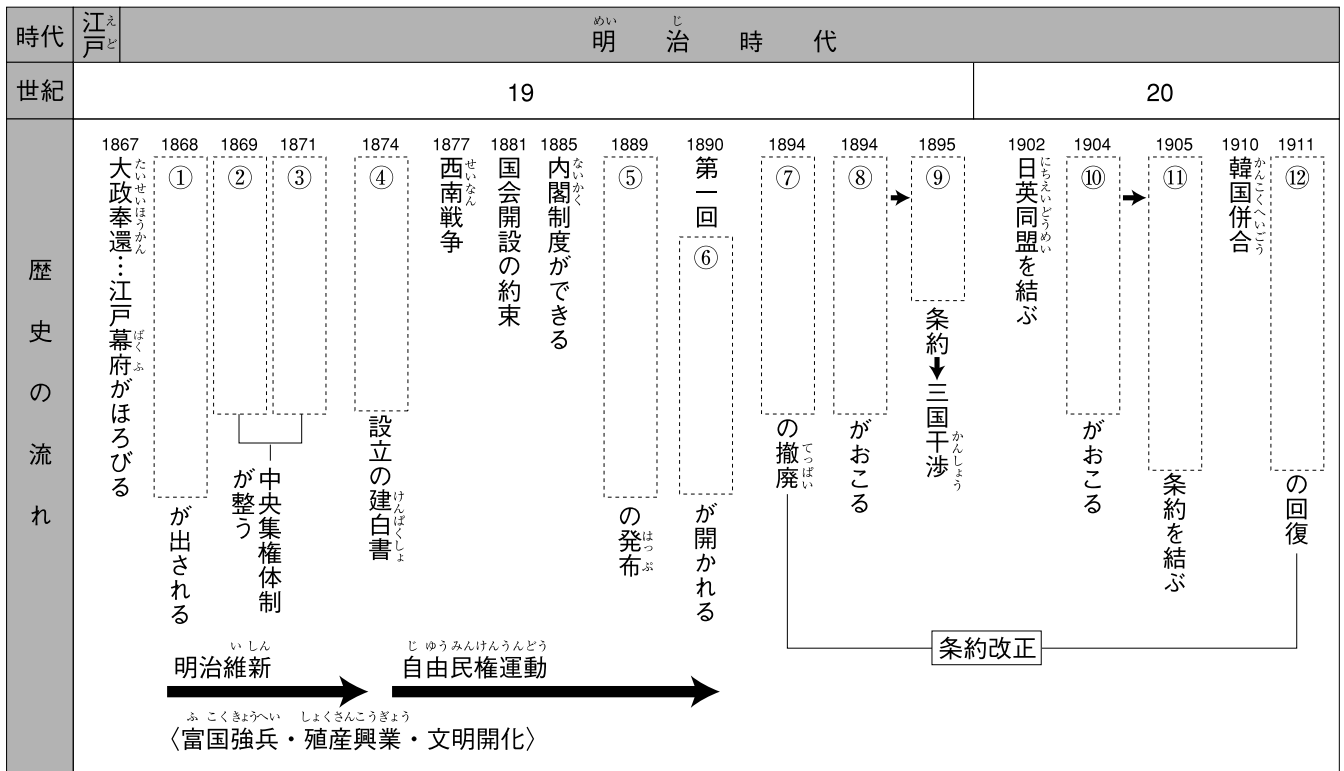


第 9 回 明治時代

1 明治時代の歴史の流れ 次の年表の□にあてはまることばを書き入れなさい。



2 明治維新 左の資料を見て、次の問いに答えなさい。

I

一 広く会議を開き、いろいろな意見をたたかわせてものごとを決めなさい。
 一 身分の上の者も下の者も、心をつにしてみのことにあたりなさい。
 一 古い考えにとらわれず、進むべき道を見きわめなさい。

- (1) 資料 I は、明治新政府の政治の基本方針を示したものです。これを何といいますか。〔 〕
- (2) 資料 I を出したあとに政府が行った次の①・②の政策をそれぞれ何といいますか。
- ① 藩主に、土地(版)と人民(籍)を朝廷に返上させた。〔 〕
- ② 藩を廃止して府・県を置き、中央から府知事・県令を派遣して治めさせた。〔 〕

II 国境の画定



- (3) 明治政府が、土地所有者から土地の値段の3%にあたる税を現金で納めさせることにした政策を何といいますか。〔 〕
- (4) (3)が実施された年に出され、20才以上の男子に兵役の義務を課した法令を何といいますか。〔 〕
- (5) 政府が、資料 II 中の千島列島を日本領にし、樺太を外国領にする条約を結んだ国はどこですか。〔 〕
- (6) 政府が、工業の発展をめざして資料 II 中の富岡(群馬県)をはじめ、各地につくった工場を何といいますか。〔 〕
- (7) 資料 II 中の北海道の開拓と防衛にあたった人々を何といいますか。〔 〕
- (8) 明治時代に、都市を中心に、生活の洋風化が進んだことを何といいますか。〔 〕

3 自由民権運動と国会の開設 次の問いに答えなさい。

(1) 新政府に不満をもつ士族が、西郷隆盛をおし立てて九州でおこした反乱を何とといいますか。

〔 〕

(2) 政府が国会開設を約束すると、板垣退助を党首とする〔①〕や大隈重信を党首とする〔②〕などの政党が結成されました。〔 〕①・②にあてはまる政党名をそれぞれ答えなさい。

第一条 大日本帝国は、天皇がこれを統治する。
 第三条 天皇は神聖であり、侵してはならない。
 第四条 天皇は国家元首であり、この憲法にしたがって国を統治する。
 第十一条 天皇は、陸・海軍の最高司令官である。
 第二十九条 日本国民は、法律の範囲内において、言論・著作・集会の自由を有する。

①〔 〕 ②〔 〕

(3) 左の史料の憲法を何とといいますか。〔 〕


(4) 史料の憲法の草案作成にあたった、初代の内閣総理大臣はだれですか。〔 〕

(5) 史料の憲法が発布された翌年、第1回帝国議会が開かれました。帝国議会を構成した議院は貴族院と何ですか。

〔 〕

4 日清・日露の戦争と明治の文化 左の資料を見て、次の問いに答えなさい。

I



(1) 資料Iに表された、朝鮮をめぐる日本と中国との間の争いから、1894年におこった戦争を何とといいますか。〔 〕

(2) (1)の戦争の講和条約を何とといいますか。〔 〕

(3) (2)の条約で日本が中国から得たものの、資料I中のロシアなどの要求により中国に返した地域はどこですか。〔 〕

(4) (2)の条約で得た賠償金の一部を使って北九州につくられた、官営の製鉄所を何とといいますか。〔 〕

(5) 資料IIは、ある詩人が戦場にいる弟を思って発表した詩です。この戦争を何とといいますか。〔 〕

(6) (1)と(5)の間の時期に、日本と同盟を結んだヨーロッパの国はどこですか。〔 〕

(7) (5)の戦争の講和条約を何とといいますか。〔 〕

(8) 日本は(7)の条約で、ある国に対する優越権をもち、1910年にはこの国を植民地にしました。この国はどこですか。〔 〕

II 君死にたまふことなけれ

あゝをとうとよ君を泣く
 君死にたまふことなけれ
 末に生まれし君なれば
 親のなさはまさりしも
 親は刃をにぎらせて
 人を殺せとをしへしや
 人を殺して死ねよとて
 二十四までをそだてしや
 (後略)

III ノルマントン号事件



(9) 「みだれ髪」などの歌集がある、資料IIの作者はだれですか。〔 〕

(10) 資料IIIの事件で日本人乗客を見殺しにしたイギリス人船長は、軽い罰ですみました。この事件のあと、国民の間では何の撤廃を求める声が高まりましたか。〔 〕

(11) イギリスとの交渉で、(10)の撤廃に成功した外務大臣はだれですか。〔 〕

(12) (11)に続いて1911年に日本が回復した、貿易上の権利を何とといいますか。〔 〕

(13) 足尾銅山鉍毒事件の解決に努力した衆議院議員はだれですか。〔 〕

練習問題

1 次の文を読んで、あとの問いに答えなさい。

- A 明治新政府は を出して政治の基本方針を示すと同時に、国民の守るべきこととして a 五枚の立て札(五榜の掲示) を出した。
- B 政府は中央集権体制を整えるため版籍奉還を実施し、さらに2年後には を実施した。
- C 政府は近代的な軍隊の創設をめざして を出し、国民に兵役の義務を負わせるとともに、財政の安定をはかるため b 地租改正 を実施した。
- D c 福沢諭吉らによって西洋の近代思想が紹介された。また、政府は を発布して、6才以上の男女は小学校教育を受けることとした。
- E 政府の政治を d 藩閥政治 と非難する板垣退助らは、政府に 設立の建白書を提出した。
- F 政府は国会開設に備えて、1885年に を整え、e 伊藤博文 が初代の内閣総理大臣に就任した。
- G 憲法発布の翌年、f 衆議院議員の総選挙 が実施され、第1回 帝国議会 が開かれた。

- (1) A～Gの文中の にあてはまることばをそれぞれ答えなさい。
- (2) 下線部 a で、江戸時代と同様に禁止された宗教は何ですか。
- (3) 下線部 b について、税金(地租)はだれがどのように納めることになりましたか。次から選び、記号で答えなさい。
 ア 土地所有者が米で。 イ 土地耕作者が米で。
 ウ 土地所有者が現金で。 エ 土地耕作者が現金で。
- (4) 下線部 c が、人間の独立や学問の重要性を説き、広く国民の間で読まれた著書を何といいますか。
- (5) Eの文で始まった、国民の政治参加をめざす運動を何といいますか。
- (6) 下線部 d について、当時の政府にはどの藩の出身者が多かったですか。あてはまる藩を次から2つ選び、記号で答えなさい。
 ア 薩摩藩 イ 伊達藩 ウ 水戸藩
 エ 加賀藩 オ 長州藩
- (7) EとFの間の時期に、埼玉県の農民らがもとの自由党員と結び、借金の帳消しなどを求めておこした暴動を何といいますか。
- (8) 下線部 e の人物は、憲法草案の作成に際してどこの国の憲法を参考にしましたか。
- (9) 右の史料は、Gの 憲法の一部です。史料中の () に共通してあてはまることばを答えなさい。
- (10) 下線部 f で選挙権をもっていたのは、どのような人々ですか。納税額、年令、性別の面から答えなさい。
- (11) 衆議院とともに下線部 g を構成した議院を何といいますか。

第一条 大日本帝国は、() がこれを統治する。
 第三条 () は神聖であり、おか 侵してはならない。

1

	A	
	B	
	C	
(1)	D	
	E	
	F	
	G	
(2)		
(3)		
(4)		
(5)		
(6)		
(7)		
(8)		
(9)		
(10)		
(11)		

2 右の年表を見て、次の問いに答えなさい。

(1) 年表中のAとBに共通する政府の目的は何ですか。次から選び、記号で答えなさい。

- ア 不平等条約の改正
- イ 諸外国との国境の画定
- ウ 近代教育・科学の振興
- エ 交通・通信制度の整備

(2) 年表中のCの期間におこり、国民の間に治外法権(領事裁判権)の撤廃を求める声が高まるきっかけ

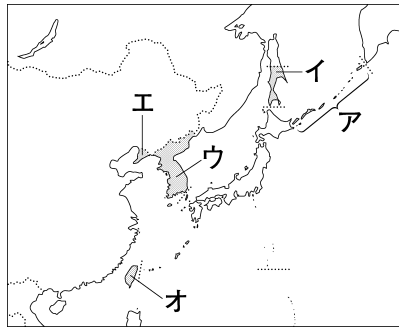
となったできごとを次から選び、記号で答えなさい。

- ア 福島事件
- イ ノルマントン号事件
- ウ 西南戦争
- エ 足尾銅山鉍毒事件

(3) 年表中のDのころ、日本ではせんい工業をはじめとする軽工業が発展していました。この工業の発展のことを何革命といいますか。

(4) 年表中のDのきっかけになった、朝鮮半島での農民などの反乱を何といえますか。

(5) 年表中のEの条約で日本が得た領土を、右の地図中のア～オから2つ選び、記号で答えなさい。



(6) 右の絵は、年表中のFの期間に日本がある国と結んだ同盟を風刺したものです。この同盟を何といえますか。



(7) 年表中のGの開戦にキリスト教徒の立場から反対した人物を次から選び、記号で答えなさい。

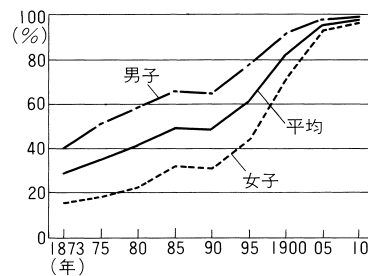
- ア 田中正造
- イ 北里柴三郎
- ウ 内村鑑三
- エ 幸徳秋水

(8) 年表中のHの条約で日本が得た領土を、上の地図中のア～オから選び、記号で答えなさい。

(9) 年表中のIと同じ年に、日本はある国を併合して植民地としました。この国を上の地図中のア～オから選び、記号で答えなさい。

(10) 右のグラフは、年表中の期間のある割合の変化を示したものです。何の割合ですか。次から選び、記号で答えなさい。

- ア 紡績工場で働く人口の割合
- イ 小学校に通う人口の割合
- ウ 選挙権をもつ人口の割合
- エ 洋服を着る人口の割合



2

(1)	
(2)	
(3)	
(4)	
(5)	
(6)	
(7)	
(8)	
(9)	
(10)	