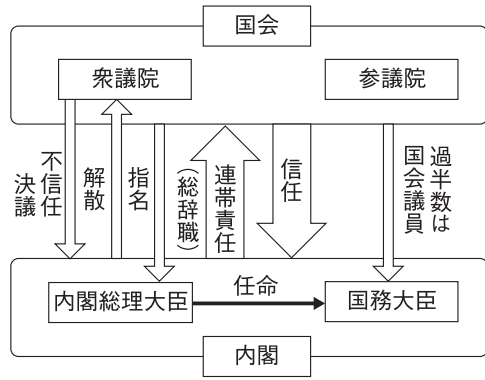
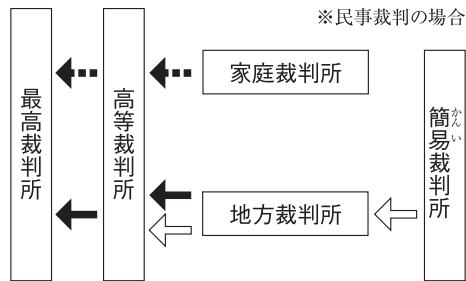


4 内閣のしくみとはたらき 左の資料を見て、次の問いに答えなさい。



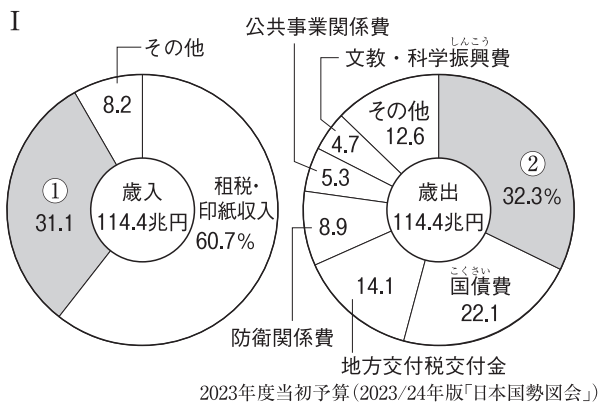
- (1) 資料は、内閣が国会の信任にもとづいてつくられている制度を示しています。この制度を何といいますか。
〔 〃 〕
- (2) 国务大臣の過半数は、何から選ばなければならないとされていますか。
〔 国会議員 〕
- (3) 衆議院が内閣不信任を決議したとき、10日以内に衆議院が解散されないかぎり、内閣はどうしなければなりませんか。
〔 衆議院の解散を待たない 〕

5 裁判所のしくみとはたらき 左の資料を見て、次の問いに答えなさい。



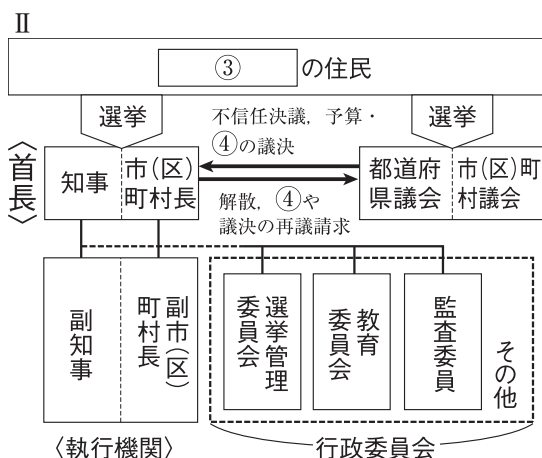
- ※民事裁判の場合 (1) 左の資料は、裁判の公正をはかり、^{あやま}誤りを防ぐために、同じ事件について3回まで裁判を受けられることを示しています。この制度を何といいますか。
〔 三回裁判 〕
- (2) 家族間の争いごとや、未成年の犯罪などの審判を行う裁判所を資料中から選びなさい。
〔 家庭裁判所 〕
- (3) 最高裁判所は、違憲立法審査の最終判断を行うことから、何とよばれていますか。
〔 最終判断機関 〕

6 財政・地方自治・選挙 次の文中の〔 〃 〕にあてはまることばを書きなさい。



- (1) 日本の選挙は、平等・秘密・直接・〔 〃 〕選挙の4原則で行われています。
〔 無記名 〕
- (2) 選挙が公明・適正に行われるように、選挙の運営は〔 〃 〕とよばれる法律にもとづいて、選挙管理委員会などが監督して行います。
〔 公選法 〕
- (3) 資料I中の①は、国が行う借金で、〔 〃 〕といえます。
〔 国債 〕
- (4) 資料I中の②は、社会福祉や社会保険などに使われる〔 〃 〕関係費です。
〔 社会保障 〕

▲わが国の財政



- (5) 資料II中の③は、市(区)町村や都道府県などの単位のごとで、地方自治体または〔 〃 〕といえます。
〔 地方公共団体 〕
- (6) 資料II中の④は、その地方自治体だけに適用される決まりのことで、〔 〃 〕といえます。
〔 地方自治法 〕
- (7) 「地方自治は〔 〃 〕の学校」といわれています。
〔 地方自治法 〕
- (8) 大きな災害が発生した場合、国や地方自治体による「公助」や、自らの身を守る「自助」のほか、近隣の人々などが助け合う「〔 〃 〕」が大切になっています。
〔 共助 〕

▲地方自治のしくみ

練習問題

1 次の(あ)～(お)は日本国憲法の条文を示したものです。この条文を読んで、あとの問いに答えなさい。

- (あ) 日本国民は、正しく選挙された国会における代表者を通じて行動し、…略…ここに主権が(1)にあることを宣言して、この憲法を定める。
- (い) すべての国民は、(2)として尊重される。生命、自由及び幸福を求め国民の権利については、公共の福祉に反しない限り、最大限に尊重される。
- (う) すべての国民は、健康で文化的な(3)の生活を営む権利をもつ。
- (え) 国民は、法律の定めるところにより、納税の義務を負う。
- (お) 法律の定めるところにより、内閣総理大臣とその他の(4)で内閣を組織する。

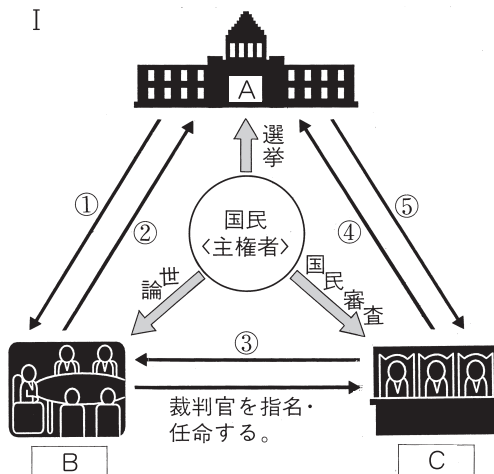
- (1) () 1～4に正しいことばを入れ、条文を完成させなさい。
- (2) (あ)の条文は、日本国憲法の3つの原則のうち、どの原則について述べたものですか。
- (3) (う)の条文と関係のうすいものを次から1つ選び、記号で答えなさい。
 ア 国民年金 イ 損害賠償請求
 ウ 生活保護 エ 社会福祉事業
- (4) (え)のほかに、日本国憲法が定める国民の義務を2つ答えなさい。
- (5) 憲法改正の手続きについて、正しく述べたものを次から選び、記号で答えなさい。
 ア 改正案は内閣だけが提出できる。
 イ 各議院の総議員の過半数の賛成で国会が発議する。
 ウ 国民投票で有効投票数の過半数の賛成があれば成立する。
 エ 憲法改正は、国民の名で国会が公布する。

1

	1
	2
(1)	3
	4
(2)	
(3)	
(4)	
(5)	

2 右の図Iは日本の政治のしくみを表したものです。この図を見て、次の問いに答えなさい。

- (1) 図I中のA～Cは、国会・内閣・裁判所がそれぞれもっている権限を表しています。A～Cにあてはまることばをそれぞれ答えなさい。



- (2) 図I中のAの権限をもつ機関では、衆議院の優越的な地位が認められており、は先に衆議院が審議・議決することになっています。にあてはまることばを次から選び、記号で答えなさい。
 ア 法律 イ 条約 ウ 予算 エ 条例

2

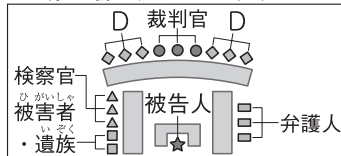
	A
(1)	B
	C
(2)	

(3) 図Ⅰのように、3つの機関がそれぞれ独立して仕事をするしくみを何といいますか。漢字4字で答えなさい。

(4) 図Ⅰのように権力を3つの機関に分けるしくみは、1つの機関に権力が集中して、ことを防ぐため考え出されました。にあてはまる文を、「国民の自由」ということばを使って簡単に答えなさい。

(5) 右の資料Ⅱは、図Ⅰ中のCの権限で行われる、犯罪をおかした疑いのある人を裁く裁判の法廷のようすです。資料Ⅱ中のDの6人は、国民の中からくじで選ばれた人々です。Dの人々を何といいますか。

Ⅱ 重大事件を裁く刑事裁判の第一審の法廷のようす



(6) 図Ⅰ中の「国民審査」は、どのような人に対して行われますか。次から選び、記号で答えなさい。

- ア 最高裁判所の裁判官 イ 地方裁判所の長官
ウ 地方裁判所の裁判官 エ すべての裁判所の裁判官

(7) 図Ⅰ中の①～⑤にあてはまることから次からそれぞれ選び、記号で答えなさい。

- ア 内閣総理大臣を指名する。 イ 衆議院の解散を決める。
ウ 裁判官として不適切な人をやめさせるかどうか裁判する。
エ つくられた法律が憲法に違反していないかどうか調べる。
オ 内閣の仕事が憲法に合っているかどうか審査する。

(3)	
(4)	
(5)	
(6)	
(7)	①
	②
	③
	④
	⑤

3 日本の選挙について、次の問いに答えなさい。

(1) 民主政治の基礎となる選挙では、次の4つのルールが守られる必要があります。(あ)と(い)にあてはまることばをそれぞれ答えなさい。

- 1 男女による普通選挙であること。
- 2 1人1票の(あ)選挙であること。
- 3 議員を直接選挙すること。
- 4 投票の(い)が守られること。

(2) 次の文を読んで、あとの問いに答えなさい。

国の選挙には、a 衆議院議員選挙と b 参議院議員選挙とがありますが、衆議院議員選挙の選挙制度は(X)並立制とよばれています。

国会議員の任期は、衆議院議員は(A)年で、参議院議員は(B)年です。選挙権は2016年の夏から(C)才以上になりました。被選挙権は衆議院議員は(D)才以上、参議院議員は(E)才以上です。

- ① Xにあてはまることばを答えなさい。
- ② A～Eにあてはまる数字をそれぞれ答えなさい。
- ③ 下線部 a・b から構成される国会について、衆議院の解散による総選挙後30日以内に召集されるものを次から選び、記号で答えなさい。

- ア 特別会(特別国会) イ 常会(通常国会)
ウ 臨時会(臨時国会) エ 緊急集会

(1)	あ
	い
(2)	①
	A
	B
	② C
	D
	E
	③