

3 アジア



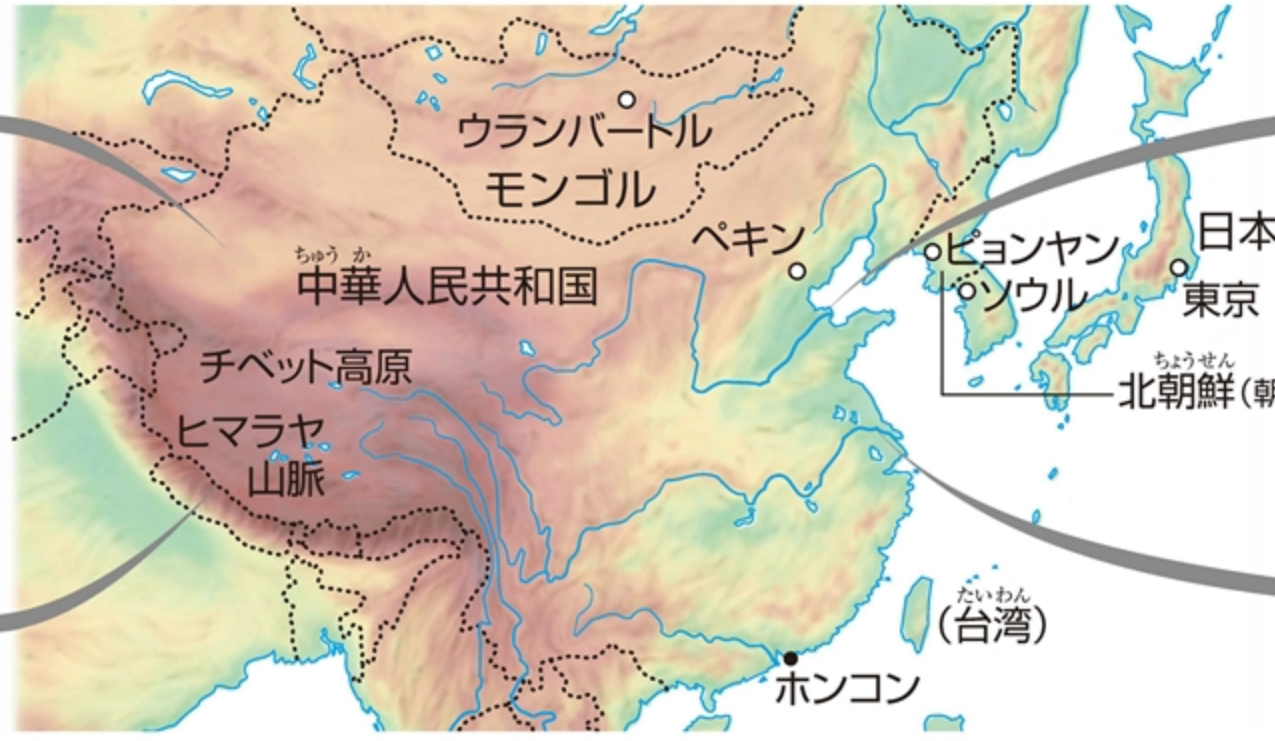
写真は、中国広東省のシ
エンチェンのようすで、高
層ビルが林立しています。
1980年に中国初の
(①)
に指定され、急速
に発展しました。



① 東アジア

タクラマカン砂漠 少数民族が住む。羊ややぎの遊牧が行われている。

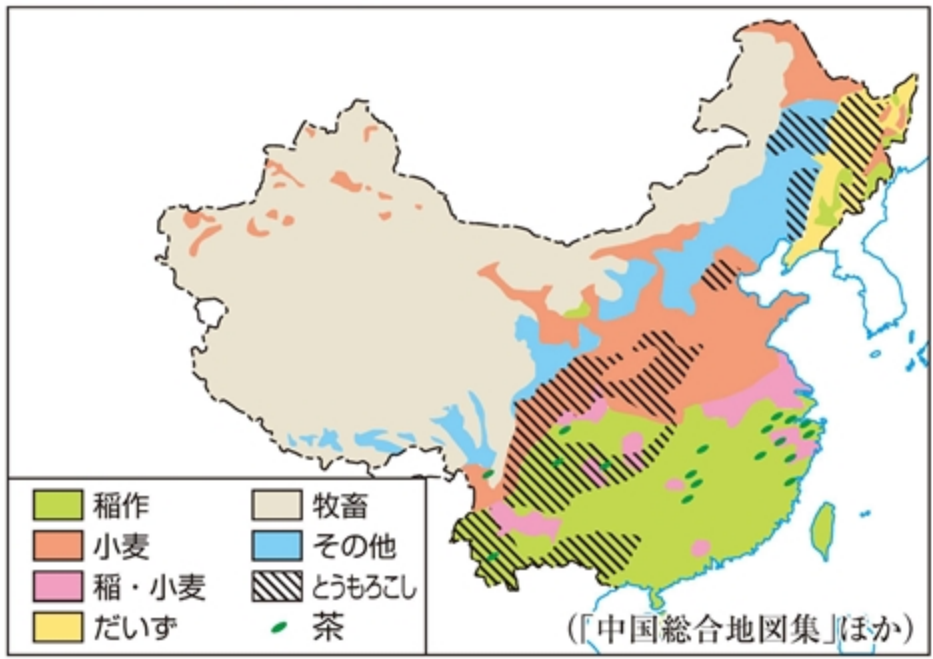
世界の屋根 8000mをこえる山々が連なるヒマラヤ山脈とチベット高原。



黄河 流域は古代文明の発祥地。下流域は畑作がさかん。

長江 中国最長の河川。中・下流域は稲作地域。河口に中国有数の都市 シャンハイ。

② 中国の農業地域

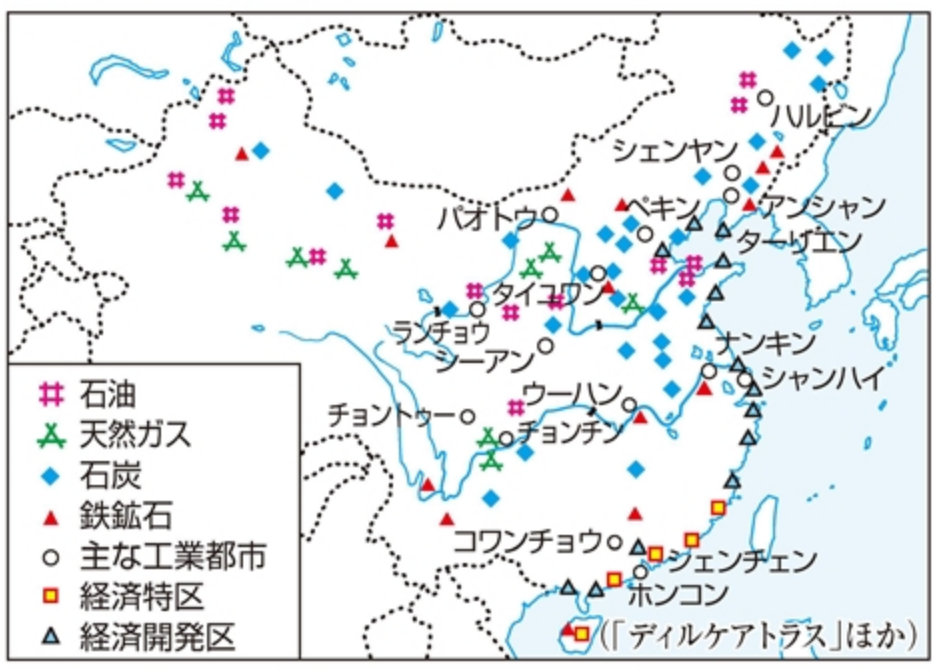


1 アジア

- 自然 ヒマラヤ山脈やチベット高原から長江などの大河が流れ出す。季節風(モンスーン)の影響で雨季と乾季。➡①
- 宗教 仏教・イスラム教・ヒンドゥー教・キリスト教など。
- 人口 世界の人口の約60%を占める。

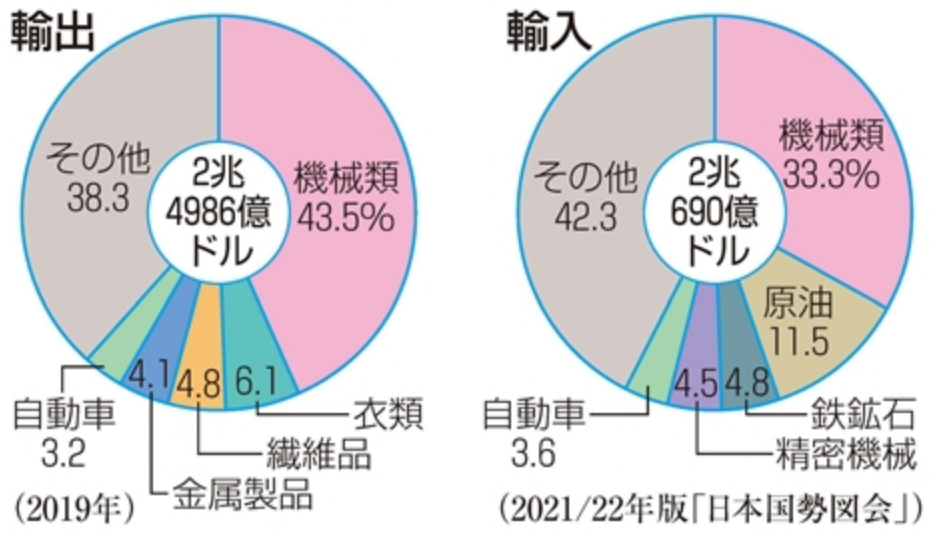
2 東アジア ➡①

③ 中国の鉱工業



● 中国
人口…約14億人。約90%が漢族(漢民族)。西部に少数民族。
一人っ子政策で人口抑制を図ってきた。
農業…華中や華南で稲作や茶の栽培, 華北や東北地方で小麦や大豆などの畑作, 西部で牧畜や遊牧。
鉱業…石炭・石油・鉄鉱石などを豊富に生産。
工業…沿岸部に設置された経済特区を中心に急速に発展し、「世界の工場」に。
経済成長による問題…大気・河川・湖沼の汚染などの環境問題の深刻化。沿岸部と内陸部との経済格差。

④ 中国の輸出入品



● 韓国
文化…古代から日本と交流がある。ハングルの文法や敬語は日本語に似ている。儒教が文化に影響。
工業…1960年代までは軽工業, 1970年代から重化学工業が発展し, アジアNIES(新興工業経済地域)の一員に。1980年代から家電製品の生産が増加, 1990年代後半から情報通信技術(ICT)産業が急速に発展。

- ①一人っ子政策 中国で1979年から2015年まで行われた人口抑制政策。主に中国の人口の約90%を占める漢族が対象で、違反者には罰金が課せられた。
- ②経済特区 輸出を増やし外貨を得る目的で、地価や税制面などで外国企業が進出しやすい条件を整えた地域。沿岸部のアモイ・スワトウ・シェンチェン・チューハイ・ハイナン島の5地域が設定されている。
- ③アジアNIES 1970年代以降、急速に工業化した国や地域。台湾・韓国・ホンコン・シンガポールが含まれる。

- ④プランテーション 植民地時代に、ヨーロッパ人が技術と資本を提供して開いた大農園。現地の人を使用して、天然ゴムやあぶらやし・コーヒーなどの輸出用の熱帯作物を大量に生産した。
- ⑤レアメタル 希少金属ともいい、地球上に存在する量が少ないか、取り出すことが難しいもの。コバルト・クロム・ニッケル・マンガンなど。
- ⑥難民 宗教のちがいや、紛争などを理由に迫害を受け、国籍を持つ国の外での生活を強いられている人々。

⑤ 東南アジア、南アジア、西アジア、中央アジア



3 東南アジア ➡ ⑤

- 産業 多くの国で経済発展が進みつつある。
農業…季節風(モンスーン)がもたらす多い降水量を利用した稲作。場所によって二期作。プランテーションで天然ゴム・コーヒー・あぶらやしなどの栽培。➡ ⑦
漁業…マングローブの広がる海岸でえびの養殖。
工業…シンガポールで最初に工業化が進む。マレーシアやタイは工業団地に外国企業を誘致し工業化が進む。➡ ⑥
- 東南アジア諸国連合(ASEAN) 10か国が加盟。
- 都市化による課題 都市部と農村部の格差。スラムの発生。


4 南アジア ➡ ⑤

- インド 人口は約14億人。世界一になると予測される。(2020年)
農業…ガンジス川下流部で稲作, ガンジス川上流部やインダス川流域で小麦の栽培, デカン高原で綿花の栽培。➡ ⑦
工業…ベンガルールなどで情報通信技術 (ICT) 産業が発展。
- 宗教 インドはヒンドゥー教徒, パキスタンとバングラデシュはイスラム教徒, スリランカは仏教徒が多い。

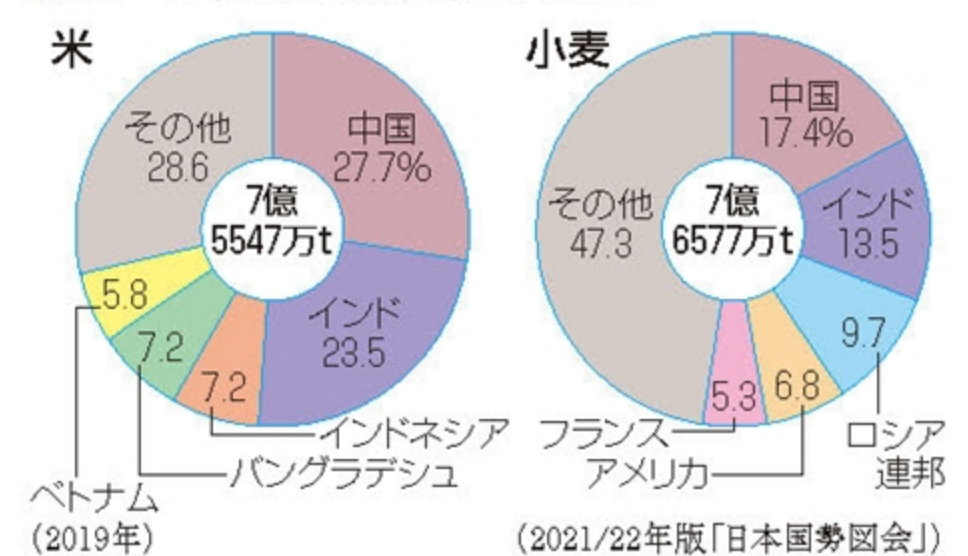
5 西アジア・中央アジア ➡ ⑤

- 自然・宗教 乾燥帯に属しイスラム教徒が多い。
- 石油 ペルシア湾岸の産油国は石油輸出国機構結成。(OPEC) ➡ ⑧
- レアメタル 中央アジアで生産が多い。
- 難民 資源をめぐる紛争から発生し、世界的な課題。

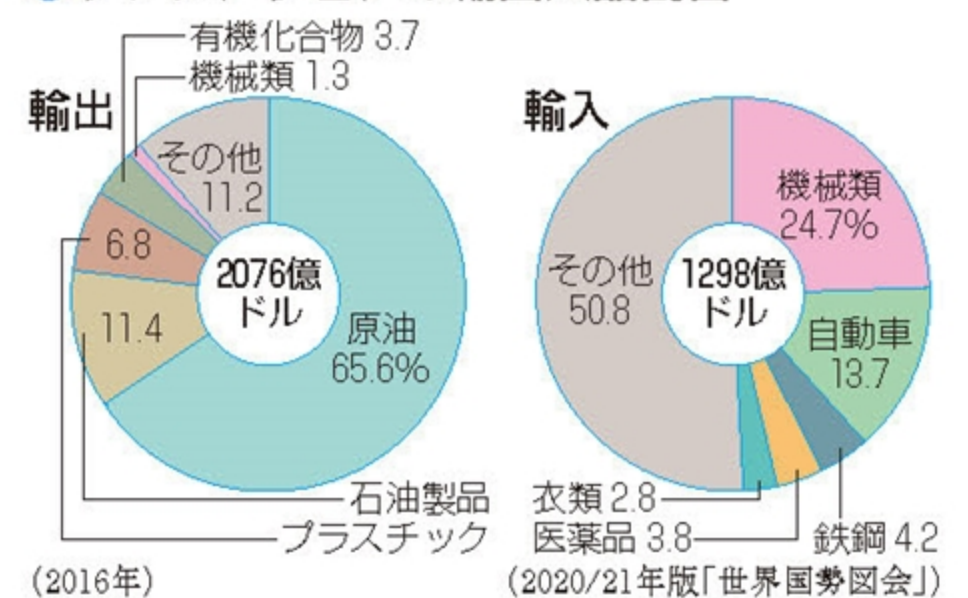
⑥ マレーシア・タイの輸出品の推移



⑦ 米・小麦の国別生産量割合

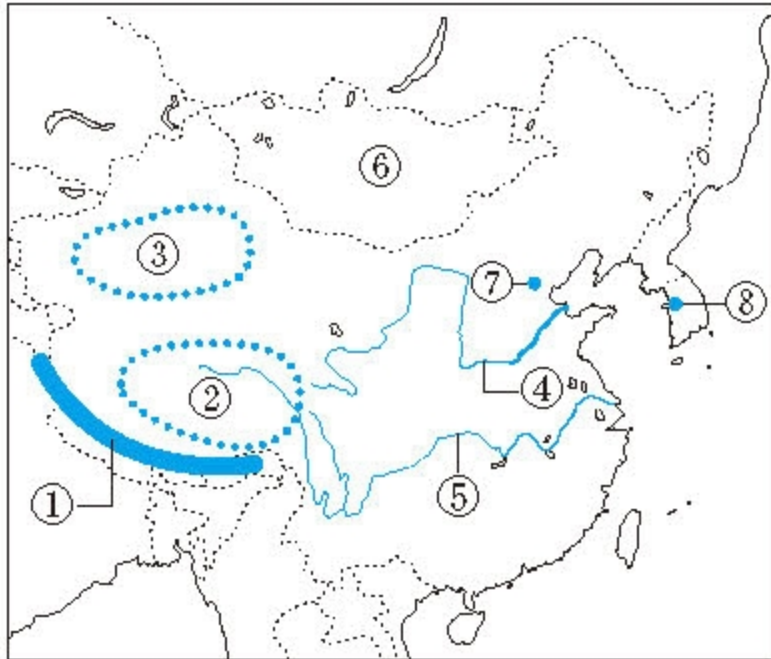


⑧ サウジアラビアの輸出入品割合



①～⑱にあてはまる語句を書け。

1 東アジアのようす (2点×8)



- ① [] 山脈
- ② [] 高原
- ③ [] 砂漠
- ④ []
- ⑤ []
- ⑥ []
- ⑦ []
- ⑧ []

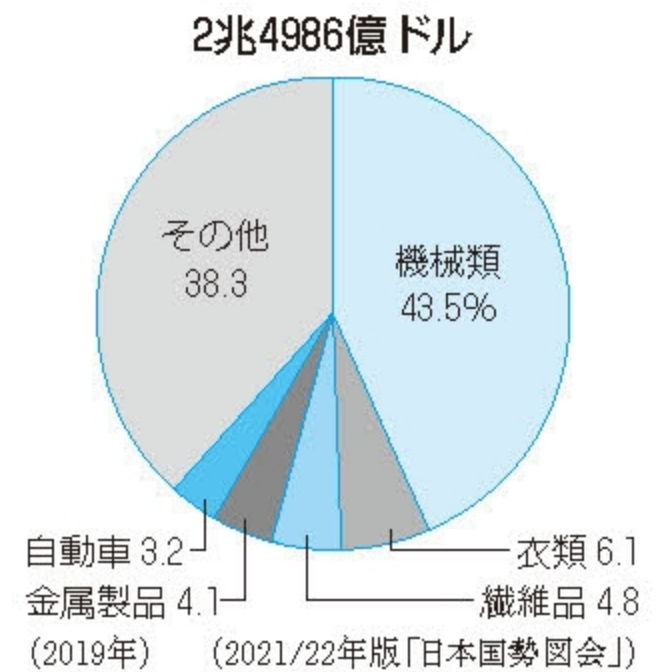
2 東南アジアのようす (1点×9)



- ⑨ [] 半島
- ⑩ [] 半島
- ⑪ [] 島
- ⑫ []
- ⑬ []
- ⑭ []
- ⑮ []
- ⑯ []
- ⑰ []

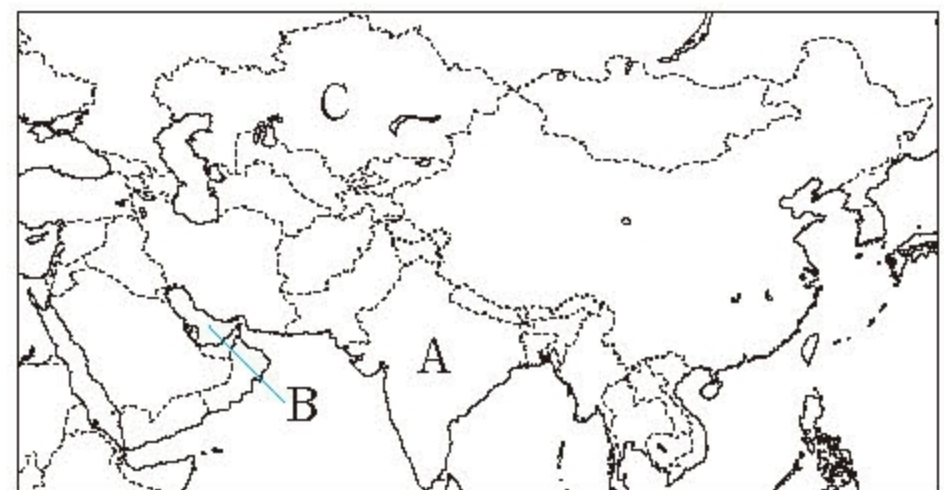
1 東アジア (5点×8)

- (1) 中国の人口の90%以上を占める民族を何というか。
[]
- (2) 人口を抑制するために中国政府が行ってきた政策を何というか。
[]
- (3) 中国の沿岸部に設定された、外国企業が進出しやすい条件を整えた地域を何というか。
[]
- (4) 中国は、大量の工業製品を世界各地に輸出する工業国に成長したことで、何とよばれているか。
[]
- (5) 右のグラフは、中国の貿易品を示している。グラフは輸出と輸入のどちらか。
[]
- (6) 韓国で文化などに影響をあたえている、祖先や年長者を大切にする学問は何か。
[]
- (7) 朝鮮半島で使われている文字を何というか。
[]
- (8) 1970年代以降、急速に工業化した、台湾・韓国・ホンコン・シンガポールをまとめて何というか。
[]



2 東南アジア・南アジア・西アジア・中央アジア (5点×7)

- (1) 左の地図中の稲作がさかんな地域に影響をあたえている風は何か。
[]
- (2) 左の地図中の⑭や⑯の国のマングローブが広がる海岸で養殖されているものは何か。
[]
- (3) 植民地時代にヨーロッパ人によって開かれた、主に熱帯気候に適した作物を栽培する大規模な農園を何というか。
[]
- (4) 左の地図中の⑭～⑰など東南アジアの国々で結成している国際組織の略称をアルファベットで書け。
[]
- (5) 右下の地図中のAの国でおもに信仰されている宗教は何か。
[]
- (6) 湾岸で大量の石油を産出する、下の地図中のBの湾の名称を書け。
[]
- (7) 国土の大部分が乾燥気候に属する、右の地図中のCの国名を書け。
[]



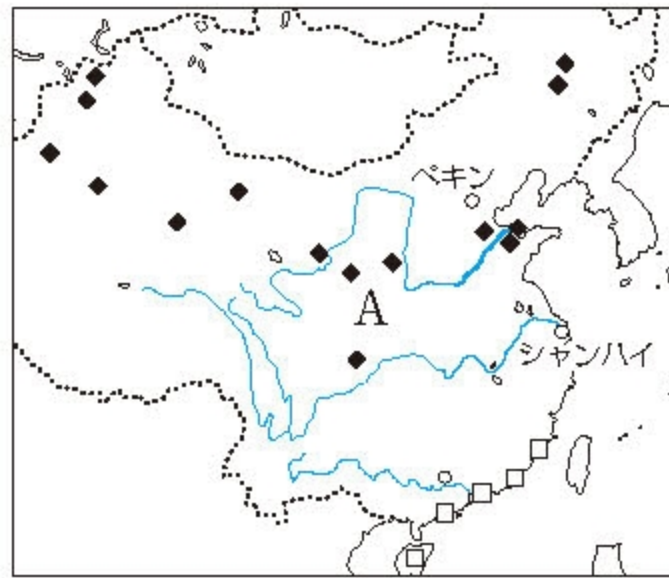
1 右の地図を見て、次の問いに答えなさい。

〈8点×3〉

- (1) ◆で産出する鉱産資源を、次から選び、記号で答えよ。

[]

- ア 石油
イ 天然ガス
ウ 石炭 エ 鉄鉱石



- (2) □は、中国が輸出をのばす目的で設けた、外国企業が進出しやすい条件を整えた地域である。これを何というか。 []

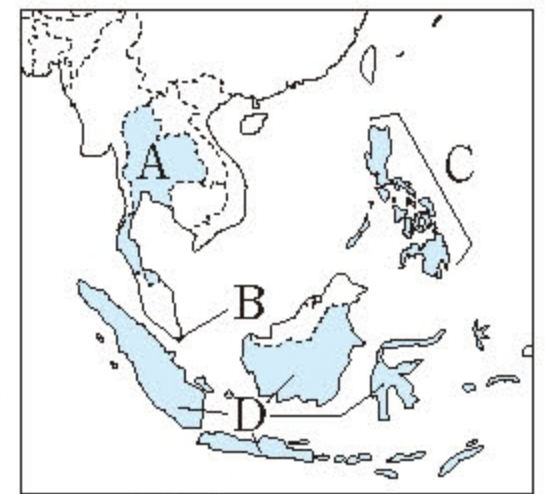
- (3) **文章記述** Aの国で行われてきた、一人っ子政策の目的は何か。簡潔に書け。
[]

2 次の問いに答えなさい。

〈8点×4〉

- (1) 地図中のA～Dの国の中で、最も早く工業が発展し、アジアNIESの一員となっている国を選び、記号で答えよ。

[]



- (2) 粗末な建物が密集し、生活環境の悪い住宅地を何というか。 []
- (3) 地図中のAやDの国では、潮の満ち引きのある海岸で、えびの養殖が行われている。この海岸に広がる森林を何というか。 []
- (4) イランやクウェートなどの産油国が結成している石油輸出国機構の略称を、アルファベットで書け。 []

レベルアップ

3 右の地図を見て、次の問いに答えなさい。

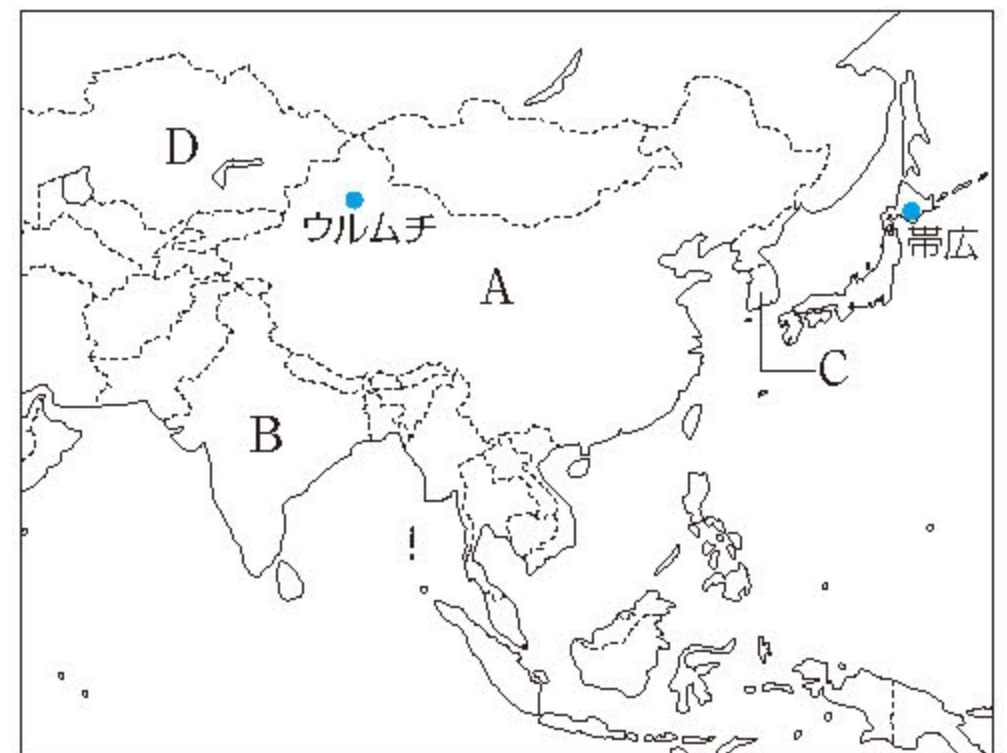
〈11点×4〉

- (1) 次の表は、地図中のA～Cの国について、人口、人口密度、および国民一人あたりの国民総所得を示したものである。この中で、Bで示した国にあてはまるものを、ア～ウから選び、記号で答えよ。 []

	人口 (千人)	人口密度 (人/km ²)	*国民一人あたりの 国民総所得(ドル)
ア	1439324	150	9980
イ	1380004	420	2092
ウ	51269	511	32422

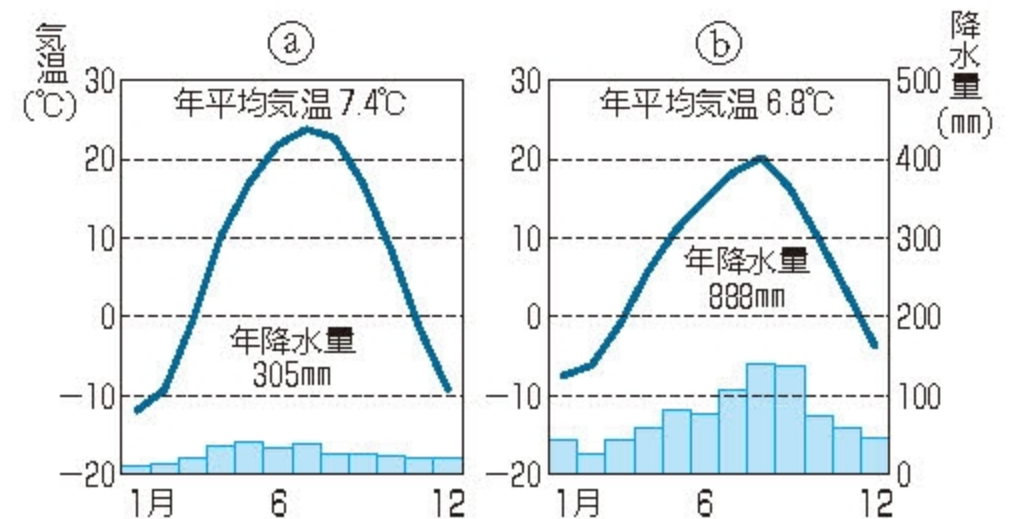
* 2019年、他2020年

(2021/22年版「日本国勢図会」)



- (2) 右のグラフを見て、あとの問いに答えよ。

- ① グラフは、地図中のウルムチと帯広の月別平均気温と月別平均降水量を示したものである。帯広のある十勝平野では畑作がさかんに行われているのに対し、ウルムチ周辺では羊の遊牧(放牧)がさかんに行われている。ウルムチを示しているのは、①、②どちらか、記号で答えよ。 []



(2021年版「理科年表」ほか)

- ② **文章記述** ①のように判断した理由を、グラフから読み取って書け。

[]

- (3) 地図中のDのカザフスタンで生産されるクロムのように、地球上に存在する量が少なく、取り出すことが難しい金属を何というか。カタカナで書け。

[]